

7. SINIF

BENİM

SOSYAL BİLGİLER

Akıllı tahtaya uyumludur.

KİM KORKAR

adım adım yeni nesile geiş:

SORU
BANKAM



7. SINIF

BENİM SOSYAL BİLGİLER KİM KORKAR SORU BANKAM



ISBN 978-625-7868-44-0

YAZAR OLCAY GÖKTEPE



DİZGİ GRAFİK
ÖRNEK AKADEMİ

BASKI KORZA MATBAA



 www.ornekacademi.com 



/ornekacademi



ÖRNEK AKADEMİ

Adres : İvedik Caddesi No: 253/B Yenimahalle/Ankara

Tel : 0 530 467 61 94

Mail : bilgi@ornekacademi.com

Bu kitabın basım, yayım ve satış hakları Örnek Akademi Basın Yayın Dağ. Eğ. Dan. San. ve Tic. Ltd. Şti'ye aittir. Herhangi bir şekilde izin alınmadan, yayınların tümü ya da bir kısmı, mekanik, fotokopi, elektronik ortam ve benzeri başka yöntemlerle kayıt altına alınamaz, çoğaltılamaz, basılamaz, dağıtılamaz.

Değerli Meslektaşlarımız,

Sevgili Öğrenciler

İletişim çağındaki gelişmeler, bilginin hızla yenilenmesi ve yayılmasını sağlamaktadır. Bu durum, doğal olarak eğitim-öğretimin her alanını etkiliyor. Artık klasik eğitim yaklaşımlarının değişimlere uyum sağlaması mümkün görünmüyor. Çoklu zeka ve yapılandırıcı eğitimin tüm aşamalarının okullarda ve diğer eğitim kurumlarında kullanılması bir zorunluluk oldu.

Millî Eğitim Bakanlığı'nın ortaokulların tüm sınıf düzeylerinde uyguladığı yeni yaklaşımlar, beraberinde yeni materyalleri, yardımcı malzemeleri gerekli kılıyor.

Örnek Akademi Yayınları olarak bizler, tüm sınıf düzeylerinde yukarıda sözünü ettiğimiz yaklaşım doğrultusunda yepyeni ürünlerle karşınıza çıkıyoruz.

Eğitim-öğretim hayatının önemli bir döneminde olan 7. Sınıf öğrencilerimizin elde edecekleri başarı yolunda "Kim Korkar Sosyal Bilgiler Soru Bankası" kitabımız, büyük bir eksiği dolduracaktır.

Başarı dileklerimizle!



1. ÜNİTE	BİREY VE TOPLUM.....	5
2. ÜNİTE	KÜLTÜR VE MİRAS.....	24
3. ÜNİTE	İNSANLAR. YELER VE ÇEVRELER..	70
4. ÜNİTE	BİLİM, TEKNOLOJİ VE TOPLUM.....	108
5. ÜNİTE	ÜRETİM, DAĞITIM VE TÜKETİM.....	129
6. ÜNİTE	ETKİN VATANDAŞLIK.....	153
7. ÜNİTE	KÜRESEL BAĞLANTILAR	169
	CEVAP ANAHTARI	184

BİREY VE TOPLUM

ÜNİTE

1 2 3

1.

1. Etkili bir iletişim önce kişinin kendini tanması ile başlar. 1
2. Başkalarına karşı ön yargılı olmak iletişimi kolaylaştırır. D Y
3. İnsanları olduğu gibi kabul etmek bir iletişim engelidir. 3
4. Göz teması kurmanın iletişime olumlu katkısı vardır. D Y

Yukarıdaki ifadelerin doğru (D), yanlış (Y) değerlendirmesi aşağıdaki seçeneklerin hangisinde doğru olarak verilmiştir?

- A) 1 D 2 D 3 Y 4 D
- B) 1 D 2 Y 3 D 4 D
- C) 1 D 2 Y 3 Y 4 D
- D) 1 Y 2 Y 3 Y 4 D

2. İletişim kurarken içinde bulunduğumuz duruma ve ortama göre farklı iletişim yöntemlerini kullanarak konuşmamızı daha etkili hale getirebiliriz.

Buna göre;

- I. Jest,
II. Ses tonu,
III. Mimik

unsurlarından hangileri bu yöntemler arasında sayılabilir?

- A) Yalnız III B) I ve II
C) II ve III D) I, II ve III

3.

“Gülcan Ablam her sabah bana günaydın der. Eğer bir gün yüzündeki gülümsemeyi görmeden günaydınını alırsam bilirim ki o gün onu üzen bir şey olmuştur. Gülümsemeden bir günaydın dediğini hiç görmedim çünkü.”

Verilen örnekte aşağıdaki iletişim unsurlarından hangisinin öneminin vurgulandığı söylenebilir?

- A) Ses tonu B) Jest
C) Mimik D) Empati

10.

H A B E R K U Ş A Ğ I

Gazetecimiz ünlü siyasetçi ile başarılı bir röportaj gerçekleştirdi.

①

Geçen yayında yapılan yanlış haber ile ilgili tarafımıza ulaşan düzeltme metnini yayınlıyoruz.

②

Ünlü sanatçının evine haciz gelirken bahçesinde çekilen gizli görüntüler yayınlandı.

③

Verilen ifadelere bakarak aşağıdaki çıkarımlardan hangisine ulaşamaz?

- A) 1. haber, haber alma özgürlüğü ile ilgilidir. B) 3. haberde özel hayatın gizliliği ihlal edilmiştir.
C) 1 ve 2. haberler basın ahlak ilkelerine uygundur. D) 3. haber, tekzip yazısı ile ilgilidir.

11. I. Sabah asansörde karşılaştığımız kişiye günaydın demek
II. Yanlış davranışlarını düzeltmesi için arkadaşımıza sürekli öğüt vermek
III. Etkin dinleyici olmak
IV. Kendimizi karşıımızdakinin yerine koymak

Yukarıdaki durumların iletişim üzerindeki etkisi düşünüldüğünde aşağıdaki sınıflandırmalardan hangisi doğrudur?

	Olumlu	Olumsuz
A)	I ve III	II ve IV
B)	I ve II	III ve IV
C)	I, II ve III	IV
D)	I, III ve IV	II

12. Radyo ve televizyon yayınlarında uygun olmayan içerikler ile ilgili sansür uygulayan kuruluş aşağıdakilerden hangisidir?

- A) TRT B) TÜİK
C) RTÜK D) TBMM

13. İletişim insanın olduğu her yerde vardır. Çevremizde olup bitenleri anlamak ve kendimizi çevremizdekilere anlatabilmek için iletişim kurarız. Konuşmamız, susmamız, yüz ifadelerimiz, oturuş biçimimiz, iletişim kurmak için yaptığımız bazı davranışlardır. Ağızımızdan çıkan sesler, çizdiğimiz resimler, konuştuğumuz dil, kullandığımız yazı iletişim kurmamıza yarar.

Bu açıklamaya göre aşağıdakilerden hangisi diğerlerinden farklı bir iletişim türüdür?

- A) Okan'ın telefonla kuzenini arayıp doğum gününü kutlaması
B) Fatma'nın durakta otobüs bekleyen arkadaşına gülümsemesi
C) Canser'in toplantı için gelen katılımcılara konuşma yapması
D) Aydın'ın sabah apartmandan çıkarken kapıcıya "günaydın" demesi

6. Bir televizyon kanalında muhabir olarak çalışan Olcay, adını açıklamayan bir kişi tarafından aranarak kendisine bir adres verilmiştir. Arayan kişi Olcay'a verilen adreste bir suç işlendiğini söylemiştir.

Bu durumda basın mensubu olan Olcay'ın aşağıdaki davranışlardan hangisini sergilemesi beklenir?

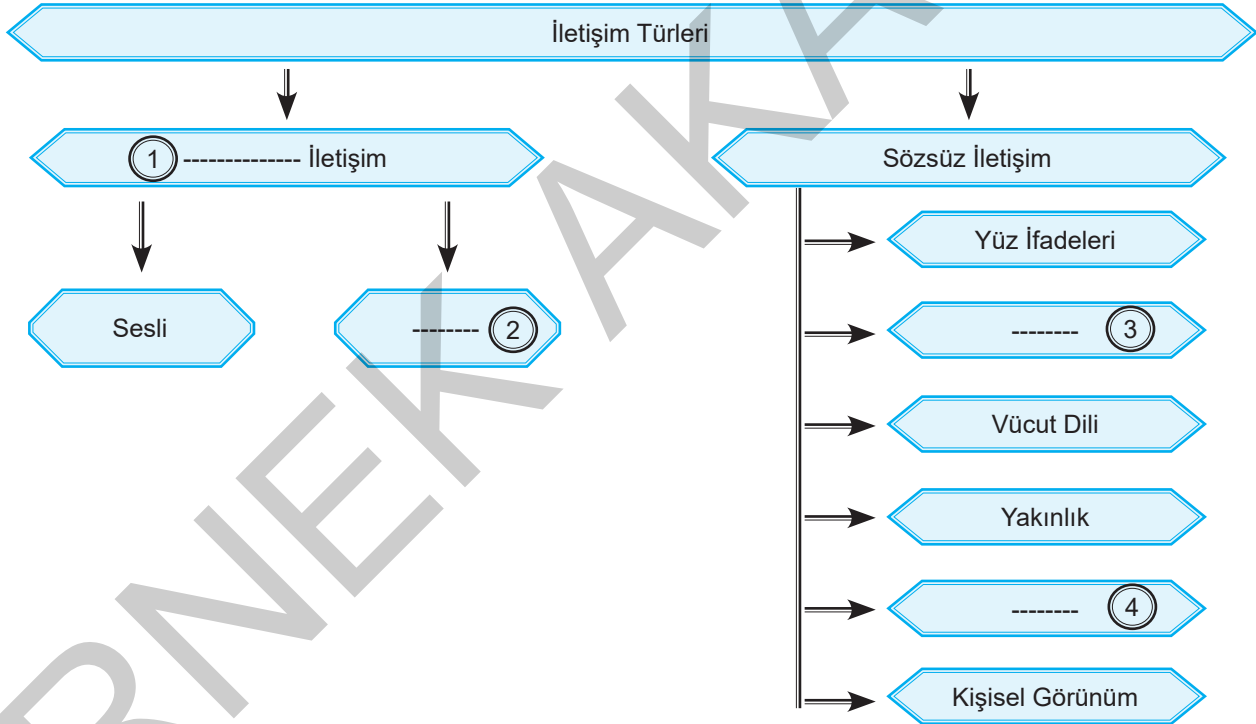
- A) Haber bülteninde gelen bilgileri paylaşmak
- B) Olay yerine giderek incelemelerde bulunması
- C) Polisi arayarak konu hakkında bilgilendirme yapması
- D) Gelen telefona Aldırış etmeden işine devam etmesi

7. Mobil uygulamaların üretilmesiyle hayatımıza giren akıllı telefonlar, önemli alışkanlıklarımızdan biri haline gelmiştir. Bu gelişmenin hayatımızda olumlu olduğu kadar olumsuz etkileri de olmuştur.

Aşağıdakilerden hangisi akıllı telefon kullanımının olumsuz etkilerine örnek verilebilir?

- A) Dünyadaki gelişmelerin daha kolay takip edilebilmesi
- B) Uzak mesafeler arasında iletişim kurabilmesi
- C) Bilgiye ulaşmanın daha hızlı ve kolay olması
- D) Sosyalleşmeyi engellemesi

8.



Yukarıdaki tabloda boş alanlar, sırasıyla aşağıdaki kavramlardan hangileriyle doldurulmalıdır?

- | 1 | 2 | 3 | 4 |
|-----------|----------|-------------|-------------|
| A) Sözlü | – Yazılı | – Sessizlik | – Vurgu |
| B) Yazılı | – Sözlü | – Mimikler | – Uzaklık |
| C) Sözlü | – Yazılı | – Mimikler | – Sessizlik |
| D) Sözlü | – Yazılı | – Konuşma | – Sessizlik |

1.



Bağlı olduğumuz Türkiye Selçuklu Devleti hükümdarı Alâeddin Keykubat, beni Bizans'a karşı gaza ve cihat yapmam ve bu devletin topraklarını fethetmem için görevlendirdi. Bizans bu dönemde gücünü kaybetmişti. Tekfurlar ise yönettikleri yerlerdeki halktan ağır vergiler alıyordu. Bizans halkı yönetimden memnun değildi. Bizler Bizans halkı ile çok yakın yaşıyorduk ve onlara da adaletli davranıyorduk.

Ertuğrul Gazi

Ertuğrul Gazi'nin anlattıklarına göre,

- I. Osmanlıların bağımsızlıklarını sonradan kazandığı,
- II. Bizans valilerinin halka hoşgörülü davrandığı,
- III. Osmanlıların İslamiyet'i yayma gayreti içinde olduğu

çıkarımlarından hangilerine ulaşamaz?

- A) Yalnız II B) I ve III C) II ve III D) I, II ve III

2.



Yukarıdaki haritaya bakarak Osmanlı Beyliği ile ilgili aşağıdakilerden hangisi söylenemez?

- A) Marmara Bölgesi'nde kurulduğu
B) Bizans sınırında kurulduğu
C) Candaroğulları ile komşu olduğu
D) Anadolu Türk siyasi birliğini sağladığı

3. Osmanlı Devleti'nin Bizans sınırında kurulması ve Bizans'ın eski gücünü kaybetmiş olması Osmanlı için bir avantajdı. Padişahların başarılı yönetimi, ordunun disiplinli olması, devletin başka milletlere karşı hoşgörülü olması sayesinde devlet kısa sürede önemli bir güç hâline geldi.

Bu bilgilere göre, Osmanlı Devleti'nin kısa sürede büyümesinde;

- I. Askerî,
- II. Coğrafi,
- III. Ekonomik,

faktörlerden hangilerinin etkili olduğu söylenebilir?

- A) Yalnız II B) I ve II
C) I ve III D) II ve III

4.

Timar sistemi Osmanlı Devleti'ne pek çok açıdan fayda sağlamıştır. Devlet, bu sistemin bir gereği olarak bazı memurlarına ve askerlerine maaş yerine bazı toprakların gelirini bırakmıştır. Bu sistem sayesinde devlet hiç para harcamadan yüz binlerce asker yetiştirebilmiştir. Bu askerler gerektiğinde orduya katılmış, barış zamanında ise çiftçilik yaparak üretim faaliyetlerine katkı sağlamıştır.

Bu bilgilere göre Timar sistemi ile ilgili aşağıdaki yargılardan hangisine ulaşamaz?

- A) Hazine giderlerini azaltmıştır.
- B) Orduya hazır asker yetiştirmiştir.
- C) Üretimin artmasına katkı sağlamıştır.
- D) Özel mülkiyet anlayışını güçlendirmiştir.

6.

Şeyh Edebali'nin Osman Bey'e Nasihati :
 "Ey oğul!
 Beysin! Bundan sonra öfke bize; uysallık sana...
 Güceniklik bize; gönül almak sana...
 Suçlamak bize; katlanmak sana...
 Acizlik bize, yanılğı bize; hoş görmek sana...
 Geçimsizlikler, çatışmalar, uyumsuzluklar, anlaşmazlıklar bize; adalet sana...
 Kötü göz, şom ağız, haksız yorum bize; bağışlama sana..."

Şeyh Edebali'nin söylediklerine bakarak devleti yöneten kişinin aşağıdaki davranışlardan hangisini sergilemesi beklenemez?

- A) Bencil olma
- B) Adaletli davranma
- C) Hoşgörülü ve uysal olma
- D) Bağışlayıcı olma

7.

- I. Divan teşkilâtının kurulması
- II. İlk düzenli ordunun oluşturulması
- III. İlk gümüş paranın bastırılması

Orhan Bey Dönemi'nde gerçekleştirilen bu çalışmalarla, devletin aşağıdaki alanlardan hangisindeki eksikliğinin giderilmesinin amaçlandığı söylenemez?

- A) Askerî
- B) Eğitim
- C) Ekonomik
- D) Siyasi

5.

Osmanlı Devleti'nin yeni fethettiği topraklara Anadolu'dan getirdiği göçebe Türkmenleri yerleştirmesi bu toprakların uzun yıllar elinde kalmasını sağlamıştır. Göçebe Türkmenlerin yerleşik hayata geçmesini ve bir düzen kurmasını sağlamanın yanında, yeni yerleşilen bölgenin de Türk kültürü ile bezenmesine önem verilmiştir. Osmanlı Devleti o bölgelerdeki halkın inanışına karışmamış, huzurlu ve adaletli bir ortam sağlamıştır. Bu sayede bölge halkının gönlünü kazanmayı başarmıştır.

Buna göre Osmanlı Devleti'nin fetih siyaseti hakkında aşağıdakilerden hangisi söylenemez?

- A) Bölgede kalıcı olmayı amaçlamıştır.
- B) Adaletli ve huzurlu bir ortam sağlamaya çalışmıştır.
- C) Yerli halkın Türkleşmesini sağlayıcı projeler geliştirmiştir.
- D) Göçebe Türkmenlerin yerleşik hayata geçişini sağlamaya yönelik çalışmalar yapmıştır.

1.



Mehmed Çelebi

Süleyman Çelebi

Musa Çelebi

Fetret Devri (1402 – 1413)

Ankara Savaşı'ndan sonra başlayıp, Çelebi Mehmet'in tahta çıkışına kadar geçen döneme Fetret Devri denir.

- Fetret: Bunalım demektir.
- Yıldırım Beyazıt'ın dört oğlu arasında geçen mücadele dönemidir (İsa – Musa – Süleyman – Mehmet).
- 11 yıl süren Fetret Devri'nde devletin otoritesi zayıflamıştır.
- Şehzadeler farklı şehirlerde bağımsızlıklarını ilan etmişlerdir.
- 1413 yılında mücadeleyi kazanan Çelebi Mehmet tahta geçmiştir.

Bu bilgilere göre, Fetret Devri ile ilgili aşağıdaki çıkarımlardan hangisine ulaşamaz?

- Osmanlı Devleti'nin yıkılma tehlikesi ile karşı karşıya kaldığı
- Balkanlarda ciddi toprak kaybının yaşandığı
- Devletin iç otoritesinin zayıfladığı
- Çelebi Mehmet'in bunalım devrine son verdiği

- 1389 yılında tahta çıkan I. Beyazıt; Saruhanoğulları, Aydınoğulları, Menteşeoğulları, Germiyanoğulları, Hamitoğulları, Candaroğulları, Karamanoğulları beyliklerini Osmanlı egemenliği altına almıştır.

Buna göre, I. Beyazıt ile ilgili;

- Anadolu Türk siyasi birliğini sağlamak istemiştir.
- Karadeniz ticaret yolunu egemenliği altına almıştır.
- Gaza ve cihat politikası izlemiştir.

yargılarından hangilerine ulaşılabilir?

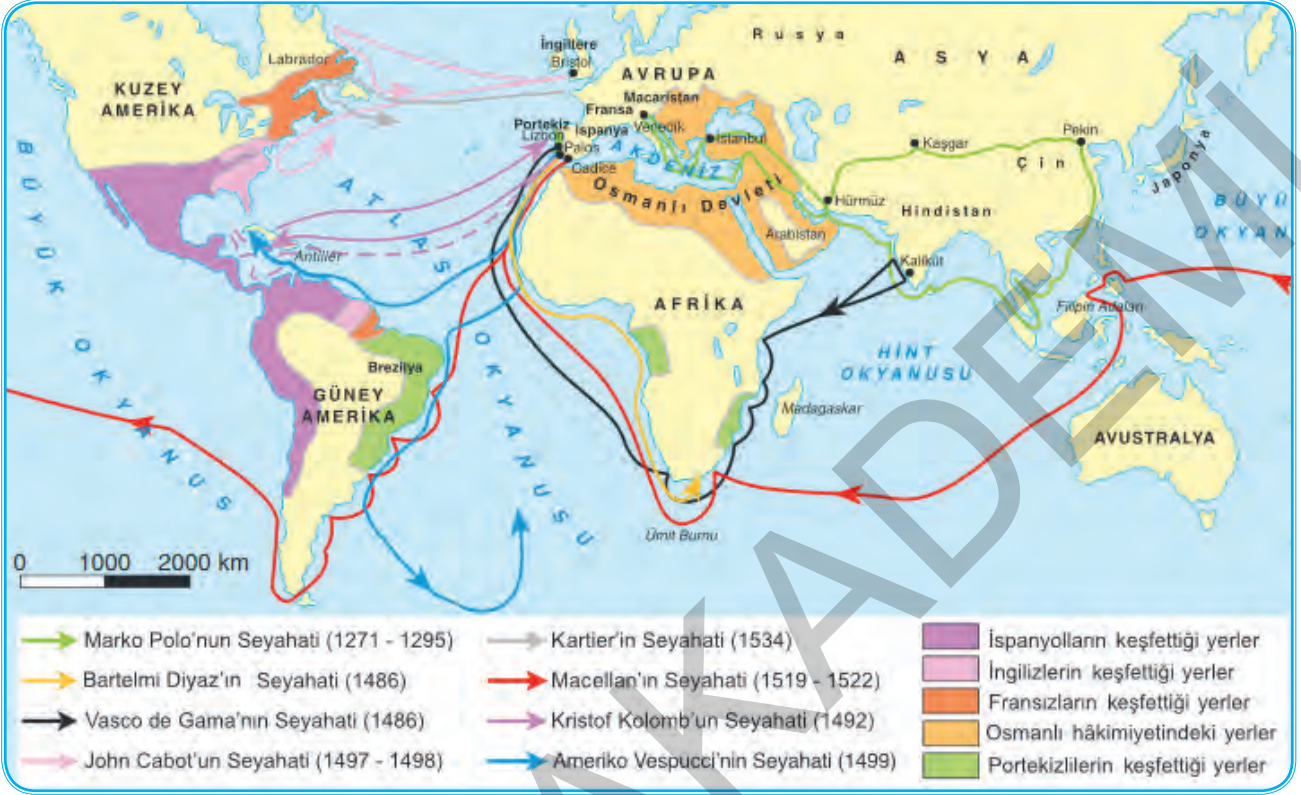
- Yalnız I
- Yalnız III
- I ve III
- I, II ve III

- İstanbul'un fethinden sonra Fatih Sultan Mehmet tarafından, İstanbul'da yaşayan halka din ve vicdan özgürlüğü verilmiş, kendilerine ibadetlerini özgürce yaşayabilecekleri duyurulmuştur.

Bu durum Osmanlı Devleti'nde uygulanan aşağıdaki devlet politikalarından hangisi ile ilgilidir?

- Devşirme
- Tımar
- İstimâlet
- İskân

12.



Bartolomeu Dias
(Bartelmi Diyaz)

Afrika'nın güney ucuna ulaşarak Ümit Burnu'nu keşfetti (1487).



Kristof Kolomb
(Kıristof Kolomb)

Amerika Kıtası'na ulaştı ancak burayı Hint adaları zannetti (1492). Amerigo Vespuçi adlı denizci buranın yeni bir kıta olduğunu açıkladı (1507).



Vasco da Gama
(Vasko dö Gama)

Ümit Burnu'nu dolaşarak Hindistan'a ulaşan ilk Avrupalı denizci oldu (1498).



Macellan
(Magellan)

1519'da başladığı dünya turu ölümünün ardından yardımcısı Del Kano tarafından tamamlandı (1522). Böylece Dünya'nın yuvarlak olduğu kanıtlandı.

Verilen bilgiler incelendiğinde coğrafi keşifler ile ilgili aşağıdaki çıkarımlardan hangisine ulaşamaz?

- Hindistan'a ulaşan alternatif yolların bulunduğu
- Coğrafya bilgisinin arttığı
- Osmanlı Devleti'nin keşiflere öncülük ettiği
- Skolastik düşüncenin gücünü yitirmeye başladığı

11. ve 12. soruları görselde verilen bilgilere göre cevaplayınız.

OSMANLI'DA ISLAHATLAR



I. Ahmet



II. Osman



IV. Murat

- Ekber Erşed Yasası çıkartılmıştır.
- Deneyimsiz padişahlar yetişmiştir.
- Kafes usulüne geçilerek padişahlar sarayda eğitim almaya başlamıştır.

- Şeyhülislam'ın yetkilerini kısıtlamıştır.
- İlk kez saray dışından biriyle evlenmiştir.
- Yeniçeri Ocağını kaldırmak istemiş, çıkan isyanda hayatını kaybetmiştir.

- İçki ve tütün içmek yasaklanmıştır.
- Koçi Bey'den duraklama nedenlerini araştırmasını istemiş ancak Koçi Bey'in hazırladığı raporu uygulayamadan ölmüştür.

17. YÜZYIL

18. YÜZYIL



III. Ahmet



III. Selim



I. Mahmut



I. Abdülhamit

- Sorunların temeline inilmeye çalışılmıştır.
- Kültür, eğitim, askerî ve idari alanlarda yenilikler yapılmıştır.
- Bu dönemde ulema ve Yeniçeriler ıslahatlara karşı gelmeye devam etmiştir.
- Batı'nın siyasi ve askerî üstünlüğü kabul edilmiştir.
- Avrupa'nın önemli başkentlerinde elçilikler açılmıştır.
- İlk devlet matbaası açılmıştır.

11. Buna göre, 17. yüzyıl ıslahatları ile ilgili;

- Padişahın otoritesi güçlendirilmek istenmiştir.
- Yeniçeri Ocağı kaldırılmıştır.
- Sancağa çıkma uygulamasına son verilmiştir.

yargılarından hangilerine ulaşılabilir?

- A) I ve II B) I ve III
C) II ve III D) I, II ve III

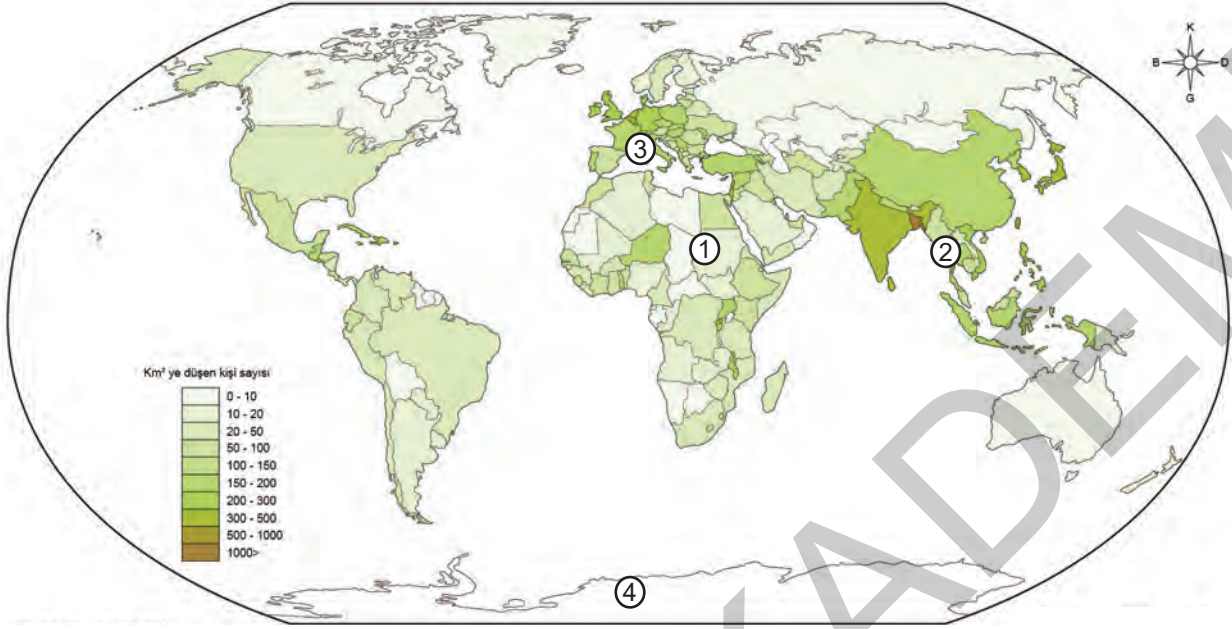
12. Buna göre, 18. yüzyıl ıslahatları ile ilgili;

- Kalıcı çözümler üretilmek istenmiştir.
- Avrupa'daki gelişmeler takip edilmek istenmiştir.
- Hukuk alanındaki düzenlemelere ağırlık verilmiştir.

yargılarından hangilerine ulaşılabilir?

- A) I ve II B) I ve III
C) II ve III D) I, II ve III

7.



Yukarıdaki haritada numaralandırılarak gösterilen yerlerden hangisinde, nüfuslanmanın az ya da çok olma nedeninin doğal bir faktöre bağlı olduğu söylenemez?

- A) ① : Afrika Kıtası'nda Nil Nehri kıyıları
 B) ② : Güney Doğu Asya'da Muson ikliminin etkisi altındaki yerler
 C) ③ : Avrupa'da en çok tarihsel zenginliğe sahip İspanya ve İtalya kıyıları
 D) ④ : Antarktika üzerindeki buzul alanlar.

8. M.Ö. yaklaşık 7000'lerde görülen ilk yerleşim örneklerinde aşağıdaki özellikler ön plana çıkıyordu:

Evlerin birbirine bitişik yapıda olması

İnsanların evlerine çatıda bulunan bir delikten girmesi

Elma ağaçlarının olduğu yerlere ev yapılması

Kurumuş ot ve sazlıklardan karıştırılarak elde edilen çamurun kurutularak ev yapılması

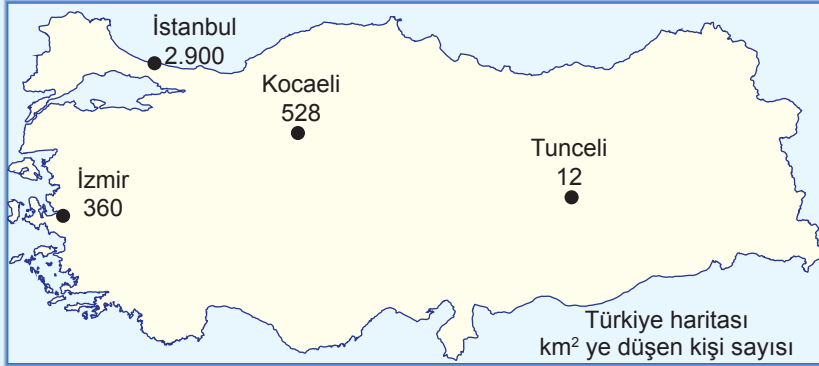
Evlerin üzerine çıkmak için merdiven kullanılması

Etinden ve sütünden yararlanmak için evlere yakın alanlarda sığırların ve keçilerin beslenmesi

Verilen bu özelliklere dayanarak aşağıdaki çıkarımlardan hangisine ulaşamaz?

- A) Ev yapımında gündelik ihtiyacının ön planda tutulduğu
 B) Üretici toplum yapısına geçildiği
 C) Yerleşik hayata geçildiği
 D) Ticaretle takas uygulamasına son verildiği


1, 2 ve 3. soruları verilen infografiğe göre cevaplayınız.



- Yayınlanan TÜİK verilerine göre Türkiye'nin nüfusu 2018 yılında, bir önceki yıla göre 1 milyon 193 bin 357 kişi artarak 82 milyon 3 bin 882 kişi oldu.
- Nüfusumuzun artış hızı binde 12,4'ten 14,7'ye ulaştı.
- İstanbul nüfus yoğunluğunun en fazla olduğu il olarak tekrar kayıtlara geçti. Türkiye nüfusunun %18,4'ü İstanbul'da ikamet ediyor.
- Yüzölçümü olarak en büyük ilimiz Konya'nın nüfus yoğunluğu 57, en küçük yüz ölçüme sahip Yalova'nın nüfus yoğunluğu ise 310 olarak gerçekleşti.

Türkiye Nüfusu 82 Milyonu Geçti

NÜFUS



Yıllık Nüfus Artış Hızı

2017 – Binde 12,4

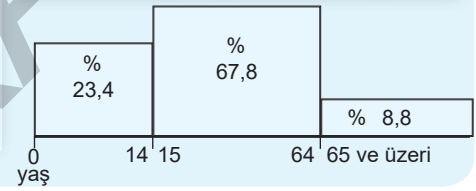
2018 – Binde 14,7

Türkiye Nüfusu

2017 – 80 milyon 810 bin 525

2018 – 82 milyon 3 bin 882

Nüfusun Yaş Gruplarına Göre Dağılımı



1. Grafikteki bilgilere göre aşağıdaki yargılardan hangisine ulaşamaz?

- A) Ülkemizdeki nüfus artış hızının bir önceki yıla göre %2 civarında artış gösterdiği
- B) Nüfusun yarınsından fazlasının İstanbul'da yaşadığı
- C) Yalova'nın nüfus yoğunluğunun fazla olmasında yüzölçümünün küçük olmasının etkili olduğu
- D) Ülkemizdeki yaşlı nüfus oranını düşük olduğu

2. Grafikteki bilgiler doğrultusunda aşağıdaki çıkarımlardan hangisine ulaşamaz?

- A) Kadın ve erkek nüfus oranının birbirine yakınlığı
- B) Yüzölçümü olarak en büyük olan ilimizin, aynı zamanda nüfus yoğunluğu bakımından da en yoğun nüfuslu il olduğu
- C) Ülkemiz nüfusunun %15'ten fazlasının İstanbul'da yaşadığı
- D) Tunceli'de nüfus yoğunluğunun düşük olduğu

3.

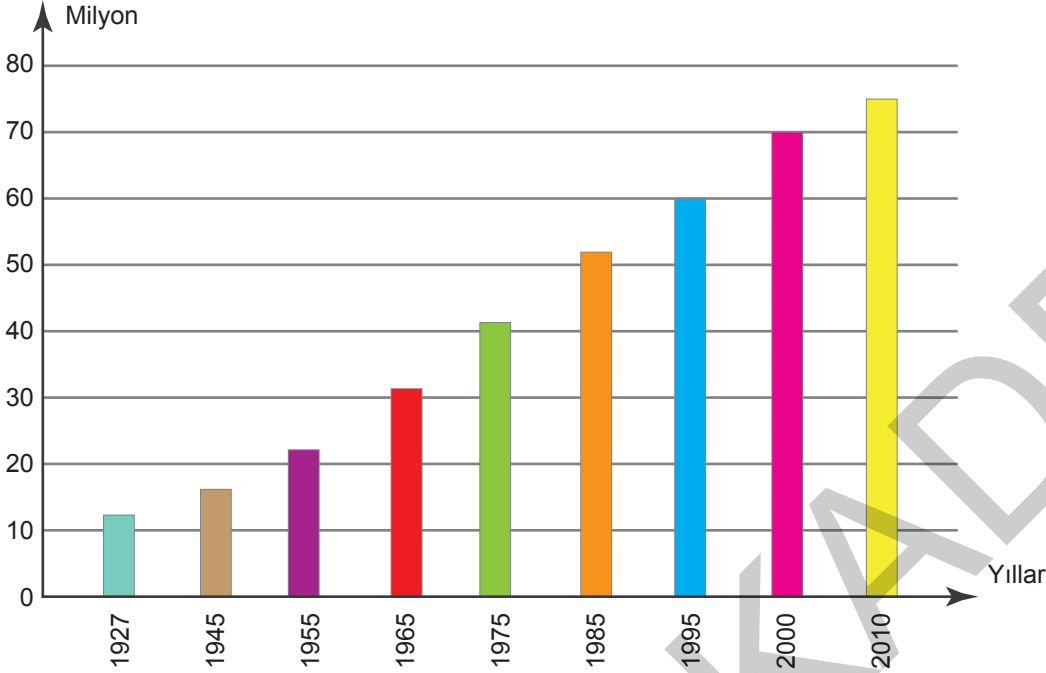
Perihan	Madencilik faaliyetlerinin görüldüğü yerlerde nüfus fazladır.
Ülker	Ülkemiz genç ve dinamik bir nüfusa sahiptir.
Mehmet	Ülkemiz nüfusunun çoğunluğu kentlerde yaşamaktadır.
Şükrü	Ülkemizde batıdan doğuya gidildikçe nüfus yoğunluğu artmaktadır.

Grafikteki bilgilerden hareketle çıkarımda bulunan öğrencilerden hangisinin haklı olduğu söylenebilir?

- A) Perihan
- B) Ülker
- C) Mehmet
- D) Şükrü

TEST - 7

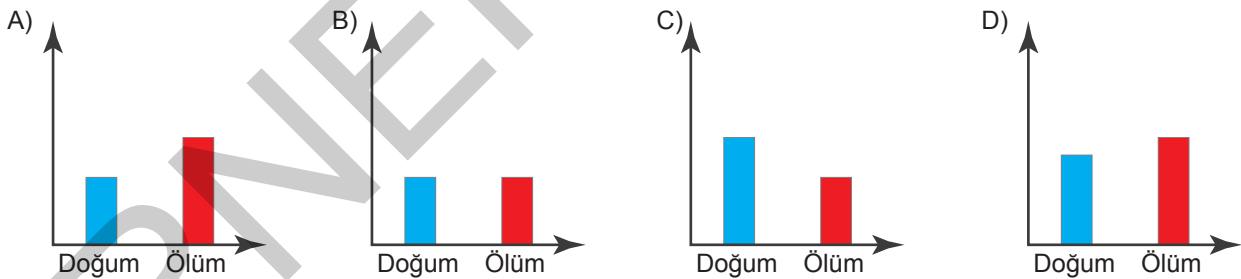
1. Aşağıdaki grafikte yıllara göre Türkiye nüfusu verilmiştir.



Verilen grafiğe bakarak aşağıdaki yargılardan hangisine ulaşılabilir?

- A) Nüfus artış hızının sürekli yükseldiği
 B) Nüfusun içinde genç nüfus oranının arttığı
 C) Nüfusun sürekli arttığı
 D) Bağımlı nüfus oranının arttığı

2. Aşağıdaki grafiğe sahip şehirlerden hangisinde nüfusun artış göstermesi beklenir?



3. Aşağıdakilerden hangisi beyin göçünün nedenleri arasında gösterilemez?

- A) Sanayileşmiş ülkelerin yüksek maaş teklifleri sunması
 B) Teknolojik imkânların geliştiği ülkelerde daha iyi çalışma şartlarının sunulması
 C) İyi eğitim almış öğrencilerin mezun olduktan sonra kendi ülkelerinde iş bulmakta zorlanması
 D) Alanında uzman yetişen kişilerin millî duygularının ağır basması

1.



Uygur Türkleri kâğıt imâl etmeyi öğrendiler ve kendi kitaplarını yazdılar. Çinlilerden kâğıt yapımını öğrenen Müslümanlar da bu icadın Orta Doğu'ya yayılmasını sağladılar. Haçlı Seferleri ile Müslümanlardan bu buluşu öğrenen Avrupalılar kendi ülkelerine kâğıdı götürdüler.

Verilen bilgiye bakarak yukarıdaki metne en uygun başlık aşağıdakilerden hangisidir?

- A) Haçlı Seferlerinin Sonuçları
B) Kâğıdın Bulunuşu ve Dünyaya Yayılışı
C) Avrupa'nın Kâğıt ile Tanışması
D) Kâğıt ve Türkler

2.



Katip Çelebi

Dönemin ünlü bilginlerinden ders almış olan Katip Çelebi pek çok alanda kendisini yetiştirmiştir. Önemli eserlerinden biri "Cihannüma" Osmanlı Devleti adına önemlidir. O döneme kadar hiç yararlanılmayan batı kaynaklarını, Osmanlı coğrafyacılığına tanıtmıştır.

Buna göre Katip Çelebi'nin "**Cihannüma**" adlı eserinin nasıl bir öneme sahip olduğu söylenebilir?

- A) Batı kaynaklarındaki bilgileri ilk kez Osmanlı denizcilerine sunmuştur.
B) Tıp, coğrafya ve astronomi alanı ile ilgili ilk bilgileri vermiştir.
C) Denizciliğin tarihçesini anlatmıştır.
D) Dönemin bilginlerinden aldığı dersleri kitabında anlatmıştır.

3.

- En ünlü eseri Kanun-ül Fi't Tıp'tır.
- Avrupa'da "Avicenna" olarak tanınır.
- Tıp alanındaki önemli çalışmalarından biri de mikroppların hastalıklara neden olması ile ilgili buluşudur.

Yukarıda özellikleri verilen bilim insanı kimdir?

- A) Ali Kuşçu
B) Farabi
C) Piri Reis
D) İbn-i Sinâ

4.

Matbaanın geliştirilmesi ile pek çok alanda yeni gelişmeler yaşanmıştır.

Aşağıdakilerden hangisi bu yeni gelişmelere örnek olarak gösterilemez?

- A) Okuma yazma oranının artması
B) Kitap fiyatlarının ucuzlaması
C) Yeni fikirlerin geniş kitlelere ulaşması
D) Derebeylik rejiminin yıkılması

TEST - 1

5. I. Coğrafya, astronomi ve matematik alanlarında çalışmalar yaparak kitaplar yazmıştır. Cebirin babası olarak bilinir. "0" rakamını ilk kez kullanmıştır.
- II. Şırnak'ın ilçesi Cizre'de doğan bu bilim insanı robotlar ve makinelerin ilk örneklerini yapmıştır.
- III. Astronomi ve matematik öğretmenidir. Uluğ Bey'in öğrencisidir. Fatih Sultan Mehmet Dönemi'nde İstanbul'a çağırılmıştır ve medrese hocalığı yapmıştır.

Hakkında bilgi verilen bilim insanları aşağıdaki-lerden hangisinde doğru olarak gruplandırılmıştır?

	I	II	III
A)	Cezeri	Harezmi	İbn-i Haldun
B)	Harezmi	Cezeri	Ali Kuşçu
C)	İbn-i Heysem	Cezeri	Farabi
D)	Harezmi	Cezeri	Farabi

6. → Copernicus "merkezli sistemi": ortaya koyarak astronomi biliminin gelişmesine önemli katkı sağladı.
- Copernicus'un görüşlerini savunan Galileo yaptığı teleskop ile Ay yüzeyini inceledi. Ay ile Dünya'nın aynı maddelerden olduğunu söyledi. Katolik kilisesince yargılandı.
- Isaac Newton, Galileo'yu kendisine örnek alarak fizik ve astronomi alanlarında pek çok çalışma yaptı.

Verilen bilgilere dayanarak çıkarılabilecek en kapsamlı sonuç aşağıdakilerden hangisidir?

- A) Bilim insanları yaptıkları çalışmalarla birbirlerine örnek olmuşlardır.
- B) Yaşadıkları dönem zorluklarına karşı pes etmişlerdir.
- C) Aydınlanma Çağı'na götüren en önemli buluşları Newton, Copernicus ve Galileo yapmıştır.
- D) Katolik Kilisesi bilimsel çalışmalara destek olmuştur.

7.



Piri Reis'in (1553) Kitabı Bahriye Eserinden; KIBRIS

Osmanlı donanma komutanlarından Piri Reis, "Kitab-ı Bahriye" adlı eserinde Akdeniz limanlarını tanıtmıştır. Çizdiği Dünya haritası, Amerika kıtasının doğu kıyılarını gösteren en eski haritadır. Bu harita sonraki yıllarda çizilen pek çok haritadan daha doğru bilgileri göstermektedir.

Verilen bilgilere dayanarak Piri Reis ile ilgili aşağıdaki çıkarımlardan hangisine ulaşamaz?

- A) Osmanlı deniz kuvvetlerinde görev almıştır.
- B) Coğrafya alanında çalışmalar yapmıştır.
- C) Kıbrıs'ı fethetmiştir.
- D) Akdeniz limanları hakkında bilgi edinilmesini sağlamıştır.

8. Yaşadığı dönemde pek çok engelle karşılaşan Galileo; aslında büyük ölçüde ön yargılar ile mücadele etmiştir. Çünkü o dönemde bilimsel gelişmeleri "saçmalık" olarak gören kişiler, hiçbir araştırmaya dayanmayan boş ön yargıları savunuyorlardı.

Buna göre metinde Galileo'nun yaşadığı dönemdeki boş ön yargıların aşağıdakilerden hangisini ifade ettiği söylenebilir?

- A) Deney ve gözleme dayanmayan yargılar
B) Geleneksel bilgilere sahip çıkan yargısal fikirler
C) Araştırma sonuçlarına dayanan fikirler
D) Özgür düşüncenin önünü açan fikirler

9. "Bilginin korunması, yaygınlaştırılması ve aktarılması için değişim ve süreklilik gereklidir."

Verilen yarıdan hareketle aşağıdaki çıkarımlardan hangisine ulaşılabılır?

- A) İnsanlar bilgiyi koruyucu çalışmaların yapılmasına öncülük etmelidir.
B) Değişim varsa bilginin aktarılması süreklilik kazanır.
C) Bilgiye verilen değer sürekli olmalıdır.
D) Yeni bilgilere ve değişime açık olunursa, bilimsel gelişmeler sürekli değerli görülürse bilgi korunabilir, yaygınlaştırılabilir ve gelecek nesillere de aktarılabilir.

10. Orta Çağ'da Avrupa'da Dünya, evrenin merkezi kabul ediliyordu. Rönesans Dönemi bilim insanlarından Copernicus ise bu görüşe karşı çıktı. O, yaptığı gözlemler sonucu Dünya'nın Güneş etrafında dönen bir gezegen olduğunu iddia etti.

Bu bilgiye bakarak Copernicus hakkında aşağıdaki yargılardan hangisine ulaşılamaz?

- A) Astronomi alanı ile ilgili çalışmalar yaptığı
B) Orta Çağ Avrupası'ndaki bazı düşüncelere ters düştüğü
C) Görüşlerini cesaretle savunduğu
D) Katolik Kilisesi tarafından desteklendiği

11. • 1455'te Johannes Gutenberg ayrı ayrı hazırlanmış harfleri yan yana dizerek baskı yapan matbaayı icat etti.
• 1894'te Guglielmo Marconi radyo dalgalarıyla deneyler yaparak radyonun geliştirilmesine öncülük etti.
• 1925'te John Logie Baird, mekanik televizyonu icad etti.
• 1945'te ENIAC adıyla ilk bilgisayarlardan biri üretildi.

Bu bilgilere dayanılarak aşağıdaki alanlardan hangisi ile ilgili bir buluş yapıldığı söylenemez?

- A) İletişim
B) Ulaşım
C) Eğitim
D) Bilişim

12.


	I		II
I.	Buhar makinesinin icat edilmesi	→	Üretimin hızlanması
II.	Sanayi İnkılabı'nın ortaya çıkması	→	İnsan ve hayvan gücünün öneminin artması
III.	Buhar makinesinin trenlerde kullanılması	→	Ulaşım ve ticaretin kolaylaşması
IV.	Matbaanın icadı	→	Basılan kitap sayısının artması

Yukarıdakilerden hangisinde I.'de verilenin II.'ye ortam hazırladığı savunulamaz?

- A) I
B) II
C) III
D) IV

5, 6 ve 7. soruları görseldeki bilgilere göre cevaplayınız.

Astronomi, matematik, doğa bilimleri, coğrafya ve tarih alanında önemli çalışmaları olan Biruni, Gazneli Mahmut tarafından sarayına alınmış ve "sarayımızın en değerli hazinesi" denilerek övülmüştür. Dünyanın çapını bugünkü değerine çok yakın olarak hesaplamıştır. "El Hind" adlı eserinde Güneş'in hareketlerini inceleyerek mevsimlerin ne zaman başladığını belirlemiştir. Galileo'dan 600 yıl önce yaşamasına rağmen Dünya'nın döndüğü fikrini ilk kez Biruni söylemiştir.



Biruni (978 - 1048)



Gazneli Mahmut

"Sarayımın en değerli hazinesi Biruni'dir."

5. Biruni için söylediği "sarayımın en değerli hazinesi" sözüyle Gazneli Mahmut'un aşağıdakilerden hangisini ifade etmeye çalıştığı söylenebilir?

- A) Bilim insanlarının devlete önemli gelirler sağladığı
- B) Bilim insanlarının değerli olduğu
- C) Biruni'nin mali işlerle uğraştığı
- D) Biruni'nin astronomi ile ilgilendiği

6. Görseldeki bilgilere göre Biruni ile ilgili aşağıdaki çıkarımlardan hangisine ulaşamaz?

- A) Galileo'dan daha önce Dünya'nın dönüşünü kanıtlamıştır.
- B) Astronomi alanında başarılı çalışmalar yürütmüştür.
- C) Zamanın devlet adamları tarafından değerli bulunmuş ve desteklenmiştir.
- D) Çalışmaları toplum tarafından kabul görmemiştir.

7. I. El Hind adlı kitabını yazarak mevsimlerin oluşumu hakkında bilgi vermesi
II. Dünya'nın çapını günümüze yakın bir değerde hesaplaması
III. Gazneli Mahmut'un sarayında yaşaması

Aşağıdakilerden hangisi Biruni'nin bilim dünyasına katkıları arasında sayılabilir?

- A) Yalnız III
- B) II ve III
- C) I ve II
- D) I, II ve III

1.



Cerruhiyetül - Haniyye



İbn-i Firnüs Planörü



El - Cezerî Fıllı Su Saati

Verilen görsellerin aşağıdaki alanlardan hangisi ile ilgili olduğu söylenemez?

- A) Tıp B) Makine C) Mühendislik D) Tarih

2. 1067 yılında Selçuklu Sultanı Alparslan Dönemi'nde ki, Vezir Nizamülmülk tarafından Nizamiye Medresesi kurulmuştur. Bu medresede, yeni bilim insanları yetiştirmek ve bilginlerin çalışmalarını desteklemenin yanı sıra sınırları genişleyen devletin yönetim kademelerine memur yetiştirmek amaçlarıyla da çalışmalar yapılmıştır.

Bu parçaya göre, aşağıdaki yargılardan hangisine ulaşamaz?

- A) Türk hükümdarlarının eğitime önem verdiği
B) Nizamiye Medreselerinin bir bilim yuvası olduğu
C) Nizamiye Medreselerinde yürütülen çalışmalara Sultan Alparslan'ın yön verdiği
D) Selçuklu Devleti'nde sınırların genişlemesiyle devlet adamı ihtiyacının doğduğu

3. • Skolastik düşüncenin ve kilise hâkimiyetinin olduğu dönemde dünyanın yuvarlak olduğunu ortaya koyan Galileo, bu düşüncesinden dolayı Engizisyon Mahkemesince yargılanmıştır.
• Macellan ve Del Kano, coğrafi keşifler ile dünyanın çevresini dolaşarak, yuvarlak olduğunu kanıtlamışlardır.
• Newton, gezegenlerin de çekim gücü nedeniyle Güneşin çevresine çekildiklerini kanıtlamıştır.

Verilen bilgilere bakılarak,

- I. Skolastik düşüncenin özgür düşünceye engel olduğu,
II. Coğrafi keşiflerle yeni bilgilerin ortaya çıktığı,
III. Ortaya çıkan buluşların kilisenin otoritesini artırdığı

yargılarından hangisine ulaşamaz?

- A) Yalnız III B) I ve II
C) I ve III D) II ve III

4. Eski çağlarda gök bilimi çalışmalarının yapılması için büyük binalar araştırma merkezi hâline getirilmiştir. Astronomi çalışmalarının yapıldığı bu yerlerde Ay, yıldız ve gezegenler ile ilgili birçok çalışma yapılmıştır.

Aşağıdaki eserlerden hangisinin belirtilen amaçla faaliyet gösterdiği söylenebilir?



Kurtuba Mescidi - İspanya



Sultan Hamamı - Manisa



Ayasofya Kilisesi - İstanbul



Semerkant Rasathanesi - Özbekistan

5.

İbn-i Sina mikroskop bulunmadan önce mikropların hastalıklara sebep olduğundan bahsetmiştir.

D

Y

Ali Kuşçu astronomi ve matematik alanındaki çalışmalarıyla ün kazanmıştır.

Nizamülmülk, Nizamiye Medreselerini İspanya'da açmıştır.

I

II

III

IV

Yukarıdaki diyagramda doğru bilgiler takip edildiğinde kaç numaralı çıkışa ulaşılır?

A) I

B) II

C) III

D) IV

TEST - 4

9. Orta Çağ'da Avrupa'da Dünya, evrenin merkezi kabul ediliyordu. Rönesans Dönemi'nin önemli bilim insanlarından Copernicus (Kopernik) bu görüşe karşı çıktı. O yaptığı gözlemler sonucu Dünya'nın güneş etrafında dönen bir gezegen olduğunu ortaya koydu. Katolik Kilisesi'nin tutumundan çekinse de ölmeden önce, yazdıklarını "Gök Kürelerin Hareketi" adlı eserinde yayınladı.

Kopernik örneğinden yola çıkarak, bilim insanlarının sahip olduğu özellikler arasında aşağıdakilerden hangisi yer almaz?

- A) Cesaretlilik
B) Açık sözlülük
C) Kararlılık
D) Korkaklık

10.

	Bilim İnsanı		Çalışma Alanı
◇	Piri Reis	→	Coğrafya
◇	El Cezeri	→	Makine Mühendisliği
◇	İbn-i Sina	→	Tıp
◇	Ali Kuşçu	→	Tıp
◇	Kâtip Çelebi	→	Coğrafya

Yukarıdaki tabloda bilim insanları ve bilim insanlarının çalışma alanları gösterilmiştir.

Buna göre yapılan eşleştirmelerden kaç tanesi doğrudur?


- A) 4 B) 3 C) 2 D) 1

11. "Beytülhikme" Abbasiler Dönemi'nde bilimsel araştırmaların yapılacağı, bilginin toplanacağı bir yer olarak inşaa edilmiştir. Abbasi halifeleri bilim insanlarının tartışmalarına bizzat katılmış her düşüncenin özgürce tartışılmasını sağlamışlardır. Burada farklı din ve görüşten insanlar uyum içinde çalışmış, kimse herhangi bir konuda zorlanmamıştır.

Buna göre Abbasiler Dönemi ile ilgili aşağıdaki yargılardan hangisine ulaşılabilir?

- A) Arap olmayanlar dışlanmıştır.
B) Özgür düşünceye önem verilmiştir.
C) Bilimsel çalışmalara halifeler yer vermiştir.
D) Batılı bilim insanlarının görüşlerine itibar edilmemiştir.

12.



I Papirüs



II Kil Tablet



III Parşomen



IV Matbaa

Yukarıdaki buluşlardan hangisinin bilginin kaydedilmesinden çok yayılmasına hizmet ettiği söylenebilir?

- A) I B) II C) III D) IV

1.



Günümüzden yaklaşık 10.000 yıl önce insanlar yerleşik yaşama geçmeye ve tarım yapmaya başladılar. Tarıma dayalı ekonomiye geçilmesi ile birlikte bazı sorunlar da çıkmaya başladı.

Aşağıdakilerden hangisi bu sorunlardan biri olarak gösterilemez?

- A) Tarla sınırlarının belirlenmesi
B) Sulama haklarının korunması ve suyun dağıtılması
C) Tarım ürünlerinin bozulmadan depolanması
D) Avcı-toplayıcı toplum yapısından uzaklaşılması

2. Savaşlarda yararlılık gösteren askerlere hizmet karşılığı olarak tımar toprağı verilir. Tımar sahipleri, gelirin 3000 akçesini kılıç hakkı olarak kendilerine alırlar geri kalanı ile de "cebelü" adında tam teçhizatlı atlı asker yetiştirirler. Böylece, toprakta asker bulunmuş olurdu. Dirlik arazilerini ekip biçenler, elde ettikleri ürünlerden devlete vergi verirler. Bu vergiyi; devletin gösterdiği memur, asker veya sosyal kurumlara öderlerdi.

Verilen bilgilere göre, tımar sisteminin Osmanlı Devleti'ne aşağıdaki alanlardan hangisi üzerinde yarar sağladığı söylenemez?

- A) Eğitim
B) Askeri
C) Güvenlik
D) Ekonomi

3.

Vakıf Arazisi

Geliri cami, medrese, kervansaray, imarethane, gibi hayır kurumlarının ihtiyaçlarını karşılamak amacıyla ayrılan topraklardır.

Bu araziler satılamaz ve başkasına devredilemezdi.

Vakıf arazisi ile ilgili olarak verilen bilgilere bakıldığında Osmanlı Devleti'nin aşağıdakilerden hangisine önem verdiği söylenbilir?

- A) Özel mülkiyetin korunmasına
B) Ticaretin geliştirilmesine
C) Eğitim faaliyetlerinin yaygınlaştırılmasına
D) Sosyal ihtiyaçların karşılanmasına

4. Ülkede üretimin artması amacıyla devlet bazı yatırımlar yapabilir. Bu yatırımlar üretimi, tarımı, ekonomiyi olumlu etkileme adına yapılan çalışmalarını kapsar.

Buna göre aşağıdakilerden hangisi bu çalışmalara örnek gösterilemez?

- A) Tarımda kredi olanaklarını artırmak
B) Tohum ıslahını sağlamak
C) Tarımsal ürünlerden alınan vergiyi artırmak
D) Zirai ilaçların kullanımı ile ilgili eğitim sunmak

1.



Osmanlı Devleti'nde İstanbul'da Leylek Vakfı Tarafından Bakılan Yaralı Leylekler

OSMANLI'DA VAKIFLAR

- Osmanlı'da vakıf bir malın Allah'ın malı olmak üzere kişisel mülkiyetten çıkarak insanların faydasına sunulmasıdır.

- Eğitim
- Sağlık
- Sosyal Yardım
- Bayındırlık İşleri
- Yol - Han - Çeşme gibi tüm yapıları vakıflar yapmıştır. Her mahallenin bir vakfı bulunurdu.

Bazı vakıflar:

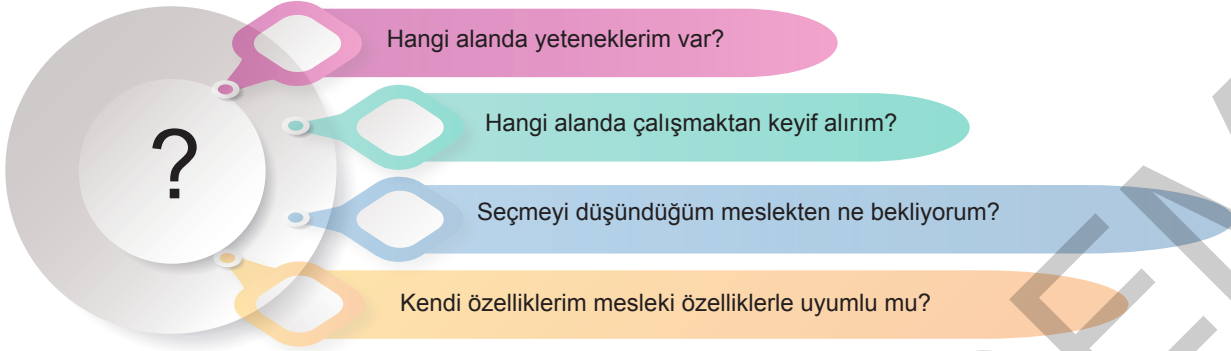
- Leylek Vakfı
- Sokak Temizliği Vakfı
- Meyve Ağacı Diken Vakıf
- Köprü Yapan Vakıf
- Van Gölünde Acil Yardım Gemisi Dolaştırılan vakıf

Evliya Çelebi XVII. yüzyıldaki Osmanlı vakıf eserleri hakkında "Ben elli yılda 18 padişahlık ve krallık ülkesine seyahat ettim, hiçbir yerde bu kadar hayrat görmedim" diye yazmıştır.

Verilen bilgilere bakarak aşağıdakilerden hangisine ulaşamaz?

- Vakıflar farklı birçok alanda hizmet vermiştir.
- Vakıflar, dönemin önemli seyyahları tarafından eserlere konu olmuştur.
- Vakfiyeler, vakıf sahiplerinin kişisel mülkiyetinde kalarak hizmet vermiştir.
- Vakıfların asıl amacı insana yarar sağlamak olmuştur.

4. Kişinin kendine uygun bir mesleği seçebilmesi için kendisine sorması gereken sorular şunlardır:



Verilen bilgilerden hareketle meslek seçiminde dikkate almamız gereken unsurlar arasında aşağıdakilerden hangisi yer almaz?

- A) İlgili ve yeteneklerimiz
- B) Mali durumumuz
- C) Gelecek ile ilgili planlarımız
- D) Karakterimiz

5.

DİJİTALLEŞME



Teknolojinin gelişmesiyle, yeni meslekler ortaya çıkmaya başladı. Şirketler mal ve hizmetlerini elektronik ortamda gerçekleştirmeyi tercih etmektedirler. Düşük bütçe ile yüksek kazançlar sunan bir sanal dünya artık yaşamımızda yerini aldı.

Buna göre aşağıdakilerden hangisinin dijitalleşmenin sonucunda ortaya çıkan yeni meslekler arasında yer aldığı söylenemez?

- A) Kodlama Mühendisliği
- B) Robot Teknisyenliği
- C) Satış Danışmanlığı
- D) Yazılım Geliştirme Uzmanlığı

6.



Yukarıdaki meslek dallarından hangisinin dijital dünyanın yeni meslekleri arasında yer aldığı söylenemez?

- A) I B) II C) III D) IV

7.



Ayşe

“Tatillerde tarihi yerleri gezmekten keyif alıyorum. Geçmiş hakkında veya doğası hakkında bilgi alıyorum. Yeni yerler keşfetmek en büyük zevkim” diyerek Tur Rehberliğini seçmiştir.

“Efes Antik Kenti’nde dolaşırken kendimi geçmiş uygarlıklara ait hissediyorum.” diyerek Arkeolog olmayı tercih etmiştir.



Emel



Ertuğrul

“Bilgisayar yazılımlarını kolayca çözümlleyen ve çevresindeki kişilerin her türlü bilgisayar işinde destek istediği biri olduğunu farkedene Ertuğrul, “ileride saygı duyulan biri olmak istiyorum” diyerek avukat olmayı tercih etmiştir.

“İnsanlarla ilişki içinde olmayı ve çocukları çok seviyorum.” diyerek öğretmen olmayı tercih etmiştir.



Melis

Yukarıdaki öğrencilerden hangisinin kendi karakterine ve kişiliğine uygun bir mesleği seçtiği söylenemez?

A) Ayşe

B) Emel

C) Ertuğrul

D) Melis

8.



Farklı ülkelerin ve coğrafyaların bulunması ile yeni yerler ve değerli madenler keşfedildi.



Bilime verilen değer sonrasında buhar gücü ile çalışan makineler yapıldı ve pek çok yenilik gerçekleşti.



Çeşitli madenler demir, bakır, kömür yatakları değer kazandı.

Yukarıda verilen gelişmelerin aşağıdakilerden hangisi ile ilişkili olduğu söylenemez?

A) Sanayinin gelişmesi

B) Tarımsal faaliyetlerin başlaması

C) Coğrafi Keşiflerin gerçekleşmesi

D) Aydınlanma Çağı'nın başlaması

9.



Tarım



I Şeftali üreticisi



Sanayi



II Hostes



Hizmet



III CNC Makine Operatörü

Yukarıdaki verilen alanlar ile meslek dalları doğru eşleştirildiğinde ulaşılabilecek tablo aşağıdakilerden hangisidir?

A)	★	I
	■	III
	▲	II

B)	★	I
	■	II
	▲	III

C)	★	III
	■	II
	▲	I

D)	★	III
	■	I
	▲	II

TEST - 2

1.

- I Tüm halkın bir yerde toplanarak bir konu ile ilgili karar vermesidir. Herkes yönetime ve kararlara katılır. Bunun için nüfusun az olması gereklidir. Eski Yunan uygarlıklarında bu yönetim uygulanmıştır.
- II Ülkede meclis vardır. Meclis bir konuda karar almakta zorlanırsa referandum (halk oylaması) yapılır. Halk tüm kararlara katılabilir. Bazen de seçtiği temsilciler yoluyla ülke ile ilgili kararları alınabilir.
- III Halk kendisini temsil edecek kişileri seçer. Bu seçilmiş kişiler halk adına karar alırlar ve kanunları belirlerler. Belli bir süre sonra yeni temsilciler seçilir.

Yukarıda açıklamaları verilen demokrasi çeşitleri aşağıdakilerden hangisinde doğru olarak eşleştirilmiştir?

	Doğrudan Demokrasi	Temsili Demokrasi	Yarı Doğrudan Demokrasi
A)	III	II	I
B)	I	III	II
C)	II	I	III
D)	I	II	III

2. • Amasya Genelgesi "Milletin bağımsızlığını yine milletin azim ve kararı kurtaracaktır."
• Erzurum Kongresi: "Milletin iradesini hakim kılmak esastır."

Milli Mücadele Dönemi'nde alınan bu kararlara bakarak aşağıdakilerden hangisinin amaçlandığı söylenebilir?

- A) Ulusal egemenliğe dayalı yeni bir yönetim kurma
B) Padişah otoritesini güçlendirme
C) Saltanatın devamını sağlama
D) Ekonomik bağımsızlığı kazanma

3.

Osmanlı Devleti'nde 1808 yılında ayanlar ile "Sened-i İttifak" imzalanmıştır. Bu sözleşmeyle padişah ilk kez kendi gücünden ve yetkilerinden taviz vermiştir.

1839 yılında imzalanan Tanzimat Fermanı ile kişi hak ve özgürlükleri genişletilmiştir. Kanun gücünün üstünlüğü ilkesi kabul edilmiştir.

Verilen bilgiler doğrultusunda aşağıdakilerden hangisine ulaşamaz?

- A) Padişah, otoritesini ilk kez Sened-i İttifak ile paylaşmıştır.
B) Halk yönetime ortak olmuştur.
C) Kişi hak ve özgürlükleri koruma altına alınmıştır.
D) Demokrasi yolunda adımlar atılmıştır.

4.

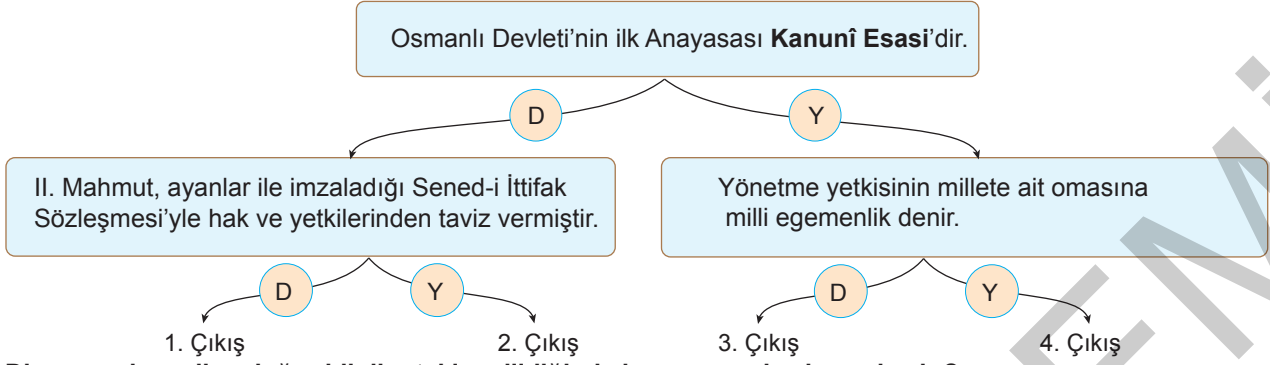
Milli Egemenlik

Yönetme yetkisinin millete ait olması demektir. Seçimler yoluyla millet egemenliğini kullanır.

Aşağıdakilerden hangisi millet egemenliğine örnek gösterilebilir?

- A) Halkın karar alma sürecine katılması
B) Herkesin eşit vergi ödemesi
C) Vatan hizmeti ve sorumluluklarının yerine getirilmesi
D) Herkesin düşüncelerini özgürce ifade edebilmesi

8.



Diyagramda verilen doğru bilgiler takip edildiğinde kaç numaralı çıkışa ulaşılır?

- A) 1 B) 2 C) 3 D) 4

9. 1 Kasım 1922'de saltanatı kaldıran Mustafa Kemal Atatürk, yönetimin hiçbir zaman bir kişi veya grubun elinde olamayacağını belirtmiş, halkın elinde olması gerektiğini ifade etmiştir.

Bu sözleri ile Atatürk'ün;

- I. Milli egemenlik,
II. Monarşi,
III. Demokrasi

anlaşırlarından hangilerine vurgu yaptığı savunulabilir?

- A) I ve III B) I ve II
C) I, II ve III D) II ve III

10. İlk çok partili sisteme geçiş denemesi; Cumhuriyet Halk Fırkasından ayrılan Kazım Karabekir, Ali Fuat Cebesoy gibi Atatürk'ün silah arkadaşları tarafından 17 Kasım 1924'te kurulan Terakkiperver Cumhuriyet Fırkasıyla oldu.

Bu çalışmalar aşağıdaki kavramlardan hangisine yönelik yapılmıştır?

- A) Özgürlük B) Bağımsızlık
C) Barış D) Demokrasi

11. Mustafa Kemal, Mondros Ateşkesinden sonra Anadolu'ya geçtiğinde Erzurum ve Sivas'ta kongreler toplamış, halkın güvenini kazanan kişilerin arasından 3'er kişinin buldukları şehri temsilen Sivas'a gelmelerini istemiştir. Savaş devam ederken meclisi toplamış ve alınan kararları halk ile birlikte almaya gayret göstermiştir.

Bu bilgiye dayanarak Mustafa Kemal'in aşağıdaki-lerden hangisine önem verdiği söylenebilir?

- A) Ulusal bağımsızlık
B) Anayasal Yönetim
C) Milli irade
D) Hukukun üstünlüğü

12.

"Ülke yönetiminde aktif rol almak amacıyla seçimlere katılmak, oy vermek, çeşitli kuruluşlarda görev alarak yönetime katkı sunmak, yöneticiliğe aday olmak gibi faaliyetlerde bulunmak."

Yukarıdaki açıklamada ön plana çıkarılan demokrasi ilkesi aşağıdakilerden hangisidir?

- A) Özgürlük B) Katılım
C) Eşitlik D) Çoğulculuk

3. Dünyada tüm insanların ortak mirası olarak kabul edilen eserlerin korunması amacıyla çalışan örgüt aşağıdakilerden hangisidir?

A)



UNICEF

B)



FAO

C)



UNESCO

D)



WHO

4. Birinci ve İkinci Dünya Savaşı'ndan sonra Avrupa ülkeleri ekonomik kriz yaşarken ihracatı ve altın stokları artan ABD, diğer ülkeleri ekonomik yönden destekleyecek konuma geldi. ABD, doğrudan yardım yerine; kurulacak bir kuruluş tarafından ekonomik program dahilinde yardımların yapılmasını istiyordu. Bu amaçla 1944 yılında 44 devletin katılımıyla birtakım kararlar alınarak Uluslararası Para Fonu'nun (IMF) kurulması kararlaştırıldı. 189 ülkenin katılımıyla oluşturulan bu fon dünya para meselelerini çözmek, ülkeler arasında iş birliği sağlamak ve dünya ticaretinin dengeli gelişmesini sağlamak amacıyla çalışmalarını sürdürmektedir.



Buna göre verilen bilgilerin aşağıdaki sorulardan hangisine cevap olduğu söylenemez?

- A) IMF'nin kuruluş amacı nedir?
 B) Para Fonu hangi tarihte oluşturulmuştur?
 C) IMF'ye üye ülkeler hangileridir?
 D) ABD'nin IMF'nin oluşturulmasını istemesinin amacı nedir?

5.

"En uzakta sandığımız bir olayın bize bir gün dokunmayacağını bilemeyiz. Bunun için insan-oğlunun hepsini bir gövde ve bir ulusu bunun organı saymak gerekir. Bir gövdenin parmağının ucundaki acıdan öteki bütün organlar etkilenir."



Bu sözleriyle Atatürk'ün aşağıdakilerden hangisinin önemini vurguladığı söylenebilir?

- A) Uluslararası barışın sağlanmasının
 B) Küresel sorunlara karşı duyarlı olmanın
 C) Ulusal çıkarların ön planda tutulmasının
 D) Zamanın getirdiği bilim ve tekniği takip etmenin

6.

Sera Etkisi

Dünya üzerine düşen Güneş ışınları başta karbondioksit, metan ve su buharı olmak üzere atmosferde bulunan gazlar tarafından tutulur, böylece dünya ısınır. Işınlardan bu gazlar tarafından tutulmasına "sera etkisi" denir.

Verilen bilgiye göre sera etkisinin öncelikle aşağıdakilerden hangisine neden olduğu söylenebilir?

- A) Tarım alanlarının azalmasına
 B) Mevsimlerin sürelerinin değişmesine
 C) Çölleşmenin artmasına
 D) Küresel ısınmanın artmasına

7. Aşağıdakilerden hangisi Türkiye'nin üyesi olduğu uluslararası teşkilatlar arasında yer almaz?

A)



İslam İşbirliği Teşkilatı

B)



Birleşmiş Milletler

C)



Avrupa Birliği

D)



NATO

8. • Erozyonla mücadele eden, ağaçlandırma ve bilinçlendirme çabaları ile önlemler geliştiren kuruluştur.
- Doğal yapının ve çevrenin korunması için mücadelesini hem ulusal hem uluslararası ortamda sürdüren kuruluştur.
- Doğal varlıkları, tarihi yapı ve değerleri koruma altına almayı ilke edinmiş kuruluştur.

Yukarıdaki açıklamalarla seçeneklerdeki kuruluşlar eşleştirildiğinde hangisi dışta kalır?

- A) UNESCO B) TEMA
C) UNICEF D) GREENPEACE

9. I. Ağaçlandırma yapmak
II. Fosil yakıtlardan uzak durmak
III. Fabrika atıklarını kontrol altına almak

Yukarıdaki öncüllerde belirtilen önlemlerin aşağıdaki sorunlardan hangisinin çözümüne yönelik olduğu söylenebilir?

- A) Savaş B) Göç
C) Terör D) Küresel ısınma

10. I. Ülkeler arası barış ve güvenliği korumak
II. Az gelişmiş ülkeleri güçlü devletlerin koruması altına almak
III. Ulusların kültürel ve toplumsal ilişkilerini geliştirmek
IV. Ulusların kendi kaderini belirleme haklarını korumak

Yukarıda verilenlerden hangileri Birleşmiş Milletler Teşkilatının kuruluş amaçları arasında gösterilir?

- A) I, II ve III B) I, III ve IV
C) II, III ve IV D) I ve III

11. → İnsanların yaşadıkları yerden kendi iradeleri dışında ayrılmalarına --I-- denir.

→ İnsanları tanımadan önce kendileri ile ilgili fikir ya da karara varmaya --II-- denir.

Yukarıda tanımları verilen kavramlar aşağıdakilerden hangisinde doğru olarak eşleştirilmiştir?

- | | |
|----------------|--------------|
| I | II |
| A) Zorunlu göç | Ön yargı |
| B) Rol | Ön yargı |
| C) Gönüllü göç | Fikir edinme |
| D) Barış | Hipotez |

1.

I

İnsanların geçmişten günümüze dil, din, yaşam tarzı, gelenek, inanç gibi taşıdıkları ve geliştirdikleri değerlerin bütünüdür.

II

İklim, doğal ortam, toprak, su, coğrafi konum gibi özelliklerden oluşur.

III

Dünya görüşü, dil, din, örf, adet ve ahlak gibi özelliklerden oluşur.

Yukarıdaki açıklamaların kültür, soyut kültür ve somut kültür kavramları ile olan ilişkisi aşağıdaki seçeneklerden hangisinde doğru olarak gruplandırılmıştır?

	Kültür	Soyut Kültür	Somut Kültür
A)	III	I	II
B)	I	II	III
C)	I	III	II
D)	II	I	III

2.

Avrupa Birliği

1992 yılında yürürlüğe giren Avrupa Birliği Antlaşması'na göre üyelerin tamamı Avrupa'dadır. Üye ülkeler dünya ihracatının 1/3'ünü gerçekleştirmektedirler. Ülkemiz Avrupa Birliği'ne aday ülke olarak kabul edilmiştir. 2005 yılından itibaren de üyelik görüşmeleri devam etmektedir.

Yukarıdaki bilgiye göre, Avrupa Birliği ile ilgili;

- I. Üye ülkeler arasında ekonomik iş birliği sağladığı,
- II. Günümüzde önemini kaybettiği,
- III. Avrupa Kıtası dışında üye kabul etmediği

çıkarımlarından hangilerine ulaşılabilir?

- A) I ve II
B) I ve III
C) I, II ve III
D) II ve III

3.

İslam İşbirliği Teşkilatı (İİT)

- ★ İslam ülkelerini çatısı altında toplamak amaçlı kurulmuştur.
- ★ İslam dünyasının hak ve çıkarlarını korumak, üye ülkeler arasında iş birliği ve dayanışmayı güçlendirmek amacını taşır.
- ★ Türkiye, teşkilatın kurucu üyesidir.

Verilen bilgiler ışığında İslam İşbirliği Teşkilatının aşağıdakilerden hangisini amaçladığı söylenemez?

- A) İslam ülkelerinin çıkarlarını korumayı
B) Üye ülkeler arasında dayanışma ve iş birliği sağlamayı
C) İslamiyeti Avrupa'da yaymayı
D) İslam ülkeleri arasındaki ticari ilişkileri geliştirmeyi