

6 SINIF

BENİM

SOSYAL BİLGİLER

Akıllı tahtaya uyumludur.

KİM KORKAR

adım adım yeni nesile geiş

SORU
BANKAM



6. SINIF

BENİM SOSYAL BİLGİLER KİM KORKAR SORU BANKAM



ISBN 978-625-7868-49-5

YAZAR OLCAY GÖKTEPE



DİZGİ GRAFİK
Örnek Akademi

BASKI KORZA MATBAA



www.ornekakademi.com



/ornekakademi



ÖRNEK AKADEMİ

Adres : İvedik Caddesi No: 253/B Yenimahalle/Ankara

Tel : 0 530 467 61 94

Mail : bilgi@ornekakademi.com

Bu kitabın basım, yayım ve satış hakları Örnek Akademi Basın Yayın Dağ. Eğ. Dan. San. ve Tic. Ltd. Şti'ye aittir. Herhangi bir şekilde izin alınmadan, yayınların tümü ya da bir kısmı, mekanik, fotokopi, elektronik ortam ve benzeri başka yöntemlerle kayıt altına alınamaz, çoğaltılamaz, basılamaz, dağıtılamaz.

Değerli Meslektaşlarımız,

Sevgili Öğrenciler

İletişim çağındaki gelişmeler, bilginin hızla yenilenmesi ve yayılmasını sağlamaktadır. Bu durum, doğal olarak eğitim-öğretimin her alanını etkiliyor. Artık klasik eğitim yaklaşımlarının değişimlere uyum sağlaması mümkün görünmüyor. Çoklu zeka ve yapılandırıcı eğitimin tüm aşamalarının okullarda ve diğer eğitim kurumlarında kullanılması bir zorunluluk oldu.

Millî Eğitim Bakanlığı'nın ortaokulların tüm sınıf düzeylerinde uyguladığı yeni yaklaşımlar, beraberinde yeni materyalleri, yardımcı malzemeleri gerekli kılıyor.

Örnek Akademi Yayınları olarak bizler, tüm sınıf düzeylerinde yukarıda sözünü ettiğimiz yaklaşım doğrultusunda yepyeni ürünlerle karşınıza çıkıyoruz.

Eğitim-öğretim hayatının önemli bir döneminde olan 6. Sınıf öğrencilerimizin elde edecekleri başarı yolunda "Kim Korkar Sosyal Bilgiler Soru Bankası" kitabımız, büyük bir eksiği dolduracaktır.

Başarı dileklerimizle!



1. ÜNİTE BİREY VE TOPLUM.....5

2. ÜNİTE KÜLTÜR VE MİRAS.....28

3. ÜNİTE İNSANLAR. YELER VE ÇEVRELER.....63

4. ÜNİTE BİLİM, TEKNOLOJİ VE TOPLUM.....82

5. ÜNİTE ÜRETİM, DAĞITIM VE TÜKETİM.....103

6. ÜNİTE ETKİN VATANDAŞLIK.....124

7. ÜNİTE KÜRESEL BAĞLANTILAR151

CEVAP ANAHTARI168

BİREY VE TOPLUM

ÜNİTE

1 2 3

Örnekler	Kavramlar
Ali'nin babası olan Sercan Bey, çalıştığı şirketin müdürüdür.	• Sorumluluk
Nazlıcan derslerine çok çalışarak sınavlarda başarılı olmuştur.	• Grup
Dünya kupasında milli takımımız, Fransa ile yapılan maçı kazanmıştır.	• Hak
	• Rol

Tabloda verilen örnekler ile kavramlar eşleştirildiğinde hangi kavram dışarıda kalır?

- A) Rol B) Hak
C) Grup D) Sorumluluk

2. "Kim sana ders çalıştın diye kızar,

Kim seni okula göndermem der.

Sen kitabını aç, çalış dersini,

Al çantayı sırtına hadi okul yoluna. "

Verilen dörtlükte şairin ifade etmeye çalıştığı durum aşağıdakilerden hangisidir?

- A) Grup içerisindeki rollerin varlığı
B) Kurumların var olma sebebi
C) Hak ve sorumluluklarımız
D) Mesleki rollerin önemi

3. Düşünüyorum da yıllar geçtikçe hayatımızda pek çok şey değişiyor. Bu değişimden toplumsal rollerimiz de etkileniyor. Yıllar önce ben de sizin gibi evimde annemin ve babamın evladı, dedelerimin torunu iken okula başladıktan sonra pek çok öğrencinin arkadaşı oldum. O yıllarda kardeşimin dünyaya gelmesini heyecanla bekliyorum ve ağabey olacağıma çok sevinmişim. Bugün de burada tıp fakültesinde size eğitim veren bir doktor olarak karşınızdayım. Ben de hala eğitimler alıyorum ve yeni konular üzerinde çalışıyorum. Çocuklarıma ve eşime de en iyi şekilde zaman ayırmaya gayret ediyorum.

Verilen metinden hareketle aşağıdaki yargılardan hangisine ulaşamaz?

- A) Aynı anda farklı rollere sahip olunabileceğine
B) En çok sevilen rolün doktorluk olduğuna
C) Toplumsal rollerimizin değişebileceğine
D) Zamanla bazı rollerimizin sona erebileceğine

TANIM	Bir kişinin kendi yetki alanına giren bir işin sonuçlarını üstlenmesine sorumluluk denir.
DURUM	Mehmet, uyandıktan sonra yatağını düzenlemiştir.
ÇIKARIMLAR	1. 2. 3.

Tanım ve durumdan hareketle Mehmet ile ilgili;

- I. Sorumluluklarını yerine getirmektedir.
II. Evde yapması gerekenleri bilmektedir.
III. Davranışlarıyla beğeni toplamaktadır.

Çıkarımlarından hangilerine ulaşılabilir?

- A) I ve II B) II ve III
C) I ve III D) II ve III

5.



Barış Manço, Türk sanatçı, şarkıcı, besteci, söz yazarı, TV programı yapımcısı ve sunucusu, köşe yazarı, Devlet Sanatçısı ve kültür elçisi... Türkiye'de rock müziğin öncülerinden, Anadolu Rock türünün kurucuları arasında sayılır. Bestelediği 200'ün üzerindeki şarkısı, kendisine on iki altın ve bir platin albüm ve kaset ödülü kazandırdı. Bu şarkıların bir bölümü daha sonra Arapça, Bulgarca, Felemenkçe, Almanca, Fransızca, İbranice, İngilizce, Japonca ve Yunanca olarak yorumlandı. Hazırladığı televizyon programıyla dünyanın pek çok ülkesine gitmiş, bu nedenle "Barış Çelebi" olarak adlandırılmıştır. 1991 yılında Türkiye Cumhuriyeti Devlet Sanatçısı unvanına layık görüldü. 1 Şubat 1999 tarihinde, evinde geçirdiği kalp krizi sonucu, kaldırıldığı Siyami Ersek Hastanesinde aynı gece vefat etmiştir.

Metne göre aşağıdakilerden hangisi Barış Manço'nun üstlendiği rollerden biri değildir?

- A) Müzisyen B) Yazar
C) Sunucu D) Tercüman

6.

	DURUM	KANIT
I.	Grup içerisinde sorumluluklarını yerine getiremeyen bireyler, grubun başarısız olmasına neden olur.	Sunum yapacak gruptan bir öğrencinin hazırlık yapmaması, grubun düşük not almasına neden olur.
II.	Rollerimiz kazandığımız başarılarla göre değişebilir.	Şirkette stajyer olarak işe başlayan Ahmet, iki yıl sonra müdür yardımcısı olmuştur.
III.	Görevlerimiz ya da toplumun bizden beklediği davranışlar olarak ifade edebileceğimiz roller çok farklı olabilir.	Mehmet, okulda öğretmen, evde baba rolündedir.

Tabloda durum ve kanıtlar birlikte değerlendirildiğinde, hangilerinin kanıtları doğru verilmiştir?

- A) Yalnız I. B) I ve II .
C) II ve III. D) I, II ve III.

7.

Uzunbağ Ortaokulunda sınıflar arası müzik yarışması için İlike Öğretmen rehber olduğu sınıfı hazırlamak istemiştir. Öğrencilerin rollerini aşağıda belirtildiği gibi dağıtmıştır. Yarışmada farklı olmak için şarkının belli kısımlarında öğrencilerinden şiir okumasını istemiştir.



Gitar çalma



Şarkı söyleme



Davul çalma



Şiir okuma

Rollerini yerine getiren öğrenciler müzik yarışmasında birinci olmuştur.

Verilen bilgilere göre aşağıdakilerden hangisi söylenemez?

- A) Öğrenciler grupta farklı roller alabilirdi.
B) Öğrenciler, grup içi sorumluluklarını yerine getirmişlerdir.
C) Öğrenciler rollerini kendi istekleriyle seçmişlerdir.
D) Grup içindeki uyum başarıya ulaşmada etkili olmuştur.

8.

UNICEF'TEN OKUL ÇAĞINDAKİ ÇOCUKLARLA İLGİLİ RAPOR

UNICEF, İstanbul'da yapılacak Dünya İnsani Zirvesi'nden önce yayımladığı raporda, kriz bölgelerinde yaşayan çocukların acil eğitim desteğine ihtiyaç duyduğunu açıkladı.

- Suriye'de 2011'den bu yana 6 bin okul yıkıldı.
- Ukrayna'nın doğusundaki çatışmalarda da okulların 1/5'i kullanılamaz hale geldi.
- Nijerya ve Kamerun'da 1800'den fazla okul kapalı durumda.

Raporda, 5 yıl içinde toplanacak yaklaşık 4 milyar dolarlık fonun, 13,6 milyon çocuğa acil durumlarda eğitim desteği amacıyla kullanılacağını belirtti.

- 75 milyon çocuk acil eğitim desteğine muhtaç
- 3 - 18 yaş 462 milyon çocuk
- 1/4'ü kriz bölgelerinde yaşıyor.



Suriye

Ukrayna'nın doğusu

Nijerya

Kamerun

Bir işi yapabilme yetkisine hak denir. Birey olarak içinde bulunduğumuz toplum düzeni de bize bazı haklar sağlamaktadır. Yukarıda UNICEF tarafından okul çağındaki çocuklarla ilgili bir çalışma raporu verilmiştir. **Bu bilgilere göre;**

- Eğitim hakkını kullanamayan çocukların olduğu ,
- Eğitim ile ilgili uluslararası bir çalışma yapıldığı,
- Uluslararası kuruluşların görevini yerine getirmeye çalıştığı

çıkartımlarından hangilerine ulaşılabilir?

- A) Yalnız I. B) I ve II. C) II ve III. D) I, II ve III.

1.

Türklerin İlk Anayurdu: Orta Asya

- Yazlar sıcak ve kurak geçerken kışları oldukça soğuktur.
- Bölgede yaşayan Türkler, iklimin etkisiyle diğer milletler gibi hayvancılık ve ticaretle uğraşmışlardır
- Ağır iklim şartları burada yaşayan Türklerin her an tedbirli ve hazır olmasını sağlamıştır.

Buna göre, Orta Asya'nın coğrafi şartlarının Türk toplumunda;

- Konargöçer yaşam tarzının benimsenmesi,
- Askerlik becerilerinin gelişmesi,
- İkili yönetim şeklinin görülməsi

durumlarından hangilerinin ortaya çıkmasında etkili olduğu söylenebilir?

- A)Yalnız III B)I ve II C)II ve III D)I,II ve III

2.

"... Kappan Kağan oturdu. Gece uyumadı, gündüz oturmadı. Kızıl kanımı döktürerek, kara terimi koşturarak işi, gücü verdim hep. Uzun keşif kolunu yine gönderdim hep. Siperi, nöbet yerini büyüttüm hep. Geri dönen düşmanı getirirdim. Kağanımla ordu gönderdim tanrı korusun, bu Türk milleti arasında silahlı düşmanı koşturmadım. Damgalı atı koşturmadım..."

Kök Türk Yazıtları'nda yer alan bu açıklamaya göre Türklerin aşağıdaki alanlardan hangisinde geliştikleri çıkarılabilir?

- Askeri
- Sanat
- Ticaret
- Mimari

3.



Yukarıdaki diyagramda ilk Türk devletlerindeki toplum yapısı verilmiştir.

Buna göre ilk Türk devletleri ile ilgili,

- Sosyal hayatın en küçük biriminin aile olduğu,
- Boyların birleşerek milleti oluşturduğu,
- Boylar arasında sürekli siyasi çekişmelerin yaşandığı

yargılarından hangilerine ulaşılabilir?

- A) Yalnız II B) Yalnız III C) I ve II D) I,II ve III

4.

TANIM	İlk Türk devletlerinde ölen kişinin gömüldüğü oda şeklindeki mezarlara kurgan denirdi.
DURUM	Orta Asya'da Hunlara ait olduğu kabul edilen bir kurganda yapılan kazılar sonucu altın ve gümüş eşyalar, halı ve kilimler, demir, kılıç ve at koşum takımlarına rastlanmıştır.
ÇIKARIM	1. 2. 3.

Verilen bilgilere göre Orta Asya Türk devletleri ile ilgili aşağıdaki çıkarımlardan hangisi yapılamaz?

- Atı evcilleştirmişlerdir.
- Madencilikle uğraşmışlardır.
- Yerleşik hayata geçmişlerdir.
- Dokumacılıkla ilgilenmişlerdir.

5.

- İlk Türk devletlerinde ülke, Doğu ve Batı şeklinde ikiye ayrılarak iki hanedan üyesi tarafından yönetilmiştir.
- Ülkenin Doğu kısmını asıl hükümdar, Batı kısmını da hükümdarın kardeşi yönetmiştir.
- Hükümdara devleti yönetme yetkisinin Tanrı tarafından verildiğine inanılmış ve bu yetkiye de Kut adı verilmiştir.
- Devlet yönetiminde hükümdara toy, kengeş, kurultay gibi danışma meclisleri yardım etmiştir.

Verilen bilgilere göre ilk Türk devletleri ile ilgili aşağıdaki çıkarımlardan hangisine ulaşılamaz?

- Ülke hanedan üyeleri tarafından yönetilmiştir.
- Devlet yönetiminde son söz kurultaya aittir.
- Ülkede ikili yönetim anlayışı benimsenmiştir.
- Devletin doğu tarafı batıya göre daha önemli görülmüştür.

Test - 1

Destan ve Yazıtlarda Türkler

6. Aşağıdaki soruların cevapları bulmacadaki satırlara yazılacaktır.

1. Tarihte kurulan ilk Türk devletidir.
2. Tarihte Türk adıyla kurulan ilk Türk devletidir.
3. Yerleşik hayata geçen ilk Türk devletidir.

	A	B	C	Ç	D	E	F	G
1								
2								
3								

Buna göre bulmacanın B sütununda yer alan harfler aşağıdakilerden hangisidir?

- A)

Y
K
Y

 B)

A
T
R

 C)

S
Ö
Y

 D)

H
Ö
G

7. Bilge Kağan Yazıtı'nın Kuzey yüzü İlahî göğün yarattığı Türk Bilge Kağan, bu devirde tahta çıktım. Sözlerimin tamamını dinleyin. Doğuda güneşin doğduğu yere, güneyde aydınlığın ortasına, batıda güneşin battığı yere, kuzeyde karanlığın ortasına kadar, bu sınırların içerisinde halkın tamamı bana bağlıdır. Bu kadar halkın tamamını düzene soktum. Çin halkıyla ilişkileri düzelttim. Çinliler altını, gümüşü, ipeği, ipekli-leri ihtiyaçtan fazlasıyla öylelikle verirler. Çin halkının sözleri tatlı, ipekli yumuşakmış. Tatlı sözle, yumuşak ipekli-lerle kandırıp uzaktaki halkları bu şekilde kendilerine yaklaştırmışım. Yakına yerleştikten sonra da gereken kötülüğü orada düşünürlermiş.


Kök Türk Yazıtları'nda yer alan bu bilgilerden;

- Askerî,
- Siyasi,
- Ekonomik

alanlarından hangilerine değinilmiştir?

- A) Yalnız II B) I ve II
C) I ve III D) I, II ve III.

8.



ON İKİ HAYVANLI TÜRK TAKVİMİ

Bozkırda konargöçer hayat tarzını benimseyen Türkler, ekip biçme zamanını ve yazlık ile kışlık göç tarihlerini belirlemek için gökle ilgili olaylara bakarak takvimler yapmışlardır. Bu sayede zamanı sistemli hâlde kullanmaya başlamışlardır. Bir müddet sonra "On İki Hayvanlı Türk Takvimi"ni oluşturmuşlardır. Bu takvimde her yıl bir hayvan ismi ile temsil edilmiştir. Aylar ise 1. Ay, 2. Ay ... şeklinde ifade edilmiştir. Asya Hunları, Kök Türkler ve Uygurlar da bu takvimi kullanmışlardır. Orhun Yazıtları'nda On İki Hayvanlı Türk Takvimi'nden bahsedilmiştir.

Verilen görsel ve bilgilerden hareketle,

- Türkler, astronomi alanında çalışmalar yapmıştır.
- On İki Hayvanlı Türk Takvimi, Müslüman Türk devletleri tarafından kullanılmıştır.
- Ayların isimlendirilmesinde evcil hayvanlar tercih edilmiştir.

yargılarından hangilerine ulaşılabilir?

- A) Yalnız I B) Yalnız II C) I ve II D) I, II ve III

1.



Devletimizde belli bir veraset anlayışı yok. Ülkeyi hükümdar ailesinin ortak malı olarak görüyoruz. Ailemize mensup her erkek hükümdar olma şansına sahip.

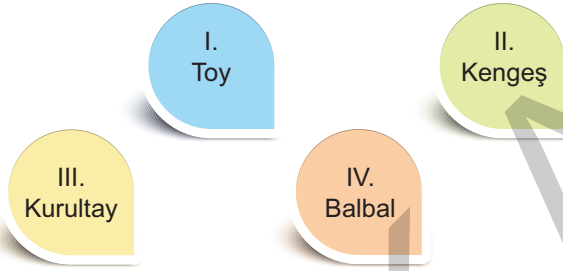
Mete Han'ın bahsettiği bu uygulamanın,

- I. Merkezî otoritenin zayıflaması,
- II. Taht kavgalarının görülmesi,
- III. Devletlerin kısa ömürlü olması,

durumlarından hangilerine neden olduğu söylenebilir?

- A) I ve II. B) I ve III. C) II ve III. D) I, II ve III.

2.



Yukarıda verilen kavramlardan hangisi eski Türklerde farklı bir amaç için kullanılmıştır?

- A) I B) II C) III D) IV

3. Eski Türklerde kadının toplumda önemli bir yeri vardı.

Örneğin;

- Kağan olmadığında Hatun kurultaya başkanlık yapardı.
- Kadınlar savaşabilme özelliğine sahipti.
- Sosyal etkinliklerde kadınlar ön planda yer alırdı.
- Ailede mal ve mülk ortak sayılırdı.

Buna göre eski Türklerde kadın için;

- I. Siyasi yetkilere sahip olduğu,
- II. Özel mülkiyet edinemediği,
- III. Ordu-millet anlayışının içinde yer aldığı

durumlarından hangileri söylenebilir?

- A) Yalnız I B) I ve III C) II ve III D) I, II ve III

4.

Toprak yani ülke, Orta Asya'da yaşayan Türklerde yurt olarak isimlendirilmiştir. Yurt, hükümdarın şahsi malı değildir. Göçebe toplumların özelliği olarak Türkler, ancak hür ve müstakil yaşayabildiği toprağı ülke olarak görmüşlerdir. Müstakil yaşayamadıkları toprağı da kolayca terk edebilmişlerdir.

Yalnız bu bilgilere dayanarak, Türklerle ilgili aşağıdakilerden hangisine ulaşılabilir?

- A) Bağımsızlığa önem verdiklerine
- B) Tarımsal faaliyetlerde bulduklarına
- C) Geniş alanlarda hüküm sürdüklerine
- D) Çok geniş topraklara sahip olduklarına

5.

Asya Hun Devleti



- Tarihte bilinen ilk Türk devletidir.
- En ünlü hükümdarı Mete Han'dır.

Asya Hun hükümdarı Mete, devletin iç politikasını; halkın refah, huzur ve barış içerisinde yaşatılması ve ekonomik seviyesinin yükseltilmesi ayrıca törenin halka adil bir şekilde uygulanması olarak belirlemiştir. Bu politika, günümüze kadar bütün Türk devletlerinde temel politika olarak uygulanmıştır.

Buna göre Türk devletleri ile ilgili;

- I. Sosyal devlet anlayışı vardır.
- II. Devlet yönetiminde birbirlerini etkilemişlerdir.
- III. Halk sosyal sınıflara ayrılmıştır.

yargılarından hangilerine ulaşılabilir?

- A) Yalnız I. B) Yalnız II. C) I ve II. D) II ve III.

6.



630'da Çinlilerle yaptığımız savaşı kaybedince Doğu Kök Türk devletimiz yıkıldı. Binlerce Türk Çinlilere esir düştük. Ben ve otuz dokuz arkadaşım ihtilal yapmaya karar verdik. Komitede aldığımız karara göre Çin İmparatoru'nu rehin alacaktık. İmparatorun hayatına karşılık Çin sarayında bulunan yeğenimi kurtaracaktık. Ardından Ötüken'e gidecek ve yeni bir devlet kuracaktık.

Kürşad'ın anlatımına bakarak Türklerin aşağıdakilerden hangisine önem verdiği söylenebilir?

- A) Kağanlarına
B) Aileye
C) Boy Beylerine
D) Bağımsızlıklarına

7.

Mete Han döneminde Asya Hun Devleti ile Çin arasında mücadeleler yaşanmış, zaman zaman da ticari antlaşmalar yapılmıştır.

Asya Hun Devleti ile Çin arasındaki bu mücadele ve antlaşmaların temel sebebi aşağıdakilerden hangisidir?

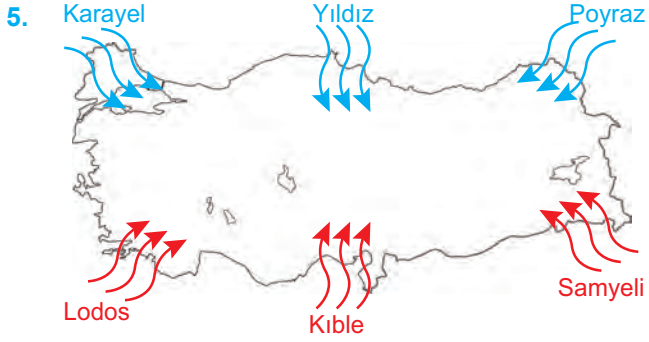
- A) İpek Yolu hâkimiyeti
B) Tarımsal alanları ele geçirme
C) Siyasi birliği sağlama
D) Türkleri bir bayrak altında toplama

8.

ASYA HUN DEVLETİ	KÖK TÜRK DEVLETİ	UYGURLAR
<ul style="list-style-type: none"> ➤ Tarihte bilinen ilk Türk devletidir. ➤ Temel geçim kaynakları hayvancılık ve genel yaşam biçimleri göçebelik olduğu için hayatlarında çadır önemli bir yer tutmuştur. 	<ul style="list-style-type: none"> ➤ Türk adıyla kurulmuş ilk Türk devletidir. ➤ Türklerle ait ilk yazılı eser kabul edilen abideler bu devlet zamanında dikilmiştir. 	<ul style="list-style-type: none"> ➤ Yerleşik hayata geçen ilk Türk devletidir. ➤ Maniheizm'de canlı öldürmenin yasak olması yerleşik hayata geçmelerinde etkili olmuştur.

Verilenlere göre aşağıdaki yargılardan hangisine ulaşamaz?

- A) Asya Hun Devleti'nde ekonomik faaliyet halkın yerleşme biçimini etkilemiştir.
B) Uygurlar yabancı bir dine inanarak asimile olmuşlardır.
C) Kök-Türk Devleti'nde milli kültüre ait unsurlar görülmüştür.
D) Uygurların göçebeliği bırakmalarında dini inançları etkili olmuştur.



Ülkemizin güneyi ekvatora daha yakındır. Bu nedenle güney kıyılarımız kuzey kıyılarıımıza göre daha sıcaktır. Ayrıca kuzeyden esen rüzgarlar, sıcaklığı düşürürken, güneyden esen rüzgarlar sıcaklığı artırır.

Buna göre verilen özelliklerin;

- I. Mutlak konum,
- II. Göreceli konum,
- III. Jeopolitik konum,

kavramlarından hangileriyle ilgili olduğu söylenebilir?

- A) Yalnız I. B) I ve II. C) I ve III. D) II ve III.

7. Aşağıdaki haritada dünya üzerindeki kıtalar ve okyanuslar gösterilmiştir. Öğrencilerden haritayla ilgili çıkarımlarda bulunmaları istenmiştir.



Öğrenciler;

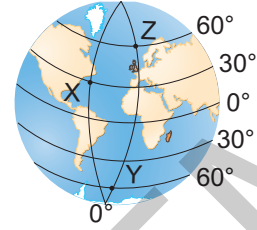
- I. Yüz ölçümü en küçük olan kıta Okyanusya'dır.
- II. Nufusu en fazla olan kıta Asya kıtasıdır.
- III. Afrika kıtasının büyük bölümü çöllerle kaplıdır.
- IV. Antartika kıtası, Güney Yarımküre'de bulunmaktadır.

şeklinde çıkarımlarda bulunmuşlardır.

Buna göre sadece haritaya bakarak yukarıdaki çıkarımlarından hangilerine ulaşılabilir?

- A) I ve II B) I ve IV C) II ve III D) III ve IV

6. Aşağıdaki görselde X, Y ve Z noktalarının mutlak konumları gösterilmiştir.



Verilen görselden hareketle;

- I. Z noktası Kuzey Yarımküre'de yer almaktadır.
- II. X noktası başlangıç meridyeni üzerinde bulunmaktadır.
- III. Y ve Z noktaları aynı paralel dairesi üzerinde yer alır.
- IV. Güney kutup noktasına en yakın olan nokta, Y noktasıdır.

yargılarından hangisine ulaşamaz?

- A) I. B) II. C) III. D) IV.

1.	TANIM	Sosyal bilimler; toplum olaylarını araştıran, insanın sosyal ve kültürel faaliyetleri konusunda araştırma ve inceleme yapan bilim dallarını kapsar.
	DURUM	Hasan, Milli Mücadele dönemi ile ilgili araştırmalar yaparak Türk tarihi hakkında bilgi edinmiştir.
	FAYDA	1. 2. 3.

Tanım ve durum birlikte incelendiğinde tarih biliminin sağladığı faydalarla ilgili boş bırakılan kısma aşağıdakilerden hangisi yazılamaz?

- A) Geçmişin aydınlatılmasını sağlar.
B) Milli birlik ve beraberliğin artmasını sağlar.
C) Tasarruflu bireyler olmamızı sağlar.
D) Geçmişten ders çıkarmamızı sağlar.

2. Aşağıdaki bilgilerin karşılıkları bulmacadaki satırlara yazılacaktır.

- İnsan ile doğal çevre etkileşimini inceleyen bilim dalıdır. (.....)
- İnsanlara ait düşünce ve davranışların kaynağını ve sonuçlarını inceleyen bilim dalıdır. (.....)
- İnsana doğru düşünmeyi, olaylara farklı açıdan bakmayı sağlayan bilim dalıdır.(.....)

	A	B	C	D	E	F	G	H	I
1									
2									
3									

Buna göre bulmacanın D sütununda yer alan harfler aşağıdakilerden hangisidir?

- A)

Ğ
K
L

 B)

R
K
S

 C)

A
O
F

 D)

O
İ
S

3. Batı Anadolu'da Gediz ile Küçük Menderes Irmakları arasındaki bölgeye yerleşen Lidyalılar Kral Yolu üzerinde ticaret yaparak büyük bir zenginliğe ulaştılar. Ayrıca ticarete parayı değişim amacıyla kullanan ilk topluluk olarak tarihe geçtiler.

Lidyalılar hakkında verilen bilgilere ulaşmak için aşağıdaki sosyal bilimlerden hangisine ihtiyaç yoktur?

- A) Coğrafya B) Ekonomi
C) Felsefe D) Tarih

4. İbn-i Haldun'a göre ılıman iklimlerde yaşayan milletler, beşeriyetle alakalı her alanda gelişmiş durumdadırlar. Çünkü ılıman iklimlerde yaşayan insanlar beden ve huyları dâhil olmak üzere her yönden normal ve gelişmiş bir hâl üzerinde yaşamaktadırlar. Bu durumun nedeni: Uygun iklim koşullarından dolayı bu insanların konut, sanat, ilim, yöneticilik ve mülk gibi ileri beşerî unsurlara sahip olmalarıdır.

İbn-i Haldun'a göre insanların kaderini etkileyen sosyal bilim dalı aşağıdakilerden hangisidir?

- A) Tarih B) Coğrafya
C) Ekonomi D) Sosyoloji

5.

TARİH

Geçmişte meydana gelen önemli insan ilişkilerini yer ve zaman göstererek, neden sonuç ilişkisi içerisinde inceleyen ve bilgileri belgelere dayandıran bilim dalıdır.

EKONOMİ

İnsanların yaşamak için üretim yapma ve üretimi bölüşme biçimlerini inceleyen bilim dalıdır.

ARKEOLOJİ

Su ve toprak altında kalmış eserleri tarih ve sanat açısından inceler.

Tabloda verilen bilgilere göre aşağıdakilerden hangisi söylenemez?

- A) Toplumsal düzeni sağlayan kuralları öğrenmemiz sağlanır.
B) İnsanların geçmişi öğrenerek geleceğe yön vermesi sağlanır.
C) Yazı öncesi devirler hakkında bilgi edinmemiz sağlanır.
D) İstek ve ihtiyaçlarımıza göre bütçemizi ayarlamayı öğreniriz.

6.



Ülkemizde, Atatürk'ün yönlendirmesi ile cumhuriyetin ilk yıllarında başlayan bilimsel ve teknolojik çalışmalar artarak devam etmiştir. "Hayatta en hakiki mürşit ilimdir, fendir." diyen Atatürk bilimin gelişmesi için birçok çalışmaya öncelik etmiştir.

Ahmet Öğretmen'in verdiği bilgiye göre aşağıdakilerden hangisi Atatürk Dönemi'nde açılan kurumlardan biri değildir?

A)



Türk Tarih Kurumu

B)



Türk Dil Kurumu

C)



TÜBİTAK

D)

Dil- Tarih ve Coğrafya
Fakültesi

8.

TÜBİTAK'IN 56 YILLIK BAŞARISI

Türkiye Bilimsel ve Teknolojik Araştırma Kurumu (TÜBİTAK), ülkemizin kendi teknolojisini geliştirmesine katkı sağlaması için 1963'te kuruldu. Kurulduğu günden beri de birçok projeye imza attı.

TÜBİTAK MERKEZ VE ENSTİTÜLERİ

- ◇ Bilişim ve Bilgi Güvenliği İleri Teknolojiler Araştırma Merkezi
- ◇ Marmara Araştırma Merkezi
- ◇ Uluslararası Akademik Ağ ve Bilgi Merkezi
- ◇ Savunma Sanayii Araştırma ve Geliştirme Enstitüsü
- ◇ Temel Bilimler Araştırma Enstitüsü
- ◇ Uzay Teknolojileri Araştırma Enstitüsü
- ◇ Ulusal Metroloji Enstitüsü
- ◇ Türk ve Sanayi Sevk ve İdare Enstitüsü
- ◇ Ulusal Gözlemevi

TÜBİTAK MERKEZ VE ENSTİTÜLERİ

- ◇ 81 ile 100 Deneyap Teknoloji Atölyesi
- ◇ 11 Farklı Alanda Akademik Dergi
- ◇ Türkiye'nin İlk Bilim Dergisi Bilim ve Teknik Geleceğin Teknoloji Yıldızları ile Ortaokul ve Lise Çağındaki Gençlere Eğitim
- ◇ Sanayi Doktora Programı ile Nitelikli İnsanlara Destek
- ◇ Doktora Eğitimi Alan Bursiyerlere 4 Bin 500 Liraya Kadar Burs İmkanı

AKADEMİK AR-GE DESTEK PROGRAMLARINA SAĞLANAN KATKI

1963 - 2002 yılları arası **6 BİN 512 PROJEYE**
403 MİLYON LİRA

2003 - 2019 yılları arası **17 BİN 500 PROJEYE**
11,2 MİLYAR LİRA

Verilen bilgilere göre;

- I. Bilimsel ve teknolojik gelişmeler planlı şekilde yürütülmektedir.
- II. AR-GE çalışmalarına destekler artmaktadır.
- III. TÜBİTAK gençlerin teknolojiye yönelimini artırıcı eğitimler vermektedir.

yargılarından hangilerine ulaşılabilir?

- A) Yalnız I. B) I ve II. C) II ve III. D) I, II ve III.

7.

ASELSAN'dan sağlığa büyük yatırım. Dünyayı etkisi altına alan COVID-19 virüsü salgını ile mücadelede kullanılan en önemli tıbbi cihazlardan biri yoğun bakım mekanik ventilatör cihazlarıdır. Yaşam-sal fonksiyonları destekleyen en önemli cihazlardan olan ventilatör cihazı, hastanın nefes alıp vermesine destek olarak kullanılmakta, bu işlevin yerine getirilemediği durumda ise solunum işlevini devralabilmektedir. Yoğun bakımlarda solunum yetmezliği sebebi ile yatan hastalara uygulanan tedavinin en önemli unsurlarındandır. Böyle bir ortamda ASELSAN, BAYKAR, ARÇELİK ve BIOSYS firmaları yerli ventilatör cihazının ülkemize kazandırılması için iş birliği yaparak yoğun çaba harcadı ve ürünü seri üretime hazır hale getirdi.

Verilen bilgilere göre aşağıdakilerden hangisi söylenemez?

- A) Firmaların en temel amacı reklam yapmaktır.
B) Ülkemizde AR-GE çalışmaları ürünlere dönüşmüştür.
C) Bilim ve teknolojiye hızlı gelişmeler yaşanmaktadır.
D) Tıp sektöründe yenilikçi çalışmalar görülmektedir.

1.


TÜBA-KED Türkiye Bilimler Akademisi "kültür varlığı" tanımını en geniş yelpazesi ile toprak-su altın da ya da üstünde olan, geçmiş dönemlere a ya da geçmiş dönemlerden günümüze kada süregelen, her türlü maddi kalıntı, kültürel doğal çevre ya da sözlü geleneği kapsayacak biçimde ele alır.

TÜBA-AR TÜBA-AR dergisi ilke olarak, dönem ve coğrafi bölge sınırlaması olmadan arkeoloji ve arkeoloji ile bağlantılı tüm alanlarda yapılan yeni araştırma, yorum, değerlendirme ve yöntemleri kapsar.

TÜBA tarafından yayımlanan dergiler ile ilgili aşağıdakilerden hangisi söylenemez?

- A) Kültür- tarih çalışmalarının bilime uygun şekilde yapılmasına sağlar.
- B) Bilimsel gelişmeleri topluma basın-yayın yolu ile aktarır.
- C) Sosyal bilimlerin gelişmesine katkı sağlar.
- D) Ülkemizde bilimsel dergiler yalnızca TÜBA tarafından yayınlanır.

2.

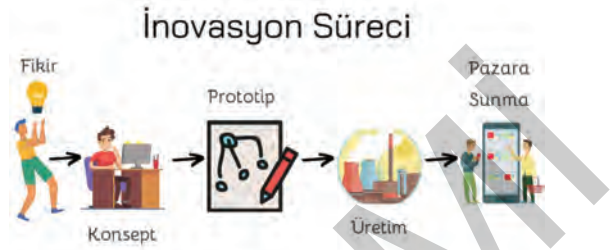


Kayseri Büyükşehir Belediyesi'nden Akıllı Kavşak Kavşaklara yerleştirilen sensörler ile otomatik sayımlar yapılarak aracın daha fazla olduğu yola verilecek geçiş üstünlüğü otomatik olarak belirlenmektedir. Böylece ara sayısının fazla olduğu geçişlerde gereksiz bekleme sürelerine önüne geçilmiş, trafik yoğunluğu azaltılarak araçların yakıt tasarrufuna katkıda bulunulmuş, şehirdeki araçların sera gazı yayılım oranı en aza indirilmiştir.

Akıllı Şehirler Projesi kapsamında Kayseri'de yapılan "Akıllı Kavşak" ile ilgili aşağıdakilerden hangisi söylenemez?

- A) Trafikte bekleme süresi azalır.
- B) Doğal afetlerin etkisi azalır.
- C) Ulaşım daha güvenli hale gelir.
- D) Enerji tasarrufu sağlanır.

3.



İnovasyon; işletme içi uygulamalarda, iş yeri organizasyonlarında veya dış ilişkilerde yeni veya önemli derecede iyileştirilmiş bir ürün, mal veya hizmette yeni bir pazarlama yönteminin uygulanmasıdır.

Verilen bilgilere göre aşağıdakilerden hangisi inovasyona örnek olamaz?

- A) TÜBİTAK bünyesinde tam elektrikli hareket sistemleri ile çalışan araçların geliştirilmesi
- B) Katlanabilir cep telefonlarının pazarlanması
- C) Evdeki sıcak su ihtiyacının odun ateşiyle sağlanması
- D) Güneş ışığında renk değiştiren tişörtlerin pazarlanması

4.

Milli Eğitim Bakanlığı ile TÜBİTAK arasında imzalanan anlaşma gereğince ortaokul ve lise öğrencilerine farklı bilim dallarını tanıtmak, merak uyandırmak, sevdirmek amacıyla eğitim- öğretim programı çerçevesinde ve öğrencilerin ilgi alanları doğrultusunda araştırma yapmaları sağlanıp, bu araştırmaların sonuçlarını sergilemeleri, izleyicilerle birlikte eğlenerek öğrenmeleri sağlanmaya çalışılmıştır.

Verilen bilgilere göre aşağıdakilerden hangisi söylenemez?

- A) Bilim fuarlarından kâr elde etmek amaçlanmıştır.
- B) Öğrencilerin bilimle buluşması amaçlanmıştır.
- C) Öğrenen ve araştıran genç dinamik alt yapı oluşturulması amaçlanmıştır.
- D) Bilim kültürünün yaygınlaşması amaçlanmıştır.

Test - 1

Kaynaklarımız Kazanca Dönüşüyor

1. Aşağıdaki tabloda ülkemizdeki ekili - dikili alanların bölgelerin yüz ölçümlerine göre oranları verilmiştir.

İç Anadolu Bölgesi	% 27
Ege Bölgesi	% 24
Marmara Bölgesi	% 30
Akdeniz Bölgesi	% 18
Karadeniz Bölgesi	% 16
Doğu Anadolu Bölgesi	% 10
Güneydoğu Anadolu Bölgesi	% 20

Verilen tabloya göre;

- Ülkemizde en fazla ekili-dikili alan Marmara Bölgesi'ndedir.
- Tarım alanlarının bölgelere göre dağılışı oranı farklılık göstermektedir.
- En az ekili dikili alana sahip olan bölge Akdeniz Bölgesidir.

Çıkarımlarından hangilerine ulaşılabilir?

- A) Yalnız II. B) Yalnız III. C) II ve III. D) I, II ve III.

2. Üç tarafı denizlerle çevrili olan ülkemizde çok sayıda akarsu ve göl bulunmaktadır. Deniz, akarsu ve göllerden çeşitli ekonomik faaliyetler için yararlanılmaktadır.

Buna göre, aşağıdakilerden hangisi su kaynaklarına bağlı olarak gelişen ekonomik faaliyetler arasında yer almaz?

- A)  Elektrik Üretimi
- B)  Madencilik
- C)  Yaz Turizmi
- D)  Balıkçılık

3. Büyükbaş hayvancılık; sığır, inek, manda gibi hayvanların yetiştirilmesine dayalı olan ekonomik faaliyettir. Yaz mevsiminin yağışlı geçtiği çayır ve meraların geniş yer kapladığı dağlık ve engebeli arazilerde insanların temel geçim kaynağıdır. Ülkemizde Doğu Karadeniz ve Doğu Anadolu'da büyükbaş hayvancılık gelişmiştir.

Verilen açıklamaya göre;

- İklim
- Bitki örtüsü
- Yer şekilleri

faktörlerinden hangilerinin büyükbaş hayvancılık üzerinde etkili olduğu söylenebilir?

- A) Yalnız I. B) I ve III. C) II ve III. D) I, II ve III.

4. Ülkemiz yer altı ve yer üstü kaynakları bakımından oldukça zengindir. Toprak, su, ormanlar ve madenler doğal kaynaklardır. Toprağın işlenmesi ile tarım; tarım ürünlerinin alınıp satılması ile ticaret; doğal güzelliklerin bulunduğu yerlerde turizm; madenlerin çıkarıldığı yerlerde madencilik gibi ekonomik faaliyetler ortaya çıkmıştır.

Verilen bilgilerden yararlanarak;

- Doğal kaynaklar, ekonomik faaliyetlerin temelini oluşturur.
- İnsanlar doğal kaynaklardan çeşitli şekillerde yararlanırlar.
- En yaygın ekonomik faaliyet tarımdır.

Çıkarımlarından hangilerine ulaşamaz?

- A) I ve II. B) Yalnız III. C) II ve III. D) I, II ve III.

5. Güneydoğu Anadolu Projesi (GAP) bölgedeki su kaynaklarını özellikle Fırat ve Dicle Nehirlerini etkili kullanarak sosyal, kültürel, ekonomik ve çevresel kalkınmayı içeren bölgesel bir kalkınma projesidir. GAP'la birlikte: Şanlıurfa kısa zamanda pamuk üretiminde ülke birincisi olmuş, pamuklu dokuma fabrikaları açılmıştır. Ayrıca GAP, bölgenin tarihi ve doğal güzelliklerinin farkedilmesini sağlamıştır.

Verilen açıklamada GAP'ın;

- Tarım
- Turizm
- Hayvancılık
- Sanayi

alanlarından hangisi üzerindeki etkilerine değinilmemiştir?

- A) I B) II C) III D) IV

6. Göl suları, bulunduğu bölgenin arazi yapısı, yükselti ortalaması ve iklim özellikleri gibi nedenlerden dolayı farklı özelliklere sahiptir. Bu durum göllerden balıkçılık, içme suyu, elektrik üretimi, turizm, sulama ve tuz elde etme gibi farklı alanlarda yararlanmamızı sağlamaktadır.

Buna göre göllerden;

- I. Ulaşım,
- II. Enerji üretimi,
- III. Askeri,
- IV. Tarım,

gibi alanlarından hangilerinde yararlanıldığı söylenebilir?

- A) I ve III. B) II ve IV.
C) I ve II. D) III ve IV.

7. Doğu Anadolu Bölgesi'nde arazinin dağlık ve engebeli olması, yükseltinin fazlalığı, uzun süren kış şartları ve ulaşım zorluğu ekonomik faaliyetleri etkilemiştir. Tarım alanlarının yetersiz olması ve yaz yağışlarından dolayı çayır ve meraların geniş yer kaplaması bölgede en önemli ekonomik faaliyetlerin büyükbaş hayvancılık olmasını sağlamıştır. En fazla yetiştirilen tarım ürünü hayvan yemi olarak da kullanılan arpadır. Coğrafi özelliklerinden dolayı bölgede sanayi yeterince gelişmemiştir.


Verilen bilgiye göre, Doğu Anadolu Bölgesi ile ilgili;

- I. Yeryüzü şekilleri ve iklim özellikleri ekonomik faaliyetler üzerinde etkilidir.
- II. Bölgede tarım alanları sınırlıdır.
- III. Yer altı kaynakları ve elektrik enerjisi üretimi ile ülke ekonomisine katkı sağlar.

yargılarından hangilerine ulaşılabilir?

- A) Yalnız I. B) I ve II. C) Yalnız III. D) II ve III.

8.



Yukarıda verilen grafiğe göre;

- I. En fazla düşüşün tahıllar ve diğer bitkisel ürünlerde olacağı öngörülmüyor.
- II. Ülkemizde en fazla yetiştirilen tarım ürünü sebzelerdir.
- III. Tarımsal üretimdeki düşüşün en önemli nedeni iklim değişikliğidir.

yargılarından hangilerine ulaşılabilir?

- A) Yalnız I B) I ve II C) Yalnız III D) II ve III

1.

TANIM	Demokrasi, halkın kendi kendini yönetme esasına dayanan bir yönetim şeklidir.
DURUM	Ülkemizde seçilen Cumhurbaşkanının görev süresi beş yıldır.
İLKELER	1. 2. 3.

Cumhurbaşkanı'nın seçimle göreve başlaması demokrasinin aşağıdaki ilkelerinden hangisi ile ilgilidir?

- A) Hukukun üstünlüğü
- B) İnsan haklarına saygı
- C) Çoğulculuk
- D) Katılımcılık

2. Aşağıdaki bilgilerin karşılıkları bulmacadaki satırlara yazılacaktır.

1. Tek kişinin egemenliğine dayalı yönetim biçimidir.(.....)
2. Egemenliğin belli bir zümrenin elinde bulunduğu yönetim şeklidir.(.....)
3. Devletin dini kurallara göre yönetildiği yönetim şeklidir.(.....)
4. Egemenliğin halka ait olduğu yönetim şeklidir.(.....)

	1	2	3	4	5	6	7	8	9	10
1										
2										
3										
4										

Buna göre bulmacanın 4. Sütununda yer alan harfler aşağıdakilerden hangisidir?

- A) N
G
O
U
- B) A
G
K
H
- C) A
İ
K
R
- D) R
A
E
M

3.



Teokrasi; devlet ve toplum kurallarının din kurallarına göre belirlendiği yönetim biçimidir.

Aşağıdakilerden hangisi Sibel Öğretmen'in açıklamasında yer alan yönetim biçimine uygun bir özellik değildir?

- A) Yöneticilerinin din adamı olması
- B) Alınan kararların dine uygun olması
- C) Yasaların halk meclisinde değerlendirilmesi
- D) Yöneticilerin Tanrı'ya karşı sorumlu olması

4.

Demokrasi halkın seçme ve seçilme hakkını kullandığı ve kendisinin mecliste araçlar ile temsil edildiği bir yönetim anlayışıdır. Demokrasilerde halk, yöneticilerini kendisi seçer. Kişi hak ve özgürlüklerini kanunla güvence altına alır.

Metne göre demokrasinin tam olarak uygulandığı ülkelerde aşağıdakilerden hangisi görülmez?

- A) Yönetimin, insan haklarına saygılı olması
- B) Halkın sivil toplum kuruluşları kurabilmesi
- C) Siyasi gücün bir zümrenin elinde bulunması
- D) Bir konuda seçim yapmak için farklı seçeneklerin olması

5.



Yönetim şeklimde her şey benim elimdedir. Babamdan miras kalan görevi üstlendim. Bana kral, padişah, imparator ve hükümdar gibi unvanlarla seslenirler. Babam hep anlatırdı; yüzyıllardır devletimizi böyle yönetiriz. Benim verdiğim karara kimse itiraz edemez. Ben ömrümün sonuna kadar tahta kalacağım. Yasa koyma, yargılama, savaş ve barışa karar verme de bana aittir.

Verilen bilgilere göre aşağıdakilerden hangisi söylenemez?

- A) Yöneticilerin belli bir görev süresi yoktur.
- B) Ülke ile ilgili kararlarda tek kişi hakimdir.
- C) Hükümdar ülkeyi bir meclisle beraber yönetir.
- D) Hükümdarlık babadan oğla geçmektedir.

Test - 1

Nasıl Bir Yönetim

6.

ÖZGÜRLÜK

Kişinin başkalarına zarar vermeden ve kanunlara aykırı olmadan dilediğini düşünebilmesi ve yapabmesidir.

EŞİTLİK

İnsanların dini, dili, inancı, ekonomik gücü, cinsiyeti, ırkı ne olursa olsun yasalar önünde eşittir.

KATILIMCILIK

Demokratik yönetimlerde halk, seçme ve seçilme sivil toplum kuruluşları kurma vb. yollarla ülke yönetimine katılır.

Yukarıdaki bilgilere göre aşağıdakilerden hangisinin demokrasilerde olduğu söylenemez?

- A) Kişiler arasında ayırım olmadan hakları kullanılmasını
- B) Seçimlerde birden fazla partinin aday gösterilmesini
- C) Farklı fikirlerin mecliste ifade edilebilmesini
- D) Seçilen kişinin ömür boyu yönetimde kalmasını

8.



Monarşi

Devleti yönetme yetkisinin tek/bir kişinin elinde olduğu yönetim biçimidir. Örneğin; 19. yüzyıla kadar Osmanlı Devleti



Oligarşi

Egemenliğin yani yönetme yetkisinin belli bir grubun ya da küçük bir azınlığın elinde olduğu yönetim şeklidir. Örneğin; Suriye



Teokrasi

Dini kuralların devlet yönetiminde etkili olduğu yönetim biçimidir. Örneğin; Vatikan



Cumhuriyet

Egemenliğin halka ait olduğu, halkın yöneticiyi seçimle belirlediği yönetim şeklidir. Örneğin; Türkiye

Verilen diyagrama göre;

- I. Yöneticilerin görev şekilleri farklıdır.
- II. Monarşi yönetiminde eşitlik anlayışından söz edilemez.
- III. Farklı ülkelerde farklı yönetim biçimleri görülebilir.

yargılarından hangilerine ulaşılabilir?

- A) Yalnız I.
- B) Yalnız II.
- C) I ve II.
- D) I, II ve III.

7.



Cumhuriyet; egemenliğin kaynağının millete ait olduğu yönetim biçimidir. Devleti yönetecek kişiler seçimle iş başına gelirler. Bütün vatandaşlar kanun önünde eşittir. Kişi hak ve özgürlükleri anayasa ve yasalar ile güvence altına alınmıştır. Cumhuriyet yönetimi ancak demokrasi ilkelerinin etkili olduğu ülkelerde uygulanabilir.

Verilen bilgilere göre cumhuriyet ile ilgili aşağıdakilerden hangisi söylenemez?

- A) Halk verilen kararlara itiraz edemez.
- B) Demokratik bir özelliğe sahiptir.
- C) Yönetenler belli bir süreliğine iş başına gelir.
- D) Eşitlik ilkesinin esas alınır.

6.



Türkiye'nin ortak dil, tarih ve kültürel bağlarının bulunduğu bu ülkelerle ilişkileri birçok alanda ortak yarar temelinde hızla geliştirmiştir. Günümüzde Türk Cumhuriyetleriyle ekonomik, kültürel, siyasi ve sosyal ilişkiler devam etmektedir. Bu ilişkileri sağlayan bazı kuruluşlar vardır.

Meryem Öğretmen'in açıklamasında bahsettiği kuruluşlara aşağıdakilerden hangisi örnek olarak verilemez?

- A) Türk İş Birliği ve Koordinasyon Başkanlığı (TİKA)
- B) Uluslararası Türk Kültürü Teşkilatı (TÜRKSÖY)
- C) Türk Dili Konuşan Ülkeler İşbirliği Konseyi (TDİK)
- D) Karadeniz İş Birliği Teşkilatı (KİT)

7.



Önemli bir enerji koridoru olan Türkiye, Türk Cumhuriyetlerinin doğal gaz ve petrolünün Batı'ya aktarılmasında etkin bir görev üstlenmektedir. Ekonomik açıdan da bölge ülkeleriyle ticari ilişkileri geliştirmeyi ve Hazar Denizi kaynaklarının nakli konusunda avantajlı bir konumdadır. Bu doğrultuda önemli projelerden birisi olan Azeri doğal gazını Türkiye üzerinden Avrupa'ya taşıyan Trans Anadolu Doğal Gaz Boru Hatı'nın (TANAP) açılışı 12 Haziran 2018'de gerçekleşti.

Türkiye bu doğal gaz hattı ile;

- I. Ekonomik,
- II. Enerji,
- III. Askeri,

alanlarından hangilerinde etkinliğini arttırmıştır?

- A) Yalnız I. B) I ve II. C) II ve III. D) I, II ve III.

8.

2008 - 2014 Yılları Arası
426
Proje ve Faaliyet

Bosna - Hersek

- 23 STK Kapasite Artırım Projeleri
- 19 Kültür Projeleri
- 8 Medya Projeleri
- 103 Eğitim Projeleri
- 18 Sağlık Projeleri
- 34 Restorasyon Projeleri
- Orman Projeleri
- Tarım ve Hayvancılık Projeleri
- Konferans Sempozyum Panel/Fuar Projeleri
- Mesleki Eğitim Projeleri
- Kurumsal Kapasite Artırım Projeleri

Görselde verilen bilgilere göre;

- I. TİKA farklı alanlarda Bosna Hersek'e destek olmuştur.
- II. TİKA projelerden yüksek kazanç elde etmiştir.
- III. TİKA uluslararası alanda faaliyetler yürütmektedir.

Yargılarından hangilerine ulaşılabilir?

- A) Yalnız I. B) I ve II. C) I ve III. D) I, II ve III.

1. 2 Temmuz 1993 tarihinde kurulan TÜRKSOY'un amacı Türk kökenli ve Türk dili konuşan Türk devletleri ve halklarının birbirlerini daha iyi anlamalarını sağlamak, kültür ve sanatın korunması, yeniden canlandırılması ve gelişmesi yönünde faaliyette bulunmaktadır.

Verilen bilgilere göre TÜRKSOY ile ilgili aşağıdakilerden hangisi söylenemez?

- A) Uluslararası kültürlerin kaynaşmasını sağlar
B) Türk kültürünün korunmasını sağlar
C) Azerbaycan, Özbekistan, Kazakistan başlıca üyelerindedir.
D) Büyük askeri projelerin hayata geçirilmesini sağlar
2. 1992 senesinde kurulan ve yedi bağımsız Türk Cumhuriyeti'yle otuza yakın Türk bölgesinden binlerce öğrenciye hizmet veren Uluslararası Ahmed Yesevi Türk-Kazak Üniversitesi, Türk Cumhuriyetleri ve toplulukları arasındaki her türlü iletişim ve ilişkide önemli rol oynamaktadır. Üniversitenin Türkiye Türkçesiyle Uzaktan Eğitim Programlarının (TÜRTEP) koordinasyonu da Ankara'daki birimlerden yürütülmektedir.

Bu durum devletler arasında aşağıdakilerden hangisinin sağlanmasında etkili olmaz?

- A) Ekonomik ilişkiler
B) Kültürel ilişkiler
C) Siyasi mücadeleler
D) Uluslararası dayanışma

1. Ülkemizde ve dünyada barış ortamına katkıda bulunmak	A.	Tam bağımsızlık
2. Uluslararası ilişkilerde devletlerin siyasi olarak eşit olması	B.	Devletlerin eşitliği
3. Milli sınırlar içinde bağımsız yaşamak	C.	Yurtta sulh, cihanda sulh

Tablodaki açıklamaların dış politika ilkelerimiz ile eşleştirilmesi aşağıdakilerden hangisinde doğru verilmiştir?

- A) 1-A, 2-B, 3-C
B) 1-C, 2-B, 3-A
C) 1-B, 2-A, 3-C
D) 1-C, 2-A, 3-B

4.

TRT AVAZ

TRT AVAZ, yayın coğrafyasını oluşturan Türk ve Türk soylu halklar ile kardeş topluluklara yönelik özel içerikli programlar hazırlamaktadır. Buna ek olarak ikili ve çoklu kültürel ilişkilerin gelişmesine de katkı sağlamakta, yeni iş birliği alanlarının doğmasına vesile olmaktadır. TRT AVAZ kanalında Orta Asya, Kafkasya, Türkiye ve Balkanlar ile yayınlarının ulaştığı diğer ülkelere yönelik haber, kültür, sanat, eğitim, müzik, eğlence, belgesel ve yarışma programlarına yer verilmektedir.

Verilen bilgilere göre aşağıdakilerden hangisi söylenemez?

- A) Türk devletleri arasında yakınlaşmayı sağlar.
B) Türk kültürünün tanıtılmasında etkilidir.
C) Türki cumhuriyetlerin bağımsızlığını kazanmasında etkilidir.
D) TRT AVAZ birçok farklı alanda faaliyet göstermektedir.

5.



Kosova'lı Süt Üreticilerinin Desteklenmesi Projesi

Proje ile işsizliğin yoğun olarak yaşandığı Mitroviça, Viçitırın ve Priştine bölgelerinde hijyenik koşullar altında sütün sağılarak, soğuk zincirde süt toplama merkezlerine nakledilmesi için kapasitenin geliştirilmesi amaçlandı. Proje çerçevesinde, 275 süt üreticisi aileye modern ekipman desteği verilerek süt kalitesinin artırılması ile Kosova Hükümeti Tarım Bakanlığı tarafından her yıl süt kalitesine göre çiftçilere sunulan destekten proje gruplarının faydalanması sağlandı.

TİKA'nın desteklediği proje ile ilgili aşağıdakilerden hangisi söylenebilir?

- A) Ülkeler arasında yardımlaşma kültürü gelişmiştir
B) En iyi süt Kosova'da üretilmektedir.
C) Kosova birden fazla ülkeye süt satmaktadır.
D) Proje kısa sürede sona ermiştir.