

5. SINIF

BENİM

SOSYAL BİLGİLER

Akıllı tahtaya uyumludur.

KİM KORKAR

adım adım yeni nesile geiş

SORU
BANKAM



5. SINIF

BENİM SOSYAL BİLGİLER KİM KORKAR SORU BANKAM



ISBN 978-625-7868-47-1

YAZAR OLCAY GÖKTEPE



DİZGİ GRAFİK
Örnek Akademi

BASKI KORZA MATBAA



www.ornekacademi.com



/ornekacademi



ÖRNEK AKADEMİ

Adres : İvedik Caddesi No: 253/B Yenimahalle/Ankara

Tel : 0 530 467 61 94

Mail : bilgi@ornekacademi.com

Bu kitabın basım, yayım ve satış hakları Örnek Akademi Basın Yayın Dağ. Eğ. Dan. San. ve Tic. Ltd. Şti'ye aittir. Herhangi bir şekilde izin alınmadan, yayınların tümü ya da bir kısmı, mekanik, fotokopi, elektronik ortam ve benzeri başka yöntemlerle kayıt altına alınamaz, çoğaltılamaz, basılamaz, dağıtılamaz.

Değerli Meslektaşlarımız,

Sevgili Öğrenciler

İletişim çağındaki gelişmeler, bilginin hızla yenilenmesi ve yayılmasını sağlamaktadır. Bu durum, doğal olarak eğitim-öğretimin her alanını etkiliyor. Artık klasik eğitim yaklaşımlarının değişimlere uyum sağlaması mümkün görünmüyor. Çoklu zeka ve yapılandırıcı eğitimin tüm aşamalarının okullarda ve diğer eğitim kurumlarında kullanılması bir zorunluluk oldu.

Millî Eğitim Bakanlığı'nın ortaokulların tüm sınıf düzeylerinde uyguladığı yeni yaklaşımlar, beraberinde yeni materyalleri, yardımcı malzemeleri gerekli kılıyor.

Örnek Akademi Yayınları olarak bizler, tüm sınıf düzeylerinde yukarıda sözünü ettiğimiz yaklaşım doğrultusunda yepyeni ürünlerle karşınıza çıkıyoruz.

Eğitim-öğretim hayatının önemli bir döneminde olan 5. Sınıf öğrencilerimizin elde edecekleri başarı yolunda "Kim Korkar Sosyal Bilgiler Soru Bankası" kitabımız, büyük bir eksiği dolduracaktır.

Başarı dileklerimizle!



1. ÜNİTE	BİREY VE TOPLUM.....	5
2. ÜNİTE	KÜLTÜR VE MİRAS.....	22
3. ÜNİTE	İNSANLAR, YERLER VE ÇEVRELER.....	49
4. ÜNİTE	BİLİM, TEKNOLOJİ VE TOPLUM	78
5. ÜNİTE	ÜRETİM, DAĞITIM VE TÜKETİM.....	97
6. ÜNİTE	ETKİN VATANDAŞLIK.....	124
7. ÜNİTE	KÜRESEL BAĞLANTILAR	145
	CEVAP ANAHTARI	170

BİREY VE TOPLUM

ÜNİTE

1 2 3

1.



BURAK

Merhaba, benim adım Burak. Geçtiğimiz günlerde aldığım bir ürün bozuk çıktı. Sosyal bilgiler dersinde tüketici haklarımı öğrendiğim için bozuk ürünü mağazaya götürüp yenisiyle değiştirdim.

Açıklamaya göre Burak ile ilgili aşağıdakilerden hangisi söylenemez?

- A) Bilinçli bir tüketicidir.
- B) Haklarını iyi bilir.
- C) Kendini ifade edemez.
- D) Etkin bir vatandaşdır.

2. Sosyal bilgiler dersinde öğrendiğimiz bazı konular şunlardır:



Buna göre sosyal bilgiler dersinin bizleri hangi alanda geliştirdiği söylenebilir?

- A) Müzik sevgimiz
- B) Ulusal bilincimiz
- C) Doğa sevgimiz
- D) Spor becerilerimiz

3. Aşağıdakilerden hangisi sosyal bilgiler dersinde öğrenilenlerin davranışa dönüştüğüne kanıt olarak gösterilemez?

- A) "Haklarım" konusundan sonra Elif'in ürün alırken daha dikkatli olması
- B) "Katılım hakkı ve özgürlük" konusundan sonra Selin'in farklı fikirlere saygılı olması
- C) "Afetler ve çevre" konusundan sonra Ecrin'in çevresindeki olaylara karşı duyarsız davranması
- D) "Halka hizmet edenler" konusundan sonra Emre'nin Kızılay' a üye olması

4.



5. sınıf öğrencisi Ali okula giderken yol kenarına atılmış çöpleri görmüş ve bundan rahatsız olmuş; çöplerin toplanması ve çevreye atılmaması için yol kenarına çöp tenekeleri konulması konusunda belediyeye dilekçe vermiştir.

Buna göre Ali'nin yaptıklarıyla ilgili aşağıdakilerden hangisi söylenemez?

- A) Duyarlı bir vatandaşdır.
- B) Çevresinde yaşananlara karşı ilgisizdir.
- C) Sorunların çözümüne katkı sağlar.
- D) Toplumsal sorunlarla ilgilenir.

5.

Sosyal bilgiler vatandaş olarak haklarımızı ve sorumluluklarımızı bilmemizi sağlar.

Buna göre sosyal bilgiler dersinin bireye;

- I. Etkin ve duyarlı bir vatandaş olma,
- II. Seçimlerde oy kullanma,
- III. Sorumluluk bilinciyle hareket etme

davranışlarından hangilerini kazandırdığı söylenebilir?

- A) Yalnız I
- B) Yalnız II
- C) I ve II
- D) I, II ve III

6. Yusuf, sosyal bilgiler dersinde gördüğü konulardan sonra,
- ★ Çevresindeki olaylara daha duyarlı hale gelmiştir.
 - ★ Akşam eve geldiğinde annesine yardım etmiştir.
 - ★ Sivil toplum kuruluşlarına üye olup gönüllü olarak çalışmalara katılmıştır.

Buna göre sosyal bilgiler dersinin Yusuf' a aşağıdakilerden hangisini kazandırdığı söylenebilir?

- A) Toplumda sorumlu bir birey olmak
B) Kitap okumaya özen göstermek
C) Arkadaşlarıyla iyi geçinmek
D) Ödevlerini zamanında yapmak

7.



Kavram haritasına bakılarak etkin vatandaşla ilgili;

- I. Görev ve sorumluluklarının bilincindedir.
- II. Ekonomik ve siyasî sorumlulukları vardır.
- III. Çeşitli sorunların çözülmesi amacıyla yasa çıkarır.

yargılarından hangilerine ulaşılabilir?

- A) Yalnız I B) Yalnız II C) I ve II D) II ve III

1. Müzeleri ziyaret ederek geçmiş dönemlerde Anadolu'da yaşayan uygarlıklardan günümüze ulaşan eserleri görebiliriz. Bu eserler incelendiğinde, eserin bulunduğu bölgede geçmişte yaşamış insan toplulukları ile ilgili fikir sahibi olunabilir.

Buna göre;

- I. Anadolu, birçok medeniyete ev sahipliği yapmıştır.
- II. Müzelerde bulunan eserlerin çoğu kazı çalışmaları sonucunda ortaya çıkarılmıştır.
- III. Uygarlıklardan günümüze ulaşan eserler, ait olduğu döneme ışık tutmaktadır.

yargılarından hangilerine ulaşılabilir?

- A) I ve II B) Yalnız III C) I ve III D) II ve III

2.



İlk medeniyetlerin Mezopotamya'da kurulmasında bölgenin verimli topraklara ve zengin su kaynaklarına sahip olması etkili olmuştur.

Buna göre ilk medeniyetlerin Mezopotamya'da kurulmasında aşağıdakilerden hangisinin etkili olduğu söylenebilir?

- A) Yer altı kaynakları
- B) Beşeri unsurlar
- C) Doğal güzellikler
- D) Coğrafi özellikler

3. Sümerler inşa ettikleri zigguratların en üst katında bir gözlemevi kurmuşlar ve buradan gökyüzünü inceleme fırsatı bulmuşlardır.

Buna göre Sümerler'in hangi bilim dalında ileri oldukları söylenebilir?

- A) Astronomi B) Biyoloji
C) Tarih D) Felsefe

4. Hülya Öğretmen derste;

"Asurlar ticaretle uğraşmışlardır. Kayseri Kültepe'deki ticaret kolonileri kalıntıları, Asurların Anadolu'da da ticari faaliyetlerde bulduklarını göstermiştir" demiştir.

Verilen bu bilgiye göre aşağıdakilerden hangisine ulaşılabilir?

- A) Geçmiş kalıntılar geleceğe bilgi aktarır.
- B) Asurlar tüm Anadolu'ya hakim olmuşlardır.
- C) Asurlar, Mezopotamya'nın kuzeyinde kurulmuştur.
- D) Uygarlıkların kalıntıları günümüze ulaşamamıştır.

5.



Lidyalılar, parayı icat ederek, ticari hayatta kullanılan takas (değiş-tokuş) usulünü sona erdirmişlerdir. Tarihteki ilk ticaret yolu olan Kral Yolu'nun bir kısmını inşa etmişlerdir. Doğu ile batı arasında ticaretin gelişmesine katkı sağlayan Kral Yolu sayesinde Lidyalılar, ticarete merkez konumuna gelmişlerdir.

Verilen bilgide Lidyalıların hangi alandaki faaliyetlerine değinilmiştir?

- A) Askeri B) Ekonomik
C) Siyasi D) Kültürel

6.



Verilen görsellere dayanılarak Hititlerin;

- I. Tarım,
- II. Ticaret,
- III. Dokumacılık,
- IV. Madencilik

gibi ekonomik faaliyetlerden hangisi ile ilgilendikleri söylenebilir?

- A) I B) II C) III D) IV

8.



"Ben Asur tüccarlarından Nihalan. Biz Asurlar Mezopotamya ve Anadolu arasında ticaret yaparak geçiniriz. Dünyanın en büyük kütüphanesini bizler inşa ettik; Sümerlerden öğrendiğimiz çivi yazısını Anadolu'ya bizler getirdik. Hititler de bizden bu yazıyı öğrenerek tüm Anadolu'ya yaymıştır."

Buna göre Asurlar ile ilgili;

- I. Kültürel faaliyetlerde bulunmuşlardır.
- II. Medeniyetler arası köprü görevi görmüşlerdir.
- III. Dönemin en gelişmiş devletidir.

yorumlarından hangileri yapılabilir?

- A) Yalnız I B) Yalnız II C) I ve II D) I, II ve III

7. Ben Babil kralı Hammurabi: Hazırladığım kanunlara göre;

"Bir kişi başka bir kişinin özgürlüğünü kısıtlayacak şekilde hareket ederse aynı ceza ona verilir."

Buna göre Hammurabi Kanunları ile ilgili aşağıdakilerden hangisi söylenebilir?

- A) Kısas usulü uygulanmıştır.
- B) Diğer uygarlıklar tarafından da benimsenmiştir.
- C) İnsan haklarına önem verilmiştir.
- D) Özel mülkiyeti korumuştur.

Test - 1

Yeryüzü Şekilleri

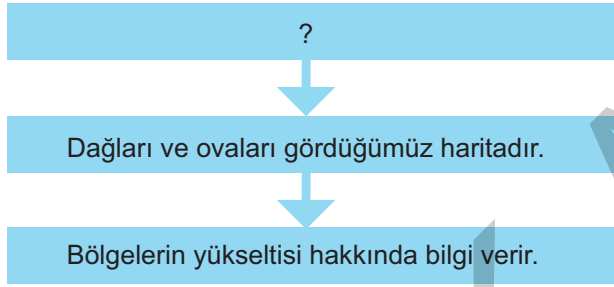
1. Fiziki haritalarda yükselti ve derinlik basamaklarını ifade etmek için farklı renkler kullanılır.

Yeşil renk: 0-200 m arasında bulunan yükseltileri gösterir.

Buna göre Türkiye fiziki haritasında aşağıdakilerden hangisi yeşil renk ile gösterilir?

- A) Haymana Platosu B) Hasan Dağı
C) Konya Ovası D) Nemrut Dağı

2.



Verilen diyagramda "?" gösterilen yere aşağıdakilerden hangisi yazılmalıdır?

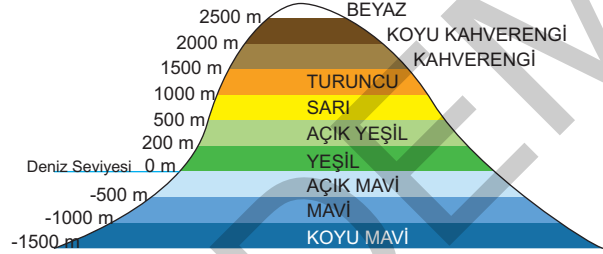
- A) Fiziki harita B) Siyasi harita
C) Kabartmalı harita D) Ölçekli harita

3. Ülkemizde genellikle tarım ve hayvancılık amacıyla yararlanılan, çevresine göre yüksekte kalan, akarsular tarafından parçalanmış geniş yüzey şekilleridir.

Verilen bilgi, aşağıdakilerden hangisi ile ilgilidir?

- A) Vadi B) Plato
C) Körfez D) Boğaz

4. Yükselti basamaklarına göre yeryüzü şekillerinin dağılışını gösteren haritalara fiziki harita denir. Fiziki haritalarda renkleri doğru okuyarak yaşadığımız yerin yeryüzü şekilleri hakkında bilgi sahibi olabiliriz. Fiziki haritalarda yükselti ve derinlik basamaklarını ifade etmek için kullanılan renkler aşağıda gösterilmiştir.



Buna göre 1450 metre yüksekliğe sahip bir dağ, fiziki haritada, aşağıdaki renklerden hangisi ile gösterilir?

- A) Açık Yeşil B) Kahverengi
C) Sarı D) Turuncu

5. **Türkiye fiziki haritasında koyu kahverengi ile gösterilen yer ile ilgili aşağıdakilerden hangisi kesin olarak söylenebilir?**

- A) Deniz kenarında olduğu
B) Yükseltisinin 1500 m'den fazla olduğu
C) Tarıma elverişli olduğu
D) Ulaşımın kolay olduğu

6.

MARMARA BÖLGESİ



Görselden hareketle Marmara Bölgesi'nde;

- I. Boğaz
- II. Ada
- III. Yarımada

gibi yeryüzü şekillerinden hangilerinin bulunduğu söylenebilir?

- A) Yalnız I B) Yalnız II
C) I ve II D) I, II ve III

7.

Haritalarda yeryüzü şekilleri, yerleşim yerleri, yollar, yükselti değerleriyle ilgili bilgiler çeşitli renkler, işaret ve sembollerle gösterilir. Haritaların sağ alt köşelerinde bulunan ve haritalardaki renk ve sembollerin ne anlama geldiğini gösteren bölüme -----?----- denir

Verilen açıklamada "?" ile gösterilen yere aşağıdakilerden hangisi getirilmelidir?

- A) Ölçek B) Lejant
C) Düzlem D) Bölüm

8.



Kerem 5. sınıfa giden bir öğrencidir. Öğretmeni derste Kerem'e "Fiziki haritalarda kahverenginin yoğun olarak görüldüğü Doğu Anadolu Bölgesi ile ilgili neler söyleyebiliriz?" diye sorar.

Kerem aşağıdakilerden hangisini söylerse yanlış cevap vermiş olur?

- A) Yükseltinin fazla olduğu B) Ulaşımın zor olduğu
C) Hayvancılık için uygun olduğu D) Tarıma elverişli olduğu

1. Her icat gibi teknolojinin gelişiminde de insanların ihtiyaçları etkili olmuştur. Teknolojinin hayatımıza girmesiyle gündelik yaşamımız biraz daha kolay hale gelmiş, teknoloji sayesinde haberleşme ve ticari faaliyetler hız kazanmıştır.

Yukarıda teknoloji ile ilgili aşağıdakilerden hangisine değinilmemiştir?

- A) Teknolojinin kullanıldığı alanlar
B) Teknolojinin yaşamımıza etkileri
C) Teknolojinin ortaya çıkışı
D) Teknolojik araçlar

2. Günümüzde gelişen bilim ve teknoloji sayesinde tıp alanında gelişmeler yaşanmıştır. Örneğin; Parkinson hastası birinin vücuduna yerleştirilen bir çip sayesinde bu hastalığın tedavisinde ilerlemeler görülmüştür. Bu çip ile birlikte hastaların gündelik işlerini daha kolay yaptıkları gözlemlenmiştir. (Kerem Ata Teknoloji ve Sağlık s.478)

Buna göre teknoloji ile ilgili aşağıdaki yargılardan hangisine ulaşılabilir?

- A) Sağlık alanında imkanlar sunduğu
B) Ticari faaliyetlerin gelişmesine katkı sağladı
C) İnsanlar arasında iletişimin artmasına neden olduğu
D) Ulaşım ağının gelişmesine imkan verdiği

3. Eskiden komşuda pişen bize de düşüyordu. Bugün buzdolabı sayesinde yiyeceklerimizi uzun süre bozulmadan taze olarak saklamak mümkün olduğundan evimizde pişirdiğimiz yemeğin bir kısmını komşumuza ikram etmek aklımıza dahi gelmiyor.

Bu parçada teknolojiyle ilgili yakınılan durum aşağıdakilerden hangisidir?

- A) Teknolojik ürünlere herkes sahip olabilmektedir.
B) Teknoloji insanların tembelleşmesine yol açmaktadır.
C) Yiyeceklerin israf edilmemesi buzdolabı sayesinde gerçekleşmektedir.
D) Teknolojik ürünler farkında olmadan bazı değerlerimizin yok olmasına neden olmaktadır.

4. Teknolojinin gelişmesiyle birlikte;

Ulaşım ve iletişim hızlanmıştır.

Hastalıkları teşhis ve tedavi etme süreci hızlanmıştır.

Çamaşır ve bulaşık yıkama işleri makineler tarafından yapılmaya başlanmıştır.

Verilen bilgilere göre teknolojinin gelişmesiyle ilgili;

- I. Sağlık hizmetleri gelişmiştir.
II. Haberleşme ağı gelişmiştir.
III. İnsanların günlük yaşamı kolaylaşmıştır.

yargılarından hangilerine ulaşılabilir?

- A) I ve II
B) I ve III
C) II ve III
D) I, II ve III

- 5.



Yukarıda verilen gazete haberinden çıkarılabilecek en genel yargı aşağıdakilerden hangisidir?

- A) Yemek kültürünün değişmesi obeziteye neden olmaktadır.
B) Fazla teknoloji kullanımı çeşitli sağlık sorunlarının oluşmasına neden olmaktadır.
C) Çocuklar spordan uzak yaşamaktadır.
D) Cep telefonu ve tabletler çocukların en çok tercih ettiği teknolojik araçlardır.

6.



Verilen görselden hareketle teknoloji ile ilgili aşağıdaki yargılardan hangisine ulaşılabilir?

- A) Kişilerin bilgi birikimlerini artırdığı
- B) Aile içi iletişime zarar verdiği
- C) Toplum içinde birçok alanda kullanıldığı
- D) Dünyada yaygın olarak kullanıldığı

7.

İLHAMİ'NİN HİKÂYESİ

İlhami eve kadar gelen arkadaşlarına ne cevap vereceğini bilemedi. Aslına bakarsanız kimseye itiraf etmese de tabletinde oynadığı oyunları arkadaşlarına tercih ediyordu. Sokağa çıktığında aklı hep evde, oyunlarında kalıyordu.



Verilen metinde;

- I. Teknoloji bağımlılığı,
- II. Teknolojinin bilinçsiz kullanımı,
- III. Teknolojinin sosyal yaşama etkisi

konularından hangilerine vurgu yapılmıştır?

- A) Yalnız II
- B) I ve II
- C) II ve III
- D) I, II ve III

8.

YARININ DÜNYASI

Yıl 2013; 10, 50 ve 100 yıl sonra neler olacak?

Bilim insanlarına, düşünörlere, uzmanlara, gelecekte neler olabileceğine dair tahminlerini, gerçekleşme olasılıklarını sorduk...

NELERE GÖRE DEĞERLENDİRDİK?

- Bilgisayarlaşma ve Robotlaşma ● Politika ve İş Dünyası ● Bilim ve Doğa ● Toplum ● Teknoloji
- 2/1 olasılık (gerçekleşme olasılığı iki katı)

YÜKSEK OLASILIK

Hastalara doktorlarına ait tıbbi App'lerle reçete yazılabilecek
1/20

Çinlilerin dünyaya erişimi daha fazla engellenemeyecek
7/24

Pinterest'i Google alacak
1/2

2013

ABD bilimsel araştırmalardaki üstünlüğünü Çinlilere kaptırarak
8/1

DÜŞÜK OLASILIK

Google Eart sayesinde kapı komşunla sanal oyun oynayabileceksin
100/1

Verilen görselden hareketle gelecekle ilgili;

- I. Sağlık alanında elektronik reçetelerin hayata geçeceği,
- II. Bazı devletlerin genel ağ erişimi üzerindeki etkilerinin azalacağı,
- III. Gelişen teknoloji sayesinde sanal oyunların kullanımının artacağı,

yorumlarından hangileri yapılabilir?

- A) Yalnız I
- B) Yalnız II
- C) I ve II
- D) I, II ve III

1.



Yukarıda verilen haberle ilgili ulaşılabilecek en genel yargı aşağıdakilerden hangisidir?

- A) Yağışın etkisiyle Murat Nehri eski günlerine geri döndü.
- B) Coğrafi özellikler ekonomik faaliyetleri etkilemektedir.
- C) Elazığ'da hayvancılık yapılmaktadır.
- D) Murat Nehri Doğu Anadolu Bölgesi'nde yer almaktadır.

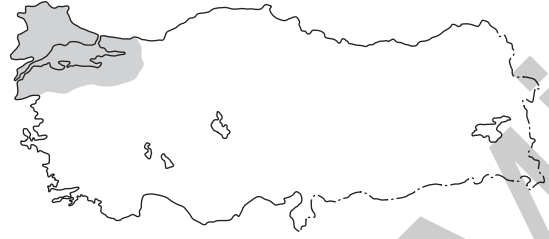
2.



Haritada verilen illere bakıldığında bu illerin hangi ekonomik faaliyetinin ortak özellik gösterdiği söylenebilir?

- A) Sanayi
- B) Ticaret
- C) Madencilik
- D) Turizm

3.



Yukarıdaki haritada ülkemizde sanayinin en fazla geliştiği bölgemiz gösterilmektedir.

Bu durumun nedenleri arasında aşağıdakilerden hangisi yer almaz?

- A) Enerji üretiminin fazla oluşu
- B) Ulaşım ağının gelişmiş olması
- C) Yeryüzü şekillerinin uygun oluşu
- D) İklim koşullarının uygun oluşu

4.

- Geniş ulaşım ağının olması
- İnsan nüfusunun fazla olması
- Satış-pazarlama hacminin olması
- Ham maddeye yakın olması

Yukarıdaki özelliklere sahip bir bölgede gelişmesi beklenen ekonomik faaliyet türü aşağıdakilerden hangisi olabilir?

- A) Tarım
- B) Sanayi
- C) Turizm
- D) Eğitim

5.

Yapılan ekonomik faaliyetlerin bazılarında üretim yapılırken bazılarında ortaya konulan ürünler ile ilgili hizmet faaliyetleri yapılır.

Buna göre aşağıdakilerden hangisi üretim faaliyetine örnek gösterilebilir?

- A) Ahmet Bey'in bir bankada memur olarak çalışması
- B) Semih'in yaz aylarında babasının iş yerinde garsonluk yapması
- C) Suat'ın yaz aylarında babasına buğday harmanında yardım etmesi
- D) Özlem Hanım'ın Muğla'daki turistlere rehberlik yapması

6.



Verilen haritaya bakılarak Türkiye'deki hayvancılık faaliyetleri ile ilgili;

- I. Nüfusun fazla olduğu yerlerde kümes hayvancılığı yapıldığına
- II. Doğu Anadolu Bölgesi'nde büyükbaş hayvancılığın yapıldığına
- III. Küçükbaş hayvancılığın daha çok İç Anadolu Bölgesi'nde yapıldığına
- IV. İstanbul, İzmir ve Bursa çevresinde büyükbaş hayvancılığın diğerlerine göre daha fazla yapıldığına

Çıkarımlarından hangilerine ulaşamaz?

- A) Yalnız I B) Yalnız II C) Yalnız IV D) II ve III

7.

250 BİN DÜVE PROJESİ

KATILIM ŞARTLARI	PROJENİN DETAYLARI
<p>2 Nisan 2018 ve öncesinde büyükbaş hayvancılığı yapıyor olmak</p> <p>En az 15 baş kapasiteli ahıra sahip olmak</p> <p>Üreticinin, ahırın bulunduğu yerde yaşıyor olması</p>	<p>Üreticiler Ziraat Bankası'ndan 100 bin liralık kredi çekebilecek</p> <p>Kredi ilk 2 yıl ödemesiz 5 yıl vadeli olacak</p> <p>Yem için de 18 ay vadeli işletme kredisi kullanılabilir</p>

Görselden hareketle proje ile ilgili;

- I. Türkiye'de hayvancılığın gelişmesine katkı sağladığı,
- II. Projeden yararlanmak için bazı şartların istendiği,
- III. Başvuran herkesin yararlanacağı,

Yargılarından hangilerine ulaşılabilir?

- A) Yalnız I B) Yalnız II C) I ve II D) I, II ve III

1. Aşağıdakilerden hangisi sivil toplum kuruluşlarının özellikleri arasında yer almaz?

- A) Gönüllü kişiler görev yapar.
- B) Yapılan işin karşılığında ücret alınmaz.
- C) Çalışmalar yasalara uygun olarak yürütülür.
- D) Çalışanları maddi kazanç sağlama amacı taşırlar.

Sivil Toplum Kuruluşu	Faaliyet Alanı
I. TEMA	İnsani yardım
II. Kızılay	Sağlık
III. Yeşilay	Zararlı alışkanlıklar
IV. AKUT	Arama Kurtarma

Yukarıda verilen sivil toplum kuruluşları ve faaliyet alanları ile ilgili eşleştirmelerden hangisi yanlıştır?

- A) I
- B) II
- C) III
- D) IV

3. Aşağıdakilerden hangisi köy ve kasabalarda güvenliğimizi sağlamakla görevlidir?

- A) Avukat
- B) Jandarma
- C) Mühendis
- D) Öğretmen

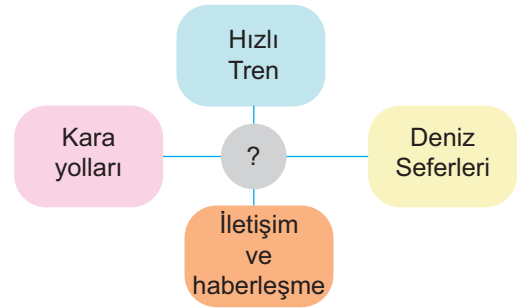
4.



Yukarıda logoları verilen kurum ve kuruluşlar hangi alanda faaliyet göstermez?

- A) Sağlık
- B) Ekonomi
- C) Ulaşım
- D) Barınma

5.



Verilen bu hizmetleri sağlayan bakanlık aşağıdakilerden hangisidir?

- A) Ulaştırma ve Altyapı Bakanlığı
- B) İçişleri Bakanlığı
- C) Enerji ve Tabii Kaynaklar Bakanlığı
- D) Kültür ve Turizm Bakanlığı

6.



Ülkemizde kuraklık ve erozyonla mücadele için kurulmuş bir vakıftır. Sahip olduğu binlerce gönüllü sayesinde ülkemizin birçok alanında ağaçlandırma faaliyetlerinde bulunmuşlardır.

Buna göre Tema Vakfı ile ilgili aşağıdaki yargılardan hangisi söylenebilir?

- A) Topluma hizmet eden bir kuruluş olduğu
- B) Gönüllülerinden maddi destek topladığı
- C) Devlet tarafından kurulduğu
- D) Eğitim ve sağlık alanında hizmet verdiği

7.



Verilen görselden hareketle LÖSEV VAKFI ile ilgili;

- I. Topluma sağlık alanında hizmetler verdiği
- II. Vatandaşlardan yardım kabul ettiği
- III. Bağış yapmak isteyenler için tercih sundukları

yorumlarından hangilerine ulaşılabilir?

- A) Yalnız I B) Yalnız II C) I ve II D) I, II ve III

8.

150 YILLIK MERHAMET ÇINARI "TÜRK KIZILAYI"

Dünyanın dört bir yanında 150 yıldır mazlumların yanında olan Türk Kızılayı, kuruluşundan bu yana dil, din ayrımı gözetmeden 151 ülkede ihtiyaç sahiplerine şefkat elini uzattı.

Kuraklıktan sararan toprakların muhtaçları, çatışmalardan yorulan ülke insanları, Kızılay'ın yardımları ile rahat bir nefes aldı.

2015
2018

20 ÜLKEDE
53 ÜLKEDE

3 MİLYON 500 BİN KİŞİYE
7 MİLYON KİŞİYE YARDIM ULAŞTIRDI.

KAN HİZMETLERİ

18
BÖLGE KAN
MERKEZİ

67
KAN BAĞIŞ
MERKEZİ

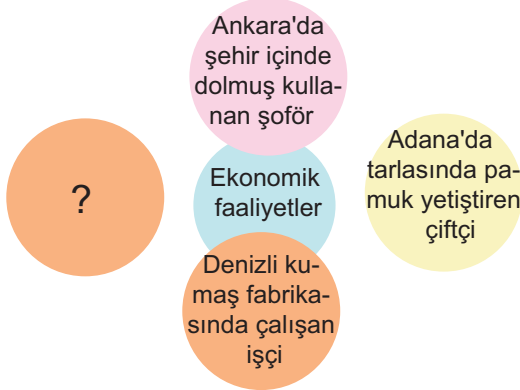
350
MOBİL KAN
BAĞIŞ MERKEZİ



Görselden hareketle Türk Kızılayı ile ilgili aşağıdakilerden hangisine ulaşamaz?

- A) Dünyanın pekçok noktasında yardım faaliyetinde bulunduğu
- B) Birden fazla kan toplama merkezinin olduğu
- C) Her yıl hizmet verdiği kişi sayısının arttığı
- D) Bağışçılara düzenli olarak maddi destek sağladığı

1. Aşağıdaki şemada ekonomik faaliyetlerle ilgili örnekler bulunmaktadır.



Buna göre "?" ile gösterilen yere aşağıdakilerden hangisi yazılamaz?

- A) Her gün okula giden öğrenci
B) Pazarda karpuz satan esnaf
C) Tuğla fabrikasında çalışan işçi
D) Çarşıda dondurma satan esnaf
2. Ülkemizde birbirinden farklı ekonomik faaliyetler yapılmaktadır. Bunlardan birisi de doğrudan üretim yapmadan eğitim, sağlık ve turizm alanında halkın ihtiyaçlarının giderildiği hizmet sektörüdür.

Buna göre aşağıdaki mesleklerden hangisinin hizmet sektörü içinde yer aldığı söylenemez?

- A) Bankacı B) Çiftçi C) Öğretmen D) Doktor

3. Merhaba adım Ahmet. Ben bir toptancıyım. Malatya'dan aldığım kayısıları Almanya'ya satarım. İzmir'den aldığım zeytinleri de Ankara ve Sivas'taki pazarcılara satarım. Ülkemizde pek fazla yetişmeyen avokado ve ananas gibi ürünleri de yurt dışından satın alırım.

Toptancı Ahmet Bey'in aşağıdaki ekonomik faaliyetlerden hangisini yaptığı söylenebilir?

- A) Tarım B) Ticaret C) Turizm D) Sanayi

4.



İnsanlık tarihine bakıldığında insanların geçmişten günümüze kadar birçok ekonomik faaliyet içerisinde yer aldığı ve bu faaliyetlerin her geçen gün artarak devam ettiği görülmüştür.

Aşağıdakilerden hangisi bu durumun en temel nedeni olarak gösterilebilir?

- A) İhtiyaçlarını karşılamak
B) Yeni yerler görmek
C) Doğal kaynaklardan yararlanmak
D) Toplumsal etkileşimi sağlamak

5.

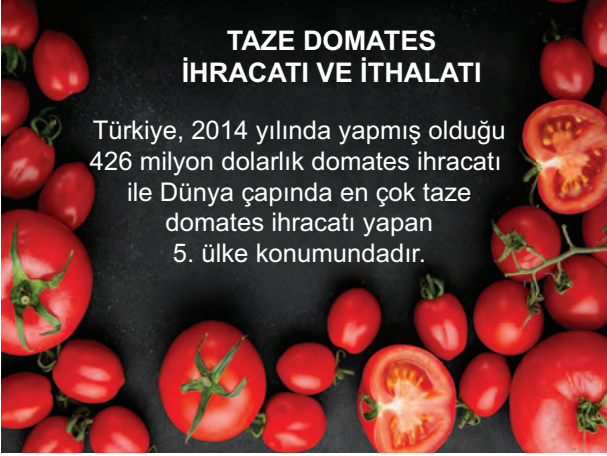


Bir ülkenin ekonomik kalkınmasında turizm faaliyetleri önemli oranda katkı sağlamaktadır. Yukarıdaki görselde verilen Göbeklitepe'yi her yıl binlerce turist ziyaret etmektedir.

Bu durum ilk önce hangi ilimizin ekonomisine katkı sağlayacaktır?

- A) Antalya B) Konya
C) Şanlıurfa D) Erzurum

6.



TAZE DOMATES İHRACATI VE İTHALATI

Türkiye, 2014 yılında yapmış olduğu 426 milyon dolarlık domates ihracatı ile Dünya çapında en çok taze domates ihracatı yapan 5. ülke konumundadır.

Verilen görselden hareketle Türkiye ile ilgili;

- I. Domates ihracatından ekonomik kazanç elde ettiği,
- II. Domates üretiminde önemli bir sırada yer aldığı,
- III. Tüm Avrupa ülkelerine domates ihraç ettiği

yargılarından hangilerine ulaşılabilir?

- A) Yalnız I B) Yalnız II C) I ve II D) I, II ve III

7.



Merhaba adım Gülbin; Akdeniz Bölgesinin güzel bir ili olan Antalya'da yaşıyorum. Yaşadığım bölgedeki verimli topraklarda birbirinden güzel ürünler yetiştiriyoruz. Bunlar; zeytin, üzüm, muz ve turunçgillerdir. Bu ürünleri dünyanın ve Türkiye'nin birçok yerine satarak geçimimizi sağlıyoruz.

Bu bilgilere bakılarak Gülbin'in yaşadığı yer ile ilgili;

- I. Çeşitli tarım ürünleri yetiştirilmektedir.
- II. Tarım ve ticaret gelişmiştir.
- III. Yetiştirilen ürünler, ihraç edilmektedir.

yargılardan hangisine ulaşılabilir?

- A) Yalnız I B) Yalnız II C) I ve II D) I, II ve III

8.

TÜRK KİRAZININ YARISINDAN FAZLASINI ALMAN VE RUSLAR TÜKETİYOR

Kalitesi ve aromasıyla dünya pazarında kendine yer bulan Türk kirazını yurt dışında en çok Almanya ve Ruslar tüketiyor.

42 ÜLKEYE
KİRAZ
İhracatı
yapıldı



Dış Satımın
%58'i
Almanya ve
Rusya'ya
gerçekleşti.

KİRAZ İHRACATI



OCAK-HAZİRAN 2015

50 BİN 630 TON

137 MİLYON 699 BİN DOLAR (Değeri)

OCAK-HAZİRAN 2017

37 BİN 754 TON

103 MİLYON 392 BİN DOLAR (Değeri)

Görselde verilen bilgilerden hareketle aşağıdaki yargılardan hangisine ulaşamaz?

- A) Türkiye çok sayıda ülkeye kiraz ihracatı yapmıştır.
- B) Türk kirazı çeşitli ülkeler tarafından da tercih edilmektedir.
- C) 2017 yılında yapılan ihracat önceki yıla göre daha azdır.
- D) Kiraz ihracatı, her geçen yıl artmaktadır.