



SOSYAL BİLGİLER

HDS

Haftalık Değerlendirme sınavı

Adı ve Soyadı :

Sınıfı :

Okul Numarası :

1. Sınav

1. ÜNİTE : BİREY VE TOPLUM
KONU : Sosyal Rollerin Değişimi

Kazanım 6.1.1. : Sosyal rollerin zaman içerisindeki değişimini inceler.

1. Kişi; ailede çocuk, okulda öğrenci, trafikte sürücü, markette müşteri vb. roller içerisinde olabilir. Buna göre doktor bir babadan evde babalık yapması beklenirken hastanede hastalarını tedavi etmesi ve trafikte sürücü olarak trafik kurallarına uyması beklenir.

Metne göre ulaşılabilecek en genel yargı aşağıdakilerden hangisidir?

- A) Zaman içinde rollerimiz değişmektedir.
B) Rollerimiz değiştikçe sorumluluklarımız da değişmektedir.
C) Sonradan edinilen roller daha fazla sorumluluk gerektirmektedir.
D) Birden fazla rol üstlenmek davranış bozukluklarına neden olabilmektedir.

2. Rol, toplumun bireylerden beklediği davranıştır. Bireyler dünyaya geldiği andan itibaren çeşitli rollere bürünürler. Bu rollerden bazıları biyolojik özelliklerden kaynaklanır, herhangi bir ilgi ve yetenek gerektirmez. Bunların seçilme imkânı yoktur.

Buna göre aşağıdakilerden hangisi seçme imkânı olmayan bu rollere örnek gösterilebilir?

- A) Avukatlık
B) Ağabeylik
C) Sınıf başkanlığı
D) Takım kaptanlığı

8. "Herkes ait olduğu gruba göre farklı roller üstlenebilir ve bireyler birden fazla role sahip olabilirler." diyen bir uzman, aşağıdakilerden hangisini bu görüşüne kanıt gösterebilir?

- A) Evin büyük çocuğu olan Derya, ev işlerinde annesine yardım etmektedir.
 B) Arzu Hanım, özel bir okulda sosyal bilgiler öğretmeni olarak görev yapmaktadır.
 C) Nevra, sınavlarında başarılı olabilmek için ödevlerini günü gününe yapmaktadır.
 D) Avukat olarak görev yapan Ömer Bey, TEMA Vakfında çevre gönüllüsü olarak çalışmaktadır.

9.



Merhaba arkadaşlar benim adım Umut. Geçtiğimiz şubat ayında yaşanan deprem felaketinde evimiz yıkıldı. Biz de dedem, annem, babam, kardeşim ve ben Hatay'dan ayrılmak zorunda kaldık. Amcamın yanına Antalya'ya taşındık. Bu yıl ben 6. sınıfa, kardeşim Eylül de 2. sınıfa başlayacak. İkimiz de çok heyecanlıyız. Hatay'da iken Hatayspor'un alt yapısında futbol oynuyordum. Eğer mümkün olursa yeni taşındığımız bu şehirde futbol hayatıma devam etmek istiyorum.

Metne göre aşağıdakilerden hangisi Umut'un sahip olduğu roller arasında yer almaz?

- A) Takım kaptanı
 B) Öğrenci
 C) Torun
 D) Ağabey

10.

STATÜ	Bireyin içinde bulunduğu konum, mevki-dir.
ROL	Toplumun bireyden statüsüne göre uygun olarak beklediği davranışlardır.

Verilen tanımlara göre aşağıdakilerden hangisi 6. sınıf öğrencisi Sude'nin okuldaki rolleri arasında yer alır?

- A) Odasını düzenli tutmak
 B) Ev işlerine yardım etmek
 C) Kardeşi ile vakit geçirmek
 D) Sınıf başkanlığı yaparken arkadaşlarına adil davranmak

Cevaplarınızı optiğe işaretleyiniz.

Ad Soyad :

1	A	B	C	D
2	A	B	C	D
3	A	B	C	D
4	A	B	C	D
5	A	B	C	D
6	A	B	C	D
7	A	B	C	D
8	A	B	C	D
9	A	B	C	D
10	A	B	C	D

Optik No :
 865

FERNUS

MOD PRO

3. Sezin Hanım, kültürümüzü oluşturan öğeleri anlatırken öğrencileri ile aşağıdaki bilgileri paylaşmıştır.

ZEKÂT	FITİR SADAKASI	HADİS
Zengin olan Müslümanlar sahip oldukları mallar üzerinden belli oranda ihtiyaç sahiplerine maddi yardımda bulunurlar.	Ramazan ayında Müslümanlar ihtiyaç sahiplerine yardımda bulunurlar.	Peygamberimiz bir sohbetinde "Komşusu açken tok yatan bizden değildir." diyerek yardımlaşmanın önemini vurgulamıştır.

Sezin Hanım'ın paylaştığı bu bilgiler kültürümüzü oluşturan öğelerden hangisi ile ilişkilendirilebilir?

- A) Din B) Dil C) Tarih D) Mimari

4. "Sahip olduğumuz ortak kültür mirasına baktığımızda İslam dininin etkisini görürüz. İncamız bütün yaşantımızı etkilemiş, davranışlarımıza ve sözlerimize yansımıştır. Örf ve âdetlerimizde, konuşma biçimimizde, giyimimizde, aile içi ilişkilerimizden tutun da toplumsal ilişkilerimize varıncaya kadar her türlü gelenek ve yaşama biçimimizde İslam dininin etkisi vardır." **diyen bir tarihçi aşağıdakilerden hangisini bu görüşüne kanıt olarak gösteremez?**

- A) Ramazan ve Kurban bayramlarında akrabaların ziyaret edilmesini
B) Millî takımlarımızın elde ettiği galibiyetlerin büyük bir coşkuyla kutlanmasını
C) Mahalle sakinlerinden biri vefat ettiğinde on gün boyunca o eve yemek götürülmesini
D) Gündelik yaşamda "Allah'a emanet ol.", "Allah başışlasın." gibi cümlelerin kullanılmasını

5. Aynı dili konuşan, aynı duygu, düşünce ve amaçlar içerisinde olan insanlar bir araya geldiklerinde dil sayesinde anlaşılıp kaynaşabilir, duygu ve düşüncelerini paylaşabilirler. Ortak dile sahip insanlar aynı toplumun üyesi olduklarını fark edip millet olmanın şuuruna varırlar.

Bu bilgiye göre,

- I. Dil bir iletişim aracıdır.
II. Dil bir milletin ortak hafızasıdır.
III. Dil millî birlik ve beraberliğin sağlanmasında önemlidir.

yargılarından hangilerine ulaşılabilir?

- A) Yalnız I B) Yalnız II
C) I ve III D) II ve III



SOSYAL BİLGİLER

HDS

Haftalık Değerlendirme sınavı

Adı ve Soyadı :

Sınıfı :

Okul Numarası :

4. Sınav

- 1. ÜNİTE** : BİREY VE TOPLUM
KONU : Yardımlaşma ve Dayanışma / Sorunlara Çözüm Buluyorum
Kazanım 6.1.4. : Toplumsal birlikteliğin oluşmasında sosyal yardımlaşma ve dayanışmayı destekleyici faaliyetlere katılır.
Kazanım 6.1.5. : Bir soruna getirilen çözümlerin hak, sorumluluk ve özgürlükler temelinde olması gerektiğini savunur.

1. Türk toplumunda dünden bugüne hep var olmuş imece geleneği kültürel benliğimizin önemli öğelerinden biridir. Genellikle köylerde karşımıza çıkan imece uygulaması, köyün zorunlu ve isteğe bağlı işlerinin köylülerce eşit şartlarda emek birliğiyle gerçekleştirilmesini ifade eder. Kışlık yiyeceklerin hazırlanması, köyün temizliğinin yapılması, hayvanların kışlık tedarikinin sağlanması, tarla sürme, ekin biçme, fakir ve yetimlerin çeyizlerinin hazırlanması, düğünlerinin yapılması imece ile yaygın biçimde yapılan işlere örnek gösterilebilir.

Bu bilgiye göre imece uygulamasının;

- I. Kültürel süreklilik,
- II. Sosyal dayanışma,
- III. Yardımlaşma kültürü

durumlarından hangilerine örnek oluşturduğu söylenebilir?

- A) I ve II
B) I ve III
C) II ve III
D) I, II ve III

2. Sosyal bir varlık olan insan toplum hâlinde yaşar. İnsanların ortak yaşamlarını düzenleyen birtakım kuralları vardır. Anayasa ve yasalarla düzenlenen yazılı kurallarla birlikte gelenek ve görenekler, görgü kuralları vb. yazısız kuralların oluşturduğu bu kurallara uyulmadığı takdirde toplum yaşamında kargaşa doğar, rahat ve mutlu bir yaşam sürdürülemez.

Bu bilgilere göre,

- I. Görgü kuralları yasalarla düzenlenir.
- II. Yazılı kurallar yazısız kurallara göre daha etkilidir.
- III. Kuralsızlığın olduğu yerlerde insanlar çeşitli sorunlar yaşar.
- IV. Toplumsal huzurun sağlanması için yazılı ve yazısız kurallara uymak gerekir.

yargılarından hangilerine ulaşılabilir?

- A) I ve II
B) III ve IV
C) I, II ve III
D) II, III ve IV

6. Aşağıda bir dilekçe örneği verilmiştir.

**BÜYÜKŞEHİR BELEDİYE BAŞKANLIĞINA
ANTALYA**

Hafta sonları Sahil Antalya Yaşam Parkı'nda yürüyüş yapmayı çok seviyorum ve sık sık da gidiyorum. Kentimi-ze böyle bir park kazandırdığınız için öncelikle teşekkür ederim. Ancak parktaki bisiklet ve yaya yollarının motosiklet sürücüleri tarafından kullanılması biz yayaları tedirgin etmektedir. Bu konuyla ilgili gerekli tedbirlerin alınması hususunda gereğinin yapılmasını arz ederim.

27.09.2023
Olca Göktepe

Adres: Doğuyaka Mahallesi, Yiğitler Caddesi, Özpınarlar Sitesi, No:1 Muratpaşa / Antalya

Verilen örneğe bakılarak dilekçe ile ilgili,

- I. Bir sorun çözme yöntemidir.
- II. Dilek ve şikâyetleri bildirme hakkıdır.
- III. İlgili kurumlara yazı ile başvurma hakkıdır.

yargılarından hangilerine ulaşılabilir?

- A) I ve II B) I ve III C) II ve III D) I, II ve III

7. Kişi toplumda kendi hakkını savunabilmeli ve özgürce hareket edebilmelidir. Ancak başkalarının haklarını ve özgürlüğünü de dikkate alarak sorumlu davranmalıdır. Her şeyde olduğu gibi hak ve özgürlüklerin de bir sınırı olduğu unutulmamalıdır.

Bu bilgiye göre aşağıdaki çıkarımlardan hangisine ulaşamaz?

- A) Özgürlüklerin sınırsız olmadığı
- B) İnsanların çeşitli hak ve özgürlüklere sahip olduğu
- C) Hak ve özgürlüklerin insanlara sorumluluk yüklediği
- D) Sahip olunan hak ve özgürlüklerin hiçbir suretle kısıtlanamayacağı

8. 1895 yılında Sultan II. Abdülhamid Han tarafından kurulan, kurulduğu günden bu yana 29.000'i çocuk olmak üzere toplam 72.000 kişiye şefkat yuvası olan Darülaceze Başkanlığı; din, dil, ırk, sınıf ve cinsiyet farkı gözetmeksizin bakıma muhtaç, yaşlı, engelli insanlara, sokağa terk edilmiş kimsesiz yavrulara hizmet vermektedir.

Bu bilgiye göre Darülaceze Başkanlığının temel amacı aşağıdakilerden hangisidir?

- A) Sosyal yardımlaşma ve dayanışmayı sağlamak
- B) Çocuk haklarını uluslararası düzeyde korumak
- C) Deprem ve sel gibi olaylarda afetzedelere sahip çıkmak
- D) Maddi durumu yetersiz çocuklara eğitim desteği vermek



SOSYAL BİLGİLER

HDS

Haftalık Değerlendirme sınavı

Adı ve Soyadı :

Sınıfı :

Okul Numarası :

5. Sınav

2. ÜNİTE : KÜLTÜR VE MİRAS
KONU : Orta Asya'da Kurulan İlk Türk Devletleri

Kazanım 6.2.1. : Orta Asya'da kurulan ilk Türk devletlerinin coğrafi, siyasal, ekonomik ve kültürel özelliklerine ilişkin çıkarımlarda bulunur.

1. Türklerin ilk anayurdu Orta Asya'dır. Orta Asya sert karasal iklimin yaşandığı, geniş bozkırların olduğu bir coğrafyadır. Coğrafyanın bu özellikleri bozkır kültürünün gelişmesine neden olmuştur.

Bu bilgiye göre bozkır kültürünün gelişmesinde aşağıdakilerden hangisinin etkili olduğu söylenebilir?

- A) Doğal şartlar
- B) Siyasi koşullar
- C) Dini gelişmeler
- D) Ekonomik etkinlikler

2. Orta Asya'da yapılan arkeolojik kazılarda savaş aletleri, çanak çömlekler, kilimler ve süs eşyaları bulunmuştur.

Ele geçen buluntulara göre Türklerin;

- I. Madencilik,
- II. Hayvancılık,
- III. Dokumacılık

ekonomik faaliyetlerinden hangileriyle uğraştıkları söylenebilir?

- A) Yalnız I
- B) Yalnız III
- C) I ve II
- D) I, II ve III

9. Aşağıda Göç Destanı'ndan bir bölüm verilmiştir.

GÖÇ DESTANI'NDAN

Uygurlar, Buğu Han zamanında Çin hükümdarına elçiler gönderdi, kendilerine Nom kitaplarını anlayan adamlar göndermesi için rica etti. Çinlilerin dinî kitapları Nom'dur. Çin'den Nom yöntemlerini anlayan adamlar gelince Kamlarla oturup konuştular, dinî kitaplarını gösterdiler; tartışmayı Kamlar kaybetti. Bu tartışmadan sonra Uygurlar Çin'den gelen yeni dini kabul ettiler. (Bu din Maniheizm'dir.) (...)

Mustafa Necati Sepetçioğlu, "Karşılaştırmalı Türk Destanları" (Düzenlenmiştir.)

Göç Destanı'nda geçen bu ifadelere göre Uygurlar ile ilgili aşağıdakilerden hangisi söylenemez?

- A) Çin baskısı altına girmişlerdir.
B) Kültürel etkileşim yaşamışlardır.
C) Farklı ülkelerle ilişki kurmuşlardır.
D) Yabancı bir dini kabul etmişlerdir.

10. Asya Hunları devlet yönetiminde ikili teşkilatı kullanmıştır. Hakanın devleti daha kolay yönetmesi için ülke toprakları doğu ve batı olarak iki yönetim bölümüne ayrılmıştır. Doğu bölümünün idaresinin başında hakan bulunurken batıda da hanedanın bir üyesi bulunmuştur. Bu üyeye de "yabgu" adı verilmiştir. Devlet güçlü iken faydalı olan sistem, devlet zayıflamaya başlayınca taht kavgalarına neden olmuştur.

Bu bilgiye göre ikili teşkilatın olumlu ve olumsuz yönleri ile ilgili aşağıdaki değerlendirmelerden hangisi yapılabilir?

	Olumlu Yönü	Olumsuz Yönü
A)	Sosyal yaşamı düzenlemesi	Dış baskıları artırması
B)	Ülke yönetimini kolaylaştırması	İç çekişmelere neden olması
C)	Kültürel yaşamı canlandırması	Sosyal adaletsizliğe neden olması
D)	Orduda disiplini sağlaması	İç çekişmelere neden olması

Cevaplarınızı optiğe işaretleyiniz.

Ad Soyad :

1	A	B	C	D
2	A	B	C	D
3	A	B	C	D
4	A	B	C	D
5	A	B	C	D
6	A	B	C	D
7	A	B	C	D
8	A	B	C	D
9	A	B	C	D
10	A	B	C	D

Optik No :
869

FERNUS

MOD PRO

3. Aşağıdaki tabloda Türklerin İslamiyet'i kabul etmelerinin sebepleri verilmiştir.

İslamiyet'ten Önce Türklerin İnancı Ve Yaşamı	İslamiyet'teki İnanç Ve Yaşam
Gök Tanrı'nın her şeyi yaratmış olduğuna ve en yüksekte bulunduğuna inanılırdı.	Her şeyin yaratıcısı Allah'tır.
Ölümden sonra yaşamın devam ettiğine inanılırdı.	Öldükten sonra yeniden dirilme anlamına gelen ahiret inancı vardır.
Toplumda yardımlaşma duygusu, ahlaklı ve temiz olmak önemliydi.	İyilik yapmak, anlayışlı olmak, ahlaklı bir yaşam tarzı benimsemek ve temiz olmak çok önemlidir.
Cihana hâkim olma anlayışı bulunurdu.	Gaza ve cihat anlayışı vardır.

Tablodaki bilgilere göre aşağıdakilerden hangisi Türklerin İslamiyet'i kabul etmelerinin nedenleri arasında gösterilemez?

- A) Abbasilerin Türklere karşı adil ve eşit davranması
 B) İslamiyet'in Türklerin savaşçılık özelliklerine uygun olması
 C) Gök Tanrı inancı ile İslamiyet'teki Allah inancının birbirine benzemesi
 D) Türklerdeki toplumsal değerlerle İslamiyet'teki değerlerin örtüşmesi
4. İslamiyet'in kabulüyle Türklere göçebe yaşam tarzından yerleşik hayata geçiş hız kazanmıştır. Yeni şehirler inşa edilmiş, fethedilen şehirlerin gelişmesine katkı sağlanmıştır. Devleti yönetenler tarafından "Halka hizmet Hakk'a hizmettir." düşüncesi benimsenmiş; bu sayede darüşşifa, medrese, imaret, kervansaray, cami, mescit gibi yapılar inşa edilmiştir.
- Buna göre İslamiyet'in kabulüyle inşa edilmeye başlayan eserlerin aşağıdaki alanlardan hangisine yönelik olduğu söylenebilir?**
- A) Siyasi
 B) Ekonomik
 C) Askeri
 D) Sosyal
5. Orta Asya'da kurulan ilk Türk-İslam devleti olan Karahanlılar; Karluk, Yağma ve Çiğil boylarının bir araya gelmesiyle kuruldu. Devletin kurucusu Bilge Kül Kadir Han'dı. Satuk Buğra Han Dönemi'nde İslamiyet devletin resmî dini olarak kabul edildi. Türk-İslam tarihindeki ilk medrese, ilk vakıf ve posta teşkilatını kuran Karahanlılar, Ribat adı verilen kervansarayları inşa ettiler.
- Bu bilgilere göre Karahanlılar ile ilgili aşağıdaki yargılardan hangisine ulaşamaz?**
- A) Türklük özelliklerini kaybetmişlerdir.
 B) İslamiyet'i sonradan kabul etmişlerdir.
 C) Ticaretin gelişmesine katkı sağlamışlardır.
 D) Türk - İslam kültür ve medeniyetinin temsilcisi olmuşlardır.



SOSYAL BİLGİLER

HDS

Haftalık Değerlendirme sınavı

Adı ve Soyadı :

Sınıfı :

Okul Numarası :

8. Sınav

2. ÜNİTE : KÜLTÜR VE MİRAS

KONU : Yeni Yurt Anadolu

Kazanım 6.2.4. : Türklerin Anadolu'yu yurt edinme sürecini XI ve XIII. yüzyıllar kapsamında analiz eder.

1. Yeni yurt arayışı içinde 1015 yılında Anadolu'ya keşif akınları düzenleyen Çağrı Bey, edindiği gözlemleri Tuğrul Bey ile paylaşmıştır. Çağrı Bey'in edindiği gözlemler kısaca şöyledir:

- Anadolu'da nüfus azdır.
- Anadolu iklim açısından uygundur.
- Anadolu toprakları su kaynakları bakımından zengindir.
- Anadolu toprakları tarım ve hayvancılık yapmaya uygundur.
- Anadolu'ya hâkim olan Bizans Devleti Türk kuvvetlerini durduracak güçte değildir.

Edindiği gözlemlere bakılarak Çağrı Bey ile ilgili aşağıdakilerden hangisi söylenemez?

- A) Anadolu'yu doğal şartlar açısından avantajlı görmektedir.
- B) Anadolu'da çok güçlü bir siyasi yapının olmadığını düşünmektedir.
- C) Anadolu'nun yurt edinmek için uygun bir yer olduğunu düşünmektedir.
- D) Anadolu'yu ticaret yolları sebebiyle ekonomik açıdan avantajlı görmektedir.

2. Tuğrul Bey döneminde Anadolu'ya düzenli bir şekilde askerî seferler yapıldı. Bu seferler ile Bizanslıların savunma gücü zayıfladığı için ileride yapılacak fetihlere ve yurt edinme çalışmalarına zemin hazırlandı. Tuğrul Bey, Selçuklu beylerinden olan İbrahim Yınal ve Kuttalmış komutasındaki orduyu Anadolu'ya gönderdi. Günümüzde Erzurum sınırları içinde bulunan Pasinler Ovası'nda Büyük Selçuklu ordusu ile Bizans ordusu karşı karşıya geldi. Türklerin tarihte Bizanslılarla ilk kez karşı karşıya geldiği Pasinler Savaşı'nda Bizans ordusu mağlup edildi (1048).

Bu bilgiye göre aşağıdakilerden hangisinin Pasinler Savaşı'nın bir sonucu olduğu söylenebilir?

- A) Anadolu'da Türkiye Tarihi'nin başlaması
- B) Anadolu'da Türk beyliklerinin kurulması
- C) Türklerin Anadolu'yu yurt edinme konusunda cesaretlenmesi
- D) Hristiyanların Türkleri Anadolu'dan atmak için harekete geçmesi



SOSYAL BİLGİLER

HDS

Haftalık Değerlendirme sınavı

Yazılıya Hazırlık Sınavı 1. Dönem / 1. Yazılı

Adı ve Soyadı :

Sınıfı :

Okul Numarası :

KAZANIM: 6.1.1: Sosyal rollerin zaman içerisindeki değişimini inceler.

1.

Aşağıda adını bilim dünyasına altın harflerle yazdırmış Aziz Sançar hakkında bazı bilgiler verilmiştir.



Aziz Sançar

- 1946 Mardin'in Savur ilçesinde orta gelirli bir ailenin sekiz çocuğundan yedincisi olarak dünyaya geldi.
- 1963 İstanbul Üniversitesi Tıp Fakültesine başladı.
- 1969 İstanbul Üniversitesi Tıp Fakültesinden birincilikle mezun oldu.
- 1997 TÜBİTAK Bilim Ödülü'nün sahibi oldu.
- 2015 Nobel Kimya Ödülü'ne layık görüldü.

Verilen bu bilgilere göre Aziz Sançar'ın hangi sosyal rolleri üstlendiğini yazınız.

KAZANIM: 6.1.2: Sosyal, kültürel ve tarihî bağların toplumsal birlikteliğin oluşmasındaki yerini ve rolünü analiz eder. Din, dil, tarih gibi kültürü oluşturan unsurlar ele alınır.

2. Atatürk, "Türk çocuğu ecdadını tanıdıkça daha büyük işler yapmak için kendinde kuvvet bulacaktır." sözüyle toplumsal birlikteliğin oluşmasında yeri olan hangi kültürel unsurun önemini dile getirmiştir? Yazınız.

KAZANIM: 6.1.3: Toplumda uyum içerisinde yaşayabilmek için farklılıklara yönelik ön yargıları sorgular.

9. Ceylin: Ön yargıların toplumsal yaşama etkisi nedir?

İletişim Uzmanı: Ön yargılar toplumsal uyumun, birlik ve beraberliğin güçlenmesine engel olur. Bu nedenle ön yargıların azalması insanlar arasındaki birliğin güçlenmesinde önemli bir yere sahiptir.

Ceylin: Peki, ön yargıların azalması için ne yapmalıyız? Tavsiyeniz nedir?

İletişim Uzmanı: Ön yargının, ayrımcılığın ve çatışmanın azalmasını istiyorsak toplumsal teması artırmalıyız.

İletişim uzmanı verdiği cevapla ön yargıların azalması için neyi tavsiye etmiştir? Açıklayınız.

KAZANIM: 6.2.3: Türklerin İslamiyet'i kabulleri ile birlikte siyasi, sosyal ve kültürel alanlarda meydana gelen değişimleri fark eder.

10. I. Tablo

İslamiyet'ten Önce Türklerin İnancı ve Yaşamı
<ul style="list-style-type: none"> • Gök Tanrı inancı vardır. • Öldükten sonra yaşamın devam ettiğine inanılırdı. • Dünyada yapılan iyiliğin ödüllendirileceği, kötülüğün ise cezalandırılacağı inancı vardı. • Toplumda yardımlaşma duygusu, ahlaklı ve temiz olmak önemliydi. • Cihana hâkim olma anlayışı bulunurdu.

II. Tablo

İslamiyet'teki İnanç ve Yaşam
<ul style="list-style-type: none"> • Allah inancı vardır. • Öldükten sonra yeniden dirilme anlamına gelen ahiret inancı vardır. • Cennet ve cehennem inancı vardır. • İyilik yapmak, anlayışlı olmak, ahlaklı bir yaşam tarzı benimsemek ve temiz olmak çok önemlidir. • Gaza ve cihat anlayışı vardır.

Tablolardaki bilgilere göre Türklerin İslamiyet'i kabul etmelerini kolaylaştıran unsurların neler olduğunu açıklayınız.

(Her soru 10 puandır. Başarılar dileriz.
Sosyal Bilgiler Zümresi)



SOSYAL BİLGİLER

HDS

Haftalık Değerlendirme sınavı

Yazılıya Hazırlık Sınavı 1. Dönem / 1. Yazılı

Adı ve Soyadı :

Sınıfı :

Okul Numarası :

KAZANIM: 6.1.1: Sosyal rollerin zaman içerisindeki değişimini inceler.

1. On bir yaşındaki Ertuğrul, annesi, babası, dedesi ve kız kardeşiyle birlikte kahvaltısını yaptı. Daha sonra okuluna gitti. Okulundaki kulüp çalışmalarına etkin katılım sağlayan Ertuğrul, okul bitiminde kaptanlığını yaptığı futbol takımının antrenmanına katıldı.

Metne göre, Ertuğrul'un hangi sosyal rolleri üstlendiğini yazınız.

KAZANIM: 6.1.2: Sosyal, kültürel ve tarihî bağların toplumsal birlikteliğin oluşmasındaki yerini ve rolünü analiz eder. Din, dil, tarih gibi kültürü oluşturan unsurlar ele alınır. Din, dil, tarih gibi kültürü oluşturan unsurlar ele alınır.

2. "Bir su damlası nasıl diğer su damllarına benzer ise bir milletin geleceği de aynen geçmişine benzer."

İbni Haldun

İbn-i Haldun yukarıdaki sözüyle toplumsal birlikteliğin oluşmasında etkili olan kültürel unsurlardan hangisinin önemini vurgulamıştır? Yazınız.

KAZANIM: 6.2.2: İslamiyet'in ortaya çıkışını ve beraberinde getirdiği değişimleri yorumlar.

6. • Ülke, eyalet adı verilen yönetim birimlerine ayrıldı.
- Divan örgütü kuruldu.
 - Hicri takvim yapıldı.

Yukarıdaki gelişmelerin İslam Tarihi'nin hangi döneminde meydana geldiğini yazınız.

KAZANIM: 6.2.3: Türklerin İslamiyet'i kabulleri ile birlikte siyasi, sosyal ve kültürel alanlarda meydana gelen değişimleri fark eder.

7. • Yusuf Has Hacıp tarafından Uygur alfabesiyle yazılmıştır.
- Türk-İslam edebiyatının ilk örneğidir.
 - İdeal bir devlet yönetim sisteminin nasıl olması gerektiğini açıklayan öğretici bir eserdir.

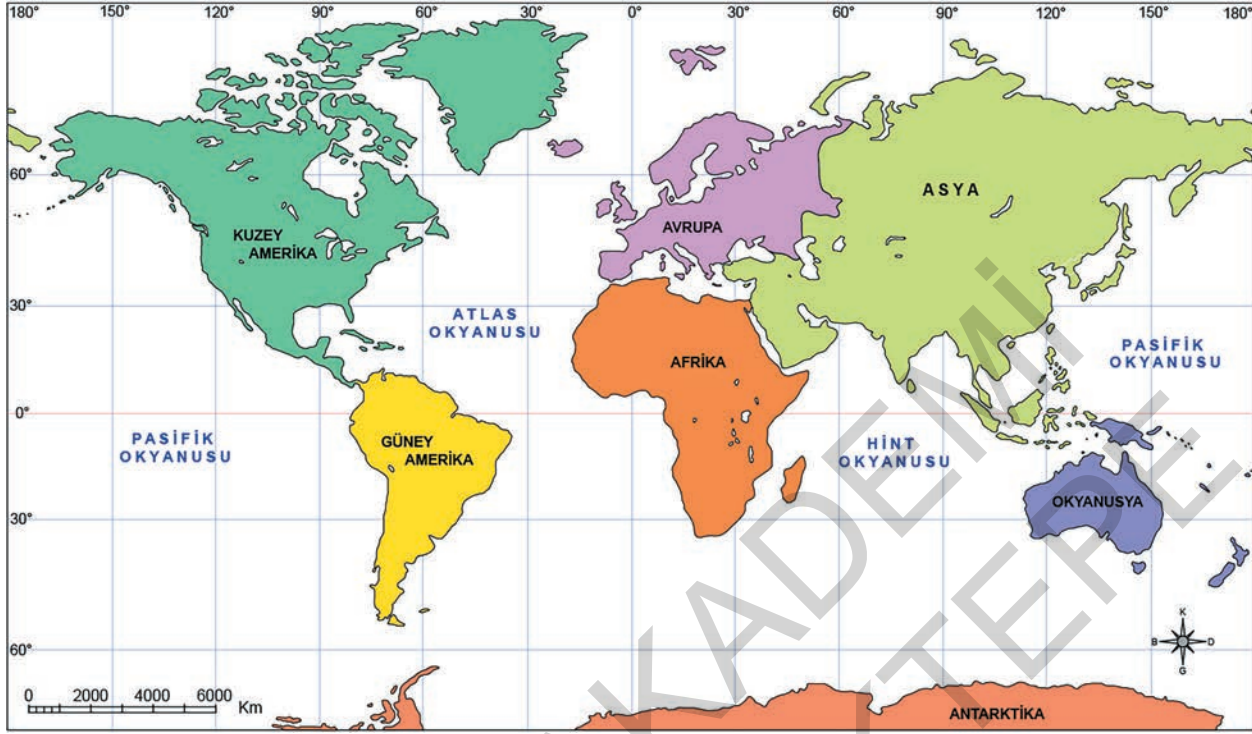
Yukarıda özellikleri verilen eserin adını yazınız.

KAZANIM: 6.1.3: Toplumda uyum içerisinde yaşayabilmek için farklılıklara yönelik ön yargıları sorgular.

8. Bir kimse veya bir olayla ilgili yeterli bilgi edinmeden geliştirilen tutumlara ön yargı adı verilir.

Buna göre ön yargıların olmadığı bir toplumda insanlar arasındaki ilişkiler nasıl gelişir? Açıklayınız.

3. Aşağıdaki haritada dünya üzerinde bulunan kıtalar ve okyanuslar gösterilmiştir.



Haritaya göre aşağıdaki çıkarımlardan hangisine ulaşamaz?

- A) Ekvator ve başlangıç meridyeni Afrika kıtasının üzerinden geçmektedir.
 B) Asya kıtası Ekvator'un kuzeyinde ve başlangıç meridyenin doğusunda yer almaktadır.
 C) Avrupa topraklarının büyük bir kısmı başlangıç meridyenin doğusunda yer almaktadır.
 D) Afrika kıtasının topraklarının büyük bir bölümü başlangıç meridyenin batısında yer alır.

4. Ülkemizin doğu, kuzey ve güneyinde ulaşım güçlükle yapılırken Marmara denizi çevresi, Anadolu'nun ortası ve güneydoğusunda ulaşım daha kolaydır.

Bu bilgiye göre ülkemizin göreceli konumu ile ilgili aşağıdakilerden hangisi söylenebilir?

- A) Yeryüzü şekilleri engebelidir.
 B) Ekvator'un kuzeyinde yer almaktadır.
 C) Kuzeyden esen rüzgârlar sıcaklığı düşürür.
 D) Dağların kuzey yamaçları güney yamaçlarından daha soğuktur.

5. Türkiye, Dünya üzerinde 36°- 42° kuzey paralelleri ile 26°- 45° doğu meridyenleri arasında bulunmaktadır.

Bu bilgiden aşağıdaki sorulardan hangisinin cevabına ulaşamaz?

- A) Türkiye hangi yarım kürede yer almaktadır?
 B) Türkiye'nin başlangıç meridyenine göre konumu nedir?
 C) Türkiye'nin güneyinde ve kuzeyinde dağlar hangi doğrultuda uzanmaktadır?
 D) Türkiye'nin en güneyi ile en kuzeyi arasında kaç paralel dairesi geçmektedir?

9.

Zonguldak
Taş kömürünün çıkarıldığı, bu ilimizde nüfus fazladır.

Ankara
Ülkemizin yönetim merkezi olan bu ilimizde sanayi ve ticaret gelişmiştir. Nüfusu fazladır.

Muğla
Engelibeli yer şekillerine sahip bu ilimizde yaz aylarında turizme bağlı olarak nüfus artar.

Hakkâri
Arazi yapısı engebeli olan bu ilimizde nüfus azdır.

Haritadaki bilgilerde ülkemizdeki nüfus dağılışı üzerinde etkili olan aşağıdaki faktörlerden hangisine değnilmemiştir?

- A) Yer şekilleri
B) Su kaynakları
C) Madencilik faaliyetleri
D) Yer altı kaynakları

10. Ülkemizde sanayinin geliştiği şehirler nüfusun fazla olduğu yerlerdir.



Buna göre Türkiye haritası üzerinde numaralandırılarak gösterilen illerimizden hangisinin nüfusunun fazla olmasında belirtilen durumun etkili olduğu söylenemez?

- A) I B) II C) III D) IV

Cevaplarınızı optiğe işaretleyiniz.

Ad Soyad :

1	A	B	C	D
2	A	B	C	D
3	A	B	C	D
4	A	B	C	D
5	A	B	C	D
6	A	B	C	D
7	A	B	C	D
8	A	B	C	D
9	A	B	C	D
10	A	B	C	D

Optik No :
877

FERNUS

MOD PRO

3.



Televizyon yayınlarında kullanılan akıllı işaretler gençlerin zihinsel, duygusal ve sosyal gelişim düzeyleri göz önüne alınarak hazırlanmıştır.

Bu bilgiye göre akıllı işaretlerin hazırlanmasında aşağıdaki sosyal bilim dallarından hangisinden yararlanıldığı söylenebilir?

- A) Felsefe B) Psikoloji C) Tarih D) Coğrafya

4. İnsanların geçmişlerini, yaşadıkları çevreyi, yaşam tarzlarını ve kültürlerini inceleyen bilim dallarına sosyal bilimler adı verilir.

Bu bilgiye göre sosyal bilimlerin toplum hayatına katkısı ile ilgili aşağıdakilerden hangisi söylenebilir?

- A) Akıl yürütme yeteneğini kuvvetlendirirler.
B) Doğayı ve doğa olaylarını anlamamıza yardımcı olurlar.
C) Hayatımızda yaşadığımız değişim ve gelişmeleri anlayabilmemize yardımcı olurlar.
D) Mantıklı düşünce becerisi kazanmamıza yardımcı olurlar.

5. Yeryüzünde yaşamını sürdüren insanlar doğal ortamlardan yararlanmak zorundadır. Bu nedenle yaşadıkları çevrenin yeryüzü şekilleri, iklim koşulları ve su kaynakları gibi özelliklerini bilmek insanlara avantaj sağlar. İnsanlar edindikleri bilgilerden yararlanarak ekonomik faaliyetler yapar ve yaşamlarına devam ederler. Bu konuda insanlara coğrafya bilimi yardımcı olmaktadır.

Bu bilgiye göre coğrafya bilimi ile ilgili,

- I. İnsan ve doğal çevre arasındaki etkileşimi konu edinir.
II. İnsanların doğal çevreye uyum sağlamasını kolaylaştırır.
III. Geçmişimizi ve millî kültürümüzü daha iyi tanıyamızı sağlar.

yargılarından hangilerine ulaşılabilir?

- A) I ve II B) I ve III
C) II ve III D) I, II ve III



SOSYAL BİLGİLER

HDS

Haftalık Değerlendirme sınavı

Yazılıya Hazırlık Sınavı 1. Dönem / 2. Yazılı

Adı ve Soyadı :

Sınıfı :

Okul Numarası :

KAZANIM: 6.2.4: Türklerin Anadolu'yu yurt edinme sürecini XI ve XII. yüzyıllar kapsamında analiz eder.

1. Türkiye Selçukluları, birçok medrese inşa ettirmişlerdir. Konya'da İnce Minareli Medrese, Kırşehir'de Cacabey Medresesi, Erzurum'da Yakutiye Medresesi ve Anadolu'da inşa edilen birçok medrese buna örnektir.

Bu bilgiye bakarak Türkiye Selçuklularının hangi alandaki çalışmalara önem verdiğini yazınız.

KAZANIM: 6.2.4: Türklerin Anadolu'yu yurt edinme sürecini XI ve XII. yüzyıllar kapsamında analiz eder.

2. Anadolu'yu elinde tutan Bizans'a karşı askeri başarılar elde eden Selçuklu hükümdarı Sultan Alparslan, boy beylerine "Anadolu'da nereyi fethederseniz orası sizindir. Fethettiğiniz yerlerde beyliğinizi kurunuz." diye emreder. Böylece; Erzurum çevresinde Saltuklular, Sivas çevresinde Danişmentliler, Diyarbakır çevresinde Artuklular ve Erzincan çevresinde Mengücekliler kurulur.

Buna göre, Sultan Alparslan'ın verdiği emirle neyi amaçladığını kısaca açıklayınız.

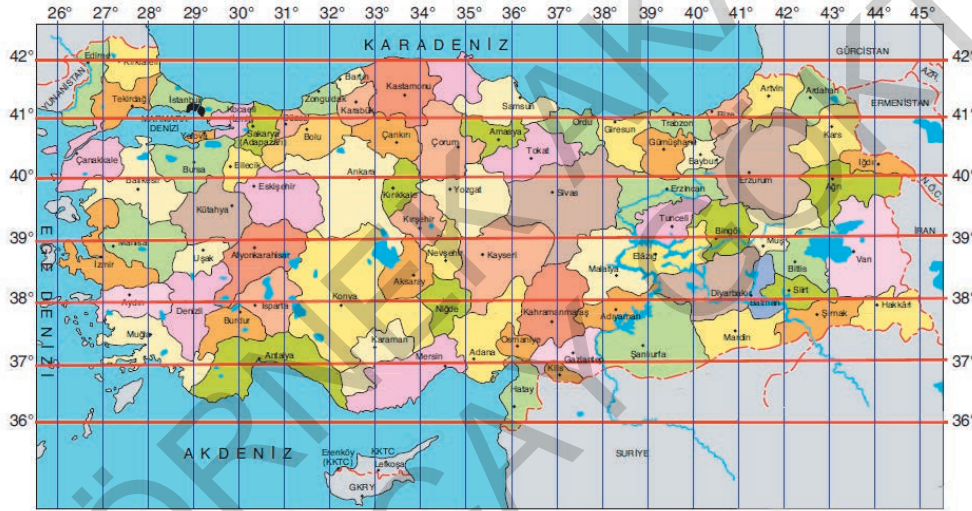
KAZANIM: 6.3.3: Türkiye'nin temel beşeri coğrafya özelliklerini ilgili haritalar üzerinde gösterir.

9. Ülkemizde Çukurova ve çevresi, Bafra Ovası ve çevresi, Çarşamba Ovası ve çevresi nüfusun yoğun olduğu yerlere örnek gösterilebilir.

Buna göre, bahsedilen yerlerin nüfusunun yoğun olmasının nedeni nedir? Açıklayınız.

KAZANIM: 6.3.1: Konum ile ilgili kavramları kullanarak kıtaların, okyanusların ve ülkemizin coğrafi konumunu tanımlar.

10. Aşağıda Türkiye'nin mutlak konumunu gösteren bir harita verilmiştir.



Hollanda'dan havalanan bir uçak, 37° kuzey paraleli ile 31° doğu meridyeninin kesiştiği noktaya iniş yapacaktır.

Buna göre, uçağın iniş yapacağı ilimiz hangisidir? Yazınız.

(Her soru 10 puandır. Başarılar dileriz.

Sosyal Bilgiler Zümresi)

Örnek Akademi / 6. Sınıf



SOSYAL BİLGİLER

HDS

Haftalık Değerlendirme sınavı

Adı ve Soyadı :

Sınıfı :

Okul Numarası :

18. Sınav

5. ÜNİTE : ÜRETİM, DAĞITIM VE TÜKETİM
KONU : Kaynakların Ülke Ekonomisindeki Yeri

Kazanım 6.5.1. : Ülkemizin kaynaklarıyla ekonomik faaliyetlerini ilişkilendirir.

1.



Şemaya bakılarak, ülkemiz ile ilgili aşağıdakilerden hangisi söylenemez?

- A) Gelişmiş bir ulaşım ağına sahip olduğu
- B) Doğal kaynaklar bakımından fakir olduğu
- C) Yer altı kaynakları bakımından zengin olduğu
- D) Yeryüzü şekilleri bakımından çeşitlilik gösterdiği

2. Aşağıdaki görselde akarsulardan yararlanma yolları gösterilmiştir.

İçme suyu olarak kullanılır.

Tarım alanlarını sulamada kullanılır.

Rafting yapılır.

Elektrik üretimi yapılır.

Görselle göre akarsulardan;

- I. Sulama,
- II. Su sporları,
- III. Enerji üretimi

alanlarından hangilerinde yararlandığı söylenebilir?

- A) I ve II
- B) I ve III
- C) II ve III
- D) I, II ve III

6.



Jeotermal Enerji Santrali, Denizli

Görseldeki enerji çeşidi ile ilgili aşağıdakilerden hangisi söylenebilir?

- A) Ülkemizdeki en yaygın enerji kaynağıdır.
- B) Atmosferi en fazla kirleten enerji kaynağıdır.
- C) Tükenebilir enerji kaynakları arasında yer alır.
- D) Fay hatlarının bulunduğu yerlerden çıkan sıcak su buharı ile üretilen enerjidir.

7. Evsel atıkların toprağa rastgele bırakılması, çiftçilerin bilinçsizce kimyasal gübre ve tarım ilacı kullanması, fabrika atıklarının gerekli işlemler yapılmadan toprağa salınması toprak kirliliğinin her geçen gün artmasına neden olmaktadır. Toprağın kâğıt, pil, plastik ve cam atıklarıyla kirlenmesi canlı yaşamını olumsuz yönde etkilemektedir.

Metinde sözü edilen sorunun aşağıdakilerden hangisine neden olduğu söylenemez?

- A) Tarımsal verimliliğin azalmasına
- B) Temiz su kaynaklarının azalmasına
- C) Canlıların yaşam alanlarının daralmasına
- D) İnsanlarda çeşitli sağlık sorunlarının ortaya çıkmasına

8. Kullanıldıkça tükenmeyen ve tekrar oluşması uzun yıllar almayan enerji kaynaklarına yenilenebilir enerji kaynakları adı verilir. Bu kaynaklardan elektrik enerjisi üretilirken az miktarda karbondioksit açığa çıkar. Bu nedenle bu kaynakların canlı yaşamına verdiği zarar çok azdır.

Buna göre gelecek nesillere daha yaşanabilir bir çevre bırakabilmek için aşağıdaki enerji kaynaklarından hangisi tercih edilmelidir?

- A) Linyit
- B) Petrol
- C) Taş kömürü
- D) Güneş enerjisi

9.



Alışverişlerimizde Fiş ya da Fatura Alırsak Ne Olur?

- Vatandaşlık görevimizi yerine getirmiş oluruz.
- Ödediğimiz verginin kamu hazinesine aktarılmasını sağlamış oluruz.
- Kamu hizmetlerinin daha sağlıklı yürütülmesine katkı sağlamış oluruz.
- Bir tüketici olarak haklarımızı kullanmamız gerektiğinde elimize geçerli bir belge almış oluruz.

Görseldeki bilgilere göre alışverişlerinde fiş ya da fatura almayan bir kişi ile ilgili aşağıdakilerden hangisi söylenemez?

- Bilinçli bir tüketici örneği sergilemiş olur.
- Vatandaşlık görevini yerine getirmemiş olur.
- Devletin vergi kaybı yaşamasına neden olur.
- Yapılan işlemin kayıt altına alınamamasına neden olur.

10. Ülke ekonomisinin büyük bir bölümünü vergiler oluşturmaktadır. Yıllık hizmet bütçesinin yaklaşık %85'ini vergilerden elde edilen gelirler oluşturmaktadır. Eğer vergiler zamanında ve eksiksiz toplanırsa kamu hizmetlerinde herhangi bir aksama olmaz.

Buna göre ülkemizde aşağıdakilerden hangisinin yaşanmasında vergi görevini yerine getirmeyen insanların etkisinin olduğu söylenebilir?

- Ulaşım imkânlarının çeşitlenmesi
- Ülkenin ekonomik olarak kalkınması
- Sosyal ve kültürel yaşamın canlanması
- Sağlık hizmetlerinde aksamaların yaşanması

Cevaplarınızı optiğe işaretleyiniz.

Ad Soyad :

1	A	B	C	D
2	A	B	C	D
3	A	B	C	D
4	A	B	C	D
5	A	B	C	D
6	A	B	C	D
7	A	B	C	D
8	A	B	C	D
9	A	B	C	D
10	A	B	C	D

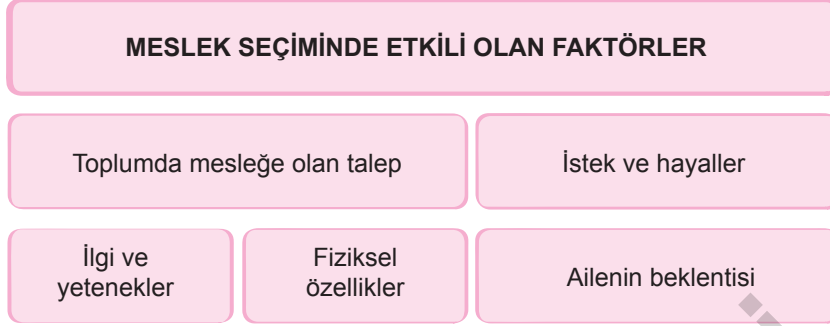
Optik No :

885

FERNUS

MOD PRO

3.



Şemaya bakılarak, aşağıdaki bireylerden hangisinin meslek seçiminde diğerlerinden farklı bir faktörün etkili olduğu söylenebilir?

- A) Problem çözme becerisi yüksek olan Selin'in doktor olmaya karar vermesi
 B) Ekip çalışmasına yatkın olduğunu bilen Yiğit'in pilot olmaya karar vermesi
 C) Anne ve babasını mutlu etmek isteyen Arzu'nun öğretmen olmaya karar vermesi
 D) Olaylara karşı farklı bakış açıları oluşturabilen Cem'in avukat olmaya karar vermesi

4. Meslek seçiminde;

- İstek ve hayaller,
- İlgi ve yetenekler,
- Fiziksel özellikler,
- Ülkenin ekonomik durumu,
- Aile, akraba ve arkadaşların istekleri etkili olmaktadır.

Bu bilgiye göre;

- I. Günün şartları,
 II. Çevresel yönlendirmeler,
 III. Sahip olunan kişilik özellikleri

faktörlerinden hangilerinin meslek seçimine etki ettiği söylenebilir?

- A) I ve II
 B) I ve III
 C) II ve III
 D) I, II ve III

5. Stres altında karar verebildiğinin ve acil durumlar karşısında soğukkanlılığını koruyabildiğinin farkında olan Furkan, havacılığa da meraklı olduğu için pilot olmayı düşünmektedir. Pilotluğun nasıl bir meslek olduğunu iyice öğrenmek isteyen Furkan, pilot olan komşuları Murat Bey ile buluşmuş ve kendisine aşağıdaki soruları sormuştur.

1. Sizce pilotluğun zorlu yönleri nelerdir?
2. Pilot olabilmek için nasıl bir eğitimden geçmek gerekir?
3. Ülkemizde pilotların iş bulma durumu nedir?

Furkan, Murat Bey'den aldığı cevaplardan sonra pilot olmaya karar vermiştir.

Metne göre Furkan'ın, meslek seçiminde etkili olan aşağıdaki faktörlerden hangisini dikkate aldığı söylenemez?

- A) İlgi alanları
 B) Mesleğe olan talep
 C) Akraba ve arkadaş etkisi
 D) Yetenek ve beceriler



SOSYAL BİLGİLER

HDS

Haftalık Değerlendirme sınavı

Yazılıya Hazırlık Sınavı 2. Dönem / 1. Yazılı

Adı ve Soyadı :

Sınıfı :

Okul Numarası :

KAZANIM:

6.3.4: Dünyanın farklı doğal ortamlarındaki insan yaşantılarından yola çıkarak iklim özellikleri hakkında çıkarımlarda bulunur.

1. “Yaşadığım yerde soğuk hava şartları nedeniyle yıl boyunca kürklü ve kalın kıyafetler giyiyoruz. Ayrıca buzdan yaptığımız iglo adı verilen evlerde barınarak soğuklardan korunuyoruz. Burada iklim özelliklerinden dolayı tarım yapamıyoruz. Ancak suların üzerindeki buzları kırıp balık avlayarak geçimimizi sağlıyoruz.”

Bu ifadeleri kullanan kişi, yaşadığı yerdeki iklimin neleri etkilediğinden bahsetmiştir? Açıklayınız.

KAZANIM:

6.4.1: Sosyal bilimlerdeki çalışma ve bulgulardan hareketle sosyal bilimlerin toplum hayatına etkisine örnekler verir.

2. İnsanların geçmişlerini, yaşadıkları çevreyi, yaşam tarzlarını ve kültürlerini inceleyen sosyal bilim dallarına üç örnek veriniz.

1.

2.

3.



SOSYAL BİLGİLER

HDS

Haftalık Değerlendirme sınavı

Yazılıya Hazırlık Sınavı 2. Dönem / 1. Yazılı

Adı ve Soyadı :

Sınıfı :

Okul Numarası :

KAZANIM: 6.4.3: Bilimsel araştırma basamaklarını kullanarak araştırma yapar.

1. Araştırma sorusunu belirlemek

Bilgileri sınıflandırmak

Hipotez oluşturmak

Kaynak taraması yapmak

Metin oluşturmak

Bu basamakların doğru sıralamasını boş bırakılan kutucukların içine yazacağınız rakamlarla gösteriniz.

KAZANIM: 6.5.1: Ülkemizin kaynaklarıyla ekonomik faaliyetlerini ilişkilendirir.

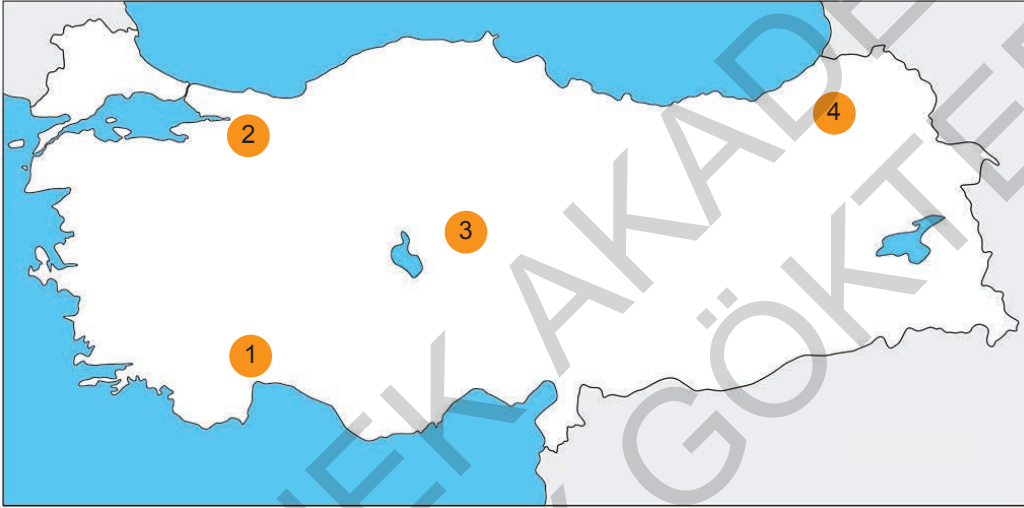
2. Bir tarım bölgesinde yetiştirilen ürün ile bu ürünün işlenmesini sağlayan fabrikalar arasındaki ilişki dikkate alındığında pamuk yetiştirilen bir yerde hangi sanayi dalı gelişir? Yazınız.

KAZANIM: 6.4.4: Telif ve patent hakları saklı ürünlerin yasal yollardan temin edilmesinin gerekliliğini savunur.

6. Ülkemizde, yeni buluşları ve markaları hukuksal yollarla koruma altına alan kuruluşun adını yazınız.

KAZANIM: 6.5.1: Ülkemizin kaynaklarıyla ekonomik faaliyetlerini ilişkilendirir.

7. Kış mevsiminin ılık geçtiği yerler seracılık faaliyetlerine uygundur.



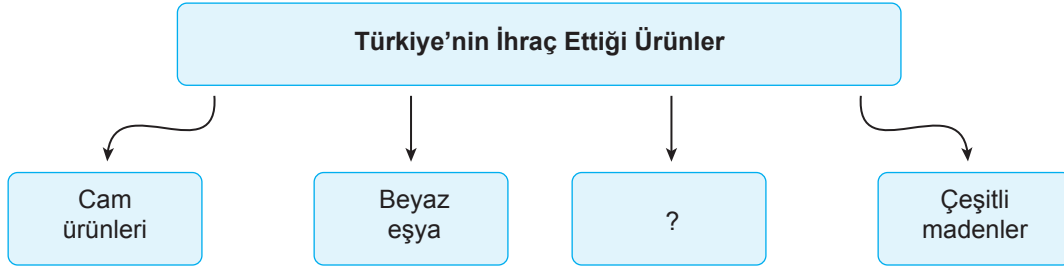
Buna göre, haritada numaralandırılarak gösterilen yerlerden hangisinde seracılık faaliyetlerinin yaygın olması beklenir? Yazınız.

KAZANIM: 6.5.4: Vatandaşlık sorumluluğu ve ülke ekonomisine katkısı açısından vergi vermenin gereğini ve önemini savunur.

8. Devlet halka, ulaşım, sağlık, eğitim, alt yapı hizmetleri, güvenlik vb. birçok hizmeti sağlamakla görevlidir.

Devletin bu hizmetleri yerine getirebilmesi için vatandaşlara düşen görev hangisidir? Yazınız.

6.



Şemada “?” ile gösterilen yere aşağıdakilerden hangisi yazılabilir?

- A) Konfeksiyon ürünleri
B) Petrol
C) Doğal gaz
D) Tropikal ürünler

7. Aşağıda ülkemizin en çok ihracat ve ithalat yaptığı ülkeler verilmiştir (2022).

İhracat		
1.	Almanya	21.142.736.000 dolar
2.	ABD	16.885.546.000 dolar
3.	Irak	13.750.38.000 dolar
4.	Birleşik Krallık	13.005.188.000 dolar
5.	İtalya	12.396.357.000 dolar
6.	İspanya	9.650.335.000 dolar
7.	Fransa	9.534.537.000 dolar

İthalat		
1.	Rusya Federasyonu	58.848.989.000 dolar
2.	Çin	41.354.735.000 dolar
3.	Almanya	24.032.945.000 dolar
4.	İsviçre	15.335.898.000 dolar
5.	ABD	15.228.771.000 dolar
6.	İtalya	14.082.271.000 dolar
7.	Hindistan	10.697.111.000 dolar

Tablodaki bilgilerden aşağıdakilerden hangisi ile ilgili çıkarımda bulunulabilir?

- A) İhraç ettiğimiz ürünler
B) En fazla ticaret yaptığımız ülkeler
C) Rusya'dan satın aldığımız ürünler
D) Almanya ile ticari ilişkilerimizin gelişme nedenleri

8. Aşağıdaki tabloda Türk dış politikasının temel ilkeleri ile bu ilkelere ait açıklamalar verilmiştir.

	Türk Dış Politikasının Temel İlkeleri	Açıklamalar
I.	Mütekabiliyet (Karşılıklılık)	Uluslararası ilişkilerde karşılıklı güven ve saygıyı hedef tutmaktır.
II.	Tam bağımsızlık	Halkın ülke yönetimine katılımını sağlamaktır.
III.	Barışçılık	Komşularımızla ve diğer devletlerle iyi geçinmektir.
IV.	Devletlerin eşitliği	Uluslararası ilişkilerde devletlerin siyasi alanda eşit olmasıdır.

Buna göre tablodaki numaralanmış eşleştirmelerde yer alan açıklamalardan hangisi ilişkili olduğu temel ilkeyle ilgili değildir?

- A) I B) II C) III D) IV



SOSYAL BİLGİLER

HDS

Haftalık Değerlendirme sınavı

Yazılıya Hazırlık Sınavı 2. Dönem / 2. Yazılı

Adı ve Soyadı :

Sınıfı :

Okul Numarası :

KAZANIM: 6.6.1: Demokrasinin temel ilkeleri açısından farklı yönetim biçimlerini karşılaştırır.

1. Demokrasi kavramını kısaca açıklayınız.

.....

.....

.....

KAZANIM: 6.6.1: Demokrasinin temel ilkeleri açısından farklı yönetim biçimlerini karşılaştırır.

2. Demokrasinin temel ilkelerine üç örnek veriniz.

1.

2.

3.

KAZANIM: 6.6.3: Yönetimin karar alma sürecini etkileyen unsurları analiz eder.

6. İnsanlar arasında iletişimi sağlayan radyo, televizyon, gazete ve genel ağ gibi basın yayın organlarının tümüne ne ad verildiğini yazınız.

.....

.....

.....

KAZANIM: 6.6.3: Yönetimin karar alma sürecini etkileyen unsurları analiz eder.

7. Yönetimin karar alma sürecine etki eden unsurlara üç örnek veriniz.

1.

2.

3.

KAZANIM: 6.6.1: Demokrasinin temel ilkeleri açısından farklı yönetim biçimlerini karşılaştırır.

8. Günümüz demokrasisinde, toplumdaki farklı görüşlerin parlamentoda temsil edilmesini sağlayan oluşumlara ne ad verilir? Yazınız.

.....

.....

.....

KAZANIM: 6.6.1: Demokrasinin temel ilkeleri açısından farklı yönetim biçimlerini karşılaştırır.

3. • Devlet ve toplum kurallarının din kurallarına göre belirlendiği yönetim biçimidir.
- Yöneticiler din adamlarıdır ve Tanrı adına ülkeyi yönettiklerini savunurlar.
- Geçmişte Mezopotamya medeniyetlerinden Sümerlerde görülmüş bir yönetim şeklidir.

Hakkında bilgi verilen yönetim biçiminin adını yazınız.

KAZANIM: 6.7.1: Ülkemizin Türk Cumhuriyetleri ve komşu devletlerle olan kültürel, sosyal, siyasi ve ekonomik ilişkilerini analiz eder.

4. **Mustafa Kemal,** "Komşuları ile ve bütün devletlerle iyi geçinmek Türkiye siyasetinin esasıdır." diyerek Türk dış politikasında benimsenen ilkelere hangisinin önemine değinmiştir? Açıklayınız.

KAZANIM: 6.6.5: Türkiye Cumhuriyeti'nin etkin bir vatandaşı olarak hak ve sorumluluklarının anayasal güvence altında olduğunu açıklar.

5. **Vatandaşlık görevlerimize üç örnek veriniz.**

1.

2.

3.