

Super 2[⚡]Li

Akıllı tahta uyumludur.

SOSYAL BİLGİ LER

SORU
BANKASI



İÇİNDEKİLER

1. ÜNİTE

BİREY VE TOPLUM

Etkin Bir Vatandaşım.....	5
Olayların Çok Boyutluluğu	7
Rollerimiz, Haklarımız ve Sorumluluklarımız Var	9
Haklarımla Varım	13
Ünite Tekrar Testi - 1	15
Ünite Tekrar Testi - 2	17
Ünite Tekrar Testi - 3	19

2. ÜNİTE

KÜLTÜR VE MİRAS

Uygarlıkları Tanıyoruz	21
Ülkemizin Güzellikleri	27
Zengin Kültürümüz	31
Ortak Değerlerimiz.....	35
Geçmişten Günümüze Kültürümüz.....	39
Ünite Tekrar Testi - 1	41
Ünite Tekrar Testi - 2	43
Ünite Tekrar Testi - 3	45

3. ÜNİTE

İNSANLAR, YERLER VE ÇEVRELER

Yaşadığımız Yer ve Yeryüzü Şekilleri	47
İklimin Yaşamımıza Etkisi	53
Nüfus ve Yerleşme.....	59
Afetler ve Çevre Sorunları.....	65
Doğal Afetler ve Etkileri.....	67
Ünite Tekrar Testi - 1	69
Ünite Tekrar Testi - 2	71
Ünite Tekrar Testi - 3	73

4. ÜNİTE

BİLİM, TEKNOLOJİ VE TOPLUM

Teknolojinin Toplum Üzerindeki Etkisi	75
Doğru ve Güvenilir Bilgi	79
Güvenli Genel Ağ.....	81
Bilim İnsanları ve Ortak Özellikleri.....	83
Araştırma Yapıyorum	85
Ünite Tekrar Testi - 1	87
Ünite Tekrar Testi - 2	89
Ünite Tekrar Testi - 3	91

5. ÜNİTE

ÜRETİM, DAĞITIM VE TÜKETİM

Ekonomik Faaliyetler ve Coğrafya	93
Benim Mesleğim	97
Ekonomi ve Sosyal Hayat	101
Bir Ürünün Hikâyesi	103
Bir Projem Var	107
Bilinçli Tüketici.....	111
Ünite Tekrar Testi - 1	113
Ünite Tekrar Testi - 2	115
Ünite Tekrar Testi - 3	117

6. ÜNİTE

ETKİN VATANDAŞLIK

Topluma Hizmet Edenler.....	119
Yaşadığımız Yerde Yönetim	123
Temel Haklarımız.....	127
Bizi Biz Yapanlar	131
Ünite Tekrar Testi - 1	133
Ünite Tekrar Testi - 2	135

7. ÜNİTE

KÜRESEL BAĞLANTILAR

Uluslararası Ekonomik İlişkiler ve Yaşadığımız İl	137
Teknoloji Farkı.....	143
Dünya Barışı İçin Turizm	147
Dünyadaki Ortak Mirasımız	151
Ünite Tekrar Testi - 1	155
Ünite Tekrar Testi - 2	157
CEVAP ANAHTARI	159

1.

Okul kurallarına uymak

Ev işlerine yardımcı olmak

Odamızı temiz ve düzenli tutmak



Aile bireyelerine saygı göstermek

Okul eşyalarını özenli bir şekilde kullanmak

Trafik kurallarına uymak

Yukarıdaki görselde “?” ile gösterilen yere aşağıdakilerden hangisi yazılmalıdır?

- A) Sosyalleşmenin Faydaları
C) Doğuştan Gelen Rollerimiz

- B) Sorumluluklarımız
D) Haklarımız

2.

Okulda	Evde	Futbol Takımında
5. sınıf öğrencisi olan Ali aynı zamanda sınıf başkanıdır.	Anne babasının çocuğu olan Ali, ablasının da kardeşidir.	Ali, kalecisi olduğu futbol takımının kaptanıdır.

Görsele bakılarak Ali ile ilgili aşağıdaki çıkarımlardan hangisine ulaşamaz?

- A) Rol çatışması yaşamaktadır.
C) Bazı rollerine doğuştan sahip olmuştur.

- B) Birden fazla grupta yer almaktadır.
D) Bulunduğu gruplarda farklı roller üstlenmiştir.

3.



Nazlı Hanım

Sabah erkenden kalkıp oğlum ve eşim için kahvaltı hazırladıktan sonra öğrencilerimle buluşmak üzere okula gelirim. Okuldan sonra TEMA Vakfının çalışmalarına katılıyorum.

Anlattıklarından hareketle aşağıdakilerden hangisi Nazlı Hanım'ın üstlendiği rollerden biri değildir?

- A) Anne
B) Öğretmen
C) Çevre gönüllüsü
D) Teyze

4.



Merhaba ben Ayşe!

Çevremdeki insanlar bana farklı ifadelerle seslenir. Babam kızım, dedem torunum, kardeşim abla, sınıf arkadaşlarım başkan diye çağırıyor beni. Arkadaşlarımla oyun oynuyorum ve çok eğleniyorum. Oyunlar sırasında arkadaşlarıma saygılı davranıyorum. Okulda öğrenciyim. Temiz ve düzenli bir sınıfta eğitim almaya hakkım var. Başarılı olmak için ödevlerimi zamanında yapıyorum. Öğretmenimi dikkatle dinliyorum ve derslerde söz almadan konuşmuyorum. Okul kurallarına uyuyorum.

Metne bakılarak Ayşe ile ilgili,

- I. Hak ve sorumluluklarının bilincindedir.
- II. Doğuştan ve sonradan edindiği rollere sahiptir.
- III. İçinde bulunduğu gruplara uyum sağlamakta zorlanmaktadır.

çıkartımlarından hangilerine ulaşılabilir?

- A) I ve II B) I ve III C) II ve III D) I, II ve III

5. “Merhaba ben Ece, 5. sınıfa gidiyorum. Bugün güzel ve güneşli bir gündü. Öğretmenimize dersi okulumuzun bahçesinde yapmak istediğimizi söyledim. Öğretmenimiz “Bir ders için bunu yapabiliriz.” diyerek hepimizi bahçeye çıkardı. Çimlere oturduk ve öğretmenimizi dinledik. Zil çaldığında ise arkadaşlarımla top oynadım.”

Metne göre Ece'nin aşağıdaki haklarından hangisini kullandığı söylenemez?

- A) Eğitim görme
B) Oyun oynama
C) Sağlıklı beslenme
D) Düşüncelerini ifade etme

6. Bireyin içinde yaşadığı toplumun bir üyesi olma sürecine sosyalleşme denir. Bu süreçte birey, toplumun kültürel değerlerini öğrenir, kendine has beceriler edinir. Sosyalleşme sürecini tamamlayan bireylerin toplum hayatına daha kolay uyum sağladığı ve hayatlarında daha mutlu olduğu görülmektedir.

Bu bilgilere göre aşağıdakilerden hangisi sosyalleşmenin sonuçları arasında gösterilemez?

- A) Özgüveni yüksek bireylerin yetişmesi
B) Ortak hareket etme becerisinin gelişmesi
C) İçine kapanık bireylerin sayısının artması
D) İletişim kurma becerisinin gelişmesi

7. Zamanı etkili ve verimli bir şekilde kullanmanın önemli olduğunu bilen 5. sınıf öğrencisi Sibel, kendisi için hazırladığı zaman planlamasında aşağıdaki etkinliklere yer vermiştir.

- Ders çalışmak
- Kitap okumak
- Oyun oynamak
- Televizyon izlemek
- Yeteri kadar uyumak
- Ailemle ve arkadaşlarımla nitelikli zaman geçirmek

Kişisel zaman planlamasında yer verdiği etkinliklere bakıldığında Sibel ile ilgili aşağıdakilerden hangisi söylenemez?

- A) Sosyalleşmeye zaman ayırmıştır.
B) Büyüme çağına olduğunun farkındadır.
C) Sosyal ve zihinsel gelişimine önem vermiştir.
D) Kitle iletişim araçlarını hayatına dâhil etmemiştir.

1. Aşağıdaki haritada Anadolu ve Mezopotamya uygarlıkları gösterilmiştir.



Haritaya bakılarak aşağıdakilerden hangisine ulaşılabilir?

- A) Uygarlıklar su kaynakları çevresinde kurulmuşlardır.
- B) Sümerler, insanlık tarihine yazıyı armağan etmişlerdir.
- C) Uygarlıklar arasında ticari ilişkiler gelişmiştir.
- D) Hititler, Anadolu'yu egemenlikleri altına almışlardır.

2. Kızılırmak Nehri çevresinde kurulan Hititler'in başkenti Hattuşaş'tır. Hititlerde devleti, askerî ve dinî yetkileri olan kral yönetirdi. Tavananna adı verilen kraliçe, kralın en önemli yardımcısıydı. Devlet işleri Pankuş adı verilen bir mecliste görüşülürdü.

Bu bilgilere bakılarak Hititler ile ilgili aşağıdaki yargılardan hangisine ulaşamaz?

- A) Merkezi yönetim anlayışına sahiplerdir.
- B) Kadın, devlet yönetiminde söz sahibidir.
- C) Fikir alışverişine önem vermişlerdir.
- D) Öldükten sonraki yaşamın devam ettiğine inanmışlardır.

3. İyonlar kurdukları şehirleri eserlerle donatmışlardır. Artemis Tapınağı, Celsus Kütüphanesi, Efes Antik Tiyatrosu İyonlardan günümüze kalan önemli eserlerdir. Ayrıca İyonlar döneminde matematik - astronomi alanında Thales ve Pisagor; tıp alanında Hipokrat; tarih alanında Herodot; felsefe alanında Diyojen gibi bilim insanları önemli çalışmalar yapmışlardır.

Bu bilgilere göre İyonlarla ilgili aşağıdakilerden hangisine ulaşamaz?

- A) Farklı alanlarda bilimsel çalışmalar yapmışlardır.
- B) Deniz ticaretinde ileri gitmişlerdir.
- C) Mimari alanda kalıcı eserler inşa etmişlerdir.
- D) Özgür düşünce ortamına sahip olmuşlardır.

4. Frigler,
- Tarımı koruyucu yasalar yapmışlardır.
 - Tapates adlı halı ve kilim dokumaları ile ünlenmişlerdir.
 - Fibula adını verdikleri çengelli iğneyi tarihe kazandırmışlardır.

Bun bilgilere bakılarak Friglerle ilgili,

- Temel geçim kaynaklarını korumaya çalışmışlardır.
- Dokumacılıkta ileri gitmişlerdir.
- Mezopotomya uygarlıklarından etkilenmişlerdir.

yargılarından hangilerine ulaşılabilir?

- A) I ve II
B) I ve III
C) II ve III
D) I, II ve III

5. Sümerler inşa ettikleri zigguratların en üst katında bir gözlemevi kurmuşlar ve buradan gökyüzünü inceleme fırsatı bulmuşlardır.

Bu bilgiye göre Sümerlerin hangi bilim dalında ileri oldukları söylenebilir?

- A) Astronomi
B) Tıp
C) Tarih
D) Felsefe

6. Aşağıda Hititlere ait tarihi nesnelere gösterilmiştir.



Bu nesnelere bakılarak Hititlerin aşağıdaki alanlardan hangisinde ilerledikleri söylenebilir?

- A) Tarım
B) Ticaret
C) Dokumacılık
D) Madencilik

- 7.



"Ben Asur tüccarlarından Nihalhan. Bizler Mezopotomya ve Anadolu arasında ticaret yaparak geçiniriz. Dünyanın en büyük kütüphanesini bizler inşa ettik. Sümerlerden öğrendiğimiz çivi yazısını Anadolu'ya bizler taşıdık. Hititler de bizden öğrendikleri bu yazıyı tüm Anadolu'ya yaydı."

Nihalhan'ın bu sözlerine bakılarak Asurlar ile ilgili,

- Kültürel alanda ilerlemişlerdir.
- Medeniyetler arası köprü görevi görmüşlerdir.
- Anadolu'nun tarih çağlarına geçmesini sağlamışlardır.

yargılarından hangilerine ulaşılabilir?

- A) I ve II
B) I ve III
C) II ve III
D) I, II ve III

1. Geçmişte birçok uygarlığın yaşadığı ülkemiz, çok sayıda tarihî esere ev sahipliği yapmaktadır. Ayrıca ülkemizde gezilip görülebilecek eşsiz güzellikte doğal varlıklar da bulunmaktadır. Bu nedenle her yıl çok sayıda turist ülkemizi ziyaret etmektedir.

Bu bilgilere göre ülkemiz ile ilgili çıkarılabilecek en genel sonuç aşağıdakilerden hangisidir?

- A) Dünyanın en gelişmiş ulaşım ağına sahiptir.
B) İklimi ve yer şekilleri yaşamaya uygundur.
C) Önemli bir turizm potansiyeline sahiptir.
D) Doğal varlıklar bakımından zengindir.

2. Doğada insan eli değmeden oluşan unsurlara doğal varlık adı verilir. Ülkemiz, doğal varlıklar bakımından oldukça zengindir. Çevremize baktığımızda mutlaka bir doğal güzellikle karşılaşırız.

Buna göre aşağıdakilerden hangisi sahip olduğumuz doğal varlıklara örnek gösterilemez?


- A) Salda gölü
B) Galata Kulesi
C) Manyas Kuş Cenneti
D) Manavgat Şelalesi

3. Ülkemiz tarihî eserler ve doğal varlıklar bakımından zengindir. Tarihî eserler insan eliyle ortaya çıkan yapılardır. Doğal varlıklar ise insan eli değmeden oluşan güzelliklerdir.

Buna göre aşağıdakilerden hangisi ülkemizin sahip olduğu tarihi eserlere örnek gösterilebilir?




Nemrut Dağı
Heykelleri



Peribacaları



Uzungöl



Ayder Yaylası

4. Aşağıdaki tabloda bazı tarihî eser ve mekânlar ile buldukları şehirler eşleştirilmiştir.

1	Çatalhöyük Antik Kenti	Karabük
2	Malabadi Köprüsü	Diyarbakır
3	Cumalıkızık Köyü	Bursa
4	Safranbolu Evleri	Konya

Buna göre yapılan eşleştirmelerden hangileri yanlıştır?

- A) 1 ve 2
B) 3 ve 4
C) 1 ve 4
D) 2 ve 3

5. Tarihi Mekan: Geçmişte yaşamış insan topluluklarına ait kalıntıların bulunduğu yapı ve alanlardır.
- Tarihi Eser: Geçmiş uygarlıklardan kalan kalıntı ve eserlerdir.
- Tarihi Nesne: Geçmişten bizlere kalan ve tarihî değer taşıyan eşyalardır.
- Doğal Varlık: Doğada insan eli değmeden oluşan, gezip görülebilecek yerler ve unsurlardır.

Bu bilgilere göre aşağıdakilerden hangisi diğerlerinden farklı bir grupta yer alır?



İnsuyu Mağarası



Galata Kulesi



İshâk Paşa Sarayı



Sümela Manastırı

6. Aşağıdakilerden hangisi ülkemizin tarihi güzelliklerine örnek gösterilebilir?



Pamukkale Travertenleri



Abant Gölü



Ayasofya Camii



Kapadokya

7. Haluk, bayram tatilinde tarihî bir gezi yapmayı planlamaktadır.

Buna göre aşağıdaki yerlerden hangisinin Haluk'un gezi planı içerisinde yer alması beklenebilir?

- A) Bursa Ulu Camii
B) Efes Antik Kenti
C) Topkapı Sarayı
D) Harbiye Şelalesi

1. Her bölgenin özelliklerini yansıtan el sanatları kültürümüzün eşsiz değerleri arasında yer alır. Aşağıda bu değerlerimizden bazıları ile ilgili bilgiler verilmiştir.



Ankara'nın Beypazarı ilçesinde yoğun olarak yapılan gümüş işlemeciliği (telkari) ince gümüş tellerin şekillendirilmesiyle yapılır.



Tarihi çok eskilere dayanan, Kütahya çinileri, dünyaca ünlü eşsiz güzellikteki sanat eserlerindedir.



Ülkemizin her yöresinde farklı motif ve biçimlerde görülen iğne oyaları, yazma, minder ve yastık örtülerinin kenarlarında eşsiz güzellikleriyle yer alır.

Bu bilgilere göre,

- I. Telkâri bir tür maden işlemeciliğidir.
- II. Çinicilik, ülkemizde en yaygın olan el sanatıdır.
- III. İğne oyası, farklı ürünlerin süslemesini de kullanılır.

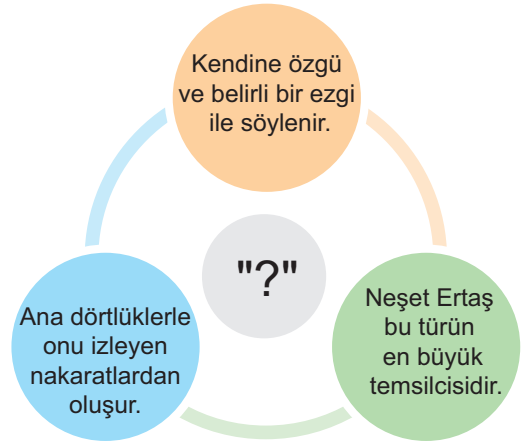
yargılarından hangilerine ulaşılabilir?

- A) I ve II B) I ve III C) II ve III D) I, II ve III

2. Aşağıdakilerden hangisi yörelere göre farklılık gösteren kültürel özelliklerimizden biri değildir?

- A) Millî bayramlarımız
B) Yemeklerimiz
C) Türkülerimiz
D) El sanatlarımız

3.



Diyagramda "?" ile gösterilen yere aşağıdakilerden hangisi yazılmalıdır?

- A) Ninnilerimiz B) Türkülerimiz
C) Manilerimiz D) Masallarımız

4. TÜRK EL SANATLARI DÜNYADA İLGİ ODAĞI OLDU

Türkiye'nin, yüzde 70'ten fazlasını el sanatları ürünlerinin oluşturduğu kültürel mal ihracatı, 2015-2017 döneminde yüzde 38 arttı.

Ahşap oyma, ipek dokuma, halı, bakır işleri, ebru, çini ve kuyumculuk sanatları en çok ihraç edilen ürünler arasında yer aldı.

KÜLTÜREL MAL

	İhracatı(Milyar Lira)	İthalatı(Milyar Lira)
2015	17,8	14
2017	24,6	18,5

Kültürel mal ihracatının TOPLAM MAL İHRACATI İÇİNDEKİ PAYI (2017)

%4,3

Kültürel mal ihracatının TOPLAM MAL İHRACATI İÇİNDEKİ PAYI (2015)

%2,2



	İhracatı(2017/Milyar Lira)	Kültürel Mal İhracatı İçindeki Payı
El sanatları Ürünleri	17,9	%72,7
Görsel ve İşitsel Medya	5,8	%24
Diğer	0,9	%3,3

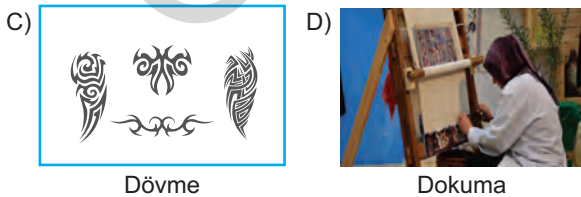

Görsele bakılarak;

- I. Ülkemizin el sanatları bakımından zengin olduğu,
- II. El sanatlarının ülke ekonomisine katkı sağladığı,
- III. El sanatları ürünlerinin, en çok ihraç edilen ürünler arasında yer aldığı

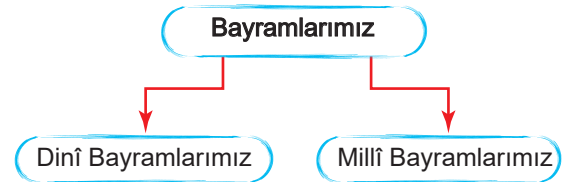
çıkarımlarından hangilerine ulaşılabilir?

- A) Yalnız I B) Yalnız II C) I ve II D) II ve III

5. Aşağıdaki el sanatlarından hangisinin Türk kültürünü yansıttığı söylenemez?



6.



Aşağıdakilerden hangisi yukarıdaki şemanın farklı bir bölümünde yer alır?

- A) Ulusal Egemenlik ve Çocuk Bayramı
B) Ramazan Bayramı
C) Gençlik ve Spor Bayramı
D) Zafer Bayramı

1.



Görselde I ve II numaralı daireler içinde gösterilen yer şekilleri aşağıdakilerden hangileridir?

- | I | II |
|-----------|----------|
| A) Körfez | Burun |
| B) Plato | Sıradağ |
| C) Ova | Ada |
| D) Delta | Yarımada |

2. Haritalarda kullanılan özel işaretlerin ne anlama geldiğini gösteren bölümlere "lejant" denir.

Buna göre aşağıdakilerin hangisi lejant bölümünde bulunmaz?

- A) Haritanın adı
- B) Haritadaki yeryüzü şekillerinin özellikleri
- C) Haritada kullanılan işaretlerin açıklamaları
- D) Haritanın ölçeği

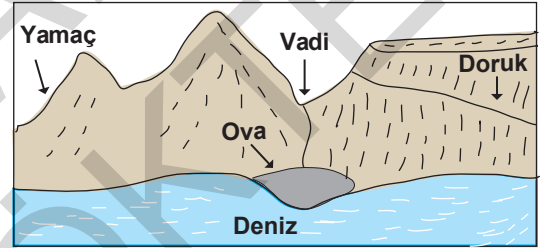
3.

Türkiye fiziki haritası incelendiğinde Marmara kıyılarında yeşil tonunun daha fazla kullanıldığı görülmektedir.

Bu durumun nedeni aşağıdakilerden hangisidir?

- A) Dağ ve platoların geniş yer kaplaması
- B) Yükseltinin az olması
- C) Ormanlık alanların geniş yer kaplaması
- D) Nüfusun seyrek olması

4.



Yukarıdaki görsel üzerinde gösterilen yer şekillerinden hangisinin adı yanlış verilmiştir?

- A) Yamaç
- B) Doruk
- C) Vadi
- D) Ova

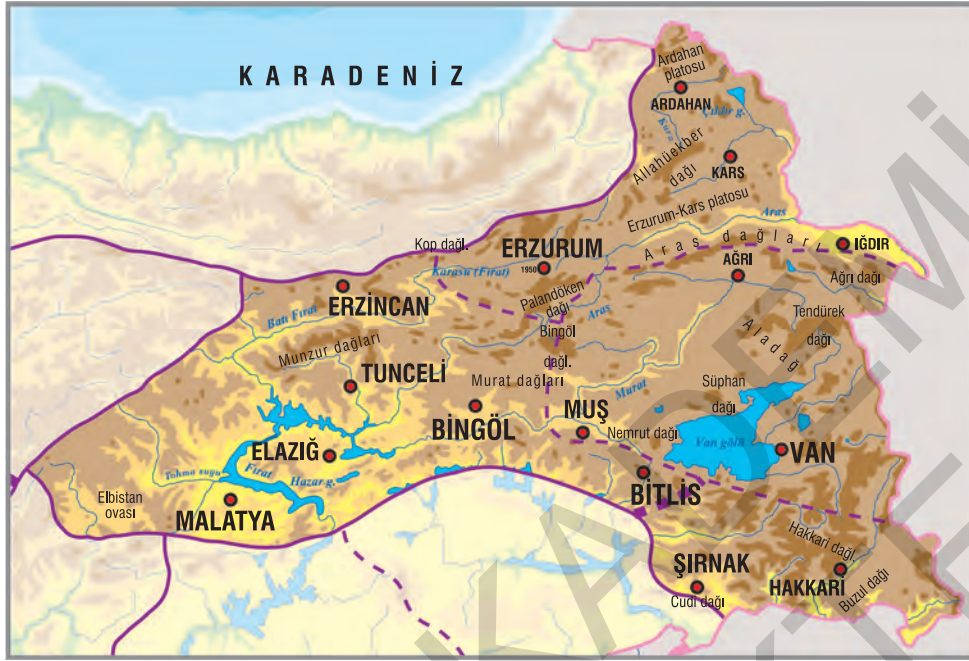
5.

Yükseltinin ve engebeli arazilerin fazla olduğu yerlerde nüfus daha seyrek.

Buna göre aşağıdaki yerlerden hangisinde nüfus seyrek olması beklenir?

- A) Konya
- B) Adana
- C) Hakkâri
- D) İzmir

6.



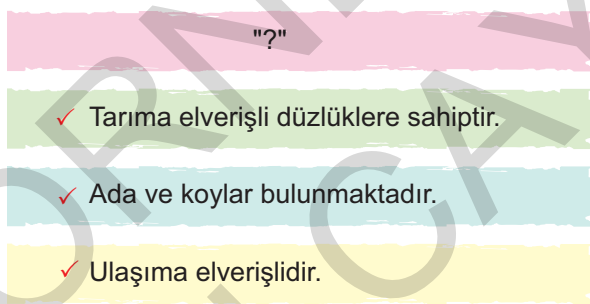
Haritaya bakılarak Doğu Anadolu ile ilgili,

- I. Yükseltisi fazladır.
- II. Ulaşım şartları zordur.
- III. Bölge tarım ve ticaretin gelişmesine uygundur.

yorumlarından hangileri yapılabilir?

- A) I ve II B) I ve III C) II ve III D) I, II ve III

7.



Görselde "?" ile gösterilen yere aşağıdakilerden hangisi yazılamaz?

- A) Marmara kıyıları
B) Doğu Anadolu
C) Ege kıyıları
D) Akdeniz kıyıları

8.



Turistik bir gezi için İzmir'den Hakkâri'ye giden Safiye, bu yolculuktaki gözlemlerini günlüğüne yazmıştır.

Buna göre Safiye'nin günlüğüne aşağıdakilerden hangisini yazdığı söylenemez?

- A) Yükseltinin sürekli arttığı
B) Engebeli arazilerin fazla olduğu
C) Ulaşımın oldukça zor olduğu
D) Ovaların geniş yer kapladığı

1.



Fiziki haritalarda deniz seviyesi her zaman 0 (sıfır) olarak kabul edilir.

Buna göre;





- 0 - 500 metre arasında bulunan yükselti-ler yeşil renkle,
- 500 - 1000 metre arasında bulunan yükselti-ler sarı renkle,
- 1000 - 1500 metre arasında bulunan yükselti-ler turuncu renkle,
- 1500 metre ve daha yüksekteki yerler kahve- renginin tonlarıyla gösterilir.

Verilen bilgiye ve haritaya bakılarak ülkemiz ile ilgili aşağıdaki çıkarımlardan hangisine ulaşamaz?

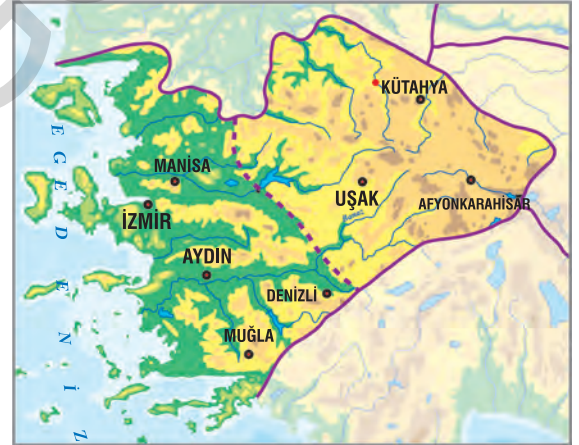
- A) Batıdan doğuya doğru gidildikçe yükseltisi artmaktadır.
- B) İç kesimlerden kıyılara doğru yükseltisi azalmaktadır.
- C) Genel olarak yükseltisi fazladır.
- D) Kıyı kesimlerinde orman varlığı iç kesimlere göre daha fazladır.

2. Akarsular tarafından derin yarılmamış, çevresine göre alçakta kalan düzlüklerdir.

Buna göre hakkında bilgi verilen yeryüzü şekli aşağıdakilerden hangisidir?

- A)  Ova
- B)  Dağ
- C)  Plato
- D)  Obruk

3. Aşağıda Ege'nin iç ve kıyı kesimlerini gösteren fiziki haritaya yer verilmiştir.



Haritaya bakılarak Ege ile ilgili,

- I. Kıyı kesiminde ovalar geniş yer kaplar.
- II. Koy ve körfezlere sahiptir.
- III. Kıyıdan iç kesimlere doğru yükseltisi artar.

yorumlarından hangileri yapılabilir?

- A) I ve II
- B) I ve III
- C) II ve III
- D) I, II ve III

4.



Selim, gezi için gittiği İstanbul ve çevresiyle ilgili gözlemlerini defterine not almıştır.

İstanbul ve çevresini gösteren haritaya bakıldığında aşağıdakilerden hangisi Selim'in aldığı notlar arasında yer almaz?

- A) Yükselti fazladır.
B) Yer şekilleri sadedir.
C) Ovalar geniş yer kaplar.
D) Birçok ada barındırır.

5. Yükselti basamaklarına göre yeryüzü şekillerinin dağılışını gösteren haritalara fiziki harita denir.

Buna göre Türkiye fiziki haritasına bakıldığında aşağıdakilerden hangisi hakkında yorum yapılamaz?

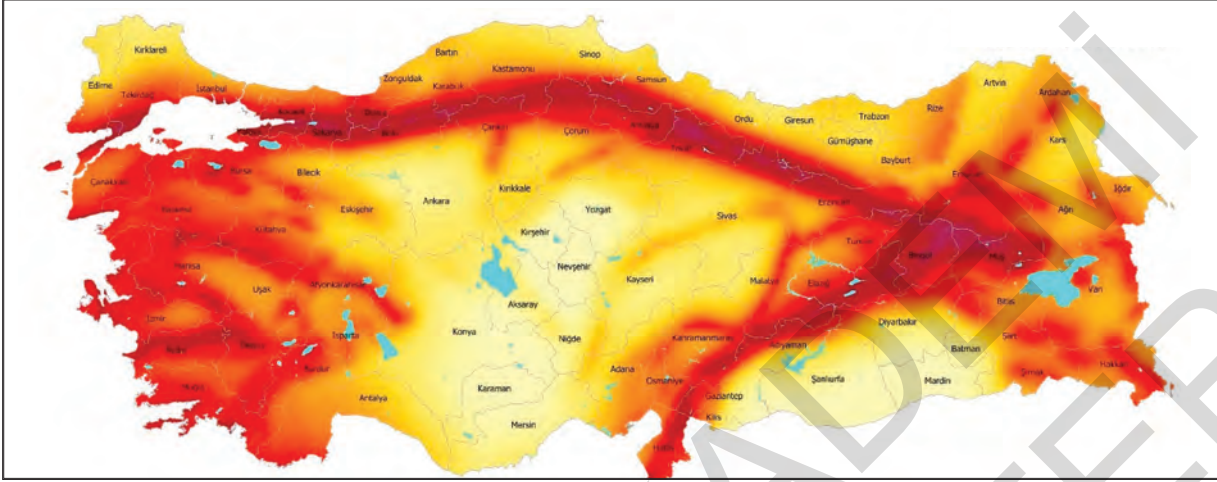
- A) Yükselti basamakları
B) Yeryüzü şekilleri
C) Yetiştirilen tarım ürünleri
D) Denizler ve göller

6. Bir çizimin harita olabilmesi için bazı özelliklere sahip olması gerekir.

Aşağıdakilerden hangisi bu özellikler arasında yer almaz?

- A) Belli bir ölçek dahilinde küçültülme
B) Kuşbakışı görünüşe göre çizilme
C) Bir düzlem üzerine aktarılma
D) Kabataslak çizilme

5. Aşağıda Türkiye'nin Deprem Bölgeleri haritası verilmiştir.



Verilen haritaya bakılarak,

- I. Ülkemizin büyük bir bölümü deprem tehlikesi altındadır.
- II. İç kesimlerdeki deprem riski, kıyı kesimlerine göre daha fazladır.
- III. Güney batı Anadolu'da deprem yaşanma ihtimali yoktur.

yargılarından hangilerine ulaşılabilir?

- A) Yalnız I B) I ve II C) I ve III D) II ve III

6. Dağlık ve engebeli yerlerde sürekli kar yağması sonucunda yamaçlarda biriken kar kütesinin aşağıya doğru hareket etmesiyle meydana gelen doğal afete çığ denir. Çığın kara yolları üzerine düşmesi sonucu yollar kapanır. İnsanlar işlerine, öğrenciler okullarına gidemez. Kayak merkezlerine çığ düşmesi turizmi olumsuz etkiler. Çığ, önüne çıkan ağaçları yerinden sökebilir. Sökülen ağaçlarla ilerleyen çığ, can ve mal kaybına sebep olabilir.

Bu bilgilere göre çığ felaketi,

- I. Ekonomik faaliyetlere zarar verir.
- II. Gündelik hayatı olumsuz etkiler.
- III. Eğitim faaliyetlerinin aksamasına neden olur.

yargılarından hangilerine ulaşılabilir?

- A) I ve II B) I ve III
C) II ve III D) I, II ve III

7. Van'ın Bahçesaray ilçesinde bir minibüsün üzerine çığ düşmesinin ardından 8 kişi hayatını kaybetti, 30 kişi de sağ olarak kurtarıldı. Van valisi konuya ilişkin, "Yeni bir çığ ihtimaline karşı dün arama - kurtarma ekiplerimizi çektik ve aramayı durdurduk. Bugün sabah alınan bir kararla da bölgede tekrar arama kurtarma faaliyetlerini başlattık." dedi.

Bu bilgilere göre yaşanan doğal afet ile ilgili aşağıdakilerden hangisi söylenemez?

- A) Can kayıplarına neden olmuştur.
B) Kar kütlelerinin harekete geçmesiyle ortaya çıkmıştır.
C) Arama kurtarma çalışmalarında dikkatli olunmuştur.
D) Fay hatlarının harekete geçmesi felaketin şiddetini artırmıştır.

1. Teknolojinin günlük yaşamımızdaki yerini düşünelim. Otomobil ya da otobüs gibi taşıtlarla okula, işe gidiyoruz. Cep telefonu, tablet, bilgisayar gibi araçları gün içinde sıkça kullanıyoruz. Artık daha hızlı yolculuk yapabiliyoruz. Ev işlerini daha kısa sürede bitirebiliyoruz. Bankacılık işlemlerini genel ağ kullanarak, birkaç tuşa basarak yapabiliyoruz. Dünyanın neresinde olursa olsun sevdiklerimizle iletişim kurabiliyoruz. Ancak sanal ortamda iletişim yaygınlaşırken yüz yüze iletişim giderek azalmakta, bu durum insanları yalnızlığa sürüklemektedir. Evde akşamları tüm aile bireyleri bir araya geldiğinde sohbet etmek yerine bilgisayar, cep telefonu gibi araçlarla zaman geçirmeyi tercih etmektedir.

Metne göre,

- I. Teknoloji birçok alanda hayatımızı kolaylaştırmaktadır.
- II. Teknolojinin insan hayatına olumlu etkileri olduğu gibi olumsuz etkileri de vardır.
- III. Teknoloji bağımlılığı ciddi sağlık sorunlarına neden olmaktadır.

çıkarmalarından hangilerine ulaşılabilir?

- A) I ve II
B) I ve III
C) II ve III
D) I, II ve III

2.

?

Bugün evinizde internetten 3-5 dakika içinde alışveriş yapabilirsiniz.

Ölümcül birçok hastalığın çaresi yapılan teknolojik aletler ve makineler sayesinde bulundu.

Basım - yayın sektörünün kullandığı teknolojiler ile günümüzde 1 saat içinde binlerce kitap basılabilir.

60 saniyede bir apartmanın 1. katından 10. katına çok rahat bir şekilde çıkabilirsiniz.

Bu bilgilere göre “?” ile gösterilen yere aşağıdakilerden hangisi yazılmalıdır?

- A) Teknolojinin Ortaya Çıkmasında Etkili Olan Nedenler
- B) Teknolojinin Olumlu Etkileri
- C) Teknolojinin İnsan Sağlığına Zararları
- D) Teknolojinin Tarihsel Gelişimi

3.



Merhaba adım Berkay. 12 yaşındayım. Babam çalıştığı iş sebebiyle her ay yurtdışına çıkıyor. Ben de babamı her özlediğimde akıllı telefonumdan görüntülü arayıp görüşebiliyorum. Babam da bizlere gittiği yerlerden güzel fotoğraflar atıyor.

Metne göre teknoloji hakkında;

- I. Bireyler arasında iletişimi kolaylaştırdığı,
- II. Uzak mesafeleri yakınlaştırdığı,
- III. İnsanlara birçok alanda hizmet ettiği

yargılarından hangilerine ulaşılabilir?

- A) I ve II
B) I ve III
C) II ve III
D) I, II ve III

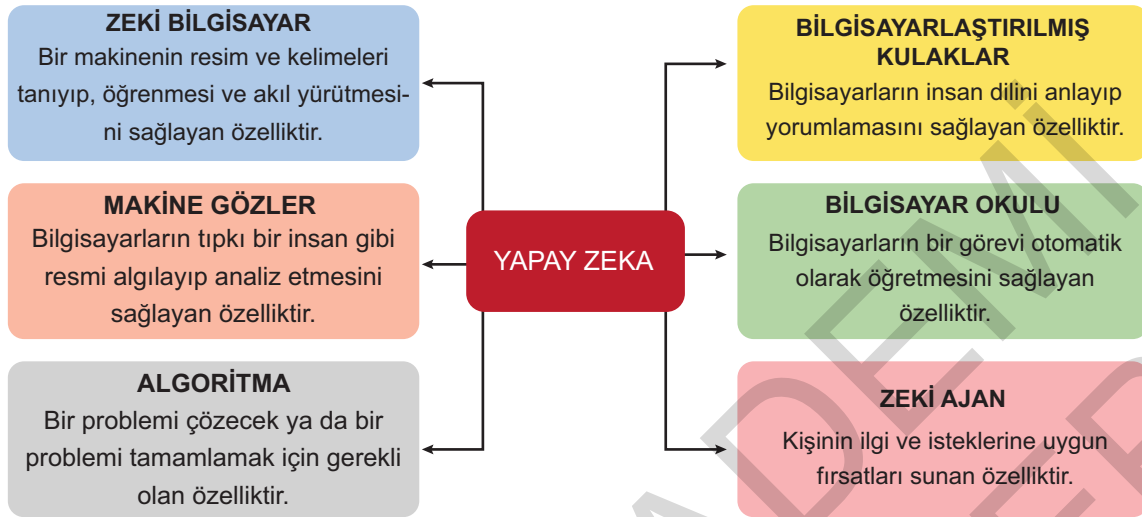
4.

Doğal kaynakların kullanılmasıyla başlayan teknoloji, genel olarak insanların ihtiyaçlarından doğmuştur. Her ihtiyaç, farklı bir teknolojinin gelişmesine yol açmıştır. Tekerleğin icadı, teknolojik bir devrimdir. Matbaa ve telefonun icadı adeta toplumların kaderini değiştirmiştir. Nihayet internetin keşfi ile iletişim devrimi yaşanmıştır. Toplumlar arası etkileşim ve iletişim kaynakları bir anda internete evrildi. Nükleer ve askeri teknolojilerdeki gelişmeler, ülkeleri yeni teknolojiler icat etmeye sevk etti. Günümüzde artık yapay zekânın insanları yöneteceğini, nano-teknolojileri ve parçacık teknolojilerini konuşuyoruz.

Bu açıklamaya göre aşağıdaki yargılardan hangisine ulaşamaz?

- A) Teknolojinin ortaya çıkmasında ihtiyaçlar etkili olmuştur.
- B) Bazı icatların toplum üzerinde etkileri fazladır.
- C) Teknolojinin gelişmesi yeni icatları ortaya çıkarmıştır.
- D) Teknolojinin gelişim seyri tüm dünyada aynı seviyede gerçekleşmektedir.

5.



Görselden hareketle yapay zeka ile ilgili,

- Birden fazla özelliğe sahiptir.
- Kişilere özel fırsatlar sunabilmektedir.
- İnsana ait özellikler teknolojiyle bütünleşmiştir.

yargılarından hangilerine ulaşılabilir?

- A) I ve II B) I ve III C) II ve III D) I, II ve III

6.



Görselden hareketle teknoloji ile ilgili aşağıdakilerden hangisine ulaşılabilir?

- Tüm dünyada projeksiyon sisteminin kullanıldığı
- Projeksiyonun, en çok eğitim alanında kullanıldığı
- Teknolojik buluşların zamanla geliştirildiği
- Tüm toplumlarda teknolojinin gelişim hızının aynı olduğu

7.

Teknolojinin toplumlar üzerinde olumlu ve olumsuz birçok etkileri vardır. Günümüzde teknolojinin gelişmesiyle birlikte alışkanlıklarımız ve yaşantımızda değişiklikler ortaya çıktı. Eskiden konuşmak ve sohbet etmek için gittiğimiz komşu ziyaretlerimizde artık toplanıp hep birlikte dizi seyrederek olduk. Şimdilerde o eski sohbet ortamlarının yerini televizyon dizileri aldı.

Bu parçaya göre aşağıdaki çıkarımlardan hangisine ulaşılabilir?

- Teknolojinin toplumsal ilişkiler üzerinde etkili olduğu
- Teknolojinin tüm ülkelerde kabul gördüğü
- Teknolojinin ortaya çıkmasında birçok etkenin olduğu
- Teknolojinin varlığının geleceğin garantisi olduğu

5. Toprak, orman, maden vb. kaynakları kullanarak yeni ürün elde etmeye üretim; üretilen malın kullanılması veya hizmetten yararlanılmasına da tüketim denir.

Buna göre;



Pamuk tarlası



Kumaş fabrikası



Tekstil atölyesi



Tekstil mağazası

görsellerden hangisinin üretim aşamasıyla ilgili olduğu söylenemez?

A) I

B) II

C) III

D) IV

6.

Yıkılmamış
Pamuk

Pamuk Elyafı



Pamuk İpliği

Ham Pamuklu
KumaşTerbiye Görmüş
ve Boyanmış Kumaş

Pamuklu Elbise

Pamuk
BalyasıÇırcırlama
İşlemiİplik Eğirme
İşlemleriDokuma veya
Örmek
Kumaş EldesiTerbiye İşlemleri
ve Kumaşın
BoyanmasıKonfeksiyon
İşlemleri

Görselde pamuk ile ilgili;

- I. Üretim,
- II. Dağıtım,
- III. Tüketim

aşamalarının hangilerinden bahsedilmiştir?

A) Yalnız I

B) I ve II

C) I ve III

D) II ve III

1. Aşağıda domates salçasının tarladan market rafına geliş serüveni anlatılmıştır.

- 1 Domatesler tarladan toplanır.
- 2 Tarlaya gelen kamyonetlere yüklenir.
- 3 Kamyonetlerle fabrikaya getirilir.
- 4 Salça hâline getirilip kolilerle marketlere ulaştırılır.
- 5 Satın alınan salça soframızdaki yemeğe eşsiz lezzet katar.

Görselde numaralanmış faaliyetlerden hangisi tüketim aşaması ile ilgilidir?

- A) 1 B) 3 C) 4 D) 5

2. Köyümde eşimle birlikte yetiştirdiğimiz doğal domates ve biberleri kasabamızda kurulan pazarda satarız. Kazandığımız paraların bir kısmıyla da pazardan ihtiyaçlarımızı alır ve akşam olmadan köyümüze geri döneriz.

Metne göre Ayşe Teyze'nin yaptığı faaliyetler ekonominin;

- I. Üretim,
- II. Dağıtım,
- III. Tüketim

aşamalarından hangileri ile ilgilidir?

- A) Yalnız I B) Yalnız III
C) I ve III D) II ve III

3. Tüm dünyayı etkisi altına alan virüs salgını, ülkemizdeki ekonomik faaliyetleri de etkiledi.



Merhaba adım Hasan. Ben bir çiftçiyim. Her yıl mart ayında diktiğimiz domates fidelerini bu yıl salgın sebebiyle iki ay geç dikmek zorunda kaldık. Ürünlerimizi geç ektiğimiz için bu yıl geç hasat yapılacaktır.



Merhaba adım Turgut. Ben bir şoförüm. Her yıl Antalya'da yetiştirilen ürünleri tırma yükleyip Rusya'ya taşıyordum. Bu yıl pandemi sebebiyle bu sevkiyat yapılmadı. Tabi bu da bizi ekonomik olarak olumsuz etkiledi.

Metne göre salgın sürecinin ekonomik faaliyetlerin hangi aşamalarını olumsuz etkilediği söylenebilir?

- A) Üretim B) Dağıtım
C) Üretim ve dağıtım D) Üretim ve tüketim

4.



İSTANBUL'DA GÜNDE YAKLAŞIK 19 BİN TON ATIK ÇIKIYOR



İstanbul'da:

- 8 aktarma istasyonu,
- 2 düzenli depolama sahası,
- 2 geri kazanım tesisi ve
- 2 çöpten elektrik üretim tesisi var.

Kömürçüoda Katı Atık
Bertaraf Tesislerinde
7 BİN TON ATIK

Seymen Katı Atık
Bertaraf Tesislerinde
12 BİN TON ATIK

**Katı Atık Aktarma Tesisleri:**

Aydınlı, Şile, Küçükbakkalköy,
Hekimbaşı, Halkalı, Silivri,
Baruthane ve Yenibosna

**Elektrik Enerjisi Üretim Tesisleri:**

Eyüp Odayeri'ndeki çöp gazından elektrik
enerjisi üretim tesisinde günde
10 bin metreküp, Şile Kömürçüoda'daki
çöp gazından elektrik enerjisi üretim
tesisinde **5 bin metreküp çöp gazı** işleniyor.

İki tesiste **400 bin megavat saat** elektrik
enerjisi üretiliyor.

Yapılan bu çalışmalara bakılarak İstanbul Büyükşehir Belediyesinin;

- Enerji tasarrufu sağlamak,
- Ekonomiye katkı sağlamak,
- Gelecek nesillere temiz bir çevre bırakmak

hedeflerinden hangilerini gerçekleştirmek istediği söylenebilir?

- A) I ve II B) I ve III C) II ve III D) I, II ve III

5.



Şakir Bey: "Bizler fabrikamızda üretilen gömlekleri paketleyip müşterilerimize ulaştırılması için kamyonetlere yükleyen ekibin içerisinde yer alıyoruz."

Metne göre Şakir Bey ile ilgili;

- Ekonominin üretim aşamasında görev aldığı,
- Ekonominin dağıtım aşamasında görev aldığı,
- Ekonominin tüketim aşamasında görev aldığı

çıkarımlarından hangilerine ulaşılabilir?

- A) Yalnız I B) Yalnız II
C) I ve II D) II ve III

6.

Ekonomik faaliyetler sonucunda yeni bir ürün elde edilmesine üretim denir. Zeytinden zeytinyağı, buğdaydan un, undan ekmek, keresteden mobilya, ineklerden süt elde edilmesi üretime örnek olarak gösterilebilir. Bu ürünlerin tüketiciye ulaşması için çeşitli araçlarla taşınması gerekir. Buna dağıtım denir. Dağıtım ülke içinde olduğu gibi gelişen teknoloji sayesinde uluslararası şekilde de olabilir. Ülkemizde üretilen bazı ürünler ülke içi ihtiyacın karşılanmasında kullanılırken, bazıları da ihraç edilir. Buna örnek olarak beyaz eşya, sebze ve meyvelerin ülke dışına satılması gösterilebilir. Üretilen malların ihtiyacı olan insanlar tarafından satın alınıp kullanılmasına da tüketim denir.

Bu bilgilere göre aşağıdakilerden hangisine ulaşamaz?

- A) Üretim faaliyetleri bitkisel ve hayvansal üretim olarak ayrılabilir.
B) Ürünlerin taşınması işi dağıtım aşaması ile ilgilidir.
C) Teknolojik gelişmeler dağıtım işini genişletmiştir.
D) E-ticaret, tüketim alışkanlıklarının değişmesine neden olmuştur.

1. Aşağıdakilerden hangisi sivil toplum kuruluşlarının özellikleri arasında yer almaz?

- A) Topluma hizmet ederler.
- B) Yapılan işin karşılığında ücret almazlar.
- C) Çalışmalarını yasalara uygun olarak yürütürler.
- D) Üyeleri maddi kazanç sağlama amacı taşırlar.

2.

	Sivil Toplum Kuruluşu		Faaliyet Alanı
I.	TEMA	→	İnsani yardım
II.	Kızılay	→	Sağlık
III.	Yeşilay	→	Zararlı alışkanlıklar
IV.	AKUT	→	Arama Kurtarma

Yukarıda verilen sivil toplum kuruluşları ve faaliyet alanları ile ilgili eşleştirmelerden hangisi yanlıştır?

- A) I
- B) II
- C) III
- D) IV

3. Aşağıdakilerden hangisi köylerde ve kasabalarda güvenliğimizi sağlamakla görevlidir?

- A) Avukat
- B) Jandarma
- C) Mühendis
- D) Polis

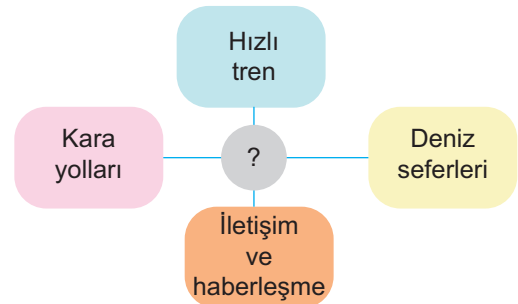
4.



Yukarıda logoları verilen kurumların aşağıdaki alanlardan hangilerinde hizmet verdikleri söylenemez?

- A) Sağlık
- B) Ekonomi
- C) Ulaşım
- D) Barınma

5.



Diyagramda verilen hizmetleri yerine getiren bakanlık aşağıdakilerden hangisidir?

- A) T.C. Ulaştırma ve Altyapı Bakanlığı
- B) T.C. İçişleri Bakanlığı
- C) T.C. Çevre, Şehircilik ve İklim Değişikliği Bakanlığı
- D) T.C. Enerji ve Tabii Kaynaklar Bakanlığı

6.

150 YILLIK MERHAMET ÇINARI
"TÜRK KIZILAYI"

Dünyanın dört bir yanında 150 yıldır mazlumların yanında olan Türk Kızılayı, kuruluşundan bu yana dil ve din ayrımı gözetmeden 151 ülkede ihtiyaç sahiplerine şefkat elini uzattı.

Kuraklıktan sararan toprakların muhtaçları, çatışmalardan yorulan ülke insanları, Kızılayın yardımları ile rahat bir nefes aldı.

2015
201820 ÜLKEDE
53 ÜLKEDE3 MİLYON 500 BİN KİŞİYE
7 MİLYON KİŞİYE YARDIM ULAŞTIRDI.

KAN HİZMETLERİ

18
BÖLGE KAN
MERKEZİ67
KAN BAĞIŞ
MERKEZİ350
MOBİL KAN
BAĞIŞ MERKEZİ

Görselden hareketle Türk Kızılayı ile ilgili aşağıdakilerden hangisine ulaşamaz?

- A) Bir yardım kuruluşudur. B) Kuruluşu eski tarihlere dayanır.
C) İnsanların temel ihtiyaçlarını karşılamaya çalışır. D) Faaliyetlerini yurt dışında yürütür.

7.



Tema, ülkemizde kuraklık ve erozyonla mücadele için kurulmuş bir vakıftır. Sahip olduğu binlerce gönüllü sayesinde ülkemizin birçok yerinde ağaçlandırma çalışmalarında bulunmaktadır.

Buna göre Tema Vakfı ile ilgili aşağıdaki yargılardan hangisine ulaşamaz?

- A) Bir sivil toplum kuruluşudur.
B) Gönüllülerinin destekleriyle faaliyetlerini yürütmektedir.
C) Doğal çevrenin korunmasına yönelik çalışmalar yapmaktadır.
D) Giderleri devlet tarafından karşılanmaktadır.

8.



Verilen görselden hareketle LÖSEV Vakfı ile ilgili,

- I. Sağlık alanında hizmet vermektedir.
II. Vatandaşlardan yardım kabul etmektedir.
III. T.C. Sağlık Bakanlığına bağlı olarak çalışmaktadır.

Yorumlarından hangilerine ulaşılabilir?

- A) I ve II B) I ve III
C) II ve III D) I, II ve III

1.

Mobil Ödemeler

Dijital teknolojilerin, ekonomi sektörüne girişi yeni bir dönemi başlatıyor. Belki de birkaç yıl içinde yanımızda cüzdan veya kredi kartı taşımaya gerek kalmadan tüm işlerimizi halledebileceğiz. Hatta bu bireysel tüketim sınırlı kalmayarak küresel ticarete de yansıyor. Bazı hükümetler teknolojik paralar ile ithalat-ihracat yaparak ödeme bu teknolojilere yönelik girişimlerde bulunuyor.



Yapay Zekâ ve Makine Öğrenimi

Yapay zeka ve makine öğrenimi, ticari nakliye rotalarını optimize etmek, limanlardaki gemi ve kamyon trafiğini yönetmek ve e-ticaret arama sorgularını bir dilden diğer dile çevirmek ve çevrilmiş kayıtlara yanıt vermek için kullanılabilir. Bu gelişme verimlilik artışı ve daha iyi tüketici olmanın yanı sıra, küresel ticareti sürdürülebilir hale getiriyor.



Verilen bu bilgilerden hareketle aşağıdaki yargılardan hangisine ulaşamaz?

- A) Teknolojinin gelişimi ticarete yenilikler getirmiştir.
- B) Bazı ülkelerde teknolojik gelişmelerden daha fazla yararlanılmaktadır.
- C) Gelişen teknoloji ticari faaliyetlerin devamlılığına katkı sağlamıştır.
- D) Teknolojinin insan sağlığı üzerinde olumsuz etkileri de vardır.

2.



Yukarıdaki harita üzerinde numaralandırılarak gösterilen bölgelerin hangisinde ticari faaliyetler daha yoğun yapılmaktadır?

- A) I
- B) II
- C) III
- D) IV

- 3. Nihal Öğretmen sosyal bilgiler dersinde aşağıdaki bilgiyi vermiştir.



Teknolojinin gelişmesi her alanda kolaylıklar sağlamıştır. Bu alanlardan birisi de ticari faaliyetlerdir.

Buna göre aşağıdakilerden hangisinin ticari faaliyetlerin gelişimine katkısının en az olduğu söylenebilir?

- A) İnternet
- B) Mektup
- C) Faks
- D) Telefon

4. Eski dönemlerde ticaret daha çok hayvanlar ile yapılmaktaydı. Günümüzde ise gelişen teknoloji sayesinde bu ticari faaliyetler daha hızlı yapılır hale geldi. Örneğin kargo uçakları sayesinde dünyanın bir ucundan diğer ucuna istediğimiz bir ürünün ticaretini çok kolay bir şekilde yapabilmekteyiz.

Buna göre;

- I. Ticaretin gelişiminde teknolojinin etkili olduğu,
- II. Teknolojinin tüm toplumlarca kullanıldığı,
- III. Ticari faaliyetlerin sadece teknolojik araçlar ile yapıldığı

yargılarından hangilerine ulaşılabilir?

- A) Yalnız I
B) Yalnız III
C) I ve II
D) II ve III

5.

GAZETE

Son zamanlarda Adalar'da yaşanan at ölümleri gözleri bu bölgeye çevirdi. Turistleri taşıyan faytonları çeken atların sahipleri tarafından acımasızca çalıştırılması kamuoyunun tepkisini çekmiştir. Bu durum karşısında belediye sessiz kalmamıştır. İstanbul Büyükşehir Belediyesi, Adalar'da elektrikli araçların kullanılacağını ve her biri 12 kişilik olan elektrikli araçlarla toplu taşımacılığın yapılacağını duyurdu.

Buna göre aşağıdakilerden hangisine ulaşamaz?

- A) Teknoloji ekonomik faaliyetlerin yapılmasına katkı sağlamaktadır.
- B) Ulaşım araçları zaman içinde değişime uğramaktadır.
- C) Adalardaki yeryüzü şekilleri ulaşımın rahat yapılmasını sağlamaktadır.
- D) Ulaşım olanakları turizm faaliyetlerine katkı sağlamaktadır.

6. Üretim fazlası ürünler e-ticaret yoluyla dünyanın farklı yerlerine pazarlanabilmekte, ödemeler genel ağ bankacılığı ile alınmakta, siparişler ise gemi ve uçaklarla gönderilmektedir.

Verilen bilgide ülkeler arasında yaşanan ticari ilişkilerde;

- I. İletişim,
- II. Ulaşım,
- III. Kültür

gibi faktörlerden hangilerinin gerekliliğine vurgu yapılmıştır?

- A) Yalnız I
B) I ve II
C) I ve III
D) I, II ve III

7.



Ülkemizde teknolojinin gelişmesi ile ticari alışverişlerde e-ticaret kullanımı gelişmiştir.

Görselden hareketle e-ticaret ile ilgili,

- I. Ülkemizde 10 milyondan fazla e-ticaret müşterisi vardır.
- II. En fazla büyük şehirlerde kullanılmaktadır.
- III. İnternet kullanıcılarının hepsi e-ticaret ile alışveriş yapmaktadır.

yargılarından hangilerine ulaşılabilir?

- A) Yalnız I
B) Yalnız II
C) I ve II
D) I, II ve III