

SINIF 8

T.C İNKILAP TARİHİ VE
ATATÜRKÇÜLÜK

HDS

Haftalık Değerlendirme sınavı

Adı ve Soyadı :

Sınıfı :

Okul Numarası :

1. Sınav

1. ÜNİTE : BİR KAHRAMAN DOĞUYOR
KONU : XX. Yüzyılın Başlarında Osmanlı Devleti

Kazanım 8.1.1. : Avrupa'daki gelişmelerin yansımaları bağlamında Osmanlı Devleti'nin yirminci yüzyılın başlarındaki siyasi ve sosyal durumunu kavrar.

1. Avrupalı devletlerin gerçekleştirdiği coğrafi keşifler sonucu ticaret gemileri yönünü Akdeniz'den Atlas Okyanusu'na çevirdi. Bunun sonucunda Osmanlı Devleti'nin kontrolündeki İpek ve Baharat Yolları eski canlılığını kaybetti. Osmanlı Devleti'nin gümrük gelirleri büyük ölçüde azaldı. Gümrük gelirlerini artırmak amacıyla uygulamaya konulan kapitülasyonlar amacına hizmet etmediği gibi ekonomiye zarar vermeye başladı.

Bu bilgilere bakılarak aşağıdaki yargılardan hangisine ulaşılabilir?

- A) Osmanlı Devleti'nin gümrüklerden elde ettiği gelirleri sona ermiştir.
- B) Coğrafi keşifler sonucunda Akdeniz ticareti daha önemli hale gelmiştir.
- C) Avrupalı devletler arasında ham madde ve pazar rekabeti yaşanmıştır.
- D) Coğrafi keşiflerin uluslararası sonuçları olmuştur.

2. Avrupa'da gelişen Sanayi İnkılabı, Osmanlı Devleti'ni olumsuz etkiledi. Sanayileşen Avrupalı devletler ürettikleri ürünleri kapitülasyonlar sayesinde Osmanlı ülkesine kolaylıkla ihraç ettiler. Osmanlı toprakları uluslararası ortak pazara dönüştü. Osmanlı pazarları Avrupa'dan gelen ucuz ürünlerle doldu. İnsanlar, ucuz ithal mallara yönelince malını satamayan yerli esnaf üretimi durdurmak zorunda kaldı.

Bu bilgilere bakılarak aşağıdaki sorulardan hangisine cevap verilemez?

- A) Sanayi İnkılabı ilk kez hangi ülkede ortaya çıkmıştır?
- B) Sanayi İnkılabı Osmanlı Devleti'ni hangi alanda olumsuz etkilemiştir?
- C) Osmanlı Devleti'nde yerli üretimin durma noktasına gelmesinin nedeni nedir?
- D) Kapitülasyonlar Osmanlı Devleti'ni olumsuz etkilemiş midir?

9. 

Osmanlı Devleti, kuruluşundan XVIII. yüzyıla kadar Avrupa devletleri arasındaki güçlü konumunu ve üstünlüğünü sürdürmeyi başardı. Fakat bu yüzyıldan sonra hem devlet içindeki hem de Avrupa'daki değişikliklerin etkisiyle gücünü kaybetmeye başladı. Ülkenin kötü yönetilmesi üst üste yaşanan toprak kayıpları ve Avrupa'daki teknolojik gelişmelerin yeterince takip edilmemesi gibi olaylar Osmanlı gibi büyük bir devletin yıkılma sürecini daha da hızlandırdı. Devletin kötü yönetimi, güç ve çıkar odaklarının oluşmasına yol açtı. Bu durum, karışıklıklara ve düzensizliklere neden oldu. Devlet otoritesinin bozulması sonucunda sosyal, ekonomik ve askerî yapılanmada çöküş başladı.

”

Bu bilgilere bakılarak Osmanlı Devleti ile ilgili aşağıdakilerden hangisine ulaşılamaz?

- A) Merkezî otoritenin bozulması diğer alanları da olumsuz etkilemiştir.
 B) Zamanın gelişmelerine ayak uyduramaması yıkılma sürecini hızlandırmıştır.
 C) Güç kaybetmesinde ülke içinde ve dışında yaşanan gelişmelerin etkisi olmuştur.
 D) Kuruluşundan XVIII. yüzyıla kadar dünyanın en güçlü devleti olma özelliğini korumuştur.

10.

Tanzimat Fermanı'nın Önemi

1. Azınlıkların zaten var olan hakları yasal güvence altına alındı.
2. Mahkemeler herkese açık hale getirildi.
3. Herkese mal, mülk sahibi olabilme hakkı verildi.
4. Kanun üstünlüğü kabul edildi.

Yukarıdaki bilgileri okuyan Ali, Tanzimat Fermanı ile ilgili şu yorumları yapmıştır.

I. Özel mülkiyet hakkı güvence altına alınmıştır.

II. Anayasal düzene geçiş yolunda adım atılmıştır.

Buna göre Ali'nin yaptığı iki yorumu yukarıdaki maddelerden hangilerine dayandırdığı söylenebilir?

- A) I. Yorum: 4. madde
II. Yorum: 2. madde
- B) I. Yorum: 1. madde
II. Yorum: 3. madde
- C) I. Yorum: 3. madde
II. Yorum: 4. madde
- D) I. Yorum: 1. madde
II. Yorum: 2. madde

Test bitti. Cevaplarınızı kontrol ediniz.

Cevaplarınızı optiğe işaretleyiniz.

Ad Soyad :

1	A	B	C	D
2	A	B	C	D
3	A	B	C	D
4	A	B	C	D
5	A	B	C	D
6	A	B	C	D
7	A	B	C	D
8	A	B	C	D
9	A	B	C	D
10	A	B	C	D


Optik No :

8 3 3

FERNUS

MOD PRO

2.



Asım Gündüz

“Doğup büyüdüğü Selânik'in Batı'ya daha çok bağlantılı bulunması sebebiyle olacak, dikkat çeken fikirleri vardı. Etrafına topladığı arkadaşlarıyla cesaretle konuşur ve onları güzel konuşmasıyla kısa zamanda tesiri altına alırdı... Bizler vatan, millet, Türklük fikirlerini ilk defa Harp Akademisi sıralarında ondan duymuştuk.”

Sınıf arkadaşı Asım Gündüz'ün anlattıklarına bakılarak Mustafa Kemal ile ilgili,

- I. Hitabeti güçlü, ikna edicidir.
- II. Milliyetçi fikirlerden etkilenmiştir.
- III. Fikir hayatının oluşmasında doğup büyüdüğü ortam etkili olmuştur.

çıkarımlarından hangilerine ulaşılabilir?

- | | |
|--------------|-----------------|
| A) I ve II | B) I ve III |
| C) II ve III | D) I, II ve III |

3. Eğitim hayatına Selânik'te başlayan Mustafa Kemal, sonrasında sırasıyla Manastır'da ve İstanbul'da askerî eğitim veren okullarda öğrencilik hayatını tamamlamıştır.

Bu bilgiye göre Mustafa Kemal'in eğitim hayatı ile ilgili,

- I. Eğitim hayatını farklı şehirlerde sürdürmüştür.
- II. Baştan sona askerî okullarda eğitim görmüştür.
- III. Eğitim sürecini askerî okullarla tamamlamıştır.

yargılarından hangilerine ulaşılabilir?

- | | |
|-------------|---------------|
| A) Yalnız I | B) Yalnız III |
| C) I ve II | D) I ve III |

4.

Mustafa Kemal, çok kitap okumakla beraber fırsat buldukça kitap da yazmıştır. Mustafa Kemal'in kaleme almış olduğu en önemli eseri Nutuk'tur. Nutuk, 1919'dan 1927'ye kadar geçen zamandaki gelişmeleri kapsamaktadır. Ayrıca Mustafa Kemal'in, askerlikle ilgili birikimlerini aktardığı; “Takımın Muharebe Talimi”, “Cumalı Ordugahı”, “Taktik Tatbikat Gezisi”, “Bölüğün Muharebe Eğitimi” ve “Subay ve Komutan ile Konuşmalar” eserleri de bulunmaktadır. Cumhuriyet Dönemi'nde de geometri eğitimini kolaylaştıran “Geometri” kılavuzunu yazmıştır.

Bu bilgilerden Mustafa Kemal'in aşağıdaki kişilik özelliklerinden hangisine ulaşılabilir?

- A) İdealistliği
- B) Teşkilatçılığı
- C) Çok yönlülüğü
- D) İleri görüşlülüğü

5. Deniz ticaretinin canlanmasıyla önemi artan Selânik, Balkanların ekonomik açıdan doğal giriş – çıkış limanı olmuştur. 1840'lara gelindiğinde Selânik'le İstanbul arasında bir gemi hattı da kurulmuştur. Sanayi İnkılabı sonrası artan ham madde ihtiyacı, Selânik'i daha önemli hale getirmiş ve kent demiryolu ile Avrupa içlerine bağlanmıştır. 1869'da Süveyş Kanalı'nın açılması ile Selânik'in Avrupa için önemi daha da artmıştır.

Metne bakılarak Selânik ile ilgili aşağıdakilerden hangisine ulaşamaz?

- A) Ulaşım imkânları gelişmiştir.
- B) Önemli bir ticaret merkezi halini almıştır.
- C) Zamanla çok uluslu bir kimliğe bürünmüştür.
- D) Yaşanan gelişmelere bağlı olarak önemi giderek artmıştır.

8

SINIF

T.C İNKILAP TARİHİ VE ATATÜRKÇÜLÜK

HDS

Haftalık Değerlendirme sınavı

Adı ve Soyadı :

Sınıfı :

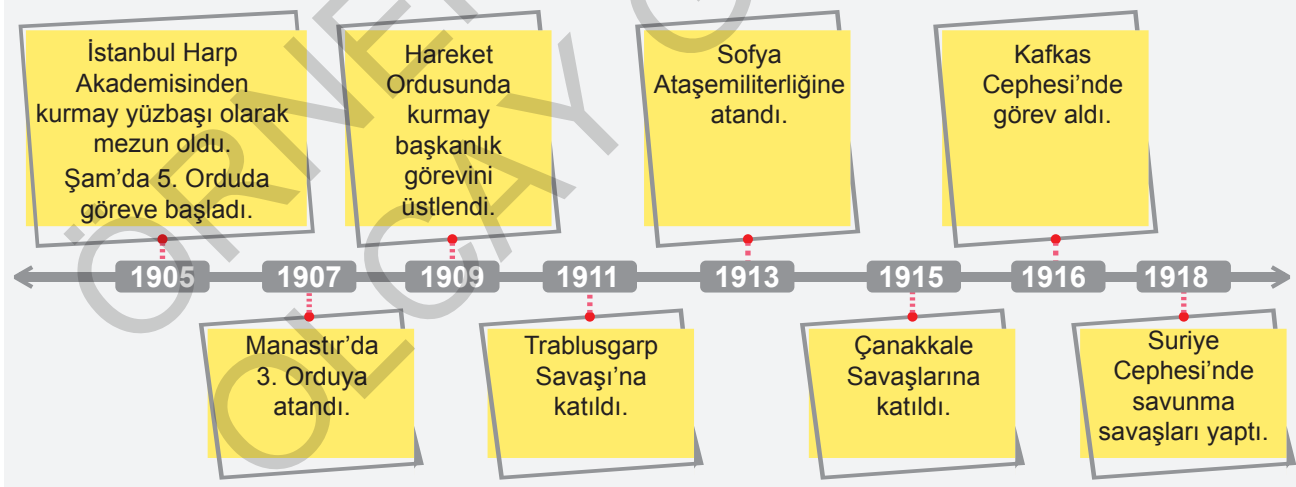
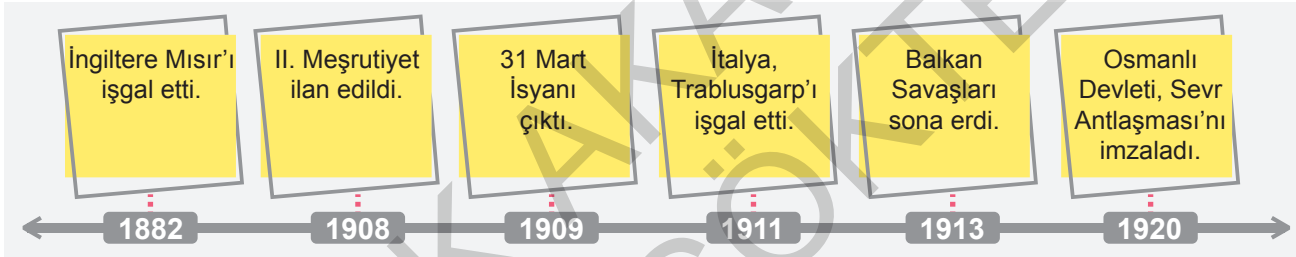
Okul Numarası :

4. Sınav

1. ÜNİTE : BİR KAHRAMAN DOĞUYOR
KONU : I.Dünya Savaşı'na Kadar Mustafa Kemal'in Askerlik Hayatı

Kazanım 8. 1. 4. : Mustafa Kemal'in askerlik hayatı ile ilgili olayları ve olguları onun kişilik özellikleri ile ilişkilendirir.

1.



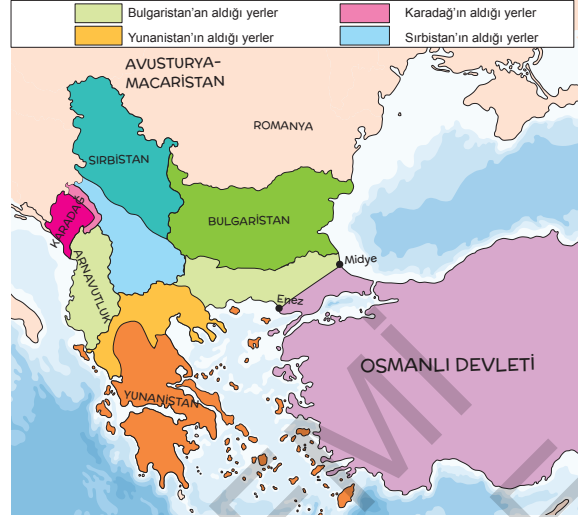
Verilen iki tarih şeridi birlikte değerlendirildiğinde Mustafa Kemal ile ilgili aşağıdakilerden hangisi söylenemez?

- A) Askerlik görevine Şam'da başlamıştır.
B) İlk savaş tecrübesini İtalyanlara karşı yaşamıştır.
C) I. Dünya Savaşı'ndan sonra Sofya ataşemiliterliğine atanmıştır.
D) II. Meşrutiyet'in ilanından sonra Hareket Ordusunda görev almıştır.

7.



I. Balkan Savaşı Öncesinde Balkanlar



I. Balkan Savaşı Sonrasında Balkanlar

Haritalara bakılarak I. Balkan Savaşı ile ilgili,

- I. Yeni bir devletin oluşumuna etki etmiş midir?
- II. Sınırlarını genişleten devletler hangileridir?
- III. Sınırların yeniden belirlenmesinde hangi devletler etkili olmuştur?

sorularından hangilerinin cevabı kesin olarak verilebilir?

- A) Yalnız I B) Yalnız II C) I ve II D) I, II ve III

8. Aşağıdaki tabloda Mustafa Kemal'in 1919 yılına kadar üstlendiği bazı görevler verilmiştir.

Tarih	Görevleri
Nisan 1909	Osmanlı başkentinde çıkan 31 Mart İsyanı'nı bastıran Hareket Ordusu içinde yer aldı.
Aralık 1911	Trablusgarp'a gönüllü olarak giderek İtalyanlara karşı yerli halkı örgütledi.
Ekim 1913	Sofya Ataşemiliterliğine (askeri ateşe) atandı.
Nisan 1915	Çanakkale'de İtilaf kuvvetlerine karşı başarıyla mücadele etti.
Mart 1916	Kafkas Cephesi'nde 16.Ordu Komutanlığına atandı.
Temmuz 1917	Merkezi Şam'da bulunan 7.Ordu Komutanlığına atandı.

Tablodaki bilgilere bakılarak Mustafa Kemal ile ilgili aşağıdaki yargılardan hangisine ulaşamaz?

- A) I. Dünya Savaşı'nda görev yapmıştır.
- B) Millî Mücadele'nin kazanılmasında etkili olmuştur.
- C) Diplomatik görevlerde de bulunmuştur.
- D) İstanbul'un huzur ve güvenliğinin sağlanmasına katkıda bulunmuştur.

SINIF 8

T.C İNKILAP TARİHİ VE ATATÜRKÇÜLÜK

HDS

Haftalık Değerlendirme sınavı

Adı ve Soyadı :

Sınıfı :

Okul Numarası :

5. Sınav

2. ÜNİTE : MİLLÎ UYANIŞ: BAĞIMSIZLIK YOLUNDA ATILAN ADIMLAR
KONU : I. Dünya Savaşı

Kazanım 8.2.1. : Birinci Dünya Savaşı'nın sebeplerini ve savaşın başlamasına yol açan gelişmeleri kavrar.

1.

Avrupa Ülkelerinin I. Dünya Savaşı'na Girmeden Önceki Son Durumları	
Devlet	Durum
İngiltere	Büyük bir sömürge ağına sahipti. Ekonomik alanda Almanya'yı kendisine rakip olarak görüyor ve Almanya'yı bu yarışın dışına itmek istiyordu.
Almanya	Siyasî birliğini geç tamamladığı için sömürgecilik yarışına sonradan katılmıştı. Bu gelişmeye bağlı olarak İngiliz sömürgelerine göz dikti. Alsas-Loren bölgesi nedeniyle Fransa ile mücadele hâlindeydi.
Fransa	Sömürgecilik yarışından daha fazla pay alabilme isteği ile kömür rezervi bakımından zengin olan Alsas-Loren bölgesini Almanya'dan geri almak istiyordu.
Rusya	Panslavizm politikasını uygulayarak Balkanlara sahip olmak istiyordu. Bu politikasına engel olmak isteyen Avusturya-Macaristan İmparatorluğu ile rekabete girişmişti.

Tablodaki bilgilere bakılarak I. Dünya Savaşı öncesinde ülkelerin;

- I. Dinî,
- II. Siyasî,
- III. Ekonomik

alanlarından hangilerinde sorun yaşadığı söylenebilir?

- A) Yalnız II B) Yalnız III C) I ve II D) II ve III

8. İngiltere, Rusya'nın Boğazlara hâkim olarak sıcak denizlere inmesini çıkarlarına aykırı buluyor, Rusya'ya karşı Osmanlı Devleti'nin toprak bütünlüğünü savunuyordu. XIX. yüzyılın sonlarına doğru petrolün önem kazanması, yeni bir güç olarak ortaya çıkan Almanya ve İtalya tehlikesi, artan sömürgecilik rekabeti karşısında İngiltere politika değiştirmiş, Osmanlı toprak bütünlüğünü savunmaktan vazgeçmiştir. Hatta Osmanlı Devleti'nin parasını peşin ödeyerek sipariş ettiği iki savaş gemisine el koymuştur. Almanya ise ekonomisi çökmüş, askeri olarak yetersiz olan Osmanlı Devleti ile ittifak kurmaya çalışmıştır.

Metne göre I. Dünya Savaşı öncesindeki genel durum hakkında aşağıdaki yargılardan hangisine ulaşamaz?

- A) İngiltere, günün şartlarına göre çıkarıcı bir politika izlemiştir.
B) Almanya, Osmanlı Devleti'nin dinî gücünden yararlanmak istemiştir.
C) Rusya, sıcak denizlere inebilmek için Boğazlara hâkim olmak istemiştir.
D) Almanya ve İtalya'nın güçlenmesi Avrupa'da dengeleri değiştirmiştir.

9. "I. Dünya Savaşı'nın ekonomik nedenlerinin yanında fikri nedenleri de vardır." **diyen bir tarihçi bu görüşüne aşağıdakilerden hangisini kanıt olarak gösterebilir?**

- A) Milliyetçilik akımının yayılmasını
B) Ham madde ihtiyacının artmasını
C) Sömürgecilik yarışının hızlanmasını
D) Pazar bulma yarışının rekabete dönüşmesini

10. I. Dünya Savaşı, çok sayıdaki devletin birbiriyle savaştığı, insanlık tarihinin ilk dünya savaşıdır. Çok geniş alanlara yayılan savaş, milyonlarca insanın ölmesine neden olmuş ve sonuçları itibarıyla dünyayı etkilemiştir. 1914 – 1918 yılları arasında meydana gelen bu savaş sonucunda büyük imparatorluklar yıkılarak yerlerine yeni devletler kurulmuştur.

Bu bilgiye bakılarak I. Dünya Savaşı ile ilgili,

- I. Evrensel nitelikli bir olaydır.
II. Siyasi sonuçlar ortaya çıkarmıştır.
III. Çok uluslu devletlerin yıkılmasına neden olmuştur.

yargılarından hangilerine ulaşılabilir?

- A) I ve II
B) I ve III
C) II ve III
D) I, II ve III

Cevaplarınızı optiğe işaretleyiniz.

Ad Soyad :

1	A	B	C	D
2	A	B	C	D
3	A	B	C	D
4	A	B	C	D
5	A	B	C	D
6	A	B	C	D
7	A	B	C	D
8	A	B	C	D
9	A	B	C	D
10	A	B	C	D

Optik No :

837

FERNUS

MOD PRO

MONDROS ATEŞKES ANTLAŞMASI	
1.	Boğazlar, açık olacak ve İtilaf Devletlerince işgal edilecektir.
2.	Doğudaki altı vilayette (Sivas, Elazığ, Diyarbakır, Bitlis, Erzurum, Van) karışıklık çıkarsa İtilaf Devletleri bu illeri işgal edebilecektir.
3.	İtilaf Devletlerinin esirleri derhâl serbest bırakılacak, Osmanlı esirleri serbest bırakılmayacaktır.
4.	Tüm telsiz, telgraf hatlarının kontrolü; Toros tünelleri ve bütün demiryollarının denetimi İtilaf Devletleri tarafından sağlanacaktır.

Aysu, Mondros Ateşkes Antlaşması'nın yukarıdaki maddeleri ile ilgili şu yorumları yapmıştır:

I. Osmanlı Devleti'nin Anadolu ve Rumeli toprakları arasındaki bütünlük bozulmaya çalışılmıştır.

II. İleride kurulması amaçlanan Ermeni devletine zemin hazırlanmaya çalışılmıştır.

Buna göre Aysu'nun yaptığı iki yorumunu antlaşmanın verilen maddelerinden hangilerine dayandırdığı söylenebilir?

A)

I. Yorum:	1. Madde
II. Yorum:	2. Madde

B)

I. Yorum:	2. Madde
II. Yorum:	1. Madde

C)

I. Yorum:	4. Madde
II. Yorum:	3. Madde

D)

I. Yorum:	4. Madde
II. Yorum:	2. Madde

3. Mondros Ateşkes Antlaşması'nın bazı maddeleri şunlardır:

- Osmanlı ordusu terhis edilecektir.
- Orduya ait silahlar, İtilaf Devletlerinin emrine verilecektir.
- Haberleşme ve ulaşım araçları İtilaf Devletlerinin denetimine verilecektir.
- İtilaf Devletleri güvenliklerini tehdit edecek bir durumda herhangi bir stratejik noktayı işgal edebilecektir.

Bu maddelere bakılarak aşağıdaki yargılardan hangisine ulaşılabilir?

- A) Osmanlı ailesinin hükümdarlığı sona ermiştir.
 B) Osmanlı Devleti'nin siyasî varlığı sona ermiştir.
 C) Osmanlı Devleti'nin savunma gücü elinden alınarak işgallere açık duruma getirilmiştir.
 D) İstanbul Hükümetinin, Anadolu üzerindeki otoritesi güçlendirilmiştir.

4. Aşağıdaki tabloda Mondros Ateşkes Antlaşması'nın maddeleri ve bu maddelerin ilgili olduğu alanlar eşleştirilmiştir.

MADDE	ALAN	
1	İtilaf Devletleri, güvenliklerini tehdit eden bir durum olursa herhangi bir stratejik noktayı işgal edebileceklerdir.	Siyasî
2	Sınırların korunması ve iç güvenliğin sağlanması dışındaki Osmanlı ordusu terhis edilecektir.	Ekonomik
3	Bütün yer altı ve yer üstü kaynakları İtilaf Devletlerinin kontrolüne bırakılacaktır.	Askerî
4	Tüm telsiz ve telgraf hatlarının kontrolü İtilaf Devletleri tarafından sağlanacaktır.	Teknik

Buna göre eşleştirmelerden hangileri yanlıştır?

- A) 1 ve 4
 B) 2 ve 3
 C) 1, 2 ve 3
 D) 2, 3 ve 4

8 SINIF

T.C İNKILAP TARİHİ VE ATATÜRKÇÜLÜK

HDS

Haftalık Değerlendirme sınavı

Adı ve Soyadı :

Sınıfı :

Okul Numarası :

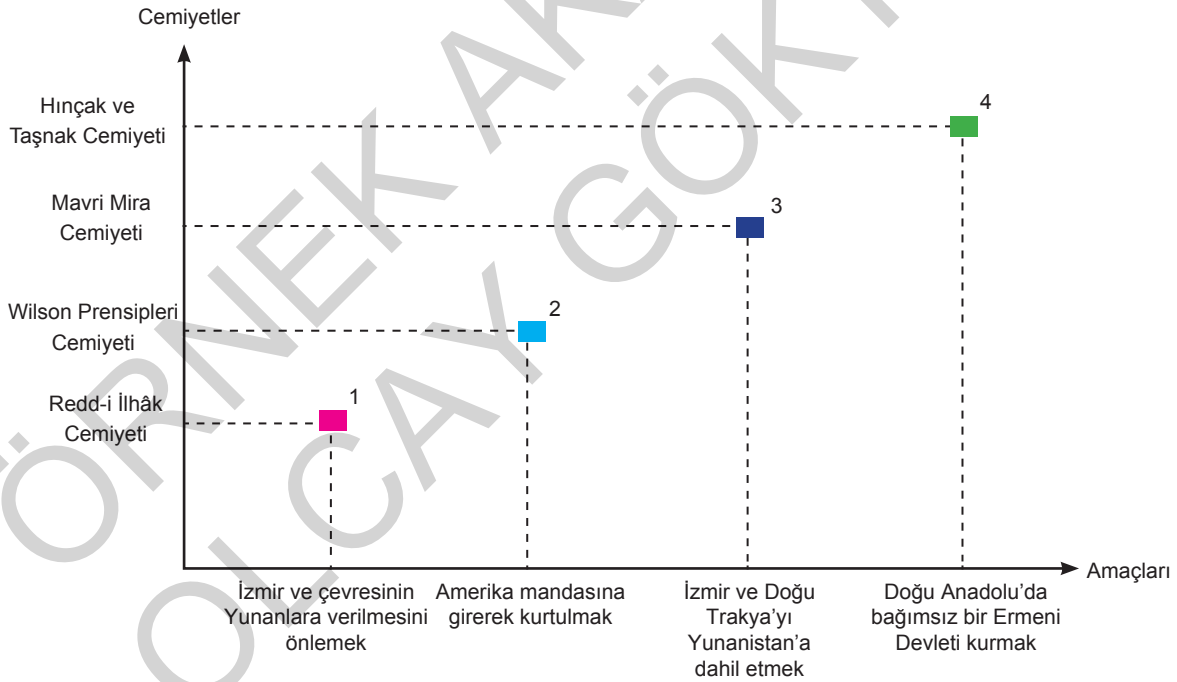
8. Sınav

2. ÜNİTE : MİLLÎ UYANIŞ: BAĞIMSIZLIK YOLUNDA ATILAN ADIMLAR

KONU : Kuvâymillîye Hareketi

Kazanım 8.2.4. : Kuvâymillîyenin oluşum sürecini ve sonrasında meydana gelen gelişmeleri kavrar.

1. Aşağıdaki grafikte Anadolu'da faaliyet göstermiş cemiyetler ve bu cemiyetlerin amaçları eşleştirilerek gösterilmiştir.



Grafiğe bakılarak aşağıdaki çıkarımlardan hangisine ulaşamaz?

- A) Mavri Mira Cemiyeti, Osmanlı toprak bütünlüğünü tehdit etmiştir.
- B) Redd-i İlhâk Cemiyeti, basın yayın yoluyla mücadele etmeyi benimsemiştir.
- C) Hınçak ve Taşnak Cemiyeti, millî bağımsızlığımıza düşmanca tutum sergilemiştir.
- D) Wilson Prensipleri Cemiyeti, millî çıkarlarımızı zedeleyici amaçlar edinmiştir.

SINIF
8

T.C İNKILAP TARİHİ VE
ATATÜRKÇÜLÜK

HDS

Haftalık Değerlendirme sınavı

Yazılıya Hazırlık Sınavı 1. Dönem / 1. Yazılı

Adı ve Soyadı :

Sınıfı :

Okul Numarası :

KAZANIM:

8.1.1: Avrupa'daki gelişmelerin yansımaları bağlamında Osmanlı Devleti'nin yirminci yüzyılın başlarındaki siyasi ve sosyal durumunu kavrar.

1. Osmanlı Devleti'nin çöküş sürecinde devletin varlığını sürdürmek ve dağılmasını önlemek için bazı fikir akımları geliştirilmiştir. Osmanlıcılık, İslamcılık, Türkçülük ve Batıcılık bu fikir akımlarından bazılarıdır.

Buna göre, Balkan milletlerinin isyan edip Osmanlı Devleti'nden ayrılması bu fikir akımlarından hangisinin geçerliliğini yitirmiş olduğunu gösterir? Yazınız.

KAZANIM:

8.1.2: Mustafa Kemal'in çocukluk ve öğrenim hayatından hareketle onun kişilik özelliklerinin oluşumu hakkında çıkarımlarda bulunur.

2. Mustafa Kemal'in öğrencilik yıllarında Osmanlı Devleti'nde farklı kurumlarca yönetilen modern okullar, azınlık okulları, yabancı devlet okulları ve medreseler vardı.

Bu duruma göre, Osmanlı eğitim sistemi hakkındaki düşüncelerinizi kısaca açıklayınız.

KAZANIM:

8.2.3: Mondros Ateşkes Antlaşması'nın imzalanması ve uygulanması karşısında Osmanlı yönetiminin, Mustafa Kemal'in ve halkın tutumunu analiz eder.

9. Mondros Ateşkes Antlaşması'nın 24. maddesi şöyledir:

"Doğu Anadolu'da altı vilayette (Erzurum, Van, Diyarbakır, Sivas, Bitlis ve Elazığ) herhangi bir karışıklık çıkarsa İtilaf Devletleri bu bölgeleri işgal etme hakkına sahip olacaktır."

İtilaf Devletleri'nin bu maddeyle neyi amaçladıklarını yazınız.

KAZANIM:

8.2.2: Birinci Dünya Savaşı'nda Osmanlı Devleti'nin durumu hakkında çıkarımlarda bulunur.

10. I. Dünya Savaşı'nın başlamasıyla birlikte Kafkas Cephesi'nde Ruslarla iş birliği yapan Ermeniler, Doğu Anadolu'da isyanlar çıkararak bölge halkına zarar vermişlerdir.

Osmanlı Devleti'nin bu durum karşısında aldığı önlemleri yazınız.

(Her soru 10 puandır. Başarılar dileriz.
Sosyal Bilgiler Zümresi)

SINIF
8

T.C İNKILAP TARİHİ VE
ATATÜRKÇÜLÜK

HDS

Haftalık Değerlendirme sınavı

Yazılıya Hazırlık Sınavı

1. Dönem / 1. Yazılı

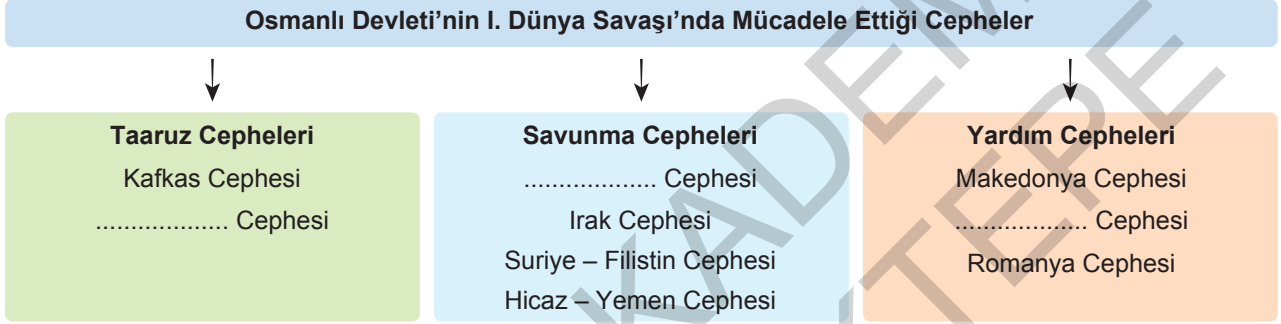
Adı ve Soyadı :

Sınıfı :

Okul Numarası :

KAZANIM: 8.2.2: Birinci Dünya Savaşı'nda Osmanlı Devleti'nin durumu hakkında çıkarımlarda bulunur.

1.



Yukarıdaki şemada boş bırakılan yerleri doldurunuz.

KAZANIM: 8.2.2: Birinci Dünya Savaşı'nda Osmanlı Devleti'nin durumu hakkında çıkarımlarda bulunur.

- 2.
- Savaşın süresi en az 1-2 yıl uzadı.
 - İngiltere ve Fransa sömürgelerinde saygınlık kaybetti.
 - Rusya, müttefiklerinden yardım alamadığından ekonomik ve sosyal bunalıma girdi.
 - Bulgaristan, İttifak grubunda savaşa girdi.

I. Dünya Savaşı'nda bu sonuçları ortaya çıkaran savaşın adını yazınız.

KAZANIM:

8.2.3: Mondros Ateşkes Antlaşması'nın imzalanması ve uygulanması karşısında Osmanlı yönetiminin, Mustafa Kemal'in ve halkın tutumunu analiz eder.

6. Mondros Ateşkes Antlaşması'nın imzalanmasıyla ülkemizin düşmanlar tarafından işgal edilmesi sırasında, İstanbul Hükümeti üzerine almış olduğu sorumluluğu yerine getirememiştir.

Bu durum karşısında Türk milletinin gösterdiği tepkiyi kısa açıklayınız.

.....

.....

.....

KAZANIM:

8.2.3: Mondros Ateşkes Antlaşması'nın imzalanması ve uygulanması karşısında Osmanlı yönetiminin, Mustafa Kemal'in ve halkın tutumunu analiz eder.

7. • Osmanlı Devleti, sınırların korunması ve iç güvenliğin sağlanması için İtilaf Devletleri'nin yeterli gördüğü asker sayısından fazlasını terhis edecektir.
- Altı vilayette (Vilayet-i Sitte: Erzurum, Sivas, Van, Bitlis, Diyarbakır, Elâzığ) karışıklık çıkarsa İtilaf Devletleri bu vilayetleri işgal etme hakkına sahip olacaktır.

Mondros Ateşkes Antlaşması'nda yer alan bu maddelerin Osmanlı Devleti'ni hangi alanlarda kısıtladığını yazınız.

.....

.....

.....

KAZANIM:

8.2.1: Birinci Dünya Savaşı'nın sebeplerini ve savaşın başlamasına yol açan gelişmeleri kavrar.

8. Birinci Dünya Savaşı'nın genel nedenlerini yazınız.

.....

.....

.....

2. **I. Durum:** İtilaf Devletleri, kendi aleyhlerinde bir karar alınmayacağını düşünerek Mebusan Meclisinin toplanmasına engel olmadılar.

II. Durum: İtilaf Devletleri, Misakımillî kararlarının ilan edilmesi üzerine Mebusan Meclisini dağıtarak milletvekillerini tutukladılar.

Verilen iki durum birlikte değerlendirildiğinde İtilaf Devletleri ile ilgili aşağıdakilerden hangisi söylenebilir?

- A) Aralarındaki birlik sona ermiştir.
- B) Millî Mücadele'yi küçümsemişlerdir.
- C) Millî iradeyi yok etmek istemişlerdir.
- D) TBMM'nin hukukî varlığını resmen tanımışlardır.

3. İlk Büyük Millet Meclisi, millet iradesi ile yeni seçilen milletvekillerinin yanı sıra İstanbul'un işgali sonrasında son Osmanlı Mebusan Meclisinden Anadolu'ya geçebilen milletvekillerinden oluşmuştur. Milletvekillerinden her biri ülkenin içinde bulunduğu eşi görülmemiş maddi ve manevi yokluklar karşısında Millî Mücadele'nin başarıya ulaşması için canla başla çalışmışlardır.

Bu bilgiye göre ilk Büyük Millet Meclisi ile ilgili aşağıdakilerden hangisi söylenemez?

- A) Güçler birliği ilkesini benimsemiştir.
- B) Olağanüstü koşullarda toplanmıştır.
- C) Millet egemenliğini benimsemiştir.
- D) Temeli fedakârlık esasına dayanmıştır.

4. "Misakımillî ile, millî egemenlik hariç, Erzurum ve Sivas Kongrelerinde alınan kararlar Osmanlı meclisince de kabul edilmiştir." **diyen bir tarihçi, Erzurum ve Sivas Kongrelerinde alınan aşağıdaki kararlardan hangisini bu görüşüne kanıt olarak gösteremez?**

- A) Azınlıklara ayrıcalık verilemez.
- B) Kapitülasyonlar kabul edilemez.
- C) Vatan bir bütündür parçalanamaz.
- D) Millî iradeyi hâkim kılmak esastır.

5. İlk Büyük Millet Meclisi,

- Üyelerini tamamen Türklerden seçmiştir.
- Farklı fikirlerden insanları bir araya getirmiştir.
- Karşılaştığı pek çok soruna rağmen çalışmalarına ara vermemiştir.
- Yasama, yürütme ve yargı yetkilerinin tümünü kendinde toplamıştır.

Bu bilgilere göre ilk Büyük Millet Meclisinin aşağıdaki özelliklerden hangisine sahip olduğu söylenemez?

- A) Millî meclis
- B) Sürekli meclis
- C) Savaşçı meclis
- D) Olağanüstü yetkilere sahip meclis

6. Mustafa Kemal, 24 Nisan tarihinde TBMM'de yaptığı konuşmasında padişah ve halifenin baskından kurtulduğunda meclisin düzenleyeceği yasa çerçevesindeki yerini alacağını belirtmiştir.

Bu bilgiye göre aşağıdaki yargılardan hangisine ulaşılabılır?

- A) TBMM, İstanbul Hükûmeti ile uyum içinde çalışmaya başlamıştır.
- B) Osmanlı padişahı Millî Mücadele'ye sahip çıkmaya karar vermiştir.
- C) TBMM, saltanat makamını etkisi ve denetimi altında tutmak istemiştir.
- D) Osmanlı Devleti'nin hukukî varlığına resmen son verilmiştir.

9.

SEVR ANTLAŞMASI (10.08.1920)

- Azınlıklara verilen haklar genişletilecek.
- Kapitülasyonlardan bütün devletler yararlanacak.
- Osmanlı kaynaklarını korumak ve artırmak için mali bir komisyon kurulacak, bu komisyon Osmanlı bütçesini kontrol edecek.
- Osmanlı ordusu, jandarma gücü dâhil 50 bin yedi yüz askerle sınırlı olacak. Osmanlı kara kuvveti, gönüllü olarak askere yazılanlardan oluşturulacak.

Sevr Antlaşması ile ilgili bu bilgileri okuyan Gökçe, edindiği bilgilerden hareketle aşağıdaki çıkarım tablosunu işaretleyecektir.

1	2	3	4
Osmanlı Devleti dış etkilere açık hale getirilmiştir.	Osmanlı Devleti'nin ekonomik kalkınmasına destek olunmak istenmiştir.	Osmanlı Devleti'nde mecburi askerliğe son verilmiştir.	Osmanlı ülkesinde yaşayan gayrimüslimler daha ayrıcalıklı hale getirilmiştir.
<input type="checkbox"/>	<input type="checkbox"/>	<input type="checkbox"/>	<input type="checkbox"/>

Buna göre Gökçe'nin bu tabloda numaralandırılarak verilen çıkarımlardan hangilerini işaretlemesi doğru olur?

A) 1 ve 4

B) 2 ve 3

C) 1, 3 ve 4

D) 2, 3 ve 4

10. Ünlü tarihçi Bernard Lewis, "Sevr Antlaşması pek insafsızdı. Türkiye'yi, en zengin illerini ilhak eden devletlerin ve ulusların insafına dayanarak yaşayabilecek; çaresiz, kötürüm ve gölge bir devlet halinde bırakacaktı. Yenilmiş Almanya'ya dayatılandan çok daha ağırdı ve Türkiye'de ulusal yas günüyle karşılandı." sözleriyle Sevr Antlaşması'nı değerlendirmiştir.

Bernard Lewis'in değerlendirmesine göre Sevr Antlaşması ile ilgili aşağıdakilerden hangisi söylemez?

- A) Türk milletinin bağımsızlığını elinden almıştır.
 B) Almanya ile imzalanan antlaşmadan daha ağır şartlar içermiştir.
 C) Türk ülkesini dışa bağımlı hale getirmeyi amaçlamıştır.
 D) En çok ekonomik alanda kısıtlamalar getirmiştir.

Cevaplarınızı optiğe işaretleyiniz.

Ad Soyad :

1	A	B	C	D
2	A	B	C	D
3	A	B	C	D
4	A	B	C	D
5	A	B	C	D
6	A	B	C	D
7	A	B	C	D
8	A	B	C	D
9	A	B	C	D
10	A	B	C	D

Optik No

845

<input type="radio"/>	<input type="radio"/>	<input type="radio"/>	<input type="radio"/>	<input type="radio"/>	<input type="radio"/>	<input type="radio"/>	<input type="radio"/>	<input type="radio"/>	<input type="radio"/>
<input checked="" type="radio"/>	<input checked="" type="radio"/>	<input type="radio"/>	<input checked="" type="radio"/>	<input type="radio"/>	<input type="radio"/>	<input checked="" type="radio"/>	<input type="radio"/>	<input checked="" type="radio"/>	<input type="radio"/>

FERNUS

MOD PRO

Test bitti. Cevaplarınızı kontrol ediniz.

2. I. İnönü Savaşı'nın sonucunda,
1. Türk halkının TBMM'ye olan güveni arttı.
 2. Sovyet Rusya ile Moskova Antlaşması imzalandı.
 3. İstiklal Marşı kabul edildi.
 4. Afganistan ile Dostluk Antlaşması yapıldı.
 5. İtilaf Devletleri tarafından Londra'da bir konferans toplandı.

Bu sonuçların ulusal ve uluslararası olarak sınıflandırılması, aşağıdaki seçeneklerin hangisinde doğru olarak verilmiştir?

	Ulusal	Uluslararası
A)	2, 4 ve 5	1 ve 3
B)	1 ve 3	2, 4 ve 5
C)	1, 2 ve 3	4 ve 5
D)	1, 4 ve 5	2 ve 3

3.

Kuvâymillîye birliklerinde görev yapan askerler gönüllü kişilerdi. Terhis edilmiş Osmanlı subayları tarafından komuta edilen bu birliklerde kadın, erkek her yaştan vatansaver bulunuyordu. Kuvâymillîye ihtiyaçları halk tarafından karşılanıyordu. Düzenli Türk ordusu kurulana kadar düşmanla kahramanca mücadele etmiş, bazı yerlerde düşmanı durdurmuş, bazı yerlerde ise yavaşlatmış olan bu birlikler meclise karşı başlatılan isyanların bastırılmasında da aktif görev almışlardır. I. İnönü Savaşı öncesinde düzenli orduların kurulmasıyla birlikte Kuvâymillîye güçleri de düzenli orduya dâhil edilmiştir.

Bu bilgilere göre Kuvâymillîye birlikleri ile ilgili,

- I. Ordu-millet anlayışının bir örneğini oluşturmuşlardır.
- II. Milliyetçi duygulara sahip Türk halkı tarafından kurulmuştur.
- III. I. İnönü Savaşı'nın kaybedilmesi üzerine yerini düzenli orduya bırakmıştır.

yargılarından hangilerine ulaşılabilir?

- | | |
|--------------|-----------------|
| A) I ve II | B) I ve III |
| C) II ve III | D) I, II ve III |

4. I. İnönü Zaferi'nin sonucunda imzalanan Türk - Afgan Dostluk Antlaşması'nın bazı maddeleri aşağıda verilmiştir.

TÜRK - AFGAN DOSTLUK ANTLAŞMASI

- Türk Devleti gönülden bağlarla bağlı bulunduğu Afgan Devleti'ni tanıır.
- Afgan Devleti, halifeliği elinde bulunduran Türkiye'nin bu alanda liderliğini kabul eder.
- Taraflar, emperyalist devletler tarafından herhangi birine yapılmış saldırıyı kendine yapılmış sayarak elindeki bütün imkânlarla yardıma koşmayı kabul ederler.

Bu maddelere bakılarak, aşağıdaki çıkarımlardan hangisine ulaşamaz?

- A) İki devlet karşılıklı olarak birbirini tanımıştır.
- B) Afganistan, Türkiye'nin dinî alandaki liderliğini kabul etmiştir.
- C) Taraflar sömürgeciliğe karşı birlikte hareket etmeyi kabul etmiştir.
- D) İki devlet arasında ekonomik ve eğitim alanında iş birliği sağlanmıştır.

5. I. İnönü Savaşı'ndan sonra yaşanan;

- I. Ethem Bey İsyanı'nın bastırılması,
- II. Teşkilât-ı Esasiye Kanunu'nun kabul edilmesi,
- III. Sovyet Rusya ile Moskova Antlaşması'nın imzalanması,
- IV. İtilaf Devletlerinin Ankara Hükümetini Londra Konferansı'na davet etmesi

gelişmelerinden hangileri TBMM'nin hukuksal varlığının tanındığına kanıt olarak gösterilebilir?

- | | |
|--------------|-----------------|
| A) I ve II | B) I ve IV |
| C) III ve IV | D) I, II ve III |

SINIF
8

T.C İNKILAP TARİHİ VE
ATATÜRKÇÜLÜK

HDS

Haftalık Değerlendirme sınavı

Yazılıya Hazırlık Sınavı 1. Dönem / 2. Yazılı

Adı ve Soyadı :

Sınıfı :

Okul Numarası :

KAZANIM: 8.2.5: Millî Mücadele'nin hazırlık döneminde Mustafa Kemal'in yaptığı çalışmaları analiz eder.

1. Mustafa Kemal, yayınladığı Havza Genelgesi ile işgallerin mitingler düzenlenerek protesto edilmesini istemiştir. Buna göre, Mustafa Kemal'in böyle bir istekte bulunmasının amacı nedir? Kısaca açıklayınız.

KAZANIM: 8.2.5: Millî Mücadele'nin hazırlık döneminde Mustafa Kemal'in yaptığı çalışmaları analiz eder.

2. Amasya Genelgesi'nde yer alan "Vatanın bütünlüğünü milletin bağımsızlığını yine milletin azim ve kararı kurtaracaktır." maddesini Millî Mücadele açısından değerlendiriniz.

KAZANIM:

8.2.6: Misakımillî'nin kabulünü ve Büyük Millet Meclisinin açılışını vatanın bütünlüğü esaslı ile "ulusal egemenlik" ve "tam bağımsızlık" ilkeleri ile ilişkilendirir.

9. I. TBMM'nin açılması ile kurulan yeni hükûmet, yasama, yürütme ve yargı güçlerini Büyük Millet Meclisi çatısı altında toplamıştır.

Bu durumun nedenini kısaca açıklayınız.

KAZANIM:

8.2.7: Büyük Millet Meclisine karşı çıkan ayaklanmalar ile ayaklanmaların bastırılması için alınan tedbirleri analiz eder.

10. İstanbul Hükûmeti, Millî Mücadele hareketine ve meclise karşı halkı kışkırtarak Anadolu'nun çeşitli yerlerinde isyanların çıkmasında etkili oldu. İtilaf Devletleri, Türk milletini Büyük Millet Meclisi Hükûmetine karşı isyana teşvik etmek için birçok faaliyette bulundu. İsyancıları daha etkili hale getirmek için Şeyhülislam Dürrizade Abdullah Efendi'ye fetva yaptıran İstanbul Hükûmeti, bu fetvayı İtilaf Devletleri'ne ait uçaklarla Anadolu'ya dağıttı. Bu fetvada Mustafa Kemal ve Millî Mücadele yanlıları vatan haini ve din düşmanı ilan edildi. Azınlıklar, İtilaf Devletleri'nin kışkırtmalarıyla buldukları bölgelerde bağımsız devlet kurmak için ayaklandı. Bazı Kuvâymillîye birliklerinin düzenli orduya katılmak istememeleri isyan etmelerine yol açtı.

Bu bilgilerden hareketle Büyük Millet Meclisine karşı ayaklanmaların çıkmasında etkili olan nedenleri kısaca açıklayınız.

(Her soru 10 puandır. Başarılar dileriz.
Sosyal Bilgiler Zümresi)

3. Aşağıda Millî Mücadele günlerini anlatan "Ateşten Gömlek" romanından bir bölüm verilmiştir.

"...Bir gün Sultanahmet Meydanı'nda büyük bir miting yapılır. Halk, ülke kurtuluncaya kadar savaşmaya sanki ant içmiştir. İşte bu mitingden sonra Cemal ile İhsan, Anadolu'ya geçer. Ayşe ile şiddetli bir tifo geçiren Peyami de bir kağnıyla Anadolu'da İhsan'a yetişir. Bir çete kurarlar, ulusal harekete karşı çıkan köylüler yola getirilir. Peyami tercüman olarak Millî Müdafaa'da görevlendirilir. Ayşe ise hemşire olup Eskişehir'e gider. İhsan, Metristepe'de göğsünden vurulunca hastanede yer olmadığı için onu bir otel odasında yatırır. Bakımını Ayşe yapar. İyileşen İhsan cepheye döner. Bir saldırı anında İhsan, tırmandığı tepenin en yüksek yerinde makineli ateşiyle vurulur. Peyami'nin kolları arasında can verir. İhsan'ın şehit olduğu haberini duyan Ayşe, cephenin en ileri hattına kadar koşar bu sırada bir top mermisi parçasıyla vurulur ve ölür.(...)"

Metne göre Millî Mücadele günlerinde yaşananlarla ilgili aşağıdakilerden hangisi söylenebilir?

- A) Mücadele düzenli ordu birlikleri ile yürütülmüştür.
B) Millî bilincin uyandırılmasına yönelik çalışmalar yapılmıştır.
C) Anadolu halkının tamamı ulusal hareketin etrafında birleşmiştir.
D) Osmanlı yönetimi ülke genelinde mitingler yapılmasına müsaade etmiştir.

4. Aşağıda Halide Edip Adıvar'ın Millî Mücadele günlerini anlattığı "Türk'ün Ateşle İmtihani" adlı romanından kısa bir kesit verilmiştir.

"Mustafa Kemal Paşa da Eskişehir civarında dolaşıyordu. Vaziyetimiz, hakikat, en tehlikeli bir hal almış bulunuyordu. Ankara'ya muvazi olan tren hattı Yunanlıların eline düşmüş, biz de Orta Anadolu'da kapalı kalmıştık. Artık, başıbozuk kuvvetlere son vererek, muntazam ordu kurmak hayati bir zaruret halini almıştı."

Metne bakılarak Millî Mücadele günleri ile ilgili aşağıdakilerden hangisi söylenemez?

- A) Zor şartlar altında mücadele edilmiştir.
B) Kuvâymillîye birlikleri yetersiz kalmıştır.
C) Yunanlar ulaşım imkânlarımızı ele geçirmeye çalışmıştır.
D) Orta Anadolu hariç yurdun tamamı Yunanlıların eline geçmiştir.

5.



Hamamcı Kadı Salih Reis

İstiklâl Savaşı sırasında İnebolu'ya gemilerle getirilen her türlü savaş malzemesi kahraman denizcilerimiz tarafından denk kayıkları ile çıkartılıp, asker - sivil demeden, yaşlı - genç ayrımı yapmadan depolara taşınmış, oradan da kağnılarla cephele- re ulaştırılmıştır. Salih Reis de,

70 yaşında olmasına rağmen bu mücadeleye ortak olmuştur. Yaptığı fedakârlıklarla herkesin gönlünde taht kuran Salih Reis'in anısının yaşatılması amacıyla yanda görmüş olduğunuz anıtın açılışı 2008 yılında İnebolu'da yapılmıştır.

Bu bilgilere göre aşağıdaki yargılardan hangisine ulaşılamaz?

- A) Millî Mücadele günleri sanata yansıtılmıştır.
B) Cephe gerisinde büyük fedakârlıklar yaşanmıştır.
C) Kurtuluş Savaşı'nın en çetin mücadeleleri denizlerde yaşanmıştır.
D) Kurtuluş Savaşı Türk halkının topyekûn mücadelesine sahne olmuştur.

9. Aşağıdaki fotoğrafta 1935 yılındaki milletvekili seçimlerinde vatandaşların oy kullandıkları görülmektedir.



Bu fotoğrafa bakılarak cumhuriyetin ilk yıllarında;

- I. Devletçilik,
- II. Halkçılık,
- III. Cumhuriyetçilik

ilkelerinden hangilerinin uygulamaya konduğu söylenebilir?

- A) Yalnız II B) Yalnız III C) I ve II D) II ve III

10. Cumhuriyet; millet iradesini ve demokratik yaşam biçimini esas alan bir yönetim şeklidir. Egemenliğin yani söz söyleme, karar verme yetkisinin bir zümreye değil milletin kendisine ait olmasıdır. Atatürk'ün dediği gibi "Cumhuriyet rejimi demek, demokrasi sistemiyle devlet şekli demektir." Bu yönetim şeklinde yöneticiler halk tarafından belli bir süre için seçilir. Seçilen bu yöneticiler görevlerini yerine getirirken halkın ihtiyaç ve beklentilerine göre hareket ederler.

Bu bilgilere göre aşağıdaki yeniliklerden hangisinin yapılmasında cumhuriyetçilik ilkesi etkili olmuştur?

- A) Kapütülasyonların kaldırılması
- B) Tekke, zaviye ve türbelerin kapatılması
- C) Ünvan ve ayrıcalıkların sona erdirilmesi
- D) Kadınlara seçme – seçilme hakkının verilmesi

Cevaplarınızı optiğe işaretleyiniz.

Ad Soyad :

1	A	B	C	D
2	A	B	C	D
3	A	B	C	D
4	A	B	C	D
5	A	B	C	D
6	A	B	C	D
7	A	B	C	D
8	A	B	C	D
9	A	B	C	D
10	A	B	C	D

Optik No :

8 5 3

<input type="radio"/>	<input type="radio"/>	<input type="radio"/>	<input type="radio"/>	<input type="radio"/>	<input type="radio"/>	<input type="radio"/>	<input type="radio"/>	<input type="radio"/>	<input type="radio"/>
<input checked="" type="radio"/>	<input checked="" type="radio"/>	<input type="radio"/>	<input checked="" type="radio"/>	<input type="radio"/>	<input checked="" type="radio"/>	<input type="radio"/>	<input checked="" type="radio"/>	<input type="radio"/>	<input checked="" type="radio"/>

FERNUS

MOD PRO

SINIF 8

T.C İNKILAP TARİHİ VE ATATÜRKÇÜLÜK

HDS

Haftalık Değerlendirme sınavı

Adı ve Soyadı :

Sınıfı :

Okul Numarası :

24. Sınav

- 4. ÜNİTE** : ATATÜRKÇÜLÜK VE ÇAĞDAŞLAŞAN TÜRKİYE
KONU : Eğitim ve Kültür Alanında İnkılap / Toplumsal Alanda İnkılaplar
- Kazanım 8.4.4.** : Eğitim ve kültür alanında yapılan inkılapları ve gelişmeleri kavrar.
Kazanım 8.4.5. : Toplumsal alanda yapılan inkılapları ve meydana gelen gelişmeleri kavrar.

1. Aşağıda Tevhid-i Tedrisat Kanunu'nun bazı maddeleri verilmiştir.

- 1. Madde:** Türkiye'deki bütün bilim ve öğretim kurumları Millî Eğitim Bakanlığına bağlıdır.
- 2. Madde:** Şer'îye ve Evkaf Vekâleti veya özel vakıflar tarafından yönetilen bütün medreseler ve okullar Millî Eğitim Bakanlığına bağlanmıştır.
- 3. Madde:** Şer'îye bütçesinde mektepler ve medreseler için konmuş olan ödenekler Millî Eğitim Bakanlığı bütçesine geçirilir.
- 4. Madde:** Millî Eğitim Bakanlığınca, yüksek din uzmanları yetiştirmek için, üniversitede bir ilahiyat fakültesi açılacak ve hatiplik gibi dinî hizmetlerin görülebilmesi için de ayrı okullar açılacaktır.
- 5. Madde:** Bu yasanın yayın tarihinden sonra, eğitim ve öğretimle meşgul olup Millî Savunmaya bağlı olan askerî ortaokul ve liseler ile Sağlık Bakanlığına bağlı yetim yurtları bütçeleri ve öğretim üyeleriyle beraber Millî Eğitim Bakanlığına bağlanmıştır.

Bu maddelere göre Tevhid-i Tedrisat Kanunu,

- I. İlköğretimi zorunlu hâle getirmiştir.
- II. Eğitim ve öğretimde birliği sağlamıştır.
- III. Yabancı okulların faaliyetlerine son vermiştir.
- IV. Ülkedeki eğitim faaliyetlerini belli bir düzene sokmuştur.

yargılarından hangilerine ulaşılabilir?

A) I ve III

B) II ve IV

C) I, II ve IV

D) II, III ve IV

5. İzmir İktisat Kongresi'nin başkanlığını yapan Kazım Karabekir "... alınan kararlar millî bağımsızlığını kazanan milletimize ekonomik bağımsızlığın yolunu açmıştır. Artık denizlerde Türk yapımı gemilerimiz bizim bayrağımızı dalgalandıracak." demiştir.

Kazım Karabekir'in bu sözlerine bakılarak aşağıdakilerden hangisi söylenebilir?

- A) Kalkınma çaresi olarak millî üretim hedeflenmiştir.
B) Ekonominin temelini tarımsal üretime dayandığı vurgulanmıştır.
C) Sanayiye öncelik verilmesinin diğer sektörlerin önünü açacağı belirtilmiştir.
D) Ekonomik bağımsızlığın yabancı sermayeden uzak durularak sağlanabileceği düşünülmüştür.

6. Aşağıdaki tabloda 1923 – 1935 yılları arasında ülkemizin sağlık alanı ile ilgili sayısal verilerine yer verilmiştir.

	1923	1925	1930	1935
Hastane Sayısı	86	167	176	182
Yatak Sayısı	6.437	9.561	11.398	13.038
Hekim Sayısı	554	728	1.182	1.625
Hekim Başına Düşen Nüfus	19.860	16.480	12.220	9.270
Devlet Bütçesinden Sağlık Hizmetlerine Ayrılan Pay (%)	2.2	2.6	2.0	2.4

Tablodaki verilere bakılarak aşağıdaki yargılardan hangisine ulaşılamaz?

- A) Doktor başına düşen insan sayısı giderek azalmıştır.
B) En yüksek hastane sayısına 1935 yılında ulaşılmıştır.
C) Sağlık personeli ve yatak sayısında sürekli artış yaşanmıştır.
D) Bütçeden sağlık hizmetlerine ayrılan pay sürekli artmıştır.

7. Cumhuriyet Dönemi'nde sanayileşme bir hedef olarak benimsendikten sonra bu hedefe varmak için sektörün finansman kaynağını bulmak için harekete geçildi. O günün şartlarında bu kaynak Türkiye İş Bankasının kurulması ile bulundu (1924). Özel sektörün sanayiye ve ekonomiye katılımını ve millî sanayinin gelişmesini sağlamak amacıyla 28 Mayıs 1927'de "Teşvik-i Sanayi Kanunu" kabul edildi. Bu kanun çeşitli sanayi kuruluşlarına ucuz devlet arazisi ve binalarının tahsisi, taşıma kolaylığı, vergi muafiyeti getirdi. Ancak "1929 Dünya Ekonomik Bunalımı", yatırımcı eksikliği, gelir seviyesinin düşük olması, teknik olanakların azlığı Teşvik-i Sanayi Kanunu'nu ve liberal ekonomiyi başarısız kıldı.

Bu bilgilere göre aşağıdaki yargılardan hangisine ulaşılamaz?

- A) Cumhuriyetin ilk dönemlerinde yerli üretim özendirilmeye çalışılmıştır.
B) Sanayi alanının ihtiyaç duyduğu para desteği İş Bankasının kurulması ile sağlanmıştır.
C) Yaşanan iç ve dış sorunlar Teşvik-i Sanayi Kanunu'nun başarılı olmasını engellemiştir.
D) Teşvik-i Sanayi Kanunu'nun başarısızlığı üzerine belirlenen sanayileşme hedefinden vazgeçilmiştir.

8. Cumhuriyet Dönemi'nde,

- Sağlık alanında yapılan çalışmalarla doktor sayısı artırılmıştır.
- Yardımcı sağlık personellerinin yetiştirilmesi için çalışmalar yapılmıştır.
- Bakıma muhtaç hastalara evde bakım hizmeti ve tedavi imkânı verilmiştir.
- Bulaşıcı hastalıklarla (verem, frengi sıtma vb.) mücadele edilmesi için tedbirler alınmıştır.

Bu bilgilerden hareketle aşağıdaki çıkarımlardan hangisine ulaşılamaz?

- A) Sağlık çalışanı eksikliği giderilmeye çalışılmıştır.
B) Salgın hastalıkların kesin olarak önüne geçilmiştir.
C) Sosyal devlet anlayışına uygun hareket edilmiştir.
D) Vatandaşların sağlık alanındaki ihtiyaçları karşılanmaya çalışılmıştır.

2. Partiler, demokratik hayatın vazgeçilmez unsurlarındandır. En büyük hedeflerinden biri demokrasiyi ülkemize yerleştirmek olan Mustafa Kemal de bu yolda ilk adımı atarak Cumhuriyet Dönemi'nin ilk siyasi partisini kurmuştur. 17 Kasım 1924'te ise Terakkiperver Cumhuriyet Fırkası adıyla başka bir siyasi parti kurulmuş ve iktidardaki Cumhuriyet Halk Fırkasının karşısına çıkmıştır. Terakkiperver Cumhuriyet Fırkasının kuruluşuna Kazım Karabekir, Rauf Orbay, Ali Fuat Cebesoy, Refet Bele, Adnan Adıvar gibi kişiler öncülük etmiştir.

Bu bilgilere göre aşağıdaki yargılardan hangisine ulaşamaz?

- A) Atatürk Dönemi'nde çok partili hayata geçiş denemelerinde bulunulmuştur.
- B) Terakkiperver Cumhuriyet Fırkası, muhalefet fırkası olarak kurulmuştur.
- C) Atatürk Dönemi'nde Türkiye, çok partili hayata geçmeyi başarmıştır.
- D) Millî Mücadele'nin önderleri yeni bir partinin kurulmasına öncülük etmiştir.
3. Mustafa Kemal Serbest Cumhuriyet Fırkasının kurulmasını, "Ben şimdi bir babayım. Siz ikiniz de benim çocuklarımsınız. İkinizin arasında bana göre hiçbir ayrılık yoktur. Benim istediğim, sadece memleket işlerinin Büyük Millet Meclisinde açıkça tartışılmasıdır. Büyük Millet Meclisinde, Türk milletinin gözü önünde konuşulamayacak hiçbir iş yoktur..." sözleriyle değerlendirmiştir.

Bu sözlerine bakılarak Mustafa Kemal ile ilgili,

- I. Yeni bir partinin kurulmasını memnuniyetle karşılamıştır.
- II. Farklı fikir ve düşüncelerin ortaya çıkarılmasını değerli bulmuştur.
- III. Çok partili hayata geçilebilmesi için yapılan çalışmaları desteklemiştir.

yargılarından hangilerine ulaşılabilir?

- A) I ve II
B) I ve III
C) II ve III
D) I, II ve III

4. Cumhuriyet Dönemi'nde Atatürk,
- Cumhuriyet Halk Fırkasının kurulmasına öncülük etmiştir.
 - Terakkiperver Cumhuriyet Fırkasının kurulmasına destek vermiştir.
 - Ali Fethi Bey'den yeni bir parti kurmasını istemiştir.

Buna göre Atatürk'ün aşağıdakilerden hangisini amaçladığı söylenemez?

- A) Kişisel iktidarını güçlendirmek
B) Demokrasi anlayışını güçlendirmek
C) Hükûmetin denetlemesini sağlamak
D) Farklı görüşleri ülke yönetimine yansıtma

5. Millî Mücadele'yi sadece işgalci devletlere karşı verilen bir savaş değil, aynı zamanda millet iradesinin ülke yönetimine taşınması olarak da gören Mustafa Kemal, Samsun'a çıkışı ile başlattığı Millî Mücadele'nin ilk günlerinden itibaren millî egemenliğe dayalı bir devlet kurulacağını işaretlerini vermiştir.

Millî Mücadele Dönemi'nde kabul edilen aşağıdaki kararlardan hangisi bu işaretlere kanıt olarak gösterilebilir?

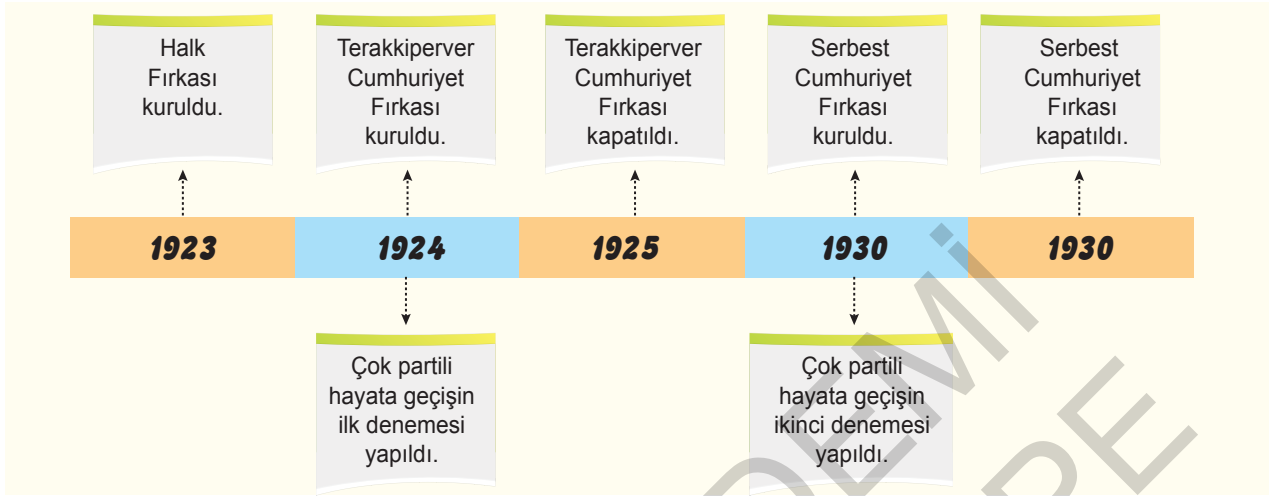
- A) Kapitülasyonlar kabul edilemez.
B) Millî iradeyi hâkim kılmak esastır.
C) Manda ve himaye kabul edilemez.
D) Vatan bir bütündür, parçalanamaz.

6. Düşünce ve inanç hürriyeti, millî iradenin hakim olduğu demokratik ülkelerde gelişir. Millî Mücadele'nin hazırlık döneminden itibaren Mustafa Kemal'in öncülüğünde, millet iradesine dayalı, demokratik bir yönetim sisteminin oluşması için birçok çalışma yürütülmüştür.

Aşağıdakilerden hangisi bu çalışmalara örnek gösterilemez?

- A) Saltanatın kaldırılması
B) Siyasi partilerin kurulması
C) Tekke ve zaviyelerin kapatılması
D) Büyük Millet Meclisinin açılması

7. Aşağıdaki tarih şeridinde Atatürk Dönemi'nde Türkiye'de çok partili hayata geçebilmek amacıyla atılan adımlar gösterilmiştir.



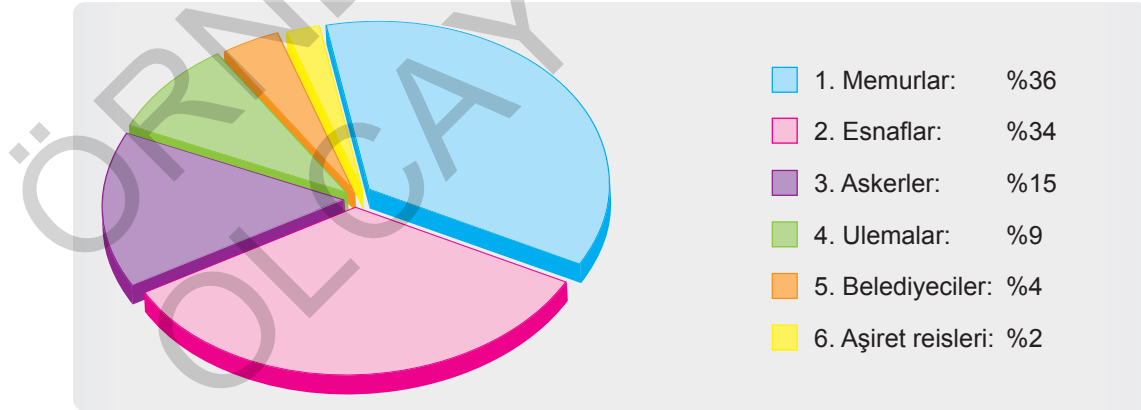
Verilen tarih şeridine göre Atatürk Dönemi'nde,

- I. Katılımcılık ilkesi uygulamaya geçirilememiştir.
- II. Demokratikleşme adımları kesintiye uğramıştır.
- III. Çok partili hayata geçiş çabaları sonuçsuz kalmıştır.

yargılarından hangilerine ulaşılabilir?

- A) I ve II B) I ve III C) II ve III D) I, II ve III

8. Aşağıdaki grafikte I. TBMM'de görev yapan milletvekillerinin meslek gruplarına göre dağılımı gösterilmiştir.



Verilen grafiğe bakılarak I. TBMM hakkında aşağıdaki yargılardan hangisine ulaşılabilir?

- A) Azınlıklara da temsil hakkı tanınmıştır.
- B) Yükseköğrenim görenlerin oranı %90'ı geçmiştir.
- C) Farklı siyasi görüşe sahip insanlar bir arada görev yapmıştır.
- D) Çeşitli meslek gruplarından ve kesimden insanlar aynı çatı altında toplanabilmiştir.

SINIF 8

T.C İNKILAP TARİHİ VE ATATÜRKÇÜLÜK

HDS

Haftalık Değerlendirme sınavı

Adı ve Soyadı :

Sınıfı :

Okul Numarası :

29. Sınav

6. ÜNİTE : ATATÜRK DÖNEMİ TÜRK DIŞ POLİTİKASI

KONU : Atatürk Dönemi Türk Dış Politikası

Kazanım 8.6.1. : Atatürk Dönemi Türk dış politikasının temel ilkelerini ve amaçlarını açıklar.

1.

"Milletimizin, güçlü, mutlu ve güven içinde yaşayabilmesi için devletin tamamen millî bir siyaset izlemesi ve bu siyasetin, iç kuruluşlarımıza tamamen uygun ve dayalı olması gerekir."

"Komşularımız ve bütün devletlerle iyi geçinmek Türkiye siyasetinin temel esasıdır."

"Türk'ün saygınlığı, onuru ve yeteneği çok yüksek ve büyüktür. Bir millet esir yaşamaktansa yok olsun daha iyidir."

"Erişilemeyecek hayalî emeller peşinde milleti uğraştırmamak ve zarara uğratmamak temel prensibimizdir."

Atatürk'ün verilen sözleriyle, Türkiye Cumhuriyeti'nin dış politika esasları eşleştirildiğinde tablonun son durumu aşağıdakilerden hangisi olmalıdır?

A)

Millî menfaatleri dikkate alma	Tam bağımsızlık
Gerçekçilik	Barışçılık

B)

Millî menfaatleri dikkate alma	Tam bağımsızlık
Barışçılık	Gerçekçilik

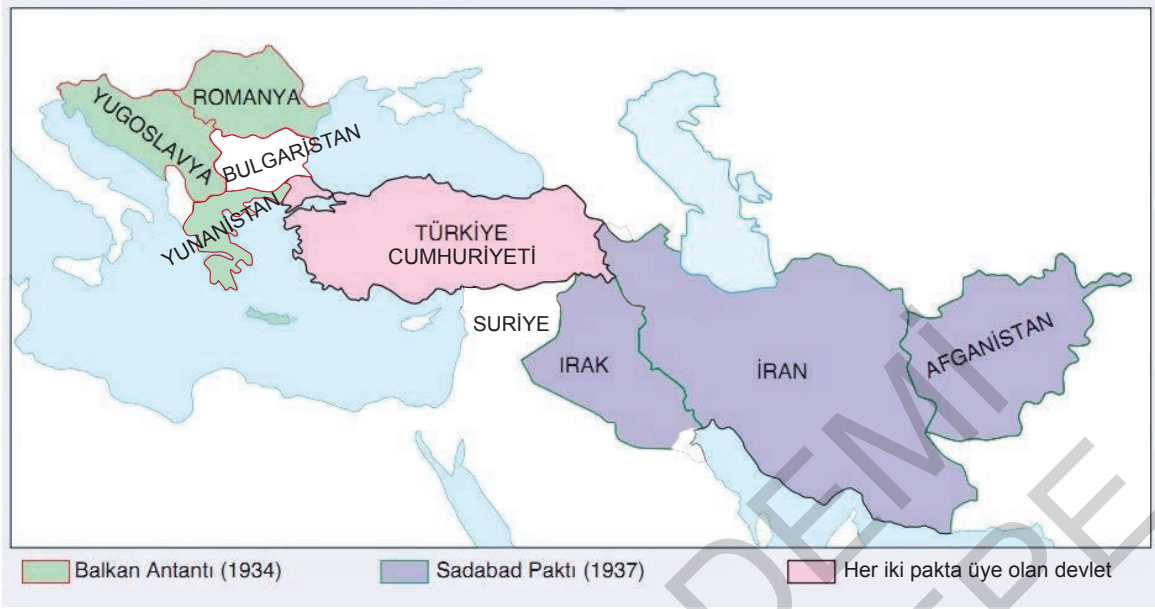
C)

Mütekabiliyet	Barışçılık
Tam bağımsızlık	Gerçekçilik

D)

Gerçekçilik	Tam bağımsızlık
Mütekabiliyet	Karşılıklılık

9.



Haritaya bakılarak aşağıdaki yargılardan hangisine ulaşamaz?

- A) Suriye, Sadabad Paktı'na katılmamıştır.
 B) Türkiye, her iki oluşumda da yerini almıştır.
 C) İttifaklara Türkiye'nin sınır komşuları dışından da katılım olmuştur.
 D) Üye devletler bir savaş durumunda tarafsız kalmaya karar vermişlerdir.

Cevaplarınızı optiğe işaretleyiniz.

Ad Soyad :

1	A	B	C	D
2	A	B	C	D
3	A	B	C	D
4	A	B	C	D
5	A	B	C	D
6	A	B	C	D
7	A	B	C	D
8	A	B	C	D
9	A	B	C	D
10	A	B	C	D

Optik No :

8 6 2

FERNUS

MOD PRO

10. İtalya'nın Doğu Akdeniz'e ve Orta Doğu'ya yönelme politikası izlemesi ve Habeşistan'ı işgal etmesi Orta Doğu ülkelerini tedirgin etmiştir.

Bu durumun aşağıdakilerden hangisine neden olduğu söylenebilir?

- A) Balkan Antantı'nın imzalanmasına
 B) Sadabat Paktı'nın imzalanmasına
 C) Orta Doğu'da manda yönetimlerinin kurulmasına
 D) Rusya ile Türkiye arasında yakınlaşma olmasına

6. Aşağıda dünya liderlerinin 10 Kasım 1938 sonrası söylemiş oldukları sözlerle ulusal gazetelerde çıkan manşetlere yer verilmiştir.

**Yani Mihal Metaksas,
Yunan Başkanı**

“Atatürk’ün devlet yönetimi ve yaptığı inkılap; yalnız Türkiye’yi değil, bütün dünyayı etkilemiştir.”

Suriye, Ekabil Gazetesi

“Atatürk’ün ölümü, yalnız Türk milleti için değil, onun benzerine çok muhtaç olan bütün doğu milletleri için de bir büyük kayıptır.”

İran, Tahran Gazetesi

“Atatürk gibi insanlar, bir kuşak için doğmadıkları gibi bir devre için de doğmazlar. Onlar, önderlikleriyle yüzyıllarca milletlerinin tarihinde hüküm sürecek insanlardır.”

Verilen sözlerde ve manşetlerde Atatürk’ün;

- I. Liderliği,
- II. Yenilikçiliği
- III. Evrenselliği,

özelliklerinden hangileri ön plana çıkarılmıştır?

- A) Yalnız II B) I ve III C) II ve III D) I, II ve III

7.

Cumalı Ordugâhı; Makedonya bölgesinde, Köprülü - İştîp yolu üzerinde bulunmaktadır. Bu ordugâhta, 3. Süvari Tümen Komutanı Tuğgeneral Suphi Paşa'nın komutası altında kurulan bir süvari tugayına eğitim ve manevra yaptırılmıştır. Bu manevraya katılan Mustafa Kemal, “Cumalı Ordugâhı” adlı eserini yazmış; bu eserinde süvari, bölük, alay, tugay eğitim ve manevralarını anlatmıştır. Mustafa Kemal’in izlenimlerini aktardığı eser; 39 sayfa metin ve 7 adet krokiden oluşmaktadır.

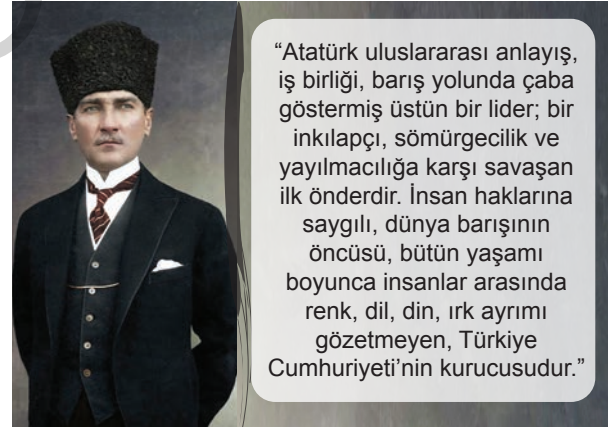


Bu bilgiye bakılarak “Cumalı Ordugâhı” ile ilgili aşağıdakilerden hangisine ulaşamaz?

- A) Askerî nitelikli bir eserdir.
- B) Edebî değeri yüksek olan bir eserdir.
- C) Meslekî bilgiler içeren bir kitaptır.
- D) Çizimlerle desteklenmiş bir eserdir.

8.

UNESCO (Birleşmiş Milletler Eğitim, Bilim ve Kültür Örgütü) Mustafa Kemal Atatürk’ün 100. doğum yıl dönümü dolayısıyla 1981 yılını “Dünya Barış Yılı” olarak ilan etmiştir. UNESCO tarafından alınan kararda Atatürk için şu ifadeler yer verilmiştir:



Bu bilgilere göre Atatürk ile ilgili,

- I. Dünya barışına katkı sağlamıştır.
- II. Emperyalizme karşı mücadele etmiştir.
- III. Evrensel bir lider olarak kabul görmüştür.

yargılarından hangilerine ulaşılabilir?

- A) I ve II B) I ve III
C) II ve III D) I, II ve III

SINIF 8

T.C İNKILAP TARİHİ VE ATATÜRKÇÜLÜK

HDS

Haftalık Değerlendirme sınavı

Adı ve Soyadı :

Sınıfı :

Okul Numarası :

32. Sınav

7. ÜNİTE : ATATÜRK'ÜN ÖLÜMÜ VE SONRASI
KONU : Atatürk ve II. Dünya Savaşı / Türkiye'de Çok Partili Siyasi Hayata Geçiş
Kazanım 8.7.3. : Atatürk'ün İkinci Dünya Savaşı öncesi tespitleri ve girişimleri Türkiye'nin savaşta izlediği denge siyaseti ile ilişkilendirilir.
Kazanım 8.7.4. : İkinci Dünya Savaşı'ndaki gelişmelerin ve bu savaşın sonuçlarının Türkiye'ye etkilerini analiz eder.
Kazanım 8.7.5. : Türkiye'de çok partili siyasi hayata geçişi hızlandıran gelişmeleri, demokrasinin gerekleri açısından analiz eder.

1. Aşağıdaki görselde II. Dünya Savaşı'na katılan devletler gösterilmiştir.

Mihver Devletler	Müttefik Devletler
Savaştan Önce: <ul style="list-style-type: none">AlmanyaİtalyaJaponya	Savaştan Önce: <ul style="list-style-type: none">İngiltereFransa
Savaş Sırasında: <ul style="list-style-type: none">MacaristanRomanyaBulgaristanFinlandiyaArnavutluk katıldı.	Savaş Sırasında: <ul style="list-style-type: none">RusyaABDPolonya katıldı.

Görsele bakılarak,

- Taraf değiştiren devletler olmuştur.
- Savaşa Avrupa kıtası dışında devletler de katılmıştır.
- Sayısal üstünlüğe sahip Mihver grubu savaşı kazanmıştır.
- Savaş başladıktan sonra her iki gruba da başka devletlerden katılım olmuştur.

yargılarından hangilerine ulaşılabilir?

- A) I ve IV B) II ve III C) II ve IV D) II, III ve IV

SINIF
8

T.C İNKILAP TARİHİ VE
ATATÜRKÇÜLÜK

HDS

Haftalık Değerlendirme sınavı

Yazılıya Hazırlık Sınavı 2. Dönem / 2. Yazılı

Adı ve Soyadı :

Sınıfı :

Okul Numarası :

KAZANIM: 8.5.1: Atatürk Dönemi'nde demokratikleşme yolunda atılan adımları açıklar.

1. Atatürk Dönemi'nde demokratikleşmeye ve millî iradeyi hâkim kılmaya yönelik atılan adımlara üç tane örnek veriniz.

1.
2.
3.

KAZANIM: 8.5.1: Atatürk Dönemi'nde demokratikleşme yolunda atılan adımları açıklar.

2. Serbest Cumhuriyet Fırkasının kurulmasında 1929 Dünya Ekonomik Krizi'nin Türkiye'yi de etkilemesi, iktidar partisini denetleyecek bir partiye ihtiyaç duyulması, alternatif politikalar üretecek partilere ihtiyaç duyulması ve millî iradenin ülke yönetimine yansımalarının önemszenmesi etkili olmuştur.

Bu etkenlerden dış kaynaklı olanını yazınız.

-
-
-

KAZANIM: 8.5.1: Atatürk Dönemi'nde demokratikleşme yolunda atılan adımları açıklar.

3. **Mustafa Kemal**, "Hükûmeti ve hükûmet adamlarını hatalardan ve bu hatalar yüzünden devleti zararlardan korumak için bir muhalif partiye gereksinim açıktır." **sözüyle neyin önemini vurgulamıştır? Kısaca açıklayınız.**

KAZANIM: 8.5.2: Mustafa Kemal'e suikast girişimini analiz eder.

4. Mustafa Kemal kendisine yönelik suikast girişiminden sonra Anadolu Ajansına verdiği demeçte aşağıdaki sözleri sarfetmiştir.

"... Girişimin benim şahsımdan ziyade mukaddes cumhuriyetimize ve onun prensiplerine yönelik olduğuna şüphe yoktur... Benim naciz vücudum bir gün elbet toprak olacaktır. Fakat Türkiye Cumhuriyeti, ilelebet payidar kalacaktır."

Mustafa Kemal'in bu sözlerine bakıldığında suikast girişiminde bulunanlar neyi amaçlamıştır? Kısaca açıklayınız.

KAZANIM: 8.5.3: Cumhuriyetin ilk yıllarında Türkiye Cumhuriyeti'ne yönelik tehditleri analiz eder.

5. Girmeden tefrika bir millete, düşman giremez;
Toplu vurdukça yürekler, onu top sindiremez.

Mehmet Akif Ersoy

Mehmet Akif Ersoy'un bu dizeleri ile vermek istediği mesajı kısaca açıklayınız.

SINIF
8

T.C İNKILAP TARİHİ VE
ATATÜRKÇÜLÜK

HDS

Haftalık Değerlendirme sınavı

Yazılıya Hazırlık Sınavı 2. Dönem / 2. Yazılı

Adı ve Soyadı :

Sınıfı :

Okul Numarası :

KAZANIM: 8.6.1: Atatürk Dönemi Türk dış politikasının temel ilkelerini ve amaçlarını açıklar.

- “Millet hayatı tehlikeye uğramadıkça harp bir cinayettir.”
• “Ben düşündüklerimi önce milletimin arzusunda, ihtiyaç ve iradesinde görmeyi şart sayan ve bunu gördükten sonra ancak, uygulaması ile kendimi vazifeli bilen bir adamım.”
• “Büyük hayaller peşinde koşan, yapamayacağımız şeyleri yapar gibi görünen sahtekâr insanlardan değiliz.”

Atatürk’ün bu sözlerine bakılarak Türk dış politikasının hangi temel ilkelere dayandığını açıklayınız.

KAZANIM: 8.6.1: Atatürk Dönemi Türk dış politikasının temel ilkelerini ve amaçlarını açıklar.

2. Montrö Boğazlar Sözleşmesi’yle, Uluslararası Boğazlar Komisyonu kaldırılarak Boğazların yönetimi Türkiye’ye bırakıldı.

Montrö Sözleşmesi ile elde edilen bu kazanımın Türk dış politikasının temel ilkelerinden hangisine uygun olduğunu yazınız.

KAZANIM: 8.5.1: Atatürk Dönemi'nde demokratikleşme yolunda atılan adımları açıklar.

6.

Parti	Kuruluş Tarihi	Kurucusu	Savunduğu Ekonomi Politikası	Savunduğu Seçim Sistemi
?	1930	Ali Fethi Bey (Okyar)	Liberalizm	Tek dereceli seçim sistemi

Yukarıdaki tabloda “?” ile gösterilen yeri tamamlayınız.

KAZANIM: 8.6.2: Atatürk Dönemi Türk dış politikasında yaşanan gelişmeleri analiz eder.

7. Atatürk Dönemi'nde Türk-İngiliz ilişkilerinin gerginleşmesine neden olan sorunu kısaca açıklayınız.

KAZANIM: 8.6.1: Atatürk Dönemi Türk dış politikasının temel ilkelerini ve amaçlarını açıklar.

8. Milletler Cemiyeti, I. Dünya Savaşı'nın sonunda bir daha böyle bir yıkımın yaşanmaması için devletler arasındaki sorunlara barışçıl yollardan çözüm bulmak amacıyla kurulmuştur (1920). Türkiye ise uluslararası sorunların çözümünde takip ettiği politika ile dünya devletlerinin takdirini toplamıştı. Bunun üzerine İspanya, Türkiye'nin üye olması için Milletler Cemiyetine teklif sundu. İspanya'nın teklifini kabul eden Cemiyet, Türkiye'ye üyelik teklif etti. Türkiye, bu teklifi kabul ederek 18 Temmuz 1932'de Milletler Cemiyetine üye oldu.

Buna göre Türkiye'nin Milletler Cemiyetine üye olmasında, takip edilen dış politika ilkelerinden hangisi etkili olmuştur? Kısaca açıklayınız.