

# Super 2<sup>⚡</sup>Li

Akıllı tahta uyumludur.

# TÜRKÇE

## PARAGRAF

- SÖZEL MUHAKEME
- GÖRSEL OKUMA - YORUMLAMA

## SORU BANKASI



## İçindekiler

---

PARAGRAF .....	6
SÖZEL MUHAKEME .....	72
GÖRSEL OKUMA - YORUMLAMA .....	84
CEVAP ANAHTARI .....	110

**PARAGRAF**



## 1 ve 2. soruları aşağıdaki metne göre cevaplayınız.

Çalışmaya başlamak ve sürdürmek konusunda temel faktörlerden bir tanesi kişinin hayatı ile ilgili sorumluluk ve kararları alma konusundaki isteğidir. Eğer hayatınızla ilgili sorumluluğu dış dünya ve olaylara bırakırsanız çalışmanızı ve başarınızı engelleyecek birçok nedeniniz olacaktır. Bir gün öğretmeniniz sizi azarladığı için çalışmak istemeyeceksiniz. Bir başka gün hava içinizi karattığı için, arkadaşınızla tartıştığınız için vb. liste uzatılabilir.

Eğer hayatınızla ilgili sorumluluğun bütünüyle size ait olmasını istiyorsanız o zaman yukarıdaki nedenlerin hiçbiri sizin günlük programınızı uygulamanıza engel olmamalıdır. Ayrıca öğrencilerin ders çalışmaya başlayamamalarının nedeni "Niçin çalışmalıyım?" sorusuna yanıt verememelerinden kaynaklanır. Ders çalışmanın da nedenleri öğrencinin kendisi tarafından net bir biçimde ortaya konmalıdır.

Birçok öğrenci çalışma isteğinin ortaya çıkması için "ilham" gelmesini bekler. Oysa "ilham" yapılması istenen davranışlar için gelir. Ders çalışmak istenen bir davranış olmadığı için ilham gelmesini beklemek yanlıştır. Önce ders çalışmaya başlayın. Sonra onu zaten seveceksiniz ve devam ettireceksiniz. Çalışma isteğini uyandırmak için çalışmaya başlayın ve bunu sürdürmeye çalışın. Bir süre sonra ders çalışmayı sevmeye başlayacaksınız. Fakat sevmeye konusunda çok acele etmeyin. Önce her gün düzenli çalışmayı başarmayı hedefleyin.

1. Bu metne göre bir öğrencinin çalışmayı sevmesi için aşağıdakilerden hangisini yapması beklenmez?

- A) Dış etkenlere aldırması
- B) Sürekli ve düzenli çalışması
- C) Neden çalışması gerektiğini bilmesi
- D) Başarısız olacağını farkında olması

2. Bu metnin ana fikri aşağıdakilerden hangisidir?

- A) Anne babalar çocuklarını sürekli denetlemeli, ödevleri birlikte yapmalıdır.
- B) Programlı olunursa, düzenli ve sürekli ders çalışılırsa çalışma isteği uyanır.
- C) Ders çalışmak için ilham gelirse daha çabuk öğrenilir.
- D) Sürekli ders çalışan öğrenci hayatında neler olduğunu farkına varır.

3. Bu, yazacağım yazının türüne göre değişir. Çok ciddi bir yazı yazacaksam konu üzerinde yoğunlaşabilmem için evde çit çıkmamalıdır. Ayrıca dikkatimin uyanık olması için çalışma odamın sıcaklığının da on altı derecesi geçmemesi gerekir. Bunun için, yaz aylarında ciddi yazılar yazamam; yazmaya kalktığımda da yazılarım, sıcaklığın etkisiyle mizah ağırlıklı olur.

**Bu sözler aşağıdaki sorulardan hangisinin karşılığı olabilir?**

- A) En çok hangi konularda yazarsınız?  
B) Yazılarınızı hangi ortamda yazarsınız?  
C) Yaşadıklarınızın, yazdıklarınız üzerinde etkisi var mı?  
D) Yazılarınızın planını nasıl belirlersiniz?

4. (I) Oyun, bir gün içinde hatta birkaç saatte geçen olaylar üzerine kurulmuş. (II) Oyun, üç birlik kuralına uygun ancak izleyicinin merakını kamçılama yönünden zayıf kalıyor. (III) İlk bölümün ikinciye göre çok kısa oluşu, izleyenleri rahatsız ediyor. (IV) Kişiler kendi toplumsal, psikolojik, ekonomik ve kültürel yapılarına uygun olarak olaylar içinde verilmiş.

**Bu parçada numaralanmış cümlelerin hangisinde olumsuz bir değerlendirme yapılmıştır?**

- A) I ve II  
B) I ve III  
C) II ve III  
D) III ve IV

5. Bir ulusun dilinin en güzel ve en doğru olarak konuşulması gereken yer radyo ve televizyondur. Günümüzde TV icat edildi, spikerlik bozuldu!.. Aynaya bakıp elini yüzünü düzgün gören herkes, ekrana çıkmanın en doğal hak olduğunu sanıyor.

**Bu parçada yazarın asıl yakındığı aşağıdakilerden hangisidir?**

- A) Spikerlikte fiziksel güzelliğin öne çıkmasından  
B) Televizyon kanallarının yaygınlaşmasından  
C) Radyo spikerliğinin nitelik kaybına uğramasından  
D) Türkçenin yayınlarda yeterince iyi konuşulmamasından

6. İnsanlar arasında iyilikten başka hiçbir üstünlük kabul etmiyorum. Karakterin olmadığı yerde ne büyük insan ne büyük sanatkar ne de büyük mücadele adamı vardır. Orada var olan, zamanın yok ettiği içleri boş yaratıklardır. Başarılar bizi ilgilendirmez. Bütün mesele büyük gözükmekte değil, gerçekten büyük olmaktır.

**Bu metinde asıl anlatılmak istenen nedir?**

- A) İyi insanlar her zaman başarılı olur.  
B) Erdem sahibi olan insanlardan ancak büyük sanatçılar çıkar.  
C) Şahsiyetli olmak bütün erdemlerin üstünde bir değerdir.  
D) İnsanlar birbirlerine karşı ancak iyilikte üstün olabilirler.

7. Bir kadının her gün yumurtlayan bir tavuğu varmış. Tavuğun yumurtaları iri iri olduğu için pazarda iyi para ediyormuş. Bir sabah kadın, "Eğer tavuğumun yemini iki katına çıkarırsam günde iki kere yumurtlar." diye düşünmüş. Tavuğa bol yem vermiş. Tavuk da yemleri yedikçe şişmanlamış. Hâlimden öyle memnunmuş ki sonunda yumurtlamayı bırakmış.

**Bu parçada, aşağıdakilerden hangisinde verilen hikâye unsuru belli değildir?**

- A) Olay  
B) Zaman  
C) Kişi  
D) Yer

8. Dilencilere ekmeğimiz varsa ekmek, paramız varsa para verirdi; hiç değilse bir fincan kahve içirdi. Bir şeyimiz yoksa tertemiz bir bardak soğuk su verirdi, bir de gözlerindeki teselliyi!

**Aşağıdakilerden hangisi, başına da sonuna da kolsa bu paragrafın düzenini ve anlam bütünlüğünü bozmaz?**

- A) Annem, gezgin satıcıları da geri çevirmezdi.  
B) İyi bir kadındı annem, kapıdan kimseyi eli boş çevirmezdi.  
C) Annem, kapıya geldiklerinde önce, aç olup olmadıklarını sorardı.  
D) Kapıda onları görünce annemi çağırırdım.

9. Dedenin gözlerine dolan korku, dünya kuruldu kurulu yaşıyıp göçmüş bütün insanların yüreğini yaracak kadar büyüktü. Eşkıyaların keyif için insanlara zarar verdikleri günlerden kalma bir korkuydu bu. Öylesine ağır, öylesine bitirici bir dehşetti ki bir orduyu bozardı. Neden sonra, bir kuru muşamba yırtılır gibi hisriıyla soluklandı.

**Bu parça için aşağıdaki belirlemelerden hangisi söylenemez?**

- A) Benzetmeye yer verilmiştir.  
B) Abartmadan kaçınılmıştır.  
C) Kişisel yoruma başvurulmuştur.  
D) Soyut kavramlar somutlaştırılmıştır.

10. Eleştirmen kendine güvenecek; bilgiye, sezgiye anlayışa dayanan bir yüreklilikle ortaya çıkacak, "Şu şöyledir, bu böyledir." diyecektir. Tartışmalar yaratacaktır. Bu onun varlık nedenidir; eleştiri sanatının gereğidir.

**Bu parçaya göre,**

- I. Belirli bir anlayışı yerleştirme  
II. Sanat ürünleri üzerinde yorum yapma  
III. Sanat ürünleri üzerinde tartışma açma

**ifadelerinden hangileri eleştirmenin varlık nedeni olamaz?**

- A) Yalnız I  
B) I ve II  
C) II ve III  
D) I, II ve III

11. (I) Bir gün Türkçe dersinde öğrencilerimden on kişiyi ayağa kaldırdım. (II) Yüzlerini sınıfın kapı tarafındaki duvara dönmelerini söyledim. (III) İçlerinden biri, sarı saçlı ve çok uzun boyluydu. (IV) Sonra, sınıfın kaç penceresinin olduğunu yazı tahtasının nerede olduğunu söyleyin, dedim.

**Numaralanmış cümlelerden hangisi düşüncenin akışını bozmaktadır?**

- A) I  
B) II  
C) III  
D) IV

12. Selin, annesiyle alışverişe gitti. Seline ayakkabı alacaklardı. Selin vitrini inceledikten sonra mağazadan içeri girdiler. Selin'in annesi oradaki görevlilere,

— Kızıma ayakkabı almak istiyorum, dedi.

Görevlilerden biri ayakkabıları işaret ederek bunlar spor ayakkabılarımız; şunlar da topuklu olanlar, dedi. Spor ayakkabılar daha sağlıklı.

Selin görevliye:

— Ben spor ayakkabı istiyorum, dedi.

Annese, kızının bu düşünceli tavrından dolayı çok memnun olmuştu. Yüzündeki tebessümle kızına memnuniyetini gösterdi.

**Bu parçadaki hikâyeye unsurları tabloda hangi seçenekte doğru verilmiştir?**

	Olay	Kişiler	Yer	Zaman
A)	Selin ve annesinin alışverişi	Selin, annesi ve görevli	Ayakkabı mağazası	Belirsiz
B)	Selin'in alışverişi	Selin ve annesi	Ayakkabı mağazası	Akşam
C)	Annese'nin alışverişi	Görevli ve Selin'in annesi	Mağaza	Sabah
D)	Selin ve görevlinin sohbeti	Selin ve görevli	Mağaza	Öğlen

13. Her yıl karlar eriyip de bahar gözünü açınca Ağrı Dağı'nda bir ulu tazelik patlar; gölün kıyıları, ince kar çizgisinin üstü kısa, küt çiçeklerle dolar. Çiçeklerin renkleri alabildiğine parlaktır ve keskin kokar.

**Bu parça için aşağıdakilerden hangisi söylenemez?**

- A) Kişileştirmeye yer verilmiştir.  
B) Betimleme yapılmıştır.  
C) Koklama duyusuna yer verilmiştir.  
D) İşitme duyusundan yararlanılmıştır.

1.

K

Derinden bir ses duydu Resul. Önemli olmayabilirdi belki ama dikkat kesildi karanlığın içinde. Tekrar geldi aynı ses kulağına. Evet, bu bir çocuk çığılığıydı. Tel örgülerin hemen önünden geliyordu ve komutanlarına haber vermeliydi.

L

Yaptığımız işten hiçbir şey anlamadık, dedi Musa. “Bugüne kadar hep iyi ilişkilerimiz olmuştu bu şirketle. Ancak başa küçük bey geçince işler değişti. Sistemli ve düzenli yürüyen işler birden karmakarışık oldu.” Odanın içinde telaşlı telaşlı yürümeye başladı. Bir çözüm bulmalıydı.

M

Çayını iç, dedi. Mualla birden kendine geldi Reyhan’ın sesiyle. Çayın yanına kek ve kurabiye de koymuştu. Ama gözü ne onları görüyordu ne de başka bir şeyi. Nasıl söyleyecekti Reyhan’a, olanları nasıl anlatacaktı? Kaç yıllık dostuydu, üzülmesini ister miydi? Ama anlatmalıydı, bilmeliydi gerçekleri.

N

Uzun bir patika yoldan geçince karşımıza etrafı açık geniş bir alan çıktı. İçinde çeşit çeşit meyve ağaçları, birkaç dip biber, domates ve salatalığın olduğu mini bir bahçe... Dedemin gizli cennetiymiş burası. Çocukluğumda elime küçük bir kürek alır, bahçe yapacağım diye buraya kaçırdım.

Harflerle gösterilmiş metinlerden hangisinde birinci kişi ağızyla anlatımdan yararlanılmıştır?

A) K

B) L

C) M

D) N

2.

“Tiyatronun, seyirci ile ortaklaşa oynanan bir oyun olduğunu herkes bilir. O hâlde, salonda yerini alan seyirci topluluğu da sahnedeki oyuncular gibi kendine düşen rolü gereğince ve yeterince oynamazsa o oyunun ne tadı çıkar ne de sanatın ışınları ön sahne çizgisini aşım amacına ulaşabilir.”

**Bu parçada asıl anlatılmak istenen aşağıdakilerden hangisidir?**

- A) Tiyatronun amacına ulaşabilmesi için seyircilerin oyuncularını yönlendirmesi gerekir.
- B) Tiyatro; sahnesi, oyuncusu ve seyircisiyle bir bütün olmalıdır.
- C) İyi bir tiyatro eseri, seyircinin duygularına seslenmeyi bilmelidir.
- D) Seyirciler, alkışlarıyla tiyatro oyuncularına destek verip onları yüreklendirmelidir.

3.

Okuma alışkanlığı hemen kazanılmaz. Bu alışkanlığın edinilebilmesi için okuma zevki ve okuma sabrı gerekir. Okuma kültürü denilen bu iki temel şart da okulda ve ailede edinilir. Ebeveyn ve öğretmenlerin bu alışkanlığı geliştirmeleri gerekir.

**Bu parçada asıl anlatılmak istenen içeriği içeren yargı aşağıdakilerden hangisidir?**

- A) Okuma alışkanlığı başarı getirir.
- B) Okuma alışkanlığı edinmek çetin bir uğraştır.
- C) Okuma alışkanlığı en iyi okulda kazandırılır.
- D) Okuma alışkanlığının gelişmesi belli şartlara bağlıdır.

4 ve 5. soruları aşağıdaki metne göre cevaplayınız.

1. Nemlenmiş gözlerle yanıma geldi Şelale. Bütün gece uyumamıştı. Belli ki beni de uyutmuyacaktı. Anladım ki dertleşmeye ihtiyacı var. "Haydi, dökül bakalım!" dedim. "Ne derdin varsa anlat."
2. Karşımdaki beyaz önlüklü, iri yarı adamı çizgi film karakterlerine benzetmiştim. Birden arkasını dönecek ve "Ha ha ha!" diye şeytani bir kahkaha atıp "Seni yakaladım küçük yaramaz!" diyecekmiş gibi bir tipi vardı.
3. Bu kez fena sinirlenmiş ormanlar kralı. "Hiçbiriniz bir daha benim sözümden çıkmayacaksınız. Aksi takdirde bu huzurlu orman hepimiz için çekilmez bir duruma girecek." demiş.
4. Karnımda bir ağrı hissetmiştim. Sanki içeride bir şeyler oynuyordu. Elimi karnıma koydum, gerçekten bir şey hareket ediyordu. Fena bir acıydı ama bu hareketliliği hissetmek ve gözlemlmek çok heyecanlıydı.

4. Numaralanmış metinlerle ilgili aşağıdakilerden hangisi söylenemez?

- A) 1. metinde üçüncü kişi ağızıyla anlatım yapılmıştır.
- B) 2. metinde benzetme sanatından yararlanılmıştır.
- C) 3. metin bir fabldan alınmıştır.
- D) 4. metinde olay, birinci kişi ağızıyla anlatılmıştır.

5. Numaralanmış metinlerden hangisinde hayal unsuru öğelere yer verilmiştir?

- A) 1      B) 2      C) 3      D) 4

6 ve 7. soruları aşağıdaki metne göre cevaplayınız.

Genç çift, yeni bir eve taşınmış. Sabah kahvaltı yaparlarken komşuları da çamaşırları asıyormuş. Kadın, "Bak çamaşırları yeterince temiz değil, çamaşır yıkamayı bilmiyor, belki de doğru deterjanı kullanmıyor." demiş. Adam, hiçbir şey söylemeden kahvaltısına devam etmiş. Kadın, komşusunun çamaşır astığını gördüğü her sabah aynı yorumu yapmış. Bir ay kadar sonra bir sabah, komşusunun çamaşırlarının tertemiz olduğunu gören kadın şaşırılmış ve "Bak, çamaşır yıkamayı öğrendi sonunda, kim öğretti acaba?" diye sormuş. Adam, "Ben bu sabah biraz erken kalkıp penceremizi sildim." diye cevap vermiş.

6. Bu parçanın ana düşüncesi aşağıdakilerden hangisidir?

- A) İnsan ne görmek istiyorsa onu görür baktığında.
- B) Kendi kusurunu görmeyen çevresinde kusur arar.
- C) Madem görüyorsunuz o hâlde hoş görün.
- D) Görmek istemediğiniz şeylere bakmayın.

7. Bu parçada anlatılan kadın için en uygun atasözü aşağıdakilerden hangisidir?

- A) İğneyi kendine, çuvaldızı başkasına batır.
- B) İsteddiğini söyleyen istemediğini ıstır.
- C) Davulun sesi uzaktan hoş gelir.
- D) Hatasız kul olmaz.



8. Öğrenmenin unutmak gibi olumsuz bir sonucu vardır. Çeşitli konuları hatırdı tutabilme miktarı aynı değildir. Öğrendiklerinizin yarıya yakın kısmı 24 saat içinde unutulmaktadır. Unutkanlığı yenmede tekrar etmenin önemi büyüktür. Tekrar edilmeyen bilgi ile öğrenilmiş bilgi arasında pek fark yoktur. Tekrarlar mümkün olduğunca aralık verilmeden yapılmalıdır. Konu dilimlere ayrılmalı, o dilim bittiğinde 10–15 dakikalık bir tekrar vakit geçirilmeden yapılmalıdır. Konunun yerleşmesi isteniyorsa bir gün sonra bilgiler yeniden tekrar edilmelidir. Bu tekrar, birkaç dakikalık bir sürede bitecek şekilde olabilir. Üçüncü tekrar etme işlemi 7-10 gün içinde en fazla yarım saat alır. Ancak birkaç saatte hazırladığınız çalışmalarınızın boşa gitmesinin önlenmesi tekrar etmek için ayıracağınız bu yarım saate bağlıdır.

**Bu metne göre, bilgiyi unutmamak için aşağıdaki-lerden hangisi yapılmalıdır?**

- A) Düzenli aralıklarla tekrarlar yapılmalıdır.
- B) Bilgi başkalarına aktarılmalıdır.
- C) Konu bir bütün hâlinde ele alınmalıdır.
- D) Gereksiz görülen konular üzerinde durulmamalıdır.

9. Aynanın karşısına geçin. Göz kapağınızın alt kısmını hafifçe aşağıya doğru çekmeye başlayın. İnce bir ipliğe benzeyen kırmızı çizgiler göreceksiniz göz kapağınızda. Bu kırmızı çizgiler iki göz kapağımızda da bulunmaktadır. Bunlar en küçük kan damarlarımızdan bazılarıdır. Vücudumuzda pek çok sayıda kan damarı vardır. Tamamı art arda eklenebilse dünyanın çevresinde yaklaşık iki kere dolaşacak kadar uzun olurdu.

**Bu bilgilere göre göz kapaklarındaki kırmızı çizgilerle ilgili aşağıdakilerden hangisine ulaşamaz?**

- A) Kan damarlarımızdan olduğuna
- B) İpliğe benziyor olmalarına
- C) Uzun olduklarına
- D) Her canlıda bulunduğu

10. Güzel konuşan biri, çevresindeki insanlar üzerinde olumlu bir etki bırakır. Arkadaşları, tanıdıkları onu büyük bir keyifle dinler. Hoş sohbet dediğimiz insan, kalplere kadar uzanan yolları bulur ve kendini sevdirmesini bilir. Konuştuğu kişilerden her istediğini elde eder. Onları inandırma sanatını bilir. Herkesin hayranlığını kazanır.

**Bu metinde aşağıdakilerden hangisine değinilmemiştir?**

- A) Sohbeti güzel olan kişiler kendini başkalarına sevdirebilir.
- B) Güzel ve etkili konuşarak karşımızdakilere istediklerimizi kabul ettirebiliriz.
- C) Güzel konuşanlar etrafındakileri etkilemeyi başarır.
- D) Güzel konuşan kimseler toplumda hep başarılı olur.

11. Bu hikâyeleri belli zamanlarda yazmıştım. İnsan, yaşı ilerledikçe bazı çalışmalarını yapıp ortaya çıkarmasının gerekli olduğunu düşünmeye başlıyor. Çünkü bu öyküler, Türkiye'nin belirli dönemlerine ve farklı toplum kesimlerine benim bakışımı yansıtıyor.

**Bu parça aşağıdaki sorulardan hangisine yanıt olarak söylenmiş olabilir?**

- A) Öykülerinizde neyi gerçekleştirmeyi amaçlıyorsunuz?
- B) Öykülerinizi yayımlamak için neden bu kadar bekleddiniz?
- C) Öykülerinizde ülkenin hangi dönem ve özelliklerini ele aldınız?
- D) Diğer yapıtlarınızda da toplumsal bakış açınız aynı mıdır?

1.



Türkiye Cumhuriyeti'nin kurucusu Mustafa Kemal Atatürk'ün anıt mezarı Anıtkabir, kentin en önemli yapılarındandır. Anıtkabir'in girişinde yemyeşil bir park karşılar ziyaretçileri. Hem ülkemizin farklı bölgelerinden hem de farklı ülkelerden getirilen binlerce ağaç türüne ev sahipliği yapan bu park Barış Parkı'dır. Buradan Tören Meydanı'na kadar olan yol da Aslanlı Yol olarak bilinir. Bu yolun iki tarafında yirmi dört Oğuz boyunu temsil eden yirmi dört aslan heykeli vardır. Ayrıca Anıtkabir'in içinde Atatürk ve Kurtuluş Savaşı Müzesi yer alır.

**Bir dergiden Anıtkabir'le ilgili yazılan yukarıdaki yazıyı okuyan bir öğrenci, merak ettiği**

- I. Barış Parkı'nda bulunan ağaçların özelliği nedir?
- II. Aslanlı Yol Anıtkabir'in neresindedir?
- III. Aslanlı Yol'un iki yanındaki heykeller kim tarafından yapılmıştır?
- IV. Anıtkabir'in içinde hangi müzeler vardır?

**sorularından hangilerinin yanıtını bu yazıda bulabilir?**

- A) I ve III                      B) I, II ve IV                      C) II ve III                      D) II, III ve IV

2. Hangi insan veya hangi olay yaşamı tarihe gömebilir? Hiçbir yaşam tarihin içine sığmaz, bir yerlerden çıkar. Üstü kapatılmaz, boşluğunu buldu mu hemen yeniden ortaya çıkar veya en azından iz bırakır. Hayat gömülemez ki toprağa! İnsanlar gömülür ama hayat gömülemez; en virane olmuş yerlerden, umutsuzluklardan, yıkıntılar arasından gösterir kendini.

**Bu parçada aşağıdakilerden hangisi üzerinde durulmaktadır?**

- A) İnsanın çaresizliği  
B) İnsan yaşamına verilen değer  
C) Yaşamın her insanda iz bıraktığı  
D) Yaşamın sonsuzluğu

3. Nedense çoğu insan beceremez içten gelen, samimi ve masum bir gülücüğü. O kadar kasarlar ki kendilerini bir türlü beceremez, beklentiyi karşılayamazlar. Sonunda yapmacık, buz gibi bir yüz ifadesi ortaya çıkar. Peki, çok mu zordur? Bence değil! Hele ki insanların gülücüğününden mutlu olacaklarını, hayata daha sıkı tutunacaklarını düşünürseniz o sıcak tebessüm eksik etmezsiniz yüzünüzden.

**Bu metnin yazarının yakındığı durum aşağıdakilerden hangisidir?**

- A) İnsanların düşüncesizlikleri  
B) İnsanların samimiyetsizliği  
C) Birbirlerine kötü davranan insanlar  
D) İnsanların çok konuşması

4. Bir kuşun minicik kanadında okşuyorum  
Ulu göklerin maviliğini ve sonsuzluğunu  
O minik serçelerin civıltısıyla sınıyor içime,  
Ağaçların yeşilliği, bulutların ipek gölgesi  
Çocukların yüzünde ışıltıyor.

**Bu şiirin konusu aşağıdakilerden hangisi olabilir?**

- A) Doğanın renkleri  
B) Çocuk neşesi  
C) Yaşam ümidi  
D) Özgürlük arzusu

5. Köklü bir geçmişi olan dilimiz, Fatihlerin ordularıyla, uygarlık alışverişleriyle, eski-yeni dünyaları kaç boy do-laşmış, kendi varlığından nice izler bırakmıştır. O, hâlâ Cezayir'de, Sudan'da, Macaristan'da konuşulmaktadır.

**Bu parçada aşağıdakilerden hangisi üzerinde durul-maktadır?**

- A) Kültürümüzün dünyaya bıraktığı izler  
B) Dilimizin geniş bir coğrafyaya yayıldığı  
C) Türkçenin her yerde konuşulduğu  
D) Türk uygarlığının ulaştığı bölgeler

6. I. Tırmanış başladıktan sonra çantalarının yanı sıra hava şartları da onları zorluyordu.  
II. Dağcılar sabah erkenden toplanmıştı tırmanışın başlayacağı alana.  
III. Fakat her iki zorluğun da mükâfatını zirvedeki man-zara ile alacaklardı.  
IV. Zirveye çıkmak sırtlarındaki onlarca kilo ağırlığın-daki çantalarla zorlu ve yorucu bir süreçti.

**Numaralanmış cümlelerle anlamlı bir paragraf oluş-turmak istenirse sıralama aşağıdakilerden hangisi gibi olmalıdır?**

- A) I - II - III - IV  
B) II - IV - I - III  
C) II - III - I - IV  
D) IV - II - I - III

7. Yaşamak en başta hayata olumlu bakmaktır. Daha da önemlisi insanlara faydan dokunmasıdır. Benim hayatım hep bu kural üzerine oldu. Hayatımın değerini bu şekil-de arttırmaya çalıştım. Bir insan topluma, insanlara ne kadar faydalı olursa yaşamına o kadar değer katmıştır.

**Böyle söyleyen biri, aşağıdaki sorulardan hangisi-ne cevap vermiş olabilir?**

- A) Sizce hayatın anlamı nedir?  
B) Mutlu olmak için neler yaparsınız?  
C) İnsan, topluma neden faydalı olmalıdır?  
D) Yaşam bize her zaman mutluluk mu getirir?

8. Burnuma, köşeden dönünce mis gibi ekmeğin kokusu ge-liyordu. Köşe başındaki fırına gittim. Yeni çıkan, dumanı üstünde ekmeğlerden bir tane aldım, ekmeğin insana huzur veren sıcaklığını avuçlarımda hissettim. O kutsal ekmeğin kokusunu ve dumanını, kimselerin göremeye-ceği bir yerde içime çektim.

**Bu metinde hangi duyumuzla ilgili ayrıntılara yer verilmemiştir?**

- A) Koklama  
B) Görme  
C) İşitme  
D) Dokunma

9. Yazın hayatına başladığım zaman, ki o lise yıllarına denk gelir, içimde kıpır kıpır eden bir şeyler vardı. Lise arkadaşımın tavsiyesiyle dergiye ilk yazımı gönderdim. İlerleyen dönemlerde kendime gelen güvenle daha çok yazılar gönderdim. İlk zamanlardaki heyecanım hâlen devam ediyor.

**Bu metinde hikâye unsurlarından hangisi daha çok vurgulanmıştır?**

- A) Kişi  
B) Olay  
C) Zaman  
D) Yer

10. İstanbul Pendorya Alışveriş Merkezi, 8-21 Mart tarihleri arasında çocuk sergisine ev sahipliği yapıyor. Sergide Sosyal Hizmetler ve Çocuk Esirgeme Kurumundan 200 çocuğun İstanbul Boğazı'nı resmettikleri cam boyama eserleri, gazete kâğıdı, tel, bant ve renkli özel hamurlarla hayallerindeki oyuncuğa şekil verdikleri oyuncak heykeller, renkli köpüklerden yaptıkları kuklalar ile pet şişe ve ambalajlardan yaptıkları geri dönüşümlü dev heykeller sergileniyor. Sergi sayesinde, kısıtlı imkânlarla sahip çocuklara olanak sağlandığında neler yapabilecekleri anlaşılıyor. Sergi, çocukların hayatları boyunca kendilerine rehber olacak bilgiler kazanmalarını ve sanatsal becerilerini geliştirmelerini amaçlamaktadır.

**Bu parça için aşağıdakilerden hangisi söylenemez?**

- A) Yazılma amacı bilgi vermektir.
- B) Sayısal ifadeler yer verilmiştir.
- C) Nesnel yargılardan yararlanılmıştır.
- D) Tanımlamaya yer verilmiştir.

11. Çocuklarınız, sizin çocuklarınız değil. Onlar, kendi yolunu izleyen yaşamın oğulları ve kızları. Sizin aracılığınızla geldiler ama sizden gelmediler. Sizinle birlikte olsalar da sizin değiller. Onlara sevginizi verebilirsiniz ama düşüncelerinizi değil çünkü onların kendi düşünceleri vardır.

**Bu parçadan aşağıdaki yargılardan hangisi çıkarılamaz?**

- A) Çocuklarınızı sevebilirsiniz ama onlara bir eşyaya sahip olduğunuz gibi sahip olamazsınız.
- B) Çocuklar dünyaya anne babaları aracılığıyla geldiler ama onlara benzemek zorunda değiller.
- C) Çocuklarınız, sizin düşündüğünüz gibi düşünmeyebilir, sizin yaşadığınız gibi yaşamayabilir.
- D) Çocuklarınız, sizin yaşadığınız dünyada yaşamayacak o yüzden sizin gibi düşünmelerini beklemeyin.

12. Her hastalığın bir mikrobu vardır. Hastalıklar bu mikroplarla başkalarına bulaşır. Mikroplar, mikroskop denilen aletlerle görülür ve yok edilmeleri için tedavi uygulanır. Onu ilk tanımlayan kişi olan Akşemseddin, mikrobu varlığını şöyle belirtmişti: "Hastalıkların insanlarda tek tek ortaya çıktığını sanmak hatadır. Hastalık insandan insana bulaşmak suretiyle geçer. Bu bulaşma gözle görülmeyecek kadar küçük fakat canlı tohumlar vasıtasıyla olur."

**Bu metne en uygun başlangıç cümlesi aşağıdakilerden hangisidir?**

- A) Bu mikroplardan korunmanın çeşitli yolları vardır.
- B) Gözle görülemeyecek kadar küçük olan bu mikropların etkisi büyüktür.
- C) Yaşadığımız çevrede gözle görülemeyecek kadar ufak canlılar vardır.
- D) Mikroplar, hastalıkların yayılmasına yol açan, gözle görülmeyecek kadar ufak canlılardır.

13. Kahvaltımızı yaptıktan sonra biraz oturup pikniğe gitmeye karar verdik. Hava çok güzeldi. Kardeşimle piknikte oynamak için top da almıştık yanımıza. Piknik çok eğlenceli geçmişti. Annemler közde mısır pişirirken biz de kuzenlerimizle yakan top, sonra da voleybol oynadık. Hava kararmaya başlayınca eve dönme vakti gelmişti. Çok acıkmıştık ama yorgun olduğumuz için de hazırlayacak hâlimiz yoktu. Annem hemen lokantayı arayıp üçer tane lahmacun söyledi. Yarım saat sonra motorla siparişlerimiz gelmişti. Lahmacunların parasını ödedikten sonra karnımızı bir güzel doyurmaya başlamıştık.

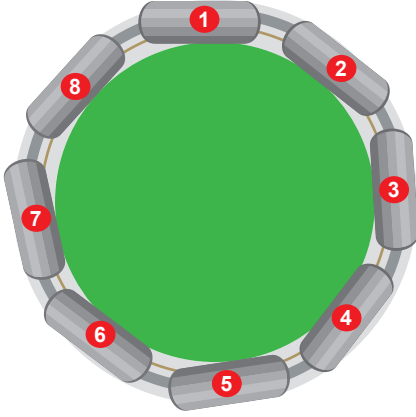
**Bu metinde aşağıdaki sorulardan hangisinin cevabı yoktur?**

- A) Olay ne zaman gerçekleşmişti?
- B) Lahmacunlara ne kadar ücret ödemişlerdir?
- C) Kimler pikniğe gitmiştir?
- D) Piknikte neler yapmışlardır?

# SÖZEL MUHAKEME



1 ve 2. soruları aşağıdaki metne göre cevaplayınız.



Ahmet, Sami, Cemal, Davut, Serkan, Fatih, Yiğit adlı arkadaşlar lunaparka gidiyorlar. Yuvarlak raylar üzerinde dönen sekiz vagonlu bir trene biniyorlar. Herkes bir vagona biniyor.

- Ahmet ile Serkan arasındaki vagon boş kalıyor.
- Yiğit, Ahmet'in hemen yanındaki vagondadır.
- Cemal ile Yiğit arasında 2 kişi vardır.
- Fatih ile Sami yan yanadır.
- 5. vagon boştur.
- Yiğit 3. vagondadır.

1. Bu bilgilere göre aşağıdakilerden hangisi kesinlikle doğrudur?

- A) Serkan'ın karşısında Fatih vardır.
- B) Sami'nin karşısı boştur.
- C) Yiğit ve Fatih arasında Sami vardır.
- D) Serkan ile Davut yan yanadır.

2. Bu bilgilere göre;

- I. Ahmet ile Cemal arasında 4 vagon vardır.
- II. Fatih'in karşısındaki vagon boştur.
- III. Serkan ile Sami arasında 2 vagon vardır.

yargılarından hangileri kesinlikle yanlıştır?

- A) Yalnız I
- B) I ve III
- C) II ve III
- D) I, II ve III

3 ve 4. soruları aşağıdaki metne göre cevaplayınız.

Her yıl 6 Temmuz'da başlayıp 14 gün süren -Pamplona şehrinde kutlanan- Boğa Festivali, İspanya'nın en önemli eğlence aktivitelerinden biridir. Dünyanın dört bir yanından festivale katılımlar oluyor. Bu yılki festivale Japonya'dan, Hindistan'dan ve İngiltere'den 3 tur kafilesi katılacaktır.

Festival ve turların İspanya'ya gitme tarihleriyle ilgili bilinenler şunlardır:

- Festivalin 7. günü perşembedir.
- Japonlar festivale 4. gün gitmiştir.
- Hindular, Japonlardan sonraki, İngilizlerden de önceki günlerin birinde festivale gitmiştir.
- Bütün ülkeler festivale gidişlerinin 7. gününde dönmüşlerdir.
- İngilizler festivale 7. günde gitmiştir.

3. I. Salı  
II. Çarşamba  
III. Perşembe

Hindular, Boğa Festivali'ne hangi gün gitmiş olabilir?

- A) Yalnız I
- B) I ve II
- C) II ve III
- D) Yalnız II

4. Hinduların salı günü festivale gittiği biliniyorsa, Hindular festivalden hangi gün dönmüştür?

- A) Pazar
- B) Pazartesi
- C) Salı
- D) Çarşamba

5 ve 6. soruları aşağıdaki metne göre cevaplayınız.

Bir okuldaki matematik, Türkçe, İngilizce, fen bilgisi ve sosyal bilgiler dersleri hakkında şunlar bilinmektedir:

- Derslerin zorluk derecesi, derse duyulan ilgi ve derste gösterilen başarı alfabetik sıralamayla uyumludur.
- Sıralamaya göre sona doğru derse duyulan ilgi artmaktadır.

5. Bu bilgilere göre hangi derslere daha fazla ilgi duyan öğrencinin başarısı en yüksek olur?

- A) Fen bilgisi, matematik
- B) İngilizce, matematik
- C) Fen bilgisi, sosyal bilgiler
- D) Sosyal bilgiler, Türkçe

6. Bu bilgilere göre matematik dersine duyulan ilgi ile ilgili aşağıdakilerden hangisi kesinlikle söylenir?

- A) Matematik dersi listenin en başında olduğu için ilgi ve başarı en azdır.
- B) Matematik dersi listenin ortasında olduğu için ilgi ve başarı orta derecedir.
- C) Matematik dersi listenin sonunda olduğu için ilgi ve başarı düzeyi en yüksektir.
- D) Matematik dersini alanlar zorunlu olarak Türkçe dersini de alırlar.

7 ve 8. soruları aşağıdaki metne göre cevaplayınız.

Üniversite sınavlarına hazırlanan bir öğrenci, yeni aldığı "Türkçe, İngilizce, sosyal bilgiler, fen bilgisi ve matematik"ten oluşan beş yardımcı kitabı, kitaplığındaki rafa soldan sağa doğru yerleştirmiştir.

- Türkçe ile sosyal bilgiler kitapları yan yanadır.
- İngilizce kitabının sağında kitap yoktur.
- Fen bilgisi kitabının solunda iki kitap vardır.

7. Buna göre aşağıdakilerden hangisi kesinlikle doğrudur?

- A) Sosyal bilgiler kitabının solunda kitap yoktur.
- B) Birinci ve ikinci sırada Türkçe ve sosyal bilgiler kitapları vardır.
- C) Türkçe ve matematik kitapları en sonda ve en baştaki kitaplardır.
- D) İç kısımda kalan kitaplar Türkçe, sosyal bilgiler ve matematik kitaplarıdır.

8. Bu bilgilere göre dördüncü sıradaki kitap aşağıdakilerden hangisidir?

- A) Matematik
- B) Türkçe
- C) Sosyal bilgiler
- D) İngilizce

9 ve 10. soruları aşağıdaki metne göre cevaplayınız.

Bir konservatuvarda okuyan öğrencilerden Behnan, Ege ve Davut vurmali, üflemeli ve telli olarak ayrılan enstrümanları çalabiliyorlar.

Vurmali çalgılardan davul, bateri; üflemeli çalgılardan flüt, ney; telli çalgılardan gitar ve kemençe mevcuttur. Herkes bir türden sadece bir enstrüman ve toplamda üç enstrüman çalabiliyor.

- Kemençeyi sadece Davut çalmaktadır.
- Ney üfleyen ve bateri çalan sadece Behnan'dır.
- Flüt çalanlar, farklı telli çalgılar çalıyorlar.

9. Bu bilgilere göre Ege'nin çaldığı aletler aşağıdakilerden hangisinde doğru verilmiştir?

- A) Davul, flüt, gitar
- B) Davul, ney, kemençe
- C) Davul, ney, gitar
- D) Bateri, flüt, kemençe

10. Bu bilgilere göre aşağıdakilerden hangisine ulaşmaz?

- A) Ege'nin flüt çaldığına
- B) Davut'un davul çaldığına
- C) Behnan'ın flüt çaldığına
- D) Ege'nin gitar çaldığına

11 ve 12. soruları aşağıdaki metne göre cevaplayınız.

Ahmet, Burak, Emrah ve Yalçın bir fabrikada hafta içi birer gün vardiyalı çalışıyorlar. Vardiyaya kaldıkları günler hakkında şunlar bilinmektedir:

- Yalçın ile Emrah arasında bir günlük ara vardır.
- Burak, Ahmet'ten bir gün önce vardiyaya kalıyor.
- Yalçın, Ahmet'ten bir gün sonra vardiyaya kalıyor

11. Bu bilgilere göre pazartesi ve cuma günleri vardiyaya kalanlar aşağıdakilerden hangisinde sırasıyla verilmiştir?

- A) Ahmet ve Emrah
- B) Burak ve Yalçın
- C) Emrah ve Yalçın
- D) Burak ve Emrah

12. Bu bilgilere göre salı günü vardiyaya kalan aşağıdakilerden hangisidir?

- A) Ahmet
- B) Burak
- C) Emrah
- D) Yalçın



1 ve 2. soruları aşağıdaki metne göre cevaplayınız.

Ali, Burak, Cenk, Deniz ve Emre okul takımında oynamakta olan 8/A sınıfı öğrencileridir. Maç sırasında 3, 5, 6, 7 ve 10 numaralı formaları şu şekilde giydikleri bilinmektedir:

- 6 ve 7 numaralı formaları Ali ve Deniz giymektedir.
- Cenk'in giydiği formanın numarası, Burak'ın forma numarasından büyüktür.

1. Bu bilgilere göre aşağıdakilerden hangisi kesinlikle yanlıştır?

- A) Cenk, 10 numaralı formayı giymektedir.
- B) Ali, 7 numaralı formayı giymektedir.
- C) Emre, 10 numaralı formayı giymektedir.
- D) Cenk, 3 numaralı formayı giymektedir.

2. Burak 5 numaralı formayı giyerse

- I. Cenk, 10 numaralı formayı giymiştir.
- II. Deniz, 7 numaralı formayı giymiştir.
- III. Ali, 7 numaralı formayı giymiştir.

bilgilerinden hangisi kesinlikle doğru olur?

- A) Yalnız I
- B) I ve II
- C) II ve III
- D) I, II ve III

3. Okulun mezunlar yemeğinde bir araya gelen Sezen, Özlem, İnal, Bahar ve Murat'ın beş kişilik, yuvarlak bir yemek masasında nasıl oturdukları ile ilgili olarak bilinenler şunlardır:

- Sezen ile Özlem yan yana oturmuştur.
- Murat; Özlem ile İnal arasında oturmuştur.

**Bu bilgilere göre**

- I. İnal; Murat ile Bahar'ın arasında oturmaktadır.
- II. Bahar; Sezen ile İnal'ın arasında oturmaktadır.
- III. Özlem; Sezen ile Murat arasında oturmaktadır.

**yargılarından hangileri doğrudur?**

- A) Yalnız I
- B) I ve II
- C) II ve III
- D) I, II ve III

4. K, L ve M marka üç ampul ile ilgili olarak aşağıdakiler bilinmektedir:

- K ve L'den biri patlaksa diğeri sağlamdır.
- L ve M'den en az biri patlaklıdır.

**Bu bilgilere göre aşağıdakilerden hangisi kesinlikle doğrudur?**

- A) K patlaksa M patlaklıdır.
- B) K sağlamısa M patlaklıdır.
- C) L sağlamısa M sağlamdır.
- D) M patlaksa K sağlamdır.

5 ve 6. soruları aşağıdaki metne göre cevaplayınız.

Utku, kütüphanesindeki soldan sağa 1'den 7'ye kadar numaralanmış bölmeleri olan rafa 3 soru bankası, 2 roman ve 2 masal kitabını şu kurallara göre sıralayacaktır:

- Soru bankalarının yan yana yerleştirilmesi zorunludur.
- Romanların yan yana yerleştirilmesi zorunludur.
- Masal kitapları yan yana veya ayrı ayrı yerleştirilebilir.

5. Utku, 3 numaralı bölmeye bir roman, 6 numaralı bölmeye bir soru bankası yerleştirirse kaç numaralı bölmeye kesinlikle bir masal kitabı yerleştirmesi gerekir?

- A) 1                      B) 2                      C) 4                      D) 5

6. Utku, 6 numaralı rafa masal kitabı yerleştirirse diğer masal kitabı kaçınıncı rafta olur?

- A) 2                      B) 4                      C) 5                      D) 7

7 ve 8. soruları aşağıdaki metne göre cevaplayınız.

Bir okulda Özden, Ezgi, İsmet, Didar ve Erman adlı öğrenciler hafta içi beş günün birinde farklı öğretmenleriyle çalışmaya kalmaktadırlar.

Öğretmenler ve çalışmaya kaldıkları günlerle ilgili bilgiler şunlardır:

- Her bir öğretmen, haftada bir gün çalışmaya katılmaktadır.
- Haftanın ilk günü Erman çalışmaya kalmıştır.
- İsmet, Özden'den sonraki gün, Ezgi'den önceki gün çalışmaya kalmıştır.
- Özden, Erman'dan sonraki gün çalışmaya kalmıştır.

7. Bu bilgilerden hareketle aşağıdakilerden hangisi söylenemez?

- A) İsmet, çarşamba günü çalışmaya kalmıştır.  
B) Özden salı günü çalışmaya kalmıştır.  
C) Perşembe günü Ezgi çalışmaya kalmıştır.  
D) Didar, Ezgi'den önce çalışmaya kalmıştır.

8. Bu bilgilere göre cuma günü çalışmaya kalan aşağıdakilerden hangisidir?

- A) Didar                      B) Ezgi  
C) İsmet                      D) Özden

9 ve 10. soruları aşağıdaki metne göre cevaplayınız.

Sema, Taner, Ulaş, Veli, Yeşim ve Ziya adlı arkadaşlar aynı şehirde oturmaktadır. Bu kişilerin evleriyle ilgili şunlar bilinmektedir:

- Sema'nın evi, Ziya'nın evinin batısındadır.
- Taner'in evi Yeşim'in evinin batısındadır.
- Veli'nin evi, Ulaş'ın evinin batısındadır.
- Yeşim'in evi; Veli'nin evinin kuzeydoğusunda, Ziya'nın evinin güneyindedir.

9. Aşağıda verilenlerin hangilerinin evleri en güneyde yer almaktadır?

- |                   |                  |
|-------------------|------------------|
| A) Taner ve Yeşim | B) Sema ve Ziya  |
| C) Veli ve Ulaş   | D) Taner ve Veli |

10. Ulaş'ın evi, Taner'in evine göre hangi yönde kalmaktadır?

- |              |              |
|--------------|--------------|
| A) Kuzeydoğu | B) Güneydoğu |
| C) Kuzeybatı | D) Güneybatı |

11. Bir koşu yarışına Ufuk, Burçak, Reyhan, Efsa, Mira ve Kerem adlı öğrenciler katılmıştır. Yarışmanın sonucu ile ilgili bilinenler şunlardır:

- Bir kız öğrenci birinci olmuştur.
- İlk üçte iki erkek öğrenci vardır.
- Burçak sonuncu olmuştur.
- Mira, yarışmayı Reyhan'ın hemen önünde, Ufuk'un hemen arkasında tamamlamıştır.

Buna göre

- I. Efsa yarışmayı kazanmıştır.
- II. Mira üçüncü olmuştur.
- III. Burçak ile Ufuk arasında bir kişi vardır.
- IV. Reyhan dördüncü olmuştur.

yargılarından hangileri yanlıştır?

- |              |                  |
|--------------|------------------|
| A) I ve II   | B) II ve III     |
| C) III ve IV | D) II, III ve IV |

12. 8 katlı bir binada katların kullanımıyla ilgili şunlar bilinmektedir:

- Binada masaj salonu, kuaför, müzik kursu, resim kursu, muhasebe, sinema salonu bulunmaktadır.
- İş yerlerinin hepsi ayrı katlardadır.
- Masaj salonu olarak kullanılan katın üstünde başka bir kat yoktur.
- Müzik kursu olarak kullanılan kat ile resim kursu olarak kullanılan kat arasında üç kat vardır.
- Kuaför olarak kullanılan kat, sinemanın bir alt katı, müzik kursunun bir üst katıdır.
- Muhasebeciler, bu binanın ikinci katını kullanmaktadır.

Buna göre aşağıdakilerin hangisi kullanılmayan katlardan biri olamaz?

- |      |      |      |      |
|------|------|------|------|
| A) 1 | B) 3 | C) 6 | D) 7 |
|------|------|------|------|

# GÖRSEL OKUMA - YORUMLAMA

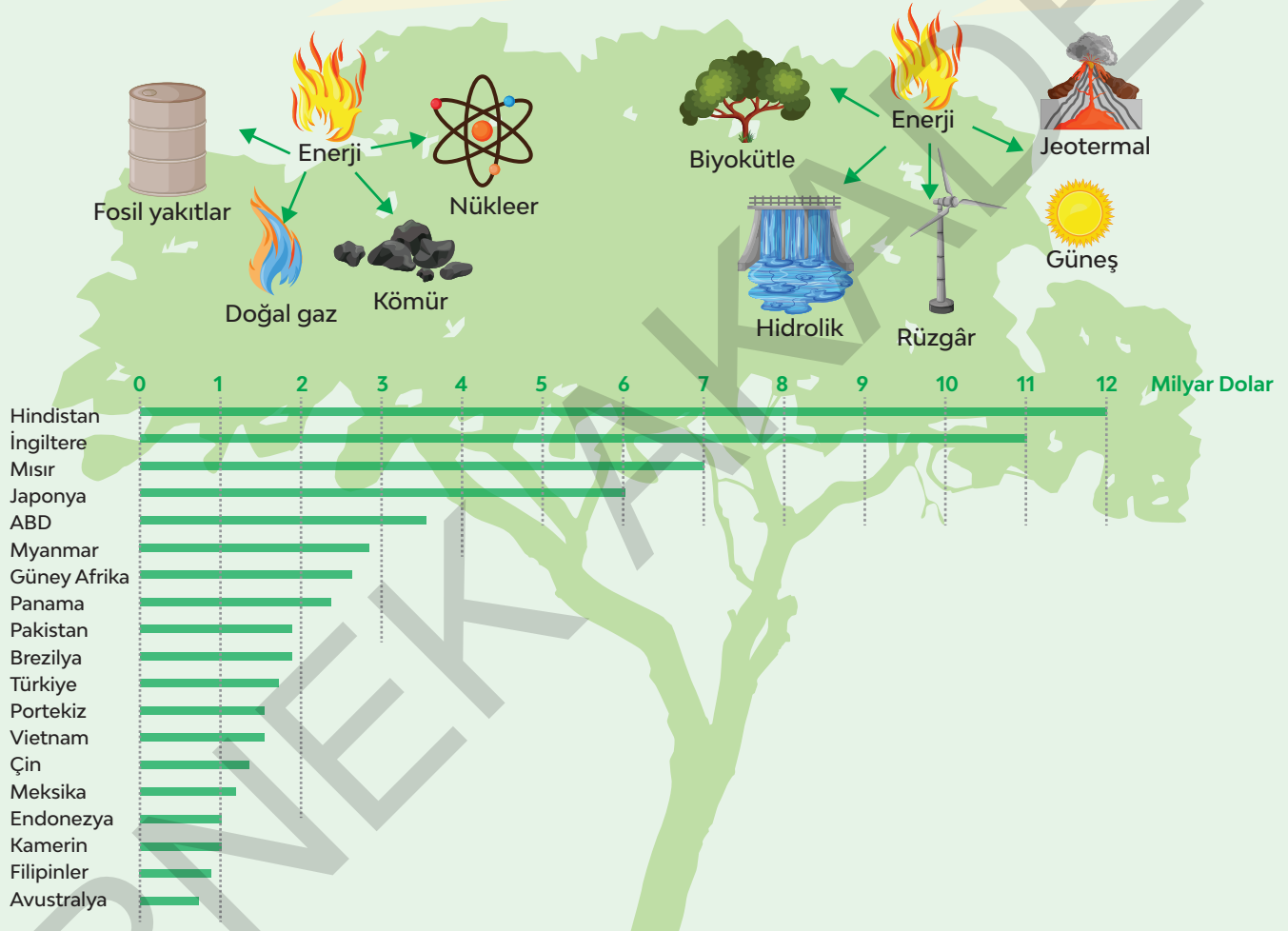


1 ve 2. soruları soruları görselden hareketle cevaplayınız.

### Ülkeler Bazında Yenilenebilir Enerji Alanındaki Yeni Yatırımlar

Yenilenebilir enerji, sürekli devam eden doğal süreçlerdeki var olan enerji akışından elde edilen enerjidir.

Yenilenemez enerji, kullanıldıktan sonra tükenen ve yenilenmesi için çok uzun süre gerektiren enerji kaynaklarından elde edilen enerjidir.



1. Görseller ve bilgiler birlikte değerlendirildiğinde ülkeler aşağıdaki enerji kaynaklarının hangilerinden tekrar yararlanamaz?

- A) Jeotermal ve kömür
- B) Nükleer ve doğal gaz
- C) Hidrolik ve fosil yakıtlar
- D) Güneş ve biyokütle

2. Grafiğe göre yenilenebilir enerjiye en fazla ve en az yatırım yapan ülkeler sırasıyla aşağıdakilerden hangisidir?

- A) İngiltere - Filipinler
- B) Japonya - Meksika
- C) Hindistan - Avustralya
- D) Pakistan - Kamerun

5.

## MOTİVASYONU ZİRVEDE TUTACAK 12 İPUCU

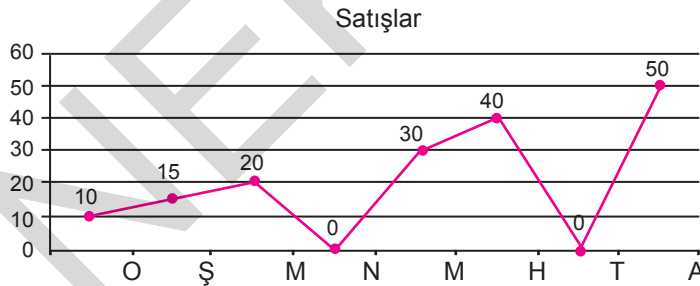
- ⚙ Her sabah uyanınca bir bardak su için.
- ⚙ Egzersiz yapın.
- ⚙ Bitireceğiniz en önemli 3 işi yazın.
- ⚙ Düzenli uyuyun.
- ⚙ 50 dakikada bir, 10 dakika mola verin.
- ⚙ Araştırın.
- ⚙ Eksiklerinizi değerlendirin.
- ⚙ Beyin fırtınası yapın.
- ⚙ Yaşamınızda memnun olduğunuz 10 şey bulun.
- ⚙ Masanızı düzenli tutun.
- ⚙ Sevdiğiniz aktivitelere zaman ayırın.
- ⚙ Okuyun.



Bu görsele göre aşağıdakilerin hangisi motivasyonu zirvede tutmak için yapılması gerekenlerden biri değildir?

- A) Şükredin                      B) Sorgulayın                      C) Bedeninizi sevin                      D) Dinlenin

6. Bir mağazanın yurt dışına yaptığı satışlara ait iniş çıkışlar aşağıdaki grafikte gösterilmiştir.



Buna göre;

- I. Nisan ve temmuz ayında hiç satış yapılmamıştır.
- II. En az satış ağustos ayında yapılmıştır.
- III. Mart ayındaki satış yüzde 20 seviyelerinde kalmıştır.
- IV. Bu grafiğe göre mağazanın kapatılması gerekir.

Yargılarından hangilerine kesinlikle ulaşılır?

- A) I ve II                      B) I ve III                      C) II ve III                      D) II ve IV

7.



Richard Feynman

## ÖĞRENMEYİ AŞAMALANDIRMA

**1. Adım:** Bir konu seç ve çalışmaya başla.

**2. Adım:** Konuyu bilmeyen bir kişiye bi çocuğun anlayabileceği şekilde ve dilde anlat.

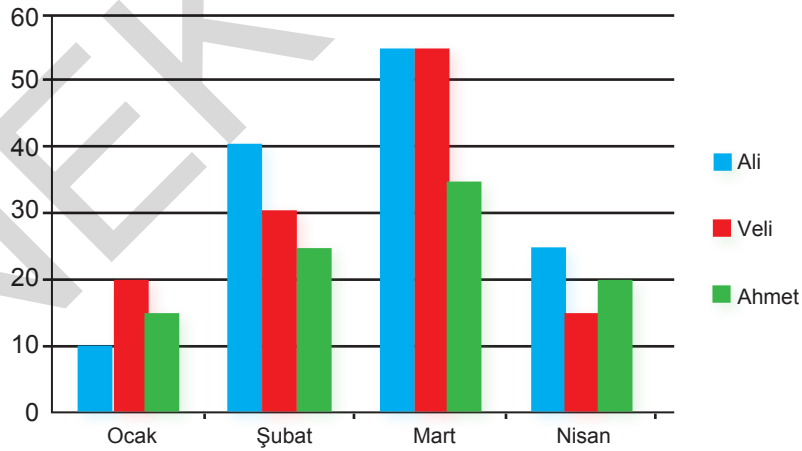
**3. Adım:** Daha iyi anlamak için dönüp yeniden çalış.

Richard Feynman'ın öğrenmeyi aşamalandırmasının amacı aşağıdakilerden hangisi olabilir?

- A) Adım adım ilerleyince öğrenmenin daha kolay gerçekleştiğini anlatmak
- B) Öğrenmenin gerçekleşmesi için bir bütün oluşturmak gerektiğini belirtmek
- C) Öğrenirken konuları herkese anlatmanın bilgiyi kalıcı kıldığını göstermek
- D) Öğrenirken tekrar etmenin önemini vurgulamak

8. Grafikte 5/A sınıfındaki üç öğrencinin aylara göre çözdükleri soru sayıları gösterilmiştir.

Soru Sayısı



Bu grafiğe göre aşağıdakilerden hangisi doğrudur?

- A) Her ay en fazla soruyu Ali çözmüştür.
- B) Her ay en az soruyu çözen Veli'dir.
- C) Ali ile Veli, mart ayında eşit sayıda soru çözmüştür.
- D) Ahmet nisan ayında şubattan daha çok soru çözmüştür.

3.

## UZUN YAŞAM SIRLARI



Güney Kore (90+yıl)



Gelişmiş sağlık hizmetleri



Fermante gıda tüketimi



Lifli gıda



Singapur (81,1 yıl)



Bol egzersiz



Zararlı alışkanlıklardan uzak durmak



Japonya (83 yıl)



Soya Fasulyesi



Balık



Tatlı patates



İspanya (82,2 yıl)



Akdeniz diyeti



Siesta



İsviçre (81 yıl)



Gelişmiş sağlık sistemleri

Bu görsele göre ülkelerin uzun yaşam sırları ile ilgili aşağıdakilerden hangisi doğrudur?

- A) İspanya, bol balık tüketen bir ülkedir.
- B) Japonya'da bol egzersiz yapılır.
- C) Güney Kore'de lifli gıdalar tüketilir.
- D) Singapur, soya fasulyesi ve balık tüketir.



6. Resmî tatil günleri hem kutlamalara ve anma günlerine katılmak hem de tatil fırsatlarını değerlendirmek için oldukça önemli. Dinî, millî bayramlarda ve yılbaşıda resmî tatil ilan edilir ancak tatil gün sayısı ülkeden ülkeye farklılık gösterir. 2017 yılında yapılmış bir araştırmanın sonucunda hangi ülkenin kaç gün resmî tatil yaptığı tespit edilmiş ve aşağıdaki grafikte gösterilmiştir.



Buna göre;

- En fazla tatil yapan ülke Türkiye'dir; en az tatil yapan ülke Hollanda'dır.
- En fazla tatil yapan ülke ile en az tatil yapan ülke arasında 14 gün fark vardır.
- Fransa ve İtalya, tatil gün sayıları eşit olan ülkelerdir.
- İspanya, Almanya'dan daha fazla tatil yapmaktadır.

yargılarından hangilerine ulaşılır?

- A) 1 ve 2                      B) 2 ve 3                      C) 2 ve 4                      D) 3 ve 4

1 ve 2. soruları görselden hareketle cevaplayınız.



### Cumhurbaşkanlığı Millet Kütüphanesi

Cumhurbaşkanlığı Millet Kütüphanesinin resmî açılışı 20 Şubat Perşembe günü gerçekleştirildi.

**7 gün 24 saat**  
Hizmet verecek.

**125.000 m<sup>2</sup>**  
Kapalı alan

**5 bin kişiye**  
Hizmet verebilecek.

Kütüphane Selçuklu, Osmanlı ve çağdaş mimariden esintiler taşıyor.

**Cihannüma Salonu**  
Tarihteki 16 Türk Devleti sembolize edilerek 16 sütundan oluşuyor.  
3 bin 500 metre kare alan  
224 kişilik oturma kapasitesi  
200 bin kitaptan oluşan koleksiyon  
Kubbesinde, Alak Suresi'nin "O, kalemle yazmayı öğretti." şeklindeki 4 ve 5. ayetleri yer alıyor.

**134 farklı dilde**  
**100 farklı ülkeden**  
**kitap**

**4 milyon**  
Basılı kaynak  
2 milyon kitap  
2 milyon süreli yayın

**120 milyon**  
Makale ve rapor

**550 bin e-kitap**  
Erişilebilen





1. Bu görsele göre Cumhurbaşkanlığı Millet Kütüphanesiyle ilgili aşağıdakilerden hangisi yanlıştır?


- A) Kütüphaneden günün 24 saati yararlanılabilir.
- B) Cihannüma salonunda 16 Türk devleti sembolize edilmiştir.
- C) Aynı anda 125 bin kişiye hizmet verecektir.
- D) Kütüphane, Osmanlı, Selçuklu ve çağdaş mimari örneklerinden oluşmuştur.

2. Bu bilgilere göre aşağıdaki yargılardan hangisine ulaşılabilir?

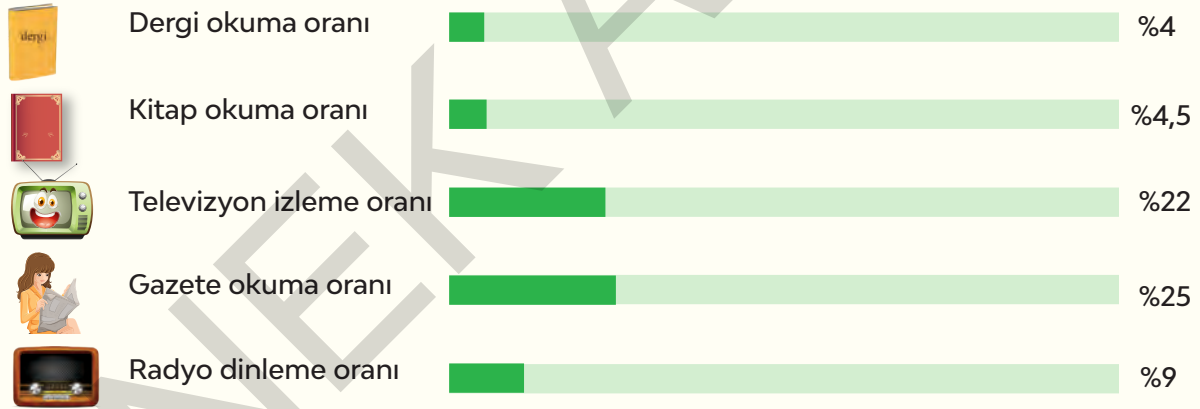
- A) Türkiye'de şu ana kadar inşa edilmiş ve halka açık en büyük kütüphanedir.
- B) Farklı dillerde farklı ülkelerden kitaplar bir araya toplanmıştır.
- C) E-kitap ve basılı kaynağa sahip tek kütüphanedir.
- D) Kütüphanede yer alacak kaynaklar yıllar önce belirlenmiştir.

4 ve 5. soruları görselden hareketle cevaplayınız.

### Okurların En Çok Tercih Ettiği Kitap Türleri



### Türkiye'de Okuma ve Medya Takip Oranları



4. Bu grafikteki verilere göre aşağıdakilerden hangisi doğrudur?

- A) Aşk kitapları, ikinci sırada tercih edilen kitap türüdür.
- B) En az tercih edilen kitap türü düşünce kitaplarıdır.
- C) Siyasetle ilgilenenlerin sayısı kişisel gelişimle ilgilenenlerden daha azdır.
- D) Dergi okuma oranı, kitap okuma oranından fazladır.

5. Sadece bu grafiğe bakan biri aşağıdaki bilgilerden hangisine ulaşamaz?

- A) Kitapların yazarlarının kim olduğunu
- B) Televizyon izleme oranını
- C) Aşk kitaplarının en fazla tercih edildiğini
- D) Kitap okuma oranının düşük olduğunu

1 ve 2. soruları görselden hareketle cevaplayınız.

**SAĞLIKLI BİR KALP İÇİN**

Daha az tuz, daha fazla meyve ve sebze tüket.

Alkol kullanımından uzak dur.

Yüksek tansiyon veya diyabetin varsa reçeteli ilaçlarını düzenli olarak al.

Tütün kullanma.

Düzenli egzersiz yap.

**Kalp rahatsızlığı ve felç riskini azaltabilirsiniz.**

**1. Görseldeki önerilere göre,**

1. Sebze ve meyve kalp sağlığı için gereklidir.
2. İsteddiğiniz zaman egzersiz yapmalısınız.
3. İlaç kullanılması gereken hastalığınız varsa ilaçlarınızı almalısınız.
4. Kullanılan tuz miktarının azaltılması gerekli değildir.
5. Bağımlılık yapan maddelerden kaçınmalısınız.

**yargılarından hangileri yanlıştır?**

- A) 1 ve 3                      B) 3 ve 4  
C) 2 ve 4                      D) 4 ve 5

**2. Bu görselde aşağıdaki sorulardan hangisinin cevabı yoktur?**

- A) Kalp sağlığı için neler yapılmalı?  
B) Felç riskini azaltmak için ne önerirsiniz?  
C) Düzenli bir hayat neden gerekli?  
D) Kalp sağlığı için beslenme alışkanlığı nasıl olmalı?

5.



5-A sınıfının öğretmeni, öğrencilere yukarıdaki görseli göstermiştir. Bu görselle ilgili bir yazı yazmalarını ve yazılarının ana düşüncesini kendisiyle paylaşmalarını istemiştir.

**Erkan:** Tropikal iklimin hayvanları dünyanın her yerinde görebilmek mümkün değildir.

**Nurhan:** İnsanlar sergilere ve müzelere yeterince ilgi göstermemektedir.

**Eralp:** Doğaya gereken özeni göstermezsek birçok canlı türünün nesli tükenecek.

**Burcu:** Doğanın canlı renkleri insanoğluna her zaman ilham vermiştir.

**Buna göre öğrencilerden hangisi görseli doğru yorumlamıştır?**

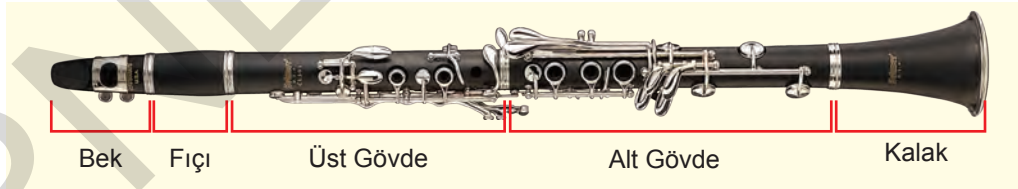
A) Erkan

B) Nurhan

C) Eralp

D) Burcu

6.



Yukarıda, klarnetin bölümlerini gösteren bir görsel verilmiştir.

**Buna göre, bu görselden aşağıdakilerin hangisi çıkarılamaz?**

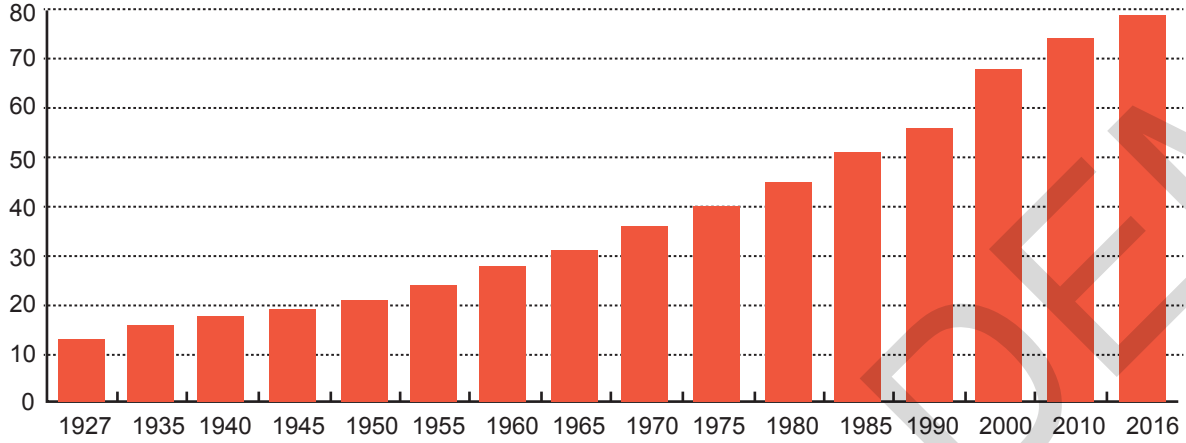
A) Klarnetin iki ucunda bek ve kalak adlı parçalar bulunur.

B) Kalak bölümünde herhangi bir tuş bulunmamaktadır.

C) Klarnetin en uzun parçası alt gövdedir.

D) Fiçı, beki alt gövdeye bağlayan parçadır.

7. Nüfus (milyon) Türkiye'de 1927-2016 Nüfus Miktarı

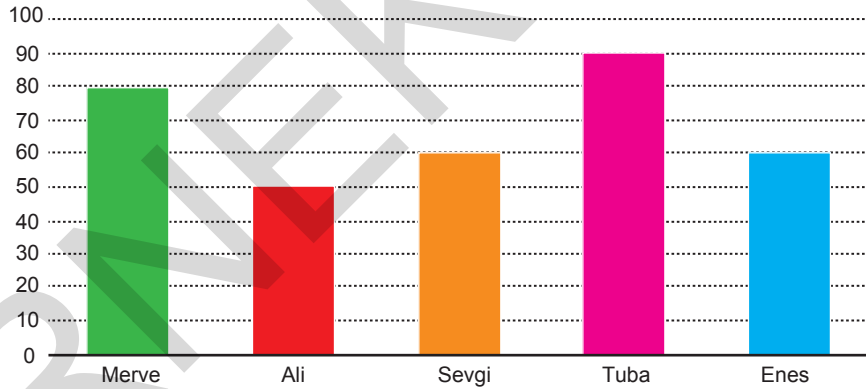


Yukarıdaki grafikte 1927-2016 yılları arasında Türkiye'de nüfus artışının yıllara göre değişimi gösterilmiştir.

Buna göre aşağıdakilerden hangisine kesinlikle ulaşılır?

- A) 1927'den sonra nüfus her yıl artmıştır.
- B) En çok nüfus artışı İstanbul'da olmuştur.
- C) 2016'dan sonra nüfus artmamıştır.
- D) Türkiye nüfusu hâlâ artmaktadır.

8. Okuduğu Kitap Sayısı



Yukarıdaki grafikte "Merve, Ali, Sevgi, Tuba ve Enes'in beş yılda okuduğu kitap sayıları gösterilmiştir.

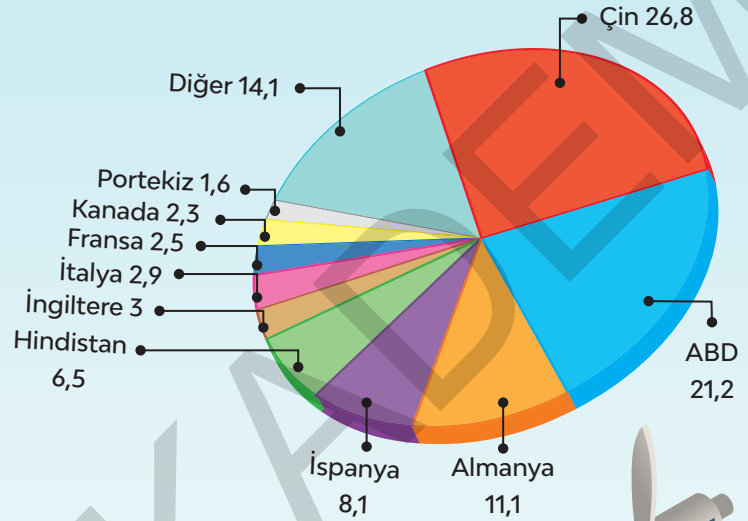
Buna göre aşağıdakilerden hangisine ulaşamaz?

- A) En fazla kitabı Tuba okumuştur.
- B) Ali, Enes'ten daha az kitap okumuştur.
- C) Sevgi ve Enes aynı kitapları okumuştur.
- D) Merve Tuba'dan az, Ali'den fazla okumuştur.

1 ve 2. soruları görselden hareketle cevaplayınız.

### Rüzgâr Enerjisinde Ülke Payları

- 1 Eski çağlardan bu yana insanlar rüzgârın gücünden çeşitli şekillerde faydalanmışlardır. 20. yüzyılın başlarında ilk rüzgâr türbinleri kurulmaya başlanmış ve bununla birlikte rüzgâr gücünden elektrik üretimi giderek artmıştır.



### 2012-2021 Yılları Arasında Dünya Rüzgâr Enerjisi Üretimi

- 2 Bugün dünyadaki hemen hemen her ülke rüzgâr enerjisinden çeşitli şekillerde faydalanmaktadır. Özellikle günümüzde gelişmiş ülkelerde rüzgâr türbinlerinden megavatlar düzeyinde elektrik üretilmektedir.

Yıl	Kapasite (Megawatt)
2012	236700
2013	254041
2014	282266
2015	296295
2016	318418
2017	336327
2018	360000
2020	402518
2021	455362

1. Birinci grafikte 2012 yıl sonu itibarıyla rüzgâr enerjisi kapasitesi en fazla olan ilk iki ülke aşağıdakilerden hangisinde doğru verilmiştir?

- A) Çin - Portekiz  
B) Çin - ABD  
C) ABD - Fransa  
D) İtalya - Hindistan

2. 2002 - 2012 yılları arasındaki dünya geneli rüzgâr enerjisi verileri için aşağıdakilerden hangisi söylenebilir?

- A) Rüzgâr enerjisinden elektrik üretimi her yıl artarak devam etmiştir  
B) Bazı ülkeler rüzgâr enerjisinden yararlanmakta geç kalmıştır.  
C) Rüzgâr enerjisinden yararlanan ülkeler elektriği daha ucuz kullanmışlardır.  
D) Rüzgâr enerjisinden her ülke eşit şekilde yararlanmaya başlamıştır.

3. Özgür, Türkçe öğretmenin verdiği "esaret" konulu kompozisyonu yazdıktan sonra ödevini bir görselle desteklemek istemektedir.

Buna göre Özgür aşağıdaki görsellerden hangisini kullanamaz?

A)




B)



C)



D)



4.



Bu görselin hazırlanma amacı aşağıdakilerden hangisi olabilir?

- A) Çocukların oyun alanlarında güvende olmalarını sağlamak
- B) Tadilat yapılan yollarda kazaları önlemek
- C) İnşaat alanındaki insanları tehlikelere karşı uyararak
- D) Engelli bireyler için kullanım alanlarını göstermek



1.



**Rusya'nın çayı:** Rusya'da ve Ukrayna'da çay içmek istediğinizde çok tanıdık bir çayla karşılaşabilirsiniz. Semaverde demlenen siyah çay, kupalarda servis edilir. Rusya'da çay içmenin en enteresan noktasıysa çayın şeker yerine frambuaz ya da çilek reçeliyle karıştırılmasıdır.



**İngiltere'nin sütlü çayı:** Garipsediğimiz ancak adabına dair dahi bilgi sahibi olduğumuz İngiltere'nin sütlü çayı, süt ve siyah çaydan oluşur. Çayın rengi kırmızıdan karamel rengine döner. İngiltere'de çay içmek istediğinizde yanında mutlaka kurabiye gillerden tatlı vardır.



**Arnavutluk'un çayı:** Arnavutluk'ta çay tıpkı Türkiye'de olduğu gibidir. Çaydanlıkta demlenen çaylar ince belli bardaklarda servis edilir. Gürcistan'da da yine siyah çay kullanılır ve çay bardaklarında sıcak sıcak sahiplerine ulaşır.

**Bu görselden ve verilen bilgilerden hareketle aşağıdaki yargılardan hangisine ulaşamaz?**

- A) Yeme içme alışkanlıkları kültürlere göre farklılık gösterir.
- B) Çay, birden çok ülkede içilen bir içecektir.
- C) Türkiye, dünyada en fazla çay tüketen ülkedir.
- D) Bazı ülkelerde çay içme davranışı Türkiye'ye benzer.

3.

## UÇAK BİLETİNİN EN UCUZ OLDUĞU ÜLKELER

Araştırmada dünyanın en çok ziyaret edilen 80 ülkesinin kısa mesafeli ve uzun mesafeli uçuşları hesaba katılmıştır, 100 km yolculuk başına ortalama bir bilet maliyeti hesaplanmıştır.

	1. Malezya	4,18 \$
	2. Bulgaristan	4,65 \$
	3. Hindistan	4,96 \$
	4. Türkiye	6,28 \$
	5. Romanya	6,46 \$
	6. Endonezya	6,49 \$
	7. Portekiz	6,50 \$
	8. Tayland	6,74 \$
	9. İsveç	6,96 \$
	10. İspanya	7,08 \$
	11. Güney Afrika	7,25 \$

Bu görselden aşağıdakilerin hangisine ulaşamaz?

- A) Türkiye'deki uçak bileti fiyatları, üç ülkeye göre fazladır.
- B) Tayland'da diğer üç ülkeye göre uçak bileti fiyatları ucuzdur.
- C) Güney Afrika'da uçak biletleri diğer Afrika ülkelerine göre daha pahalıdır.
- D) İsveç, ucuz uçak bileti sıralamasında dokuzuncudur.

1.



"Su" konulu bir proje ödevi hazırlamak isteyen Gediz, yukarıdaki afişi ödevinde kullanmıştır.

**Bu çalışmaya göre Gediz aşağıdakilerin hangisini vurgulamaya çalışmıştır?**

- A) Hayatın devam edebilmesi için suya ihtiyaç duyulduğunu
- B) Su içmenin insan sağlığına doğrudan olumlu etkisi olduğunu
- C) Suyu tasarruflu kullanmak gerektiğini ve insanlar için çok önemli olduğunu
- D) Suyun en önemli temizleme aracı olduğunu