



MEB
Örnek Sorularına
Benzer

SOSYAL BİLGİLER

BİREY VE TOPLUM

ÜDS

1

Adı ve Soyadı :

Sınıfı / Şubesi:

Öğrenci Numarası :

Optik
Cevap
Anahtarı



DENEME

1.



Otobüste yolcu



Okulda Öğretmen



Evde hem eş hem de baba

Kadir Bey, sabah işyerine gitmek için bindiği otobüste yolcu, gün boyu okulda öğretmen rolündedir. Akşam eve geldiğinde hem eş, hem de çocukları için baba rolünü üstlenmektedir.

Buna göre rollerle ilgili;

- I. Rollerimizin bir kısmına doğuştan sahip oluruz.
- II. Bireyler gün içinde girdiği farklı gruplarda farklı roller üstlenebilirler.
- III. Yaşımız ilerledikçe üstleneceğimiz roller de farklılaşır.
- IV. Bireylerin aynı anda birden fazla rol alması mümkün değildir.

Çıkarımlarından hangisine ulaşılabilir?


- A) I B) II C) III D) IV

2. Birey olarak dünyaya geldiğimiz andan itibaren çeşitli sosyal roller üstleriniz. Rollerimizin bir kısmı doğuştan sahip olduğumuz rollerdir. Bu roller biyolojik özelliklerimizden kaynaklanan, herhangi bir ilgi ve yetenek gerektirmeyen rollerimizdir. Bunları seçme imkanımız yoktur. Bazı rollerimize de kendi isteğimizle, çalışarak, başarı göstererek sonradan sahip oluruz. Bunlar özgür irademizle katıldığımız grupların bize yüklediği rollerdir.

Buna göre aşağıdakilerden hangisi doğuştan sahip olduğumuz roller arasında yer almaktadır?



Evlat



Doktor

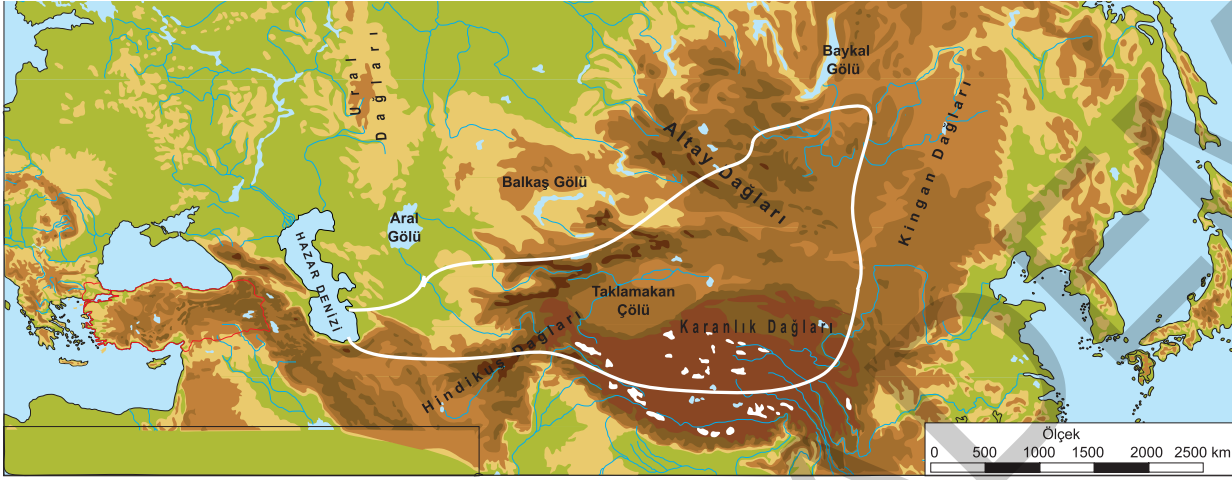


Polis



Mühendis

1.



Türklerin bilinen ilk anayurdu Orta Asya'dır. Yukarıda Orta Asya fizikî haritası verilmiştir.

Verilen haritaya bakılarak Orta Asya ile ilgili;

- I. Dağların geniş yer kapladığı,
- II. Bölgede konargöçer yaşam tarzının hakim olduğu,
- III. Dokumacılık, madencilik, hayvancılık gibi ekonomik faaliyetlerin yaygın olduğu,
- IV. Çin ile sınır komşusu olduğu,

çıkarımlarından hangilerine ulaşılabilir?

- A) I ve II B) III ve IV C) I ve IV D) II ve III

2. Yanda kurultay görseli yer almaktadır. Kurultay (kengeş, toy) ilk Türk devletlerinde devlet işlerinin görüşülüp karara bağlandığı meclistir. Hakan'ın eşi Hatun, kurultayda Hakan'ın yanında oturur, Hakan olmadığı zaman kurultaya başkanlık ederdi.

Sadece verilen görsele ve açıklamaya bakılarak ilk Türk devletlerinde devlet yönetimi ile ilgili aşağıdakilerden hangisi söylenebilir?

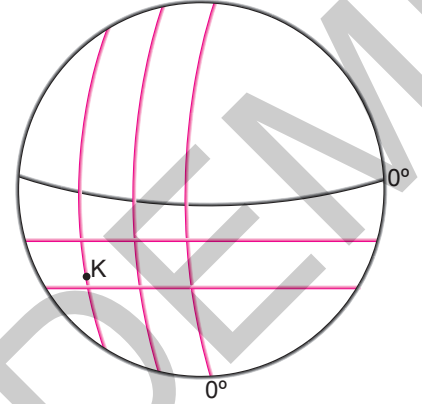
- A) Ülke, töre adı verilen yazılı olmayan hukuk kurallarına göre yönetilirdi.
- B) Hakan'ın eşi olan Hatun, devlet yönetiminde söz sahibidir.
- C) Hakan'a devleti yönetme yetkisinin Tanrı tarafından verildiğine inanılırdı.
- D) Son sözün Hakan'a ait olduğu kurultay, bir danışma meclisiydi.



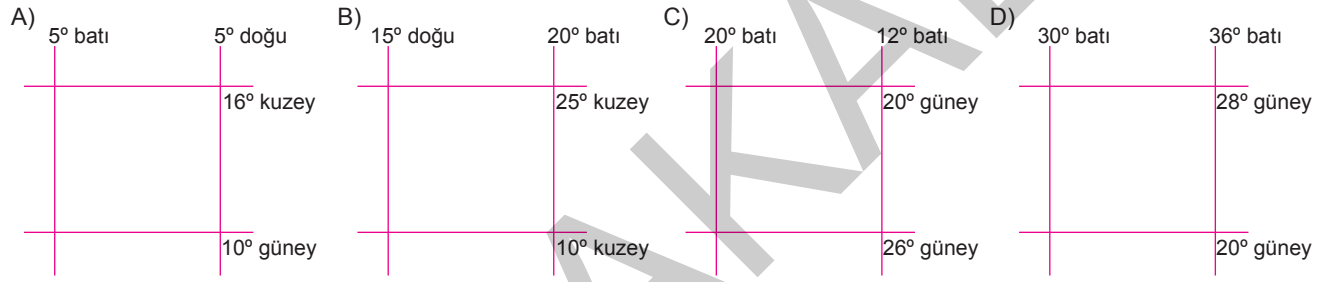
1.

K noktası, güney yarımkürede, başlangıç meridyeninin batısında yer alır. En kuzeyi ile en güneyi arasındaki uzaklık 666 km doğusu ile en batısı arasındaki zaman farkı 32 dakikadır.

(İki paralel arasındaki mesafe 111 km; iki meridyen arasındaki zaman farkı 4 dakikadır.)



Bu göre K noktasının mutlak konumunun aşağıdakilerden hangisi olduğu söylenebilir?



2.



Meridyenler arasındaki uzaklık sadece ekvatorunda 111 km'dir. Bu uzaklık ekvatorundan kutuplara doğru gidildikçe azalır.

Buna göre, haritada belirtilen şehirlerden hangisinde iki meridyen arasındaki mesafe diğerlerine göre daha kısadır?

- A) Konya B) Adana C) Sivas D) Samsun

1. Arkeoloji kazı bilimidir. Eski kültür ve uygarlıklardan geriye kalan her türlü alet, malzeme, ev eşyaları ve sanat eserleri gibi maddi kalıntıları inceler. Kazı yöntemlerini kullanarak ortaya çıkardığı eserleri kültürel, sanatsal ve tarihsel yönden inceleyerek geçmişini aydınlatır.

Buna göre aşağıdakilerden hangisinin arkeoloji biliminin buluntuları arasında olduğu söylenemez?

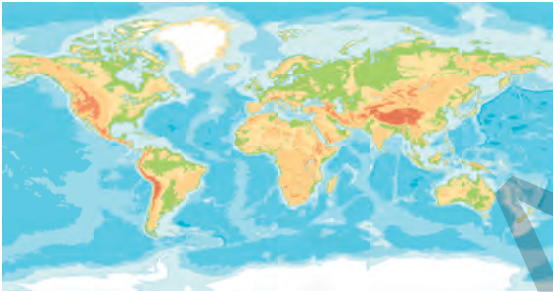
A)



B)



C)



D)



2. Bandrol, fikir ve sanat eserlerinin izinsiz çoğaltılmasının ve taklit edilmesinin önlenmesi amacıyla, fikir ve sanat eserlerinin çoğaltılmış nüshaları ve süreli olmayan yayınlar üzerine yapıştırılan güvenlik etiketidir. Kitap, CD gibi ürünlerin üzerinde devletçe belirli bir verginin kesildiğini gösteren ve telif haklarının korunmasını sağlayan bandroller, tahrip edildiğinde eski haline dönmeyen, özel olarak yapılan etiketlerdir. Korsan ürünlerde bandrol bulunmamaktadır.

Buna göre bandrol uygulamasının;

- I. Eser sahibinin haklarının korunması,
- II. Devletin vergi kaybının önlenmesi,
- III. Korsan ürünlerle mücadele edilmesi

gibi durumlardan hangilerinin gerçekleşmesinde etkili olduğu söylenebilir?

A) Yalnız I

B) II ve III

C) I ve III

D) I, II ve III



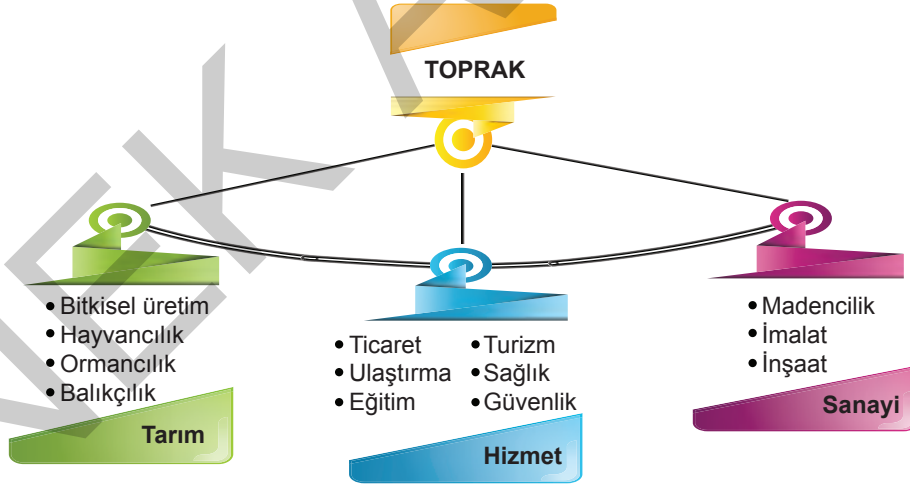
1. Toprağa dayalı ekonomik faaliyetlerden biri de hayvancılıktır. Ülkemizde hayvancılık büyükbaş, küçükbaş ve kümes hayvancılığı olarak sınıflandırılır. Bununla birlikte arıcılık ve ipek böcekçiliği de hayvancılık faaliyetleri arasında yer alır. Ülkemizde karasal iklimin görüldüğü orta ve güneydoğu kesimlerinde koyun yetiştirilirken; mezarların fazla yer kapladığı doğu ve kuzeydoğu kesimlerinde büyükbaş hayvancılık yapılır. Nüfusun kalabalık olduğu batı ve kuzeybatı kesimlerinde ise kümes hayvancılığı yaygındır. Ayrıca bitki çeşitliliğinin fazla olduğu yerlerde arıcılık, dut ağacının fazla olduğu yerlerde ise ipek böcekçiliği yapılır.



Verilen açıklamada ülkemizdeki hayvancılık faaliyetlerinin dağılımında etkili olan faktörlerden hangisine değinilmemiştir?

- A) Halkın ihtiyaçları B) İklim özellikleri
C) Bitki örtüsü D) Yeryüzü şekilleri

2.



Yukarıdaki tabloda üç ana ekonomik sektör, bu sektörlerin faaliyet alanları ve kaynak olarak toprak ile ilişkileri gösterilmiştir.

Buna göre tabloyu en iyi ifade eden açıklama aşağıdakilerden hangisidir?

- A) Toprak ve topraktan elde edilen ürünler bu üç ana sektörde de kullanılmaktadır.
B) Toprak, tarım ve hayvancılık faaliyetlerinin yapıldığı ana kaynaktır.
C) Ülkemiz yeraltı ve yerüstü kaynakları bakımından zengin bir ülkedir.
D) Toprak; seramik, cam, kiremit, çimento üretiminde kullanılan doğal kaynaktır.

1.

1 Katılımcılık

2 İnsan Haklarına Saygı

3 Çoğulculuk

4 Özgürlük

- a. Kişinin başkalarına zarar vermeden, yasal sınırlar içinde dilediğini düşünebilmesi ve yapabilmesi
 b. Temel hak ve özgürlüklerin anayasa ile güvence altına alınması
 c. Halkın ülke yönetimine katılarak, yönetimin aldığı kararlarda etkili olması
 d. Farklı görüşlerin farklı siyasi partilerle temsil edilmesi

Yukarıda verilen demokrasinin temel ilkeleri ile yapılan açıklamalar, aşağıdakilerden hangisinde doğru olarak eşleştirilmiştir?

	1	2	3	4
A)	b	d	a	c
B)	d	a	c	b
C)	c	b	d	a
D)	a	c	b	d

2. Ülkemiz yetkileri anayasada belirtilen yasama,yürütme ve yargı güçleri ile yönetilir.

Güçler		Görevi		Yetkili Organlar
Yasama	→	Yasa çıkarma	→	TBMM
Yürütme	→	Kanunları uygulama	→	Cumhurbaşkanı
Yargı	→	Vatandaşların birbirleriyle ve devletle olan ilişkilerindeki uyuşmazlıkları çözme	→	Bağımsız Mahkemeler

Verilen tabloya göre;

- I. Yasama, yürütme ve yargı güçleri ayrı ayrı temsil edilmektedir.
 II. Yasama, yürütme ve yargı güçleri, devletin farklı organları arasında dağılmıştır.
 III. Ülkemizde kuvvetler birliği ilkesi uygulanmaktadır.

yargılarından hangilerine ulaşılabilir?

- A) I ve II B) Yalnız III C) II ve III D) I, II ve III

1.



“Türkiye Cumhuriyeti'nin en esaslı ilkelerinden biri olan “Yurtta barış, dünyada barış” gayesi, insaniyetin ve medeniyetin refah ve ilerlemesinde en esaslı etken olsa gerektir. Buna elimizden geldiği kadar hizmet etmiş ve etmekte bulunmuş olmak,bizim için övünülecek bir harekettir.”

“Biz milletler arası ilişkilerde karşılıklı güven ve saygıyı hedef tutan açık ve samimi politikanın en ateşli taraftarıyız.”

“Türkiye'nin devlet siyaseti, milli sınırları içinde egemenliğe dayanarak bağımsız yaşamaktır. Hareket kuralımız budur.”

“Bizim kanaatimizce uluslararası siyasi güvenliğin gelişmesi için ilk ve en önemli şartı, milletlerin hiç olmazsa barışı koruma fikrinde, samimi olarak birleşmesidir.”

Atatürk'ün yukarıdaki sözlerinin;

- I. Tam bağımsızlık
- II. Mütekabiliyet
- III. Yurtta barış dünyada barış

gibi milli dış politika ilkelerimizden hangileri ile ilgili olduğu söylenebilir?

- A) Yalnız II B) I ve II C) II ve III D) I, II ve III

2. İnsanlar arasında olduğu gibi ülkeler arasında da ekonomik ilişkiler vardır. Ülkemiz sahip olduğu yeraltı ve yerüstü kaynaklarıyla kendi ihtiyaçlarını karşılamının yanında ihtiyaç fazlası ürünleri diğer ülkelere ihraç ederek gelir elde etmektedir. Bununla birlikte tüm ihtiyaçlarını kendi kaynaklarıyla karşılaması mümkün değildir. Ülkeler bazı ihtiyaçlarını diğer ülkelerden ithal ederek karşılar. Ülkeler arasındaki bu alışverişten dış ticaret doğar.

Açıklamaya göre ülkeler arasındaki ekonomik ilişkilerde;

- I. Teknolojik gelişmeler
- II. Kaynaklar ve ihtiyaçlar
- III. Ulaşım olanakları

gibi faktörlerden hangisi ya da hangilerinin etkili olduğu söylenebilir?

- A) Yalnız II B) I ve III C) II ve III D) I, II ve III

GENEL DENEME

1.



Düğün



Asker Uğurlama



Çini Sanatı

- ⇒ Bir toplumun nesilden nesile aktardığı tecrübeler, alışkanlıklar ve davranışlardır.
- ⇒ Yemekler, kıyafetler, el sanatları, düğünler, eğlenceler vb'den oluşur.
- ⇒ Hasta ziyareti, asker uğurlama, bayram ziyaretleri, kız isteme gibi uygulamalar, insanları bir araya getirir. Toplumun ortak duygularda buluşmasını sağlar. Birlik ve beraberliğin sağlanmasında oldukça etkilidir.

Verilen görseller ve açıklamanın kültürümüzü oluşturan öğelerden hangisi ile daha ilgili olduğu söylenebilir?

- A) Tarih B) Din C) Gelenek ve görenekler D) Dil

2. Eski Türklerde ölen kişi, kurgan denilen mezarlara değerli eşyalarıyla birlikte gömülürdü. 1970 yılında Kazakistan'da keşfedilen Issık Kurganı'nda bir çoğu altın olan eşyalar bulunmuştur. Bunlar arasındaki en göz alıcı eşya çizmesinden başlığına kemerinden kılıcına kadar her şeyi saf altından olan bir elbisedir. Başlığı ok ve tuğlarla süslü, alın hizasında koç, geyik ve at kabartmaları vardır. Ceket yüzlerce üçgen altının birleştirilmesinden meydana gelmiştir. Tarihçiler bu elbisenin bir tigin (hakanın oğlu) ait olduğunu söylemekte, fakat tiginin kim olduğu henüz bilinmemektedir. (Genel Ağ haberinden düzenlenmiştir)

Açıklamadan yola çıkarak Issık Kurganı hakkında;

- I. Kurganın hangi döneme ait olduğu henüz tespit edilememiştir.
- II. Ait olduğu dönemin sanat anlayışı hakkında bilgi vermektedir.
- III. Kurganda konargöçer yaşama dair eserler bulunmuştur.

yargılarından hangilerine ulaşılabilir?

- A) Yalnız III B) I ve II
C) II ve III D) I, II ve III



GENEL DENEME

1.

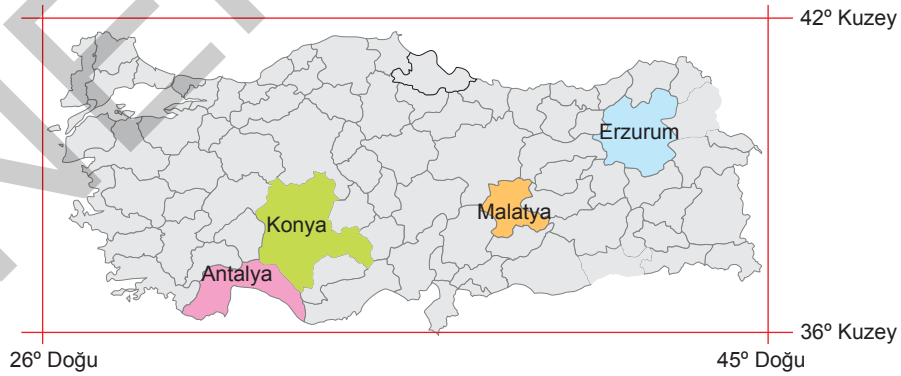


Yeryüzündeki büyük kara parçalarına kıta; kıtalar arasındaki derin çukurlukları dolduran büyük su kütlelerine de okyanus denir.

Buna göre haritadan yararlanarak kıtalar ve okyanuslarla ilgili aşağıdakilerden hangisi söylenebilir?

- A) Afrika kıtasının büyük bölümü çöllerle kaplıdır.
- B) Yüzölçümü en büyük kıta Asya, en küçük kıta ise Okyanusya'dır.
- C) Nüfusu en fazla olan kıta Afrika kıtasıdır.
- D) Yeryüzünde kıtalar, okyanuslardan daha fazla yer kaplamaktadır.

2.



Ülkemizin güneyi, mutlak konumuna bağlı olarak ekvatora daha yakındır. Bu nedenle güney kıyılarımız kuzey kıyılarıımıza göre daha sıcaktır. Ekvatordan kutuplara doğru gidildikçe sıcaklık azalır.

Buna göre haritada belirtilen şehirlerden hangisinin diğerlerine göre daha sıcak olduğu söylenebilir?

- A) Konya
- B) Erzurum
- C) Malatya
- D) Antalya



MEB
Örnek Sorularına
Benzer

SOSYAL BİLGİLER

GENEL DENEME SINAVI

GDS
3

Adı ve Soyadı :

Sınıfı / Şubesi:

Öğrenci Numarası :

**Optik
Cevap
Anahtarı**



GENEL DENEME

1.

Tarımsal faaliyetler günümüzden binlerce yıl önce yapılmaya başlanmıştır. Sanayinin gelişmesi ve nüfusun artması, tarım ürünlerine duyulan ihtiyacın artmasına neden olmuştur. Bu nedenle tarımda kullanılan yöntemler gelişmiş ve tarımsal üretim sürekli olarak artmıştır. Ülkemizde nüfusun önemli bir kısmı tarım sektöründe çalışmaktadır. İhraç ürünlerimizin önemli bir bölümünü tarım ürünleri oluşturur. Sanayi kuruluşlarının bir çoğunun hammaddesi tarım ürünleridir.



Buna göre ülkemizdeki tarımsal faaliyetlerle ilgili;

- I. Ülke ekonomisinde önemli bir yere sahiptir.
- II. Ülkemizde tarıma destek veren kuruluşlar bulunmaktadır.
- III. Ülkemizde tarım ürünleri çeşitliliği oldukça fazladır.
- IV. Topraklarımızın yaklaşık üçte birinde tarım yapılmaktadır.

yargılarından hangisine ulaşılabilir?

- A) I B) II C) III D) IV

2.

Büyükbaş hayvancılık, gür otlakların bulunduğu yerlerde mera hayvancılığı şeklinde yaygın olarak yapılır. Özellikle otlak ve çayırların geniş yer kapladığı Doğu Karadeniz kıyıları ve Doğu Anadolu'da büyükbaş hayvancılık gelişmiştir.



Bitki çeşitliliğinin fazla olduğu yerlerde arıcılık, dut ağacının fazla olduğu yerlerde ise ipek böcekçiliği yapılır.



Küçükbaş hayvancılık, bozkır bitki örtüsünün yaygın olduğu yerlerde yapılmaktadır. Ülkemizde küçükbaş hayvancılık en çok İç Anadolu Bölgesi'nde yapılmaktadır.

Verilen bilgilerde hayvancılık faaliyetlerinin dağılımında etkili olan faktörlerden hangisine değinilmiştir?

- A) İklim özellikleri B) Halkın ihtiyaçları C) Bitki örtüsü D) Yeryüzü şekilleri