



SOSYAL BİLGİLER

HDS

Haftalık Değerlendirme sınavı

Adı ve Soyadı :

Sınıfı :

Okul Numarası :

1. Sınav

1. ÜNİTE : BİREY VE TOPLUM
KONU : Etkin Bir Vatandaşım

Kazanım 5.1.1. : Sosyal bilgiler dersinin, Türkiye Cumhuriyeti'nin etkin bir vatandaşı olarak kendi gelişimine katkısını fark eder.

1. "Sosyal Bilgiler Dersinden Öğrendiklerimi Hayatıma Uyguluyorum!" konulu bir araştırma ödevi alan Vedat, aşağıdaki görseli hazırlamıştır.



Vergimi öderim.



Kanunlara uyarım.

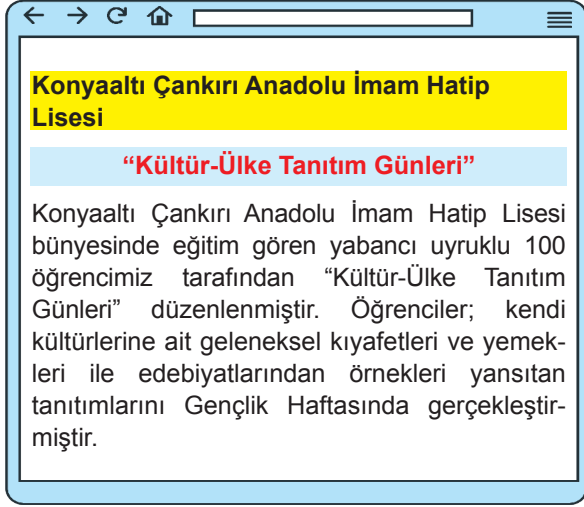


Yaşadığım coğrafyayı tanırım.

Görsele bakılarak sosyal bilgiler dersinin Vedat'a kazandırdıkları ile ilgili aşağıdakilerden hangisi söylenemez?

- A) Vatandaşlık bilincinin gelişmesine katkı sağlamıştır.
- B) Millî değerlerin farkında olmasına yardımcı olmuştur.
- C) Günlük yaşamını kolaylaştıracak bilgiler edindirmiştir.
- D) Devlete karşı sorumluluklarını yerine getirmeyi öğretmiştir.

9. Aşağıda Antalya Valiliğinin desteğiyle, İl Millî Eğitim Müdürlüğü koordinasyonunda yürütülen AHENK Projesi kapsamında ilçelerde düzenlenen etkinliklerle ilgili bir genel ağ haberine yer verilmiştir.



AHENK Projesi kapsamında düzenlenen bu etkinliğin sosyal bilgiler dersinin aşağıdaki faydalarından hangisine katkı sağladığı söylenebilir?

- A) Millet olma bilincimizi geliştirme
B) Sorun çözme becerimizi geliştirme
C) Hak ve sorumluluklarımızı öğretme
D) Dünyamızı daha iyi tanımamızı sağlama

10. Merhaba ben Ülkü. Bugün sosyal bilgiler dersinde ülkemizin sahip olduğu yüzey şekillerini öğrendik. Ayrıca öğretmenimiz dersin sonuna doğru Türklerin Anadolu'ya sonradan gelerek yerleştiğini, bilinen ilk anayurdumuzun Orta Asya olduğunu söyledi.

Anlattıklarına göre sosyal bilgiler dersinin Ülkü'ye sağladığı katkılar ile ilgili,

- I. Doğal çevre hakkında bilgilendirmiştir.
II. Tarihi geçmişini tanımaya katkı sağlamıştır.
III. Doğal kaynakları kullanma konusunda bilinçlendirmiştir.

çıkartımlarından hangilerine ulaşılabilir?

- A) I ve II
B) I ve III
C) II ve III
D) I, II ve III

Cevaplarınızı optiğe işaretleyiniz.

Ad Soyad :

1	A	B	C	D
2	A	B	C	D
3	A	B	C	D
4	A	B	C	D
5	A	B	C	D
6	A	B	C	D
7	A	B	C	D
8	A	B	C	D
9	A	B	C	D
10	A	B	C	D

Optik No :
745

FERNUS

MOD PRO

Test bitti. Cevaplarınızı kontrol ediniz.

2.

TÜRKİYE'DE COVID19 SALGINI ÖNLEMLERİ

11 Martta ilk coronavirüs vakasının tespit edilmesinin ardından Türkiye hızla önlemleri hayata geçirdi.

Adalet Bakanlığı:

- Duruşmalar ertelendi.
- Cezaevi görüşleri ertelendi.

(16.03.2020)

İçişleri Bakanlığı:

- Eğlence mekanlarının faaliyetleri geçici olarak durduruldu.
- Tiyatro, sinema, lokanta, kahvehane, kafe, nişan ve düğün salonları ile spor merkezlerinin faaliyetleri durduruldu.

(16.03.2020)

Dışişleri Bakanlığı:

- Dışişleri Bakanlığı izinleri iptal ederek yurtdışı misyonlarında 24 saat çalışma esasına geçti.

(15.03.2020)

Millî Eğitim Bakanlığı:

- Okullarda eğitime ara verildi.

(12.03.2020)

Kültür ve Turizm Bakanlığı:

- Tüm kütüphaneler kapatıldı.

(15.03.2020)

Gençlik ve Spor Bakanlığı:

- Yurt dışından gelen vatandaşlar, 14 gün gözlem altında tutulacakları öğrenci yurtlarına yerleştirildi.

(15.03.2020)

Yükseköğretim Kurulu:

- Üniversiteler tatil edildi.

(12.03.2020)

Diyanet İşleri Başkanlığı:

- Cemaatle namaza ara verildi.
- Cuma namazları ertelendi.

(16.03.2020)

Görsele bakılarak Covid19 salgını ile ilgili aşağıdakilerden hangisi söylenemez?

- A) Can kayıplarına neden olmuştur. B) Çok boyutlu bir olay haline gelmiştir.
- C) Birden fazla sonuç ortaya çıkarmıştır. D) İnsanların sosyal yaşamını olumsuz etkilemiştir.

3.

26 Haziran 2022'de Bartın'da etkili olan sel felaketi sonrası birçok ev, işyeri ve otomobil sular altında kaldı. Selin etkisiyle yaşanan heyelanda yaralanan vatandaşlar tedavi altına alınırken yıkılma tehlikesi ile karşı karşıya kalan evler tahliye edildi. Çok sayıda büyükbaş hayvanın telef olduğu tespit edilen olayda yolların ve köprülerin zarar görmesi ulaşımı olumsuz etkiledi.

Buna göre yaşanan sel felaketi ile ilgili aşağıdaki yargılardan hangisine ulaşılamaz?

- A) Çok boyutlu bir olaydır.
- B) Birden fazla sonuç doğurmuştur.
- C) Can ve mal kayıplara neden olmuştur.
- D) Yaşanmasında insanların nedeni olduğu ihlaller etkili olmuştur.

4. Bir ilimizde tarım alanlarının zarar görmesi hem o ilde yaşayan kişileri hem de o ilden gelecek ürünleri bekleyen tüketiciyi etkilediği gibi fabrikasında kullanmak üzere ham madde bekleyen sanayici ile dağıtım yapacak taşımacılık firmasında çalışan insanları da etkiler.

Metinden çıkarılabilecek en kapsamlı yargı aşağıdakilerden hangisidir?

- A) Meydana gelen olayın çok boyutlu olduğu
- B) Olumsuz hava koşullarının en çok tarım sektörünü etkilediği
- C) Tarım alanlarının zarar görmesinin birden fazla nedeninin olduğu
- D) Tarım alanlarının zarar görmesinin tüketiciyi olumsuz etkilediği



SOSYAL BİLGİLER

HDS

Haftalık Değerlendirme sınavı

Adı ve Soyadı :

Sınıfı :

Okul Numarası :

4. Sınav

1. ÜNİTE : BİREY VE TOPLUM

KONU : Haklarımla Varım

Kazanım 5.1.4. : Çocuk haklarından yararlanmaya ve bu hakların ihlallerine örnekler verir.

1. Çocuk Hakları ile ilgili çalışma yapan Almina bu çalışmasında aşağıdaki fotoğrafları kullanmıştır.



Kullandığı fotoğraflara bakılarak Almina'nın bu çalışmasıyla Çocuk Haklarına Dair Sözleşme'nin aşağıdaki maddelerinden hangisi üzerinde durduğu söylenemez?

- A) Taraf devletler, çocuğun eğitim hakkını kabul ederler ve bu hakkın fırsat eşitliği temeli üzerinde gerçekleştirilmesi için çalışırlar (Madde 28).
- B) Taraf devletler, çocuğun dinlenme, boş zaman değerlendirme oynama ve yaşına uygun eğlence (etkinliklerde) bulunma, kültürel ve sanatsal yaşama serbestçe katılma hakkı tanırırlar (Madde 31).
- C) Taraf devletler, çocuğun olabilecek en iyi sağlık düzeyine kavuşma, tıbbi bakım ve rehabilitasyon hizmetlerini veren kuruluşlardan yararlanma hakkını tanırırlar. Taraf devletler, hiçbir çocuğun bu tür tıbbi bakım hizmetlerinden yararlanma hakkından yoksun bırakılmamasını güvence altına almak için çaba gösterirler (Madde 24).
- D) Taraf devletler, ulusal durumlarına göre ve olanakları ölçüsünde, ana babaya ve çocuğun bakımını üstlenen diğer kişilere, çocuğun bu hakkının uygulanmasında yardımcı olmak amacıyla gerekli önlemleri alır ve gereksinim olduğu takdirde özellikle beslenme, giyim ve barınma konularında maddi yardım ve destek programları uygulatırlar (Madde 27).

5.

Birleşmiş Milletler Genel Kurulu 20 Kasım 1989 tarihinde Çocuk Hakları Sözleşmesi'ni kabul etmiştir. Bu sözleşmeye göre,

- Her çocuğun gelişme hakkı ve sağlığı güvence altında olmalıdır. Bu konuda çocukların daha iyi bir yaşam sürdürmeleri için gerektiğinde yardım edilir.
- Her çocuk eğitimi tam yapabilmek için desteklenir ve korunur. İlköğretim parasız ve hiçbir ayırım gözetmek-sizin tüm çocuklar için hak ve zorunludur.
- Onlar yetişkinler gibi çalıştırılmazlar. Çalışmak zorunda kalırlarsa yapacakları iş onların sağlığı ve eğitimleri için sorun oluşturmamalıdır.

Buna göre aşağıdaki görsellerle anlatılmak istenen hangi durumun Çocuk Hakları Sözleşmesi'ne aykırı olduğu söylenebilir?

A)



B)



C)



D)



6. Çocuk hakları, dünya üzerindeki tüm çocukların din, dil, ırk, renk, cinsiyet ayrımı yapılmaksızın sahip olduğu haklardır. Bu haklar, tüm çocukların sağlıklı ve mutlu bireyler olarak yetişebilmesi için önemlidir.

Bu bilgiye göre çocuk hakları ile ilgili aşağıdakilerden hangisi söylenemez?

- A) Eşitliği savunur.
- B) Evrensel haklardır.
- C) İnsani değerleri savunur.
- D) Bazı durumlarda kısıtlanabilir.

7. Merhabalar benim adım Asu. Bugün sosyal bilgiler öğretmenimiz bize bazı haklarımızın olduğunu söyledi. Bunlardan bazılarını sizlerle paylaşmak istiyorum.

- Derslerimde başarılı olmak ve topluma yararlı bir birey olabilmek için eğitim hakkım varmış, bu yüzden okula gidiyordum.
- Sağlığım ve hastalıklardan korunmam devletin güvencesi altındaymış.
- Görüşlerimi serbestçe ifade etme ve beni ilgilendiren her konuda görüşlerimin dikkate alınmasını isteme hakkına sahipmişim.

Asu bu konuşmasında sahip olduğu aşağıdaki haklardan hangisi ile ilgili bilgi vermemiştir?

- A) Sağlık hakkı
- B) Eğitim hakkı
- C) Beslenme hakkı
- D) Düşüncelerini ifade edebilme hakkı

5 SINIF

SOSYAL BİLGİLER

HDS

Haftalık Değerlendirme sınavı

Adı ve Soyadı :

Sınıfı :

Okul Numarası :





5. Sınav

2. ÜNİTE : KÜLTÜR VE MİRAS
KONU : Uygarlıkları Tanıyoruz

Kazanım 5.2.1. : Somut kalıntılardan yola çıkarak kadim uygarlıkların insanlık tarihine katkılarını fark eder.

1.

SÜMER UYGARLIĞI

HARİTASI	TARİHE KATKILARI
	 <p>Tekerleği icat ettiler.</p>
	 <p>Çivi yazısını bularak tarih çağlarını başlattılar.</p>
	 <p>Ay ve Güneş tutulmasını inceleyerek Ay takvimini yaptılar.</p>

Görsele bakılarak Sümerler ile ilgili aşağıdaki çıkarımlardan hangisine ulaşamaz?

- A) Şehir devletleri halinde yaşamışlardır.
- B) Bilginin depolanmasını sağlamışlardır.
- C) Astronomi alanında çalışmalar yapmışlardır.
- D) Anadolu'nun güney doğusunda yaşamışlardır.

8.

Merhaba çocuklar, biz Sümer uygarlığında yaşayan mimarlarız. Ziggurat adı verdiğimiz çok katlı tapınaklar yapıyoruz. Bu yapının en üst katını uzayı gözlemlemek, orta katlarını okul ve ibadet etmek, alt katlarını ise yaz boyu hasat ettiğimiz tarım ürünlerini saklayabileceğimiz depo olarak kullanmak için tasarladık.



Bu bilgilere göre Sümerler ile ilgili,

- I. Bilimsel çalışmalara önem vermişlerdir.
- II. Çok amaçlı yapılar inşa etmişlerdir.
- III. Kendilerini askerî mimari alanında geliştirmişlerdir.

çıkarımlarından hangilerine ulaşılabilir?

- A) I ve II
B) I ve III
C) II ve III
D) I, II ve III

9. Mezopotamya uygarlıkları döneminde inşa edilmiş Zigguratlar, Babil Kulesi, İhtar Kapısı gibi yapılar çok uzun ömürlü olamamıştır. Bu yapılar kısa sürede yıkılıp yok olmuşlardır. Günümüzde bu yapıların ancak kalıntılarına ulaşabilmektedir.

Buna göre Mezopotamya'da inşa edilen eserlerin günümüze ulaşamamasında;

- I. Savunmaya önem vermemeleri,
- II. Bölgenin sürekli istilaya uğraması,
- III. Dayanaksız malzemelerden yapılmaları

durumlarından hangilerinin etkili olduğu söylenebilir?

- A) I ve II
B) I ve III
C) II ve III
D) I, II ve III

10. Batı Anadolu'da kurulan İyon şehir devletleri deniz ticareti sayesinde zenginleşmişlerdir. Bu dönemde yetişen Pisagor matematiğin, Hipokrat tıbbın, Diyojen felsefenin, Herodot ise tarih biliminin temellerini atmıştır.

Bu bilgilerden İyonların aşağıdaki özelliklerinden hangisi ile ilgili çıkarımda bulunulamaz?

- A) Ekonomik yapı
B) Siyasi yapı
C) Kültürel yapı
D) Sosyal yapı

Cevaplarınızı optiğe işaretleyiniz.

Ad Soyad :

1	A	B	C	D
2	A	B	C	D
3	A	B	C	D
4	A	B	C	D
5	A	B	C	D
6	A	B	C	D
7	A	B	C	D
8	A	B	C	D
9	A	B	C	D
10	A	B	C	D

Optik No :

749

<input type="radio"/>	<input type="radio"/>	<input type="radio"/>	<input type="radio"/>	<input type="radio"/>	<input type="radio"/>	<input type="radio"/>	<input type="radio"/>	<input type="radio"/>	<input type="radio"/>
<input checked="" type="radio"/>	<input type="radio"/>	<input checked="" type="radio"/>	<input checked="" type="radio"/>	<input checked="" type="radio"/>	<input type="radio"/>	<input checked="" type="radio"/>	<input checked="" type="radio"/>	<input type="radio"/>	<input checked="" type="radio"/>

FERNUS

MOD PRO

2.



Dinî bayramlar bizim en kutsal günlerimizdir. O gün erkenden kalkar, en temiz elbiselerimizi giyer, güzel kokular sürünür, camiye gideriz. Bayram namazından sonra annemizin, babamızın ellerini öper; hayır dualarını alırız. Büyüklerimizi ziyaret eder, küçüklerimizi sevindirmeye çalışırız. Küsleri barıştırır, karşılıklı sevgi ve saygı içinde bayram günlerimizi geçirmeye çalışırız.

Bu bilgiye göre dinî bayramlarımızla ilgili aşağıdakilerden hangisi söylenebilir?

- A) Birlik ve beraberliğimizi güçlendirir.
- B) Tarihimiz boyunca kutladığımız önemli günlerdir.
- C) Kutlanma şekli yöreden yöreye farklılık gösterir.
- D) Zaman içerisinde kutlanmasında farklılıklar yaşanmıştır.

3. Geleneksel el sanatlarımızın başında halıcılık gelir. Orta Asya'dan Anadolu'ya taşıdığımız bu kültür öğemiz kuşaktan kuşağa binlerce yıldır tezgâhlarda dokunmaya devam ediyor. Bu gelenek ülkemizin pek çok yerinde benzer tekniklerle ancak farklı renk ve desenlerle varlığına devam ediyor. Dokunan halılar Milas, Gördes, Kula, Bünyan ve Isparta gibi dokunduğu yörenin ismiyle biliniyor. Halılara çok çeşitli motifler işleniyor. Karnıyarık, eli belinde, gonca gül, kartal, bulut gibi yüzlerce motif halının ilmeklerinde can buluyor.

Bu bilgilere bakılarak aşağıdaki sorulardan hangisine cevap verilemez?

- A) Halıcılıkla öne çıkan yörelerimiz nerelerdir?
- B) Türk dokumalarında hangi motiflere rastlanır?
- C) Dokunan halılar ismini nereden alır?
- D) Halıcılığın günümüzde önemini kaybetmesinin nedenleri nelerdir?

4.

Dokumacılık, uzun yıllar göçebe Anadolu kadınının elinde bulunan neredeyse tek ifade aracı olmuştur. Dolayısıyla kilimler kadar üzerine işlenen desenler de bir kültür mirasıdır. Anadolu kadınları da kâh yünü ham maddesi olarak kullandıkları koyunları ve diğer hayvanları, kâh dertlerini, acılarını ve özlemlerini sembolik motifler haline getirerek yüzyıllar boyunca kilimlerine işlemiştir.

Bu bilgilere göre Anadolu'daki dokumacılık sanatı ile ilgili aşağıdaki yargılardan hangisine ulaşamaz?

- A) Motiflerin çeşitli duygular içerdiği
- B) Ham maddesinin hayvanlardan sağlandığı
- C) İşlemelerde yöresel farklılıkların gözleendiği
- D) Türk kadınının kendisini ifade ettiği bir araç olduğu

SINIF 5

SOSYAL BİLGİLER

HDS

Haftalık Değerlendirme sınavı

Adı ve Soyadı :

Sınıfı :

Okul Numarası :

8. Sınav

2. ÜNİTE : KÜLTÜR VE MİRAS

KONU : Ortak Değerlerimiz

Kazanım 5.2.4. : Kültürel öğelerin, insanların bir arada yaşamasındaki rolünü analiz eder.

1.



Akraba, eş, dost ve arkadaşların ziyaret edildiği dinî bayramlarda küskünlükler sona erer, kurulan sofraların etrafında birleşen insanlar bir arada yemek yerler.



Millî Mücadele Dönemi'nde kazandığımız önemli başarıları simgeleyen millî bayramlar, milletçe bir araya geldiğimiz önemli günlerdir.

Bu bilgilere göre bayram günlerinin ülkemiz insanları arasında aşağıdaki duygulardan hangisinin güçlenmesine katkı sağladığı söylenemez?

A) Sevgi

B) Dayanışma

C) Bencillik

D) Saygı



SOSYAL BİLGİLER

HDS

Haftalık Değerlendirme sınavı

Yazılıya Hazırlık Sınavı

1. Dönem / 1. Yazılı

Adı ve Soyadı :

Sınıfı :

Okul Numarası :


KAZANIM: 5.1.1: Sosyal bilgiler dersinin, Türkiye Cumhuriyeti'nin etkin bir vatandaşı olarak kendi gelişimine katkısını fark eder.

1. 5. sınıf öğrencisi Selim yaşadığı şehrin Kurtuluş Savaşı'nda üstlendiği rolü, bu savaşta mücadele eden kahramanların kimler olduğunu ve her yıl 30 Ağustos'ta kutlanan Zafer Bayramı'nın ne anlama geldiğini sosyal bilgiler dersinde öğrendi.

Buna göre, sosyal bilgiler dersinin Selim'in gelişimine katkısı ne olmuştur? Kısaca açıklayınız.

KAZANIM: 5.1.1: Sosyal bilgiler dersinin, Türkiye Cumhuriyeti'nin etkin bir vatandaşı olarak kendi gelişimine katkısını fark eder.

2.



Sosyal Bilgiler Öğretmeni Nermin Hanım, yandaki görsel ile öğrencilerine sosyal bilgiler dersinin amaçlarını anlatmak istemiştir.

Buna göre Nermin Öğretmen'in sosyal bilgiler dersinin amaçlarından hangisini anlatmaya çalıştığını kısaca açıklayınız.

KAZANIM: 5.1.4: Çocuk olarak haklarından yararlanmaya ve bu hakların ihlal edildiği durumlara örnekler verir.

8. **Yandaki görselin çocukların sahip olduğu haklardan hangisiyle ilgili olduğunu yazınız.**



.....

.....

KAZANIM: 5.2.1: Somut kalıntılardan yola çıkarak Anadolu ve Mezopotamya uygarlıklarının insanlık tarihine önemli katkılarını fark eder.

9. **İlk Çağ'da Anadolu'da kurulmuş medeniyetlerin isimlerini yazınız.**

.....

.....

.....

KAZANIM: 5.2.1: Somut kalıntılardan yola çıkarak Anadolu ve Mezopotamya uygarlıklarının insanlık tarihine önemli katkılarını fark eder.

10. • Çok katlı tapınaklardır.
• Sümerlerde şehirler bu yapıların etrafına kurulmuştur.
• Piramide benzeyen bu yapıların en üst katı gözlemevi (rasathane) olarak kullanılmıştır

Yukarıda özellikleri verilen yapının adını yazınız.

.....

.....

.....

(Her soru 10 puandır. Başarılar dileriz.
Sosyal Bilgiler Zümresi)



SOSYAL BİLGİLER

HDS

Haftalık Değerlendirme sınavı

Yazılıya Hazırlık Sınavı

1. Dönem / 1. Yazılı

Adı ve Soyadı :

Sınıfı :

Okul Numarası :

KAZANIM: 5.1.1: Sosyal bilgiler dersinin, Türkiye Cumhuriyeti'nin etkin bir vatandaşı olarak kendi gelişimine katkısını fark eder.

1. Ailemle, yarıyıl tatili için Antalya'ya gitmeye karar verdik. Annem burada gezilecek çok yer bulunduğunu, en önemlilerinden birinin Side Antik Kenti olduğunu söyleyince çok heyecanlandım. Bu antik kent ile ilgili bazı bilgileri sosyal bilgiler dersinde öğrenmişim.

“Ticaret ve liman kenti olarak tanınan Side Antik Kenti, Pamfilya'nın en önemli merkezlerinden biriymiş. MÖ VII. yüzyıl da bir yerleşim merkezi olmuş. Bir dönem Lidyalıların egemenliği altına girmiş. XX. yüzyıl başlarında Side Antik Kenti kalıntıları üzerinde Girittli göçmenler Selimiye Köyü'nü kurmuş.”

Metinde sosyal bilgiler dersinin faydalarından hangilerine değinildiğini açıklayınız.

KAZANIM: 5.1.1: Sosyal bilgiler dersinin, Türkiye Cumhuriyeti'nin etkin bir vatandaşı olarak kendi gelişimine katkısını fark eder.

2. **Burak:** Marketten süt ve süt ürünlerini satın alırken son tüketim tarihine bakarım.

Nevin: Seçimlerde mutlaka oy kullanırım.

Mustafa: Bir ürünü daha ucuza alabilmek için satıcıya fiş ya da fatura almamayı teklif ederim.

Büşra: Doğal afetlerde üzerime düşen görevi yerine getiririm. Düzenlenen yardım kampanyalarına destek veririm.

Sosyal bilgiler dersinde öğrenilen bilgileri davranışa dönüştüremeyen kişinin adını yazınız.

KAZANIM: 5.1.4: Çocuk olarak haklarından yararlanmaya ve bu hakların ihlal edildiği durumlara örnekler verir.

6. Babası bir fabrikada iş bulduğu için Emine ve ailesi, köylerinden Denizli'ye göç ettiler. Burada babası işe başladı ancak aldığı ücret geçimlerini sağlamaya yetmiyordu. Annesi de hasta olduğu için çalışamıyordu. Babasının ek iş yaparak geceleri de çalışmak zorunda kaldığını gören Emine, okuldan sonra çalışabileceği bir iş aradı ve mahallelerindeki fırında okul çıkışlarında çalışmaya başladı.

Metinde vurgulanan çocuk hakkı ihlali hangisidir? Yazınız.

.....

.....

.....

KAZANIM: 5.2.1: Somut kalınlardan yola çıkarak Anadolu ve Mezopotamya uygarlıklarının insanlık tarihine önemli katkılarını fark eder.

7. Ay yılı esasına dayanan takvim Sümerler tarafından icat edilmiştir.

Bu durum Sümerlerin hangi alanda ilerlediklerini gösterir? Yazınız.

.....

.....

.....

KAZANIM: 5.1.3: Sahip olduğu haklarının farkında olan bir birey olarak katıldığı gruplarda aldığı rollerin gerektirdiği görev ve sorumluluklara uygun davranır.

8. Ailenizdeki rolünüze göre (abla, ağabey, kardeş, çocuk gibi) haklarınıza ve sorumluluklarınıza ikişer örnek veriniz.

Haklarım	Sorumluluklarım
1.	1.
2.	2.

2. Aşağıdaki haritada Türkiye’de görülen iklim tipleri gösterilmiştir.



Verilen bilgilere ve haritaya göre aşağıdaki çıkarımlardan hangisine ulaşamaz?

- Karadeniz iklimi yaz turizmine uygun değildir.
- Karasal iklim, Türkiye’de en geniş alanda etkili olan iklim tipidir.
- Akdeniz iklimi, Akdeniz ve Ege kıyıları ile Marmara Denizi’nin çevresinde görülür.
- Akdeniz ikliminin etkili olduğu yerlerde kış mevsiminde ulaşımda zorluklar yaşanır.

3. “İklim, ekonomik faaliyetler üzerinde etkilidir.” diyen bir araştırmacı;

- Karadeniz kıyılarında insanların balıkçılıkla uğraşması,
- Karasal iklimin görüldüğü yerlerde küçükbaş hayvancılığın yapılması,
- Akdeniz ikliminin etkili olduğu yerlerde yapı malzemesi olarak taşın kullanılması

durumlarından hangilerini bu görüşüne dayanak olarak gösterebilir?

- Yalnız I
- Yalnız II
- I ve II
- II ve III

4. Türkiye’de iklimden dolayı her yörede geleneksel mesken (konut) tipleri farklılık gösterir. Yağışların fazla olduğu yerlerde bitki örtüsü orman olduğu için bu yerlerde yapı malzemesi olarak ahşap kullanılır.



Buna göre Türkiye haritasında gösterilen yerlerden hangisinde yapı malzemesi olarak ahşap tercih edildiği söylenebilir?

- Kırşehir
- Rize
- Mardin
- Antalya

8. Toprak ve kaya kütlelerinin, yerçekimi nedeniyle, tabakalar halinde kayarak çökmesine heyelan ya da toprak kayması denir. Yüksek eğimli arazilerde ve mağara gibi boşluk kısımların bulunduğu alanlarda daha sık yaşanır. Heyelan esnasında yamaçtan kayan toprak kütleleri göçmelere neden olur. Heyelan, yerleşim bölgelerine yakın gerçekleşirse, ciddi mal ve can kaybına neden olabilecek bir olaydır.

Bu bilgilere göre aşağıdakilerden hangisi heyelan riskini azaltmak için alınacak önlemler arasında yer almaz?

- A) Yamaçlarda ve eğimli arazilerde ağaçlandırma çalışmaları yapmak
B) Tünel, köprü ve otoyolları dayanıklı zemine sahip alanlara yapmak
C) Eğimli arazilerdeki tarım alanlarında makine kullanımını azaltmak
D) Tabakaların yamaç eğimi ile aynı doğrultuda olduğu yerlere istinat duvarları yapmak

9. Geniş ormanlık alanlara sahip olmasına rağmen ülkemizde en az orman yangınları Karadeniz kıyılarında görülmektedir.



Bu durumun nedeni aşağıdakilerden hangisi ile açıklanamaz?

- A) Bölgenin her mevsim yağış almasıyla
B) Bölgede nem miktarının yüksek olmasıyla
C) Bölgede yaz sıcaklıklarının düşük olmasıyla
D) Bölgede ormancılığa bağlı iş kollarının gelişmiş olmasıyla

10. Verimli tarım arazilerinin verimsizleşmesi ve yok olması insanların beslenme ihtiyacının karşılanamamasına neden olur. Bu durum ayrıca köyden kente göçü de artırır.

Yukarıdaki açıklamanın aşağıdaki sorulardan hangisine cevap niteliğinde olduğu söylenebilir?

- A) Erozyon insan yaşamını nasıl etkiler?
B) Heyelanın çevreye verdiği zararlar nelerdir?
C) Çığ felaketinin doğal yaşama verdiği zararlar nelerdir?
D) Sel felaketinin ekonomik ve sosyal sonuçları nelerdir?

Cevaplarınızı optiğe işaretleyiniz.

Ad Soyad :

1	A	B	C	D
2	A	B	C	D
3	A	B	C	D
4	A	B	C	D
5	A	B	C	D
6	A	B	C	D
7	A	B	C	D
8	A	B	C	D
9	A	B	C	D
10	A	B	C	D

Optik No :
757

FERNUS

MOD PRO

2.



Toz çeken ilk süpürge 1906 yılında Robert Bimm tarafından "Birum" adıyla Fransa'da yapıldı. Böylece insanlar ağır halıları silkelemekten kurtuldu.



1980'li yıllarda daha hafif, içerisinde bir toz torbasının da olduğu süpürgeler yapıldı.



Günümüzde ise akıllı telefonlarımızla yönlendirebildiğimiz robot süpürgeler kullanılıyor. Bu sayede biz evde yokken bile evimizi süpüren bir yardımcımız var.

Bu bilgilere göre teknolojik gelişmelerle ilgili aşağıdakilerden hangisi söylenemez?

- A) İnsan yaşamını kolaylaştırmaktadır.
- B) İnsanları tembelliğe özendirir.
- C) Birbirini tamamlayarak bir birikim halinde ilerlemektedir.
- D) Ev işlerinin daha kolay ve hızlı yapılmasını sağlamaktadır.

3.

Geçmiş Dönemlerde Bilgiye Ulaşmak İçin Kullanılan Kaynaklar



Ansiklopedi

Kitap

Dergi

Günümüzde Bilgiye Ulaşmak İçin Kullanılan Kaynaklar



Televizyon

Bilgisayar

Akıllı telefon

Görsele bakılarak,

- I. Günümüz insanları daha sorgulayıcıdır.
- II. Günümüzde bilgiye ulaşmak daha kolay ve hızlıdır.
- III. Teknolojik gelişmeler bilgi kaynaklarını çeşitlendirmiştir.

yargılarından hangilerine ulaşılabilir?

- A) I ve II
- B) I ve III
- C) II ve III
- D) I, II ve III



SOSYAL BİLGİLER

HDS

Haftalık Değerlendirme sınavı

Yazılıya Hazırlık Sınavı

1. Dönem / 2. Yazılı

Adı ve Soyadı :

Sınıfı :

Okul Numarası :

KAZANIM: 5.2.2: Çevresindeki doğal varlıklar ile tarihi mekânları, nesnelere ve eserleri tanıtır.

1. Çevresindeki doğal varlıklar ile tarihi mekânları, nesnelere ve eserleri tanıtır.

Buna göre, ülkemizin sahip olduğu doğal varlıklara üç örnek veriniz.

1.

2.

3.

KAZANIM: 5.2.2: Çevresindeki doğal varlıklar ile tarihi mekânları, nesnelere ve eserleri tanıtır.

2. Antalya Atatürk Ortaokulu Gezi Kulübü öğrencileri yıl sonu etkinliği için üç günlük bir gezi planı yapmak üzere çalışmalarına başlamıştır. Bu gezi için "Şehrimizin Doğal Varlıklarını Keşfediyoruz!" sloganını belirlemişlerdir. Bu doğrultuda üç farklı tur şirketinden teklif almışlardır. Tur şirketlerinin sundukları teklifler aşağıdaki gibidir.

YEŞİLLER TURİZM
1.Gün: Side Antik Kenti, Manavgat Şelalesi
2.Gün: Düden Şelalesi, Düğmeli Evler
3.Gün: Altınbeşik Mağarası, Konyaaltı Plajı

SARILAR TURİZM
1.Gün: Yivli Minare, Aspendos Tiyatrosu
2.Gün: Göynük Kanyonu, Termesos Antik Kenti
3.Gün: Düden Şelalesi, Manavgat Şelalesi

MAVİLER TURİZM
1.Gün: Göynük Kanyonu, Cennet Koyu
2.Gün: Altınbeşik Mağarası, Konyaaltı Plajı
3.Gün: Kaputaj Plajı, Tazi Kanyonu

Belirledikleri gezi sloganına bakıldığında Atatürk Ortaokulu Gezi Kulübü öğrencilerinin bu geziye hangi tur şirketi ile gitmesi uygundur? Tur şirketinin adını yazınız.

KAZANIM: 5.3.2: Yaşadığı çevrede iklimin, insan faaliyetlerine etkisini, günlük yaşantısından örnekler vererek açıklar.

8. İç Anadolu'nun özellikle kırsal kesimlerinde evler kerpiçten yapılırken, Akdeniz Bölgesi'nde taştan, Karadeniz'de ise ahşaptan yapılmaktadır.

Bu duruma neden olan temel faktörü kısaca açıklayınız.

KAZANIM: 5.2.5: Günlük yaşamdaki kültürel unsurların tarihi gelişimini değerlendirir.

9.

Kavram	Tanım
Kültürel Süreklilik	Kültürel unsurların nesilden nesile aktarılmasıdır.
Kültürel Değişim	Kültürel unsurların zamanla başka bir hâl alması, farklılaşmasıdır.
Kültürel Etkileşim	Farklı milletlerin kültürel olarak birbirinden etkilenmeleridir.
Kültürel Bozulma	Kültürel unsurların zaman içinde orijinalliğinin bozulması ve manevi niteliklerinden uzaklaşmasıdır.

Buna göre dünden bugüne evimize gelen misafirlerimizi en iyi şekilde ağırlamaya çalışmamız ve ikramlarda bulunmamız tabloda tanımı verilen kavramlardan hangisine örnek oluşturur? Yazınız.

KAZANIM: 5.3.1: Haritalar üzerinde yaşadığı yer ve çevresinin yeryüzü şekillerini genel olarak açıklar.

10. Haritalardaki küçültme oranına ne ad verilir? Yazınız.

(Her soru 10 puandır. Başarılar dileriz.
Sosyal Bilgiler Zümresi)



SOSYAL BİLGİLER

HDS

Haftalık Değerlendirme sınavı

Adı ve Soyadı :

Sınıfı :

Okul Numarası :

18. Sınav

4. ÜNİTE : BİLİM, TEKNOLOJİ VE TOPLUM
KONU : Bilim İnsanları ve Ortak Özellikleri

Kazanım 5.4.4. : Buluş yapanların ve bilim insanlarının ortak özelliklerini belirler.


1.



Ben ünlü Türk bilgini İbn-i Sina. Tıp alanında birçok çalışmam var. En önemli özelliğim karşılaştığım problemler karşısında yılmadan çalışmalarına devam etmemdir.



Ben Edison. Ampülü bularak dünyayı aydınlattım. İcadımı gerçekleştirmek için defalarca denemeler yaptım. Karşılaştığım zorluklara rağmen vazgeçmedim.



Ben Einstein. Dünyaya gelen en zeki adam olarak tanırırsınız beni. Atom çekirdeğini parçalara ayıran kişi benim. Çalışmalarımı yaparken dikkat ettiğim en önemli şey izleyeceğim adımları önceden belirlemektir.

İbn-i Sina, Enstein ve Edison'un anlattıklarına göre bilim insanlarının aşağıdaki özelliklerden hangisine sahip oldukları söylenemez?

A) Bencil olma

B) Planlı olma

C) Çabuk pes etmeme

D) Azimli olma

5.

Kaynakça; yapılan bir çalışmada yararlandığımız eserlerin çalışmanın sonunda belirttiği bölüme verilen addr. Çalışmalarımızda kullandığımız kaynaklar kitap, ansiklopedi, makale, dergi ya da internet sitesi olabilir.

- Kaya, A. (Ed)(2004) KPSS, Çağdaş Öğretmen Yayınları, Ankara
- Sünbül, M.A. (Ed)(2005) KPSS, Mikro Yayınları, Ankara
- Demirel, Ö. (1999). Eğitimde Program Geliştirme. Ankara: Pegem Yayıncılık
- Ülgen, G. (1995). Eğitim psikolojisi. Ankara: Bilim Yayınları
- Senemoğlu, N. (2004). Gelişim Öğrenme ve Öğretim. Ankara: Gazi Kitabevi
- Aydın, A. (2003). Gelişim ve Öğrenme Psikolojisi. İstanbul: Alfa Yayıncılık.
- www.erg.sabanci.univ.edu/iok2004/bildiriler/BüyaminYurdakul.ppt.

Buna göre çalışmaların sonuna bir kaynakça eklenerek;

- Eser sahiplerinin emeğine saygı göstermek,
- Çalışmanın bilimsel güvenilirliğini artırmak,
- Kaynak olarak kullandığımız eserlerin reklamını yapmak

durumlarından hangilerinin hedeflendiği söylenebilir?

A) I ve II

B) I ve III

C) II ve III

D) I, II ve III

6.



Merhaba çocuklar ben şair Rasim Köktürk. Geçen gün sosyal medyada birinin yazdığı şiir kitabını görünce şok oldum. Çünkü kitabın 18. ve 55. sayfasındaki şiirler bana aitti. Hemen suç duyurusunda bulundum.

Buna göre Rasim Bey ile ilgili aşağıdakilerden hangisi söylenebilir?

- Bilinirliğini artırmak istemiştir.
- Maddi kazanç sağlamak istemiştir.
- Emek hırsızlığına karşı harekete geçmiştir.
- Şiir kitabının reklamını yapmak istemiştir.

7.

“Eşyalar gibi fikirler de değerlidir. Nasıl bir eşyayı sahibinden izinsiz kullanmıyorsak, kitaplardan da yararlanırken yazarını belirtmeliyiz. Çünkü bu eserler yazarların fikirleridir.” **diyen bir sosyal bilgiler öğretmeni araştırma yaparken dikkat edilmesi gereken aşğıdaki basamaklardan hangisinin önemini vurgulamıştır?**

- Kaynakça hazırlamak
- Araştırma konusunu seçmek
- Konuyla ilgili araştırma yapmak
- Araştırma konusuna uygun bilgileri derlemek

8. Sanayi sektörü, uygun yöntem ve araçları kullanarak ham maddeleri işleyen, enerji kaynaklarını ortaya çıkaran ve bunların kullanıma hazır hâle getirilmesini kapsayan faaliyetlerin tümüdür.

Bu bilgiye göre aşağıdaki mesleklerden hangisinin sanayi sektörü içinde yer aldığı söylenemez?

- A) Makine mühendisliği
B) Bilgisayar teknisyenliği
C) Çiftçilik
D) Oto tamirciliği

9. Ülkemizde sanayinin en çok geliştiği yerlerin başında gelen İstanbul ve çevresinde iş imkânları fazladır. Bu nedenle bölge sürekli göç almaktadır. Nüfusun artmasına bağlı olarak bölgede ticaret, ulaşım, bankacılık, turizm, eğitim, sağlık gibi hizmet sektörleri çok gelişmiştir.

Buna göre İstanbul ve çevresinde hizmet sektörüne bağlı olarak aşağıdaki meslek gruplarından hangisinin yaygın olduğu söylenemez?

- A) Otobüs şoförlüğü
B) Teknisyenlik
C) Doktorluk
D) Öğretmenlik

10. Her mevsim yağışlı olan Karadeniz ikliminin bitki örtüsü ormandır.

Buna göre Karadeniz ikliminin görüldüğü şehirlerimizde aşağıdaki meslek gruplarından hangisinin yaygın olduğu söylenemez?

- A) Kerestecilik
B) Mobilyacılık
C) Otel işletmeciliği
D) Orman mühendisliği

Cevaplarınızı optiğe işaretleyiniz.

Ad Soyad :

1	A	B	C	D
2	A	B	C	D
3	A	B	C	D
4	A	B	C	D
5	A	B	C	D
6	A	B	C	D
7	A	B	C	D
8	A	B	C	D
9	A	B	C	D
10	A	B	C	D

Optik No :

765

<input type="radio"/>	<input type="radio"/>	<input type="radio"/>	<input type="radio"/>	<input type="radio"/>	<input type="radio"/>	<input type="radio"/>	<input type="radio"/>	<input type="radio"/>	<input type="radio"/>
<input checked="" type="radio"/>	<input type="radio"/>	<input checked="" type="radio"/>	<input checked="" type="radio"/>	<input checked="" type="radio"/>	<input checked="" type="radio"/>	<input checked="" type="radio"/>	<input checked="" type="radio"/>	<input type="radio"/>	<input checked="" type="radio"/>

FERNUS

MOD PRO

2. Aşağıdaki görsellerde ekonomik faaliyetlerin aşamaları verilmiştir.



I



II



III

Bu faaliyetlerin üretim, dağıtım ve tüketim aşamaları ile olan ilişkisi aşağıdakilerin hangisinde doğru olarak verilmiştir?

	Üretim	Dağıtım	Tüketim
A)	I	II	III
B)	II	III	I
C)	I	III	II
D)	II	I	III

3.

ÜRETİM: Mal ve hizmetlerin yetiştirilmesi ya da imal edilmesi için yapılan ekonomik etkinliklerdir.

DAĞITIM: Mal ve hizmetlerin tüketiciye ulaştırılması için yapılan ekonomik etkinliklerdir.

TÜKETİM: Üretilen mal ve hizmetlerin insanlar tarafından kullanılmasıdır.

Bu bilgilere göre aşağıdakilerden hangisinde dağıtım aşamasına örnek gösterilmiştir?

- A) Tarlalarda sebze ve meyve yetiştirilmesi
- B) İnekten sağılan sütün yoğurda dönüştürülmesi
- C) Şeker pancarının fabrikalarda işlenerek şekere dönüştürülmesi
- D) Paketlenen kâğıtların kırtasiyelere ve basım evlerine götürülmesi

4. Feriha'nın evde yaptığı bileklikler ve kolyeler arkadaşları tarafından çok beğenilmiştir. Bunun üzerine sosyal medya hesabından yaptığı bilekliklerin ve kolyelerin görsellerini paylaşan Feriha, gelen sipariş istekleri üzerine yaptığı ürünleri önce yaşadığı şehir olan Antalya'da satışa başlamış daha sonra ise farklı şehirlere ve farklı ülkelere kargoyla göndermeye başlamıştır. Satışlar iyice artınca hayalindeki dükkânı "Feriha Takı Evi" adıyla açmıştır.

Buna göre Feriha'nın davranışı;

- I. Üretim,
- II. Tüketim,
- III. Dağıtım

kavramlarından hangileri ile ilgilidir?

- A) I ve II
- B) I ve III
- C) II ve III
- D) I, II ve III

9. Bilinçli bir tüketicinin hem alışveriş sırasında hem de aldığı ürünleri kullanırken dikkat etmesi gereken bazı kurallar vardır.

Buna göre aşağıdakilerden hangisi bilinçli bir tüketicinin ürünü kullanırken yapması gerekenler arasında yer alır?

- A) Ürünün kalitesini kontrol etmek
B) Ürünün son kullanma tarihine bakmak
C) Ürünü kullanım kılavuzuna uygun şekilde kullanmak
D) Ürünün üzerinde TSE damgasının olduğundan emin olmak

10. Eyüp Bey, internette satın aldığı televizyonun ekranının çatlak olduğunu görünce hemen ürünün yetkili servisini aramıştır. Eve gelen servis görevlileri televizyonun kutusunun yırtık olduğunu ileri sürerek ürünün garanti kapsamında değerlendirilemeyeceğini söylemişlerdir. Bunun üzerine Eyüp Bey, Tüketici Hakları Mahkemesine başvurmuştur.

Metne göre Eyüp Bey ile ilgili,

- I. Bilinçli bir tüketicidir.
II. Hukuki haklarını kullanmıştır.
III. Yaşadığı sorun karşısında pasif davranmıştır.

yargılarından hangilerine ulaşılabilir?

- A) I ve II
B) I ve III
C) II ve III
D) I, II ve III

Cevaplarınızı optiğe işaretleyiniz.

Ad Soyad :

1	A	B	C	D
2	A	B	C	D
3	A	B	C	D
4	A	B	C	D
5	A	B	C	D
6	A	B	C	D
7	A	B	C	D
8	A	B	C	D
9	A	B	C	D
10	A	B	C	D

Optik No :
769

○	○	○	○	○	○	○	○	○	○
●	●	○	○	○	○	○	○	○	●

FERNUS

MOD PRO



SOSYAL BİLGİLER

HDS

Haftalık Değerlendirme sınavı

Adı ve Soyadı :

Sınıfı :


Okul Numarası :


26. Sınav


6. ÜNİTE : ETKİN VATANDAŞLIK
KONU : Topluma Hizmet Edenler


Kazanım 5.6.1. : Çevresindeki toplumsal ihtiyaçlar ile bu ihtiyaçların karşılanması için hizmet veren kurumları ilişkilendirir.

1.



650 bini aşkın doğa gönüllüsünün desteği alındı.



3 milyondan fazla öğrenciye doğa eğitimleri verildi.



16.700 hektar alanda 700 milyon meşe palamudu ekildi.


250 kırsal kalkınma, koruma ve ağaçlandırma projesi gerçekleştirildi.

TEMA VAKFI
31
YAŞINDA
31 YILDIR YAŞANABİLİR BİR GELECEK İÇİN BİRLİKTE ÇALIŞTIĞIMIZ TÜM GÖNÜLLÜLERİMİZE VE DESTEKÇİLERİMİZE TEŞEKKÜR EDERİZ.


12.500 hektar alanda 14,5 milyon fidan toprakla buluşturuldu.


Doğal varlıkları korumak adına açtığımız/müdahil olduğumuz 239 davanın 115'i lehimize sonuçlandı, 68'i devam ediyor.


50.000'den fazla öğretmene ve 35.000'i aşkın kamu görevlisine çevre seminerleriyle ulaşıldı.

Görsele bakılarak TEMA Vakfı ile ilgili aşağıdaki çıkarımlardan hangisine ulaşılabilir?

- A) Çevre gönüllüleri tarafından desteklenmektedir.
- B) Birçok farklı ülkede faaliyet göstermektedir.
- C) Çevre eğitimi konusunda bilinçlendirme çalışmalarında bulunmaktadır.
- D) Doğal varlıkları korumak amacıyla hukuksal alanda mücadele etmektedir.

5.

Sivil toplum kuruluşu, toplumdaki çeşitli sorunları bağımsız olarak ele alıp kamuoyunu bilgilendirme ve aydınlatma görevi yapan, öneriler sunan her türlü birliktir. Gönüllülük esasına dayalı olarak çalışmalar yürüten bu kuruluşlar kâr amacı gütmeyizler. Eğitim, sağlık, bilim, çevre, yardımlaşma, sanat, spor, kültür ve daha birçok alanda çalışma yürütürler. Gelirlerini üye aidatları ve toplanan bağışlarla sağlarlar.

Bu bilgileri okuyan Kerem, edindiği bilgilerden hareketle sivil toplum kuruluşları ile ilgili aşağıdaki çıkarım tablosunu işaretleyecektir.

1 Çalışmalarının temelini gönüllülük esası oluşturur.	2 Toplumsal bilincin sağlanmasında etkin rol oynayan kuruluşlardır.	3 İlgili oldukları bakanlıklara bağlı olarak çalışan kuruluşlardır.	4 Toplumsal dayanışmayı güçlendiren kuruluşlardır.
-----------------------------------------------------------------	-------------------------------------------------------------------------------	-------------------------------------------------------------------------------	--------------------------------------------------------------

Buna göre Kerem'in sivil toplum kuruluşları ile ilgili numaralandırılarak verilen çıkarımlardan hangilerini işaretlemesi doğru olur?

A) 1 ve 2

B) 3 ve 4

C) 1, 2 ve 4

D) 2, 3 ve 4

6.



YEŞİLAY
DANIŞMANLIK
MERKEZİ
YEDAM



115
DANIŞMA HATTI



YEŞİLAY
DANIŞMANLIK MERKEZİ

BİZ
SENİN İÇİN
BURADAYIZ

Yeşilay Danışmanlık Merkezi, bağımlılıkları hayatınızdan çıkarmanız için size yardımcı olmaya hazır. Ücretsiz psikolojik danışmanlık ve sosyal hizmet desteğimiz için bize ulaşın, bağımlılıklardan uzak yeni hayatınıza başlayın.

Görsele bakılarak aşağıdakilerden hangisi Yeşilay Danışmanlık Merkezinin sunduğu hizmetlerin amacı olabilir?

A) Çevre bilincini güçlendirmek

B) Sosyal ve kültürel faaliyetleri yaygınlaştırmak

C) Kalp sağlığı konusunda halkı bilinçlendirmek

D) Kişileri zararlı alışkanlıkların etkisinden kurtarmak



SOSYAL BİLGİLER

HDS

Haftalık Değerlendirme sınavı

Yazılıya Hazırlık Sınavı

2. Dönem / 1. Yazılı

Adı ve Soyadı :

Sınıfı :

Okul Numarası :

KAZANIM: 5.3.4: Yaşadığı çevredeki afetlerin ve çevre sorunlarının oluşum nedenlerini sorgular.

1.



Verilen görsellerle anlatılmak istenen doğal afetlerin isimlerini yazınız.

KAZANIM: 5.3.4: Yaşadığı çevredeki afetlerin ve çevre sorunlarının oluşum nedenlerini sorgular.

2.



Çığ: Kar kütlelerinin koparak aşağıya doğru akmasıyla görülen doğal afettir.

Verilen görsele ve bilgiye göre çığ tehlikesi altındaki yerlerin özellikleri nelerdir? Kısaca açıklayınız.

KAZANIM: 5.3.4: Yaşadığı çevredeki afetlerin ve çevre sorunlarının oluşum nedenlerini sorgular.

3. İklim ve bitki örtüsünün cılız olması erozyon üzerinde etkilidir.

Bu bilgiye göre ülkemizde erozyonun en yoğun olduğu yerlerde hangi iklim tipi etkilidir? Yazınız.

KAZANIM: 5.3.5: Afetlerin toplum hayatı üzerine etkilerini örneklerle açıklar

4. Tokat'ın Erbaa ilçesine bağlı Gökalp beldesi yolu, Yayla mevkiinde yola çığ düştü, yolcular mahsur kaldı. Yolu kenarında bulunan ve 5 kişinin yaşadığı ev hasar gördü. Ayrıca köyde rahatsızlanan bir kadını hastaneye götürmek için köye gelen ambulans hastaneye çok geç ulaşabildi.

Metinden hareketle çığ düşmesinin hayatın hangi alanlarını olumsuz yönde etkilediğini kısaca açıklayınız.

KAZANIM: 5.4.3: Sanal ortamı kullanırken güvenlik kurallarına uyar.

5. Günümüzde birçok kişi, doktora gitmek yerine genel ağda dolaşan yanlış bilgilere göre hastalığına tanı koymakta ve tedavi sürecine başlamaktadır. Bu da o kişilerin hayatlarını riske atmalarına neden olabilmektedir.

Bu bilgi, genel ağın yanlış kullanımının hangi alandaki olumsuz etkisine örnek gösterilebilir? Yazınız.

5. Yönerge: Aşağıdaki ifadeleri doğru ya da yanlış olarak değerlendiriniz.

		Doğru	Yanlış
1.	İnsanların karşılamak zorunda olduğu temel ihtiyaçları vardır.	<input type="checkbox"/>	<input type="checkbox"/>
2.	Bir ülkenin başka bir ülkeye mal satmasına ithalat denir.	<input type="checkbox"/>	<input type="checkbox"/>
3.	Marketten süt, mağazadan televizyon almak otelde konaklamak ticari faaliyetlere örnek verilebilir.	<input type="checkbox"/>	<input type="checkbox"/>
4.	Ülkemiz tarım, hayvancılık, madencilik, sanayi ve turizm yönünden her bölge farklı özelliklere sahiptir.	<input type="checkbox"/>	<input type="checkbox"/>

Buna göre etkinlik aşağıdaki seçeneklerden hangisinde doğru bir şekilde değerlendirilmiştir?

A)

1.	D
2.	Y
3.	D
4.	Y

B)

1.	D
2.	Y
3.	D
4.	D

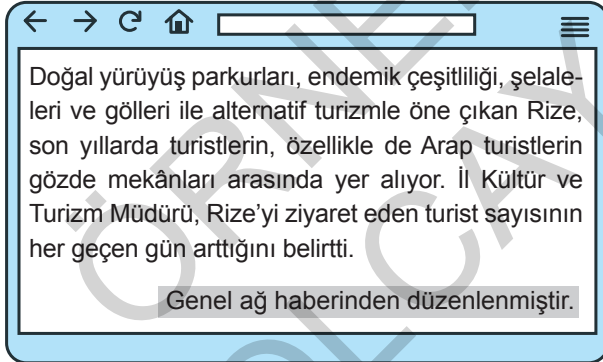
C)

1.	Y
2.	Y
3.	D
4.	D

D)

1.	D
2.	D
3.	D
4.	Y

6.



Genel ağı haberine göre Rize ile ilgili;

- I. Yaz turizminin oldukça geliştiği,
- II. Ülke ekonomisine döviz girdisi sağladığı,
- III. Beşeri varlıklarının turistlerin ilgisini çektiği

çıkarmılarından hangilerine ulaşılabilir?

- A) Yalnız I
B) Yalnız II
C) I ve II
D) II ve III

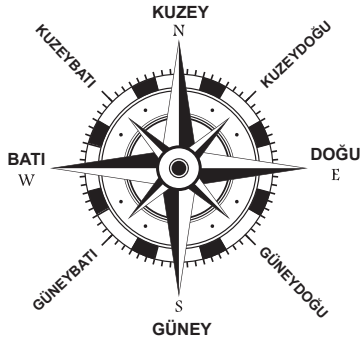
7.

Türkiye'nin dokumacılık, çinçilik, ahşap işlemeciliği ve cam sanatı gibi alanlardan elde ettiği gelir son yıllarda büyük artış göstermektedir. Bu alanda ülkemiz 2014'te 11,3 milyar lira, 2015'te 12,5 milyar lira, 2016'da 13,8 milyar lira, 2017'de 17,9 milyar lira, 2018'de de 25 milyar lira ihracat tutarına ulaşmıştır. Türk el sanatlarının dünya vitrinlerinde yer almasında özellikle bakanlıkların ve kooperatiflerin üreticileri desteklemesi ve bu alanda yapılan tanıtım çalışmaları oldukça önemli bir yere sahiptir.


Bu bilgilere göre aşağıdaki yargılardan hangisine ulaşamaz?

- A) Geleneksel el sanatları ülkemize gelir sağlamaktadır.
B) Devletimiz halkın kültürel mal ihracatına destek vermektedir.
C) 2014 – 2018 yılları arasında kültürel ürün ihracatı sürekli artış göstermiştir.
D) Türkiye'nin ihracat gelirlerinin önemli bir bölümünü kültürel ürünler oluşturmaktadır.

2.



Pusula oldukça eski tarihlerde Çinliler tarafından icat edilmiştir. Daha sonra diğer insan toplulukları da günümüze kadar pusuladan yararlanmışlardır. Böylece pusulayla insanlar gidecekleri yerleri daha kolay bulmuşlardır.



Telefonu İskoçya asıllı Graham Bell icat etmiştir. Kısa zamanda tüm dünyaya yayılarak günümüze kadar gelen telefon insanların daha kolay ve etkin bir şekilde haberleşmesini sağlamıştır.

Bu bilgilere göre ortak miras ile ilgili,

- I. Evrensel değere sahiptir.
- II. Geçmişten geleceğe aktarılmıştır.
- III. Yalnızca ortaya çıktığı topluma aittir.

yargılarından hangilerine ulaşılabilir?

- A) Yalnız I B) I ve II C) II ve III D) I, II ve III

3. Bacasız sanayi olarak da adlandırılan turizm, ülkemizde yapılan ekonomik faaliyetler içinde önemli bir yere sahiptir. Ülkemizdeki doğal güzellikler, tarihî mekânlar, yapıtlar ve nesnelere dünyanın farklı ülkelerinde yaşayan insanların dikkatini çekmektedir. Ülkemizin zenginliklerini yerinde görmek isteyen bu insanlar turist olarak geldikleri yerlerde otellerde konaklayıp, yöresel yemeklerimizin tadına bakmaktadır. Ayrıca bu insanlar Türk insanının yaşamı ve kültürel özellikleri hakkında bilgi edinmektedir.

Bu bilgilere göre,

- I. Turizm ülke ekonomimiz için önemli bir kaynaktır.
- II. Turizm kültürel etkileşimde aktif rol oynamaktadır.
- III. Ülkemizin doğal ve tarihi eserleri turizm sayesinde tanıtılmaktadır.

yargılarından hangilerine ulaşılabilir?

- A) Yalnız I B) I ve II
C) II ve III D) I, II ve III

4. • Ülke halkının kendi ülkesinde yaptığı geziler iç turizm olarak bilinir.
• Turistlerin kendi ülkesi dışına yaptığı geziler ise dış turizm olarak adlandırılır.

Bu bilgiler dikkate alındığında aşağıdakilerden hangisinin diğerlerinden farklı bir turizm türüne örnek olduğu söylenebilir?

- A) Derya Hanım'ın İstanbul'dan Uludağ'a kayak yapmaya gitmesi
B) Yıllık izne çıkan Feriha Hanım'ın tatil için Ankara'dan Antalya'ya gelmesi
C) Tokat'tan yola çıkan Akça ailesinin Trabzon'daki Sümela Manastırını ziyaret etmesi
D) Fatih Bey'in ülkemizin doğal güzelliklerini keşfetmek için Almanya'dan Bartın'a gelmesi



SOSYAL BİLGİLER

HDS

Haftalık Değerlendirme sınavı

Yazılıya Hazırlık Sınavı

2. Dönem / 2. Yazılı

Adı ve Soyadı :

Sınıfı :

Okul Numarası :

KAZANIM: 5.5.4: Temel ihtiyaçları karşılamaya yönelik ürünlerin üretim, dağıtım ve tüketim ağını analiz eder.

- I. Konya'da buğday tarımının yapılması
- II. Un haline getirilen buğdayın İstanbul'a getirilmesi
- III. Yapılan kurabiyelerde ve pastalarda unun kullanılması

Yukarıda verilen faaliyetlerin üretim, dağıtım ve tüketim kavramları ile olan ilişkisini açıklayınız.

KAZANIM: 5.5.5: İş birliği yaparak üretim, dağıtım ve tüketime dayalı yeni fikirler geliştirir.

2. Girişimci kişilerin üç özelliğini yazınız.

1.

2.

3.

KAZANIM: 5.6.4: Millî egemenlik ve bağımsızlık sembollerimizden bayrağımıza ve İstiklal Marşı'na değer verir.

6. Kim bu cennet vatanın uğruna olmaz ki feda?

Şüheda fişkırarak, toprağı sıksan şüheda.

Canı, cananı, bütün varımı alsın da Hüda,

Etmesin tek vatanımdan beni dünyada cüda.

İstiklal Marşımız'ın yukarıda verilen kıtasından hareketle Mehmet Akif ERSOY'un hangi kavrama vurgu yaptığı söylenebilir? Yazınız.

.....

.....

.....

KAZANIM: 5.6.4: Millî egemenlik ve bağımsızlık sembollerimizden bayrağımıza ve İstiklal Marşı'na değer verir.

7. Türkiye'de ulusal egemenliğin yönetime yansıdığı ve yasaların yapıldığı kurumun adını yazınız.

.....

.....

.....

KAZANIM: 5.6.3: Temel hakları ve bu hakları kullanmanın önemini açıklar.

8. Temel hak ve özgürlüklerimizin kısıtlanabileceği durumlara üç örnek veriniz.

1.
2.
3.