

# 7 SINIF

## SOSYAL BİLGİLER

# HDS

Haftalık Değerlendirme sınavı

Adı ve Soyadı :

Sınıfı :

Okul Numarası :

### 1. Sınav

1. ÜNİTE : BİREY VE TOPLUM  
KONU : İletişim Kurarak Anlaşırız

Kazanım 7.1.1. : İletişimi etkileyen tutum ve davranışları analiz ederek kendi tutum ve davranışlarını sorgular.

1. Empati, kişinin kendini başkasının yerine koyarak onun duygu ve düşüncelerini anlamaya çalışmasıdır. Empati kuran kişi kendi duygularından ödün vermez. "Ben onun yerinde olsaydım ne yapardım, ne düşündüm?" sorusu empati sürecini başlatır. Bu süreç çaba gerektirir ve karşımızdaki insanı anlamaya yöneliktir. Empati kurarak olaylara başkalarının bakış açısı ile bakarız.

**Bu anlatıma göre aşağıdaki yargılardan hangisine ulaşılabilir?**

- A) Empati kurmak bir iletişim hatasıdır.
- B) Empati, kişinin kendinden ödün vermesine neden olur.
- C) Empati, çok boyutlu düşünme yeteneğimizi güçlendirir.
- D) Empati kurmak kişiler arasında anlaşmazlıklara neden olur.

2. Sözsüz iletişim,

- Sözlü iletişimin niteliğini etkiler.
- Beden hareketleri, jestler, mimikler, ses tonu, fiziksel görüntü ve kıyafetler gibi sözel olmayan birçok unsuru içerir.

**Buna göre aşağıdakilerden hangisinde sözsüz iletişime örnek olan bir durum söz konusu değildir?**

- A) Selim Bey'in apartmandan çıkarken kapıcıya başını sallaması
- B) Beril Hanım'ın otobüsteki kızına el sallayarak İstanbul'a uğurlaması
- C) Metin Bey'in çok sevdiği yazarın makalesini her sabah gazeteden okuması
- D) Hülya Hanım'ın lideri olduğu partisinin seçim mitinginde onu dinleyenlere elini kalbine götürerek selam vermesi

9. Aşağıda Yûsuf Has Hâcib'in Kutadgu Bilig adlı eserinden iletişim ile ilgili cümleler verilmiştir.

“Sözü söyleyen yanılır ve şaşırır; anlayışlı isterse bunu düzeltir.”

“Çok sözden fazla fayda görmedim amma söylemek de faydasız değildir.”

“İnsan iki şey ile kendini ihtiyarlamaktan kurtarır: Biri iyi iş, diğeri iyi söz.”

“Anlayışlı olan anlar, bilgili olan bilir; bilen ve anlayan her vakit dileğine kavuşur.”

Yûsuf Has Hâcib bu sözleriyle olumlu iletişime katkı sağlayan;

- I. Anlayışlı olmak,
- II. Empati kurmak,
- III. Güzel ve gerektiği kadar konuşmak

unsurlarından hangilerini ön plana çıkarmıştır?

- A) I ve II                      B) I ve III                      C) II ve III                      D) I, II ve III

10. Aşağıda öğretmen ve öğrenciler arasında iletişimi anlatan bir görsel verilmiştir.



Görsele bakılarak doğru ve etkili bir iletişimde aşağıdakilerden hangisinin önemli olduğu söylenemez?

- A) Empati kurmak
- B) Güler yüzlü olmak
- C) Göz teması kurmak
- D) Jest ve mimiklerden yararlanmak

Cevaplarınızı optiğe işaretleyiniz.

Ad Soyad :

1	A	B	C	D
2	A	B	C	D
3	A	B	C	D
4	A	B	C	D
5	A	B	C	D
6	A	B	C	D
7	A	B	C	D
8	A	B	C	D
9	A	B	C	D
10	A	B	C	D

Optik No :   
894

FERNUS

MOD PRO

3. Ben dili, günlük konuşmalarımızda kendi düşüncelerimizi ve duygularımızı birinci tekil şahıs ifadeleriyle belirten konuşma şeklidir. Ben dili, yakınlığı artırıcı, anlaşmazlığı azaltıcıdır.

Sen dili, kişinin karşısındaki kişiyi hedef alarak konuşmasıdır. Kişiyi savunmaya iten sen dili, olumsuz bir iletişim türüdür.

**Buna göre,**

- a) Üzülüyorum.
- b) Sakar şey!
- c) Hoşlanmıyorum.
- d) Ne kadar da kabasın.

**ifadeleri "ben dili" ve "sen dili" ile eşleştirildiğinde aşağıdakilerden hangisi doğru olur?**

	Ben Dili	Sen Dili
A)	b, d	a, c
B)	a, b	c, d
C)	a, c	b, d
D)	c, d	a, b

4. Etkili iletişim kurabilmek için doğru ve etkili konuşmak önemlidir. Konuşurken kullandığımız dil, insanlar arasında anlaşmayı sağlayan en önemli unsurdur. Dil, düşünce dünyamızın somutlaşmasında rol alırken toplumsal anlaşmanın bir ürünü olarak uzlaşma ortamı da yaratır. İnsanlar kullandıkları dil sayesinde kendine toplumda yer edinir.

**Metne göre dilin iletişimdeki rolü ile ilgili,**

- I. İnsanların sosyalleşmesine katkı sağlar.
- II. Toplumda çatışma ortamını güçlendirir.
- III. Fikir dünyasının diğer bireylere aktarılmasını sağlar.

**yargılarından hangilerine ulaşılabilir?**

- A) I ve II
- B) I ve III
- C) II ve III
- D) I, II ve III

5. İletişim insanların bulunduğu her ortamda yer alır. İnsanlar çevrelerinde olup bitenleri anlamak ve bir başkasına anlatabilmek amacıyla iletişim kurarlar. Kurulan iletişim insanın çevreleriyle olan ilişkilerinin seyrinde belirleyicidir.

**Buna göre aşağıdakilerden hangisinde iletişimin seyrinin olumluya gitmesi beklenir?**

- A) Doktor Ayşe Hanım'ın muayeneye gelen hastalarının halini hatırlarını sorması
- B) Aras'ın tuttuğu takım maçı kazanamadı diye çevresine karşı sürekli gergin tavırlar sergilemesi
- C) Uras'ın öğretmenine çözemediği bir soruyu sorması karşısında öğretmenin Uras'ı umursamaması
- D) Mert'in aldığı ders notunu annesine söylediğinde "Zaten ne zaman yüksek not aldın ki!" karşılığını alması



## SOSYAL BİLGİLER

# HDS

Haftalık Değerlendirme sınavı

Adı ve Soyadı :

Sınıfı :

Okul Numarası :

### 4. Sınav

1. ÜNİTE : BİREY VE TOPLUM

KONU : Özgürüm, Sorumluluklarımın Olduğu Yere Kadar

Kazanım 7.1.4. : İletişim araçlarından yararlanırken haklarını kullanır ve sorumluluklarını yerine getirir.

1. Millî Eğitim Bakanlığı ve RTÜK (Radyo ve Televizyon Üst Kurulu) iş birliğiyle "Medya Okuryazarlığı" projesi hazırlanmış ve uygulamaya konmuştur. Medya okuryazarlığı dersinin amacı öğrencinin medya karşısında pasif bir alıcı olmak yerine medyayı okuyabilecek bilince ulaşmasını sağlamaktır. Aynı zamanda ekranda izlediklerini "gerçeklik" ve "kurgu" bakımından ayırt etme becerisi kazandırmaktır.

**Buna göre aşağıdakilerden hangisi medya okuryazarlığı becerisi edinilmiş bir davranışa örnek gösterilemez?**


- A) Derya'nın yaşına uygun filmleri izlemesi
- B) Selim'in dinlediği radyo programından duyduğu argo kelimeleri günlük hayatta kullanması
- C) İzlediği programda kişilerin özel hayatına saygı duyulmadığını gören Ayşe'nin programı izlemekten vazgeçmesi
- D) Haberlerde paylaşılan bazı sayısal verilerin doğruluğundan emin olamayan Fatih'in bilgilerin kaynağına ulaşarak verileri doğrulaması

2. Demokratik toplumları diğer toplumlardan ayırabilmek için düşünceyi açıklama özgürlüğünü ne derece uygulayabildiklerine bakmak gerekir. İnsanlar, yetiştikleri çevrenin ve aldıkları eğitimin etkisi ile birbirlerinden farklı düşüncelere sahip olabilirler. İnsanlar düşüncelerini serbestçe açıklayabildikleri ortamlarda mutlu olurlar. Böyle ortamlarda saygı kültürü gelişir, toplumsal barış sağlanır. Farklı düşüncelere saygı duyulması toplumlara zenginlik katar.

**Metne göre aşağıdaki yargılardan hangisine ulaşılabilir?**

- A) Farklılıklar toplumsal ayrışmalara neden olur.
- B) Düşünce ve ifade özgürlüğü toplumsal birliğin güçlenmesine katkı sağlar.
- C) Demokrasi ile yönetilen ülkelerin hiçbirinde düşünce özgürlüğü kısıtlanmaz.
- D) Milli birlik ve beraberliğin sağlanabilmesinin tek yolu demokrasiye sahip çıkmaktır.

6.



“Her birey istediğini düşünmek, istediğine inanmak, kendine göre siyasi bir fikre sahip olmak, seçtiği bir dinin gereklerini yerine getirmek veya getirmemek hak ve hürriyetine sahiptir. Kimsenin fikrine, vicdanına egemen olunamaz. Cumhuriyet fikir serbestliği taraftardır. Samimi ve meşru olmak şartıyla her fikre saygı duyulur.”

Atatürk

**Bu sözleriyle Atatürk aşağıdakilerden hangisinin önemini vurgulamıştır?**

- A) İnanç birliğinin  
B) Düşünce özgürlüğünün  
C) Millî bağımsızlığın  
D) Millî egemenliğin

7. Aşağıda basın yayın ilkeleri verilmiştir.

1. Yayınlarda hiç kimse; ırkı, cinsiyeti, yaşı, sağlığı, bedensel özrü, sosyal düzeyi ve dini inançları nedeniyle kınanamaz, aşağılanamaz.
2. Kişilerin özel yaşamı, kamu çıkarlarının gerektirdiği durumlar dışında yayın konusu olamaz.
3. Suçlu olduğu yargı kararıyla belirlenmedikçe hiç kimse “suçlu” ilan edilemez.
4. Şiddet ve zorbalığa özendirici, insani değerleri incitici yayın yapmaktan kaçınılır.

**Örnek Olay:**

Antalya'nın Muratpaşa ilçesinde meydana gelen hırsızlık olayının ardından şüpheliye benzerliğinden dolayı E.D. adlı şahıs gözaltına alındı. Suçlu olduğu düşünülen E.D. yerel televizyon kanalında haberlere konu oldu. E.D., haber kanalımıza yaptığı açıklamada “Olayla hiçbir ilgim yok. Sadece benzerlikten dolayı gözaltına alındım. Asıl suçlu yakalanınca serbest bırakıldım fakat olay daha sonuçlanmadan bir televizyon kanalında fotoğraflarımın gösterilerek suçluymuşum gibi haber yapılması beni mağdur etti. Sokağa çıkamaz oldum.” dedi.

**Buna göre örnek olayda, numaralandırılarak gösterilen basın yayın ilkelerinden hangisine uyulmadığı söylenebilir?**

- A) 1  
B) 2  
C) 3  
D) 4

8. İletişim araçlarını kullanırken sahip olduğumuz bazı haklar vardır. Anayasa tarafından güvence altına alınan bu haklardan bazıları şunlardır:

**Madde 20:** Herkes, özel hayatına ve aile hayatına saygı gösterilmesini isteme hakkına sahiptir.

**Madde 22:** Herkes, haberleşme hürriyetine sahiptir. Haberleşmenin gizliliği esastır.

**Madde 26:** Herkes, düşünce ve kanaatlerini söz, yazı, resim veya başka yollarla tek başına veya toplu olarak açıklama ve yayma hakkına sahiptir.

**Anayasanın bu maddelerine göre aşağıdakilerden hangisi hak ihlaline örnek gösterilebilir?**

- A) Almina'nın okulda yaşanan aksaklıkları okul idaresine bildirmesi  
B) Ali Bey'in kaybolan çocuğunun bulunması için fotoğrafını sosyal medyada paylaşması  
C) Ailesiyle piknik yapan ünlü sanatçı Onur Bey'in habersizce çekilen fotoğraflarının televizyonda yayınlanması  
D) Ece'nin İstanbul'da yaşanan ulaşım sorunları hakkındaki düşüncelerini sosyal medya hesabından paylaşması

# 7 SINIF

## SOSYAL BİLGİLER

# HDS

Haftalık Değerlendirme sınavı

Adı ve Soyadı :

Sınıfı :

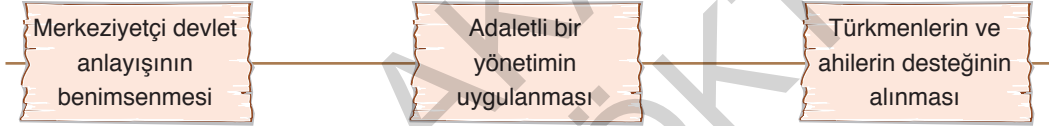
Okul Numarası :

### 5. Sınav

2. ÜNİTE : KÜLTÜR VE MİRAS  
KONU : Osmanlı Devleti'nin Kuruluşu

Kazanım 7.2.1. : Osmanlı Devleti'nin siyasi güç olarak ortaya çıkış sürecini ve bu süreci etkileyen faktörleri açıklar.

1. Aşağıda Osmanlı Devleti'nin kısa sürede güçlenmesine etki eden unsurlar gösterilmiştir.



Buna göre verilen unsurların aşağıdaki alanlardan hangisi ile ilgili olduğu söylenemez?

- A) Ekonomi B) Sosyal C) Hukuk D) Siyasi

2.

"...Osman Gazi 1288'de Karacahisar'ı fethetti ve burayı kendisine merkez edindi. Osmanlı Beyliği'nin ilk merkezi, Eskişehir'e 7 kilometre uzaklıkta, sarp bir tepe üzerinde bulunan ve bugün mevcut olmayan Karacahisar Kalesi'dir. Osman Gazi, bu kaleyi fethederek İznik'ten İstanbul'a giden ana yola da hâkim oldu. Ayrıca Karacahisar'ın fethiyle "tekfur" adıyla anılan Bizans valilerine savaş başlattı ve bölgeyi bir gaza alanı haline getirdi."

Erhan Afyoncu, Sorularla Osmanlı İmparatorluğu s.40

Bu bilgilere göre Osman Bey ile ilgili,

- I. Fetih siyasetini benimsemiştir.  
II. Din uğruna savaflara girişmiştir.  
III. Bizans'taki taht kavgalarından yararlanmıştı.

yargılarından hangilerine ulaşılabilir?

- A) I ve II B) I ve III C) II ve III D) I, II ve III

8. Orhan Gazi zamanında Karesioğulları Beyliği'nin Osmanlı topraklarına katılmasıyla Osmanlı Devleti'nin ilk donanması kurulmuştur. İlk tersane ise I. Bayezid zamanında yapılmıştır. Osmanlı donanması hafif ve manevra gücü fazla olan kadırgalardan oluşurdu. Donanmanın başında bulunan komutana kaptan-ı deryâ denirdi.

**Bu bilgilere göre aşağıdaki yargılardan hangisine ulaşılabilir?**

- A) Osmanlı, denizci bir beylik olarak kurulmuştur.  
B) Osmanlı denizciliği I. Bayezid zamanında altın çağını yaşamıştır.  
C) Osmanlı deniz kuvvetlerinin temeli Karesioğulları Beyliği'ne dayanır.  
D) Osmanlı kara ordusunun en büyük amiri kaptan-ı deryâdır.

9. • Ertuğrul Gazi'nin ölümünden sonra yerine oğlu Osman Gazi geçti. Yaşadıkları bölge Marmara kıyası yakınlarında ve Bizans sınırında yer almaktaydı. Bu dönemde Bizans'ın içinde bulunduğu taht kavgaları ve tekfurların halktan ağır vergiler alması Bizans'ın hâkimiyetini zayıflattı.  
• Türkiye Selçuklu Devleti'nin Moğollara 1243 yılında Köseadağ Savaşı'nda yenilmesi, devletin bölgedeki otoritesini sarsmış ve bundan dolayı birçok Türk beyliği Selçuklu Devleti'nden ayrılarak bağımsızlığını ilan etmişti. Bu beyliklerden biri de Osman Gazi tarafından kurulan Osmanlı Beyliği'dir.

**Bu bilgilerden aşağıdaki yargılardan hangisine ulaşamaz?**

- A) Osman Gazi Dönemi'nde Bizans iç karışıklıklar içinde zayıflamıştır.  
B) Osmanlılar bir dönem Türkiye Selçuklu Devleti'ne bağlı yaşamışlardır.  
C) Osmanlılar Osman Gazi ile birlikte beylikten devlete geçiş yaşamışlardır.  
D) Köseadağ Savaşı Anadolu Türk siyasi birliğinin bozulmasına neden olmuştur.

10. • Kapıkulu ocaklarına asker yetiştiren okuldur.  
• Başkentte huzuru sağlayan, çok iyi silah kullanan ve savaş alanında padişaha hizmet eden askerlerin yetiştiği okuldur.  
• Ordunun silahlarını temin etmek, bu silahların bakım ve tamirini yapmakla görevli askerlerin bulunduğu okuldur.

**Verilen bilgilerle aşağıdaki okullar eşleştirildiğinde hangisi dışta kalır?**

- A) Acemi Ocağı  
B) Yeniçeri Ocağı  
C) Topçu Ocağı  
D) Cebeci Ocağı

**Cevaplarınızı optiğe işaretleyiniz.**

Ad Soyad :

1	A	B	C	D
2	A	B	C	D
3	A	B	C	D
4	A	B	C	D
5	A	B	C	D
6	A	B	C	D
7	A	B	C	D
8	A	B	C	D
9	A	B	C	D
10	A	B	C	D

Optik No :   
898

FERNUS

MOD PRO

3. Aşağıdaki haritada Osman ve Orhan Bey dönemlerinde Osmanlı Devleti'nin sınırları gösterilmiştir.



Haritaya göre Osmanlı Devleti ile ilgili aşağıdaki çıkarımlardan hangisine ulaşılabılır?

- A) Anadolu'yu hâkimiyeti altına almıştır.  
 B) Osman Bey Dönemi'nde Rumeli'ye geçiş sağlamıştır.  
 C) Zaman içinde bir kara devleti olmaktan çıkarak denizlere ulaşmıştır.  
 D) Orhan Bey Dönemi'nde Anadolu ve Rumeli toprak bütünlüğünü sağlamıştır.

4. Balkanlarda belirli bir plan dâhilinde ilerlemeye devam eden I. Murad, Bizans'a karşı giriştiği Sazlıdere Savaşı'nı kazanarak Edirne'yi fethetti. Yine bu dönemde Haçlılar Sırp Sındığı Savaşı'nda yenilgiye uğratıldı. Bu savaşın sonucunda Bizans İmparatorluğu vergiye bağlanırken Edirne, Osmanlı Devleti'nin yeni başkenti oldu.

**Buna göre, I. Murad Dönemi'nde takip edilen fetih siyasetinin sonuçları ile ilgili,**

- I. Siyasi ve ekonomik gücünü artırmıştır.  
 II. Anadolu Türk siyasi birliğini sağlamıştır.  
 III. Topraklarını Avrupa yönünde genişletmiştir.

**yargılarından hangilerine ulaşılabilir?**

- A) I ve II  
 B) I ve III  
 C) II ve III  
 D) I, II ve III

5. Yıldırım Bayezid, Osmanlı Dönemi'nde İstanbul'u ilk kez kuşattı. İstanbul kuşatması sırasında Bizans'a gelebilecek yardımları engellemek için Anadolu Hisarı'nı yaptırdı. İstanbul kuşatmasını fırsat bilen Haçlılar Niğbolu Kalesi'ne saldırınca Yıldırım Bayezid, İstanbul kuşatmasını kaldırarak Niğbolu'ya sefer düzenledi. Niğbolu Savaşı'nı Yıldırım Bayezid kazandı. Böylece Türklerin Balkanlardan atılamayacağı bir kez daha ispatlandı. Zaferden dolayı Abbasi Halifesi, Yıldırım Bayezid'e "Rum Diyarının Sultanı" ünvanını verdi.

**Bu bilgiye göre Yıldırım Bayezid Dönemi ile ilgili aşağıdakilerden hangisi söylenebilir?**

- A) Halifelik Osmanlı Devleti'ne geçmiştir.  
 B) Balkanlardaki Osmanlı hâkimiyeti kesinleşmiştir.  
 C) Bizans'ın siyasi varlığına son verilmek istenmiştir.  
 D) İstanbul'un fethi için teknolojik hazırlıklara girişilmiştir.



# 7 SINIF

## SOSYAL BİLGİLER

# HDS

Haftalık Değerlendirme sınavı

Adı ve Soyadı :

Sınıfı :

Okul Numarası :

### 8. Sınav

2. ÜNİTE : KÜLTÜR VE MİRAS  
KONU : Osmanlı Devleti'nin Fetih Siyaseti

Kazanım 7.2.2. : Osmanlı Devleti'nin fetih siyasetini örnekler üzerinden analiz eder.

1. Aşağıda İstanbul'un fethini zorunlu kılan nedenler verilmiştir.

- İstanbul'un kara ve deniz ticaret yolları üzerinde önemli bir konuma sahip olması
- Bizans İmparatorluğu'nun Avrupa devletlerini Osmanlı Devleti'ne karşı kıskırtması
- Hazreti Muhammed'in (s.a.v) "İstanbul elbette feth olunacaktır. Onu fetheden kumandan ne güzel kumandan, onu fetheden asker ne güzel askerdir." hadisinde İstanbul'u fethedecek komutanı ve askerleri övmesi

Buna göre, İstanbul'un fethini zorunlu kılan bu nedenlerin siyasi, dini ve ekonomik alanlarıyla olan ilişkisi aşağıdakilerden hangisinde doğru verilmiştir?

	Siyasi	Dini	Ekonomik
A)	I	II	III
B)	II	III	I
C)	III	I	II
D)	II	I	III

2. II. Mehmet, İstanbul'un fethi için bazı hazırlıklara girişmiştir. Bu hazırlıkların başlıcaları şunlardır:

- 400 parçalık bir donanma oluşturdu.
- Anadolu Hisarı'nın karşısına Rumeli Hisarı'nı yaptırdı.
- Bizans'a Avrupa'dan yardım gelmesini engellemek için bazı Avrupa ülkeleri ile anlaşmalar yaptı.

Bu bilgilere göre II. Mehmet'in İstanbul'u fethedebilmek için;

- Mimari,
- Askeri,
- Diplomatik

alanlarından hangilerinde hazırlık yaptığı söylenebilir?

- A) I ve II  
B) I ve III  
C) II ve III  
D) I, II ve III



## SOSYAL BİLGİLER

# HDS

Haftalık Değerlendirme sınavı

Yazılıya Hazırlık Sınavı

1. Dönem / 1. Yazılı

Adı ve Soyadı :

Sınıfı :

Okul Numarası :

**KAZANIM:** 7.1.2: Olumlu iletişim yollarını kullanır.

### 1. Diyalog 1:

Kerem: Sosyal bilgiler dersinde tuttuğun notlarını verebilir misin?

Hilmi: Hayır, her zaman tembellik ediyorsun.

### Diyalog 2:

Gülşah: Türkçe yazılısından en yüksek puanı ben aldım biliyor musun?

Duygu: Sen Ela'nın bana aldığı doğum günü hediyesini gördün mü?

Verilen diyaloglarda iletişimi olumsuz yönde etkileyen davranışların neler olduğunu yazınız.

1. Diyalogda İletişimi Olumsuz Etkileyen Davranış: .....

2. Diyalogda İletişimi Olumsuz Etkileyen Davranış: .....

**KAZANIM:** 7.1.2: Olumlu iletişim yollarını kullanır.

2. İletişim kurulan kişiyi; yargılamadan, sözünü kesmeden, o kişiyle göz teması kurarak, anlatılmak isteneni tam ve doğru biçimde almaya etkin dinleme denir.

Buna göre etkin bir dinleyiciden beklenen davranışlara üç örnek veriniz.

1. ....

2. ....

3. ....

**KAZANIM:** 7.2.1: Osmanlı Devleti'nin siyasi güç olarak ortaya çıkış sürecini ve bu süreci etkileyen faktörleri açıklar.

9. Tımar, Osmanlı Devleti'nde çok uzun seneler boyunca uygulanmış olan toprak ve vergi sistemidir. Bu sisteme göre devlet, mülkiyetinde olan toprakların gelirinin bir kısmını maaş karşılığı olarak bazı asker ve memurlara bırakırdı. Bir diğer deyişle devlet, kendisi için çalışan kişilere maaş yerine toprak verirdi ve bu toprakları işletmelerini isterdi.

**Bu bilgiye göre, tımar sisteminin Osmanlı Devleti'ne sağladığı faydalar nelerdir? Kısaca açıklayınız.**

**KAZANIM:** 7.2.2: Osmanlı Devleti'nin fetih siyasetini örnekler üzerinden analiz eder.

10. Aşağıda İstanbul'un fethedilmek istenmesinin nedenleri verilmiştir.

- Bizans'ın Osmanlı şehzadelerini kışkırtması
- Bizans'ın Osmanlı toprak bütünlüğünü bozması
- İstanbul'un önemli ticaret yolları üzerinde bulunması

**Verilen nedenlere bakıldığında Osmanlı Devleti'nin İstanbul'u alarak hangi alanlarda avantaj elde etmek istediğini yazınız.**

(Her soru 10 puandır. Başarılar dileriz.

Sosyal Bilgiler Zümresi)

Örnek Akademi / 7. Sınıf



## SOSYAL BİLGİLER

# HDS

Haftalık Değerlendirme sınavı

Yazılıya Hazırlık Sınavı

1. Dönem / 1. Yazılı

Adı ve Soyadı :

Sınıfı :

Okul Numarası :

**KAZANIM:** 7.1.2: Olumlu iletişim yollarını kullanır.

- Sen bu işi beceremezsin anne kuzusu.  
• Elindeki telefonu hemen bırak.  
• Ödevlerini zamanında yapmazsan hafta sonu dışarı çıkmayı unut.

**Yukarıdaki ifadeler iletişimi olumsuz etkileyen unsurlardan hangilerine örnek oluşturur? Açıklayınız.**

**KAZANIM:** 7.2.1: Osmanlı Devleti'nin siyasi güç olarak ortaya çıkış sürecini ve bu süreci etkileyen faktörleri açıklar.

- Osmanlı nüfusunun büyük bölümü köylerde yaşamaktaydı. Köylüler daha çok tahıl, sebze, meyve yetiştirip pazarlarda satarlardı. Konargöçerler ise şehirlerin et, yağ, yoğurt ihtiyaçlarını karşılarlardı. Konargöçerler ayrıca kasaplık, marangozluk ve kale tamirciliği yaparlardı. Vergi ödemeyenler yolların, geçitlerin ve kalelerin korunmasına yardımcı olurlardı.

**Metne bakarak Osmanlı toplumunun hangi alanlara katkı sağladığını yazınız.**

**KAZANIM:** 7.2.1: Osmanlı Devleti'nin siyasi güç olarak ortaya çıkış sürecini ve bu süreci etkileyen faktörleri açıklar.

6. Osmanlı Devleti'nde kazasker, divan toplantılarında büyük davalara bakardı. Ayrıca medreselerde ders veren müderrislerin ve kazalardaki davalara bakan kadıların atamasını yapardı.

**Bu bilgiye göre, kazaskerlerin günümüzdeki bakanlıklardan hangilerinin görevlerini yerine getirdikleri söylenebilir? Yazınız.**

.....

.....

.....

**KAZANIM:** 7.2.1: Osmanlı Devleti'nin siyasi güç olarak ortaya çıkış sürecini ve bu süreci etkileyen faktörleri açıklar.

7. Ertuğrul Gazi'den itibaren Osmanlı sultanları gaza ve cihad anlayışına bağlı hareket ederek fetihler gerçekleştirdiler. İslam dinini korumak ve yaymak amacıyla yapılan savaş anlamına gelen gaza ve cihadı dinî bir görev kabul ettiler. Bu doğrultuda Anadolu'daki Müslüman Türk beylikleri yerine daha çok Bizans ve Balkanlardaki Hristiyan devletlerle mücadele ettiler.

**Buna göre gaza ve cihad anlayışı doğrultusunda gerçekleşen olaylara üç örnek veriniz.**

1. ....
2. ....
3. ....

**KAZANIM:** 7.1.1: İletişimi etkileyen tutum ve davranışları analiz eder.

8. Nasreddin Hoca evin damından düşmüş, acı içinde kıvrılırken yanına gelen komşuları:
- Hocam koca adamsın, dikkatli olsan düşmezdin. Düştün bari biraz dayan. Neden bu kadar söylenip duruyorsun, demişler.
- Hoca: - Siz hiç damdan düştünüz mü? diye sormuş.
- Komşular hep bir ağızdan: -Hayır demişler.
- Hoca: -Öyleyse siz gidin de damdan düşen birisi gelsin benim yanıma, demiş.

**Buna göre Nasreddin Hoca'nın etkili iletişimde önemli bir yere sahip olan kavramlardan hangisine dikkat çektiği söylenebilir? Yazınız.**

.....

.....

.....

3. Osmanlı Devleti'nde III. Selim Dönemi'nde,

Avrupa tarzında yeni bir ordu kuruldu.

Fransızca, okullarda yabancı dil ilan edildi.

Avrupa başkentlerinde daimi elçilikler kuruldu.

Yapılan bu yeniliklere göre III. Selim Dönemi ile ilgili aşağıdaki yargılardan hangisine ulaşılabılır?

- A) Batılılaşma çalışmalarına hız verilmiştir.  
 B) Gelir gider dengesi kurulmaya çalışılmıştır.  
 C) Halkın yönetime katılımı sağlanmak istenmiştir.  
 D) İletişim ve haberleşme alanında yeniliklere girilmiştir.

4. Osmanlı Devleti'nin telgraf teknolojisi ile tanışması, Kırım Savaşı (1854-1856) sırasında olmuştur. İngilizler bu savaş sırasında deniz altından bir hat çekip Londra ile Selimiye Kışlası arasında bir iletişim ağı kurmuştur. 1855'te ise Fransızlar, telgraf hatları çekmek için Osmanlı Devleti'ne başvurmuşlardır. Osmanlı Devleti İstanbul-Belgrad telgraf hattının inşa edilmesi projesini Fransızlara vermiştir. Osmanlı Devleti'nde bu projeyi değerlendirmek üzere 1854 yılında bir telgraf komisyonu oluşturulmuştur.

**Bu bilgilerden aşağıdaki yargılardan hangisine ulaşılabılır?**

- A) Osmanlı Devleti, yaptığı savaşları telgraf hatları sayesinde kazanmıştır.  
 B) İletişim ve haberleşme imkânlarının artırılması için özel bir bütçe oluşturulmuştur.  
 C) Osmanlı devlet adamları Avrupalı devletlerle olan diplomatik ilişkileri güçlendirmeye çalışmıştır.  
 D) Avrupalı devletlerin desteği ve katkısı ile iletişim ve haberleşme alanlarında gelişmeler yaşanmıştır.

5. Osmanlı Devleti'nde XIX. yüzyılın ikinci yarısından itibaren yapımına başlanan demir yolları askeri birliklerin bir yerden başka bir yere taşınmasını hızlandırarak ülke içinde çıkan isyanların bastırılmasında ve savaşlarda Osmanlı Devleti'ne kolaylıklar sağlamıştır. Demir yollarının sağladığı ucuz ve kolay ulaşım imkânları bir yandan tarım alanlarının genişlemesini sağlarken bir yanda da çiftçinin ürettiği ürünlerin büyük kentlerdeki ve hatta yurt dışındaki pazarlarda satılmasını sağlamıştır.

**Metne göre demir yolu yapımının Osmanlı Devleti'nde aşağıdakilerden hangisine katkı sağladığı söylenemez?**

- A) Ticaretin gelişmesine  
 B) İhracatın gerçekleşmesine  
 C) Merkezi otoritenin güçlenmesine  
 D) Sanayi alanında atılımlar yapılmasına

9. Aşağıda ünlü seyyah Charles Fellows (Çars Fellov)'ın notlarından bir bölüm verilmiştir.

“Türkler arasında yaşayan birisinin dikkatini çeken temel özellik onların konukseverlikleridir. Bunu, bulunduğum her yerde paşadan dağ başındaki çadırında yaşayan yürüğe kadar herkeste gördüm. Hangi dinden hangi milletten olursa olsun ayırım gözetmeksizin herkesin tek düşüncesi vardır: Yabancıyı doyurmak.”

Charles Fellows (Çars Fellov)

Buna göre Charles Fellows (Çars Fellov), yazdıklarıyla Türk toplumunun aşağıdakilerden hangisine önem verdiğini ifade etmiştir?

- A) Dürüstlüğe  
B) Temizliğe  
C) Misafirperverliğe  
D) Danışarak iş yapmaya

10. Bir yazarın gezip gördüğü yerlerin kültürünü anlattığı eserlerine seyahatname denir.

Buna göre aşağıdaki görsellerden hangisi Osmanlı kültürünü anlatan bir seyahatnamede yer almaz?



Hamam



Hat sanatı



Konak



Origami

Cevaplarınızı optiğe işaretleyiniz.

Ad Soyad :

1	A	B	C	D
2	A	B	C	D
3	A	B	C	D
4	A	B	C	D
5	A	B	C	D
6	A	B	C	D
7	A	B	C	D
8	A	B	C	D
9	A	B	C	D
10	A	B	C	D

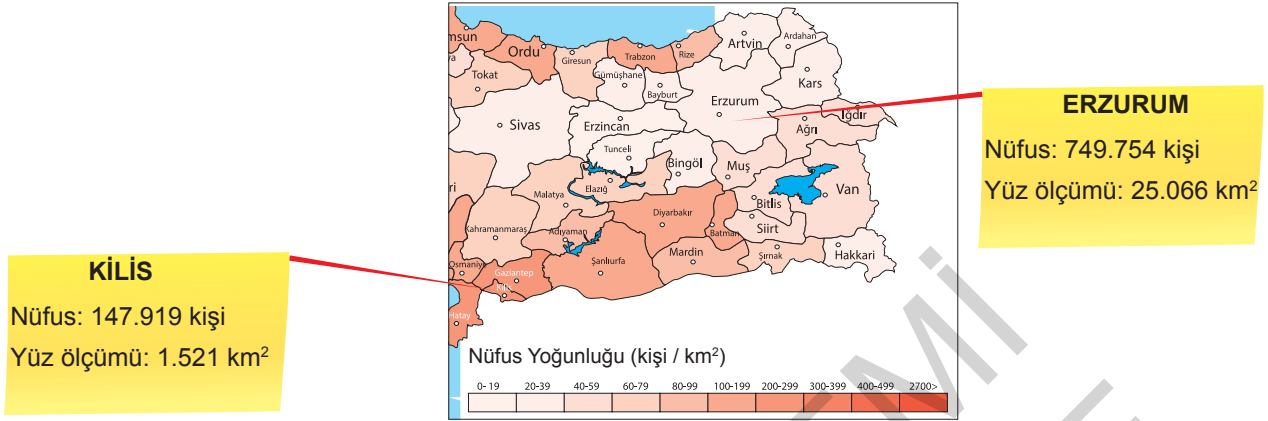
Optik No :

9 0 6

FERNUS

MOD PRO

3. Aşağıdaki haritada ülkemizin bir bölümünün nüfus yoğunluğu ile Kilis ve Erzurum'a ait bazı bilgiler verilmiştir.



Haritaya ve verilen bilgilere göre,

- I. Ülkemizde nüfus yoğunluğu her yerde eşit değildir.
- II. Batman'ın nüfusu Van'ın nüfusundan daha fazladır.
- III. Madencilik faaliyetleri Elazığ'ın nüfus yoğunluğunu artırmıştır.
- IV. Erzurum'un nüfus yoğunluğu Kilis'in nüfus yoğunluğundan daha azdır.

yargılarından hangilerine ulaşılabilir?

- A) I ve IV                      B) II ve III                      C) I, II ve III                      D) II, III ve IV

4. Aşağıdaki tabloda Türkiye'nin 2019-2022 yıllarına ait kadın, erkek ve toplam nüfus miktarı verilmiştir.

YIL	ERKEK	KADIN	TOPLAM
2019	41.721.136	41.433.861	83.154.997
2020	41.915.985	41.698.377	83.614.362
2021	42.428.101	42.255.172	84.680.273
2022	42.704.112	42.575.441	85.279.553

Tabloya göre,

- I. Ülkemizin nüfusu sürekli olarak artmıştır.
- II. Kadın nüfusu erkek nüfusunu hiçbir dönem geçememiştir.
- III. 2021 yılında nüfus bir önceki yıla göre 1 milyonun üzerinde artmıştır.

yargılarından hangilerine ulaşılabilir?

- A) I ve II                      B) I ve III  
C) II ve III                      D) I, II ve III

5. Herhangi bir yerde nüfus artışına bağlı olarak,

- I. Mal ve hizmetlere olan talep artar.
- II. Devletin vergi gelirleri artar.
- III. Doğal kaynaklar hızla tükenir.
- IV. Sağlık ve eğitim hizmetlerinde aksamalar yaşanır.

Buna göre ortaya çıkan bu sonuçlar "olumlu" ve "olumsuz" olarak değerlendirildiğinde aşağıdaki seçeneklerden hangisine ulaşılır?

	Olumlu Sonuçlar	Olumsuz Sonuçlar
A)	I ve II	III ve IV
B)	III ve IV	I ve II
C)	I ve III	II ve IV
D)	II ve IV	I ve III





## SOSYAL BİLGİLER

# HDS

Haftalık Değerlendirme sınavı

Yazılıya Hazırlık Sınavı

1. Dönem / 2. Yazılı

Adı ve Soyadı :

Sınıfı :

Okul Numarası :

**KAZANIM:** 7.2.3: Avrupa'daki gelişmelerle bağlantılı olarak Osmanlı Devleti'ni değişime zorlayan süreçleri kavrar.

1. Skolastik düşünce nedir? Kısaca açıklayınız.

.....

.....

.....

**KAZANIM:** 7.2.4: Osmanlı Devleti'nde ıslahat hareketleri sonucu ortaya çıkan kurumlardan hareketle toplumsal ve ekonomik değişim hakkında çıkarımlarda bulunur.

2. Osmanlı Devleti'nde yaşanan bazı gelişmeler şunlardır:

- İlk Türkçe eser basan matbaanın kurulması
- Tulumbacılar Ocağının kurulması
- Şirket-i Hayriyenin kurulması

**Bu gelişmelerin Osmanlı toplum hayatında ne gibi değişiklikler meydana getirdiğini açıklayınız.**

.....

.....

.....

**KAZANIM:** 7.2.3: Avrupa'daki gelişmelerle bağlantılı olarak Osmanlı Devleti'ni değişime zorlayan süreçleri kavrar.

9. Rönesans nedir? Kısaca açıklayınız.

.....

.....

.....

**KAZANIM:** 7.2.4: Osmanlı Devleti'nde ıslahat hareketleri sonucu ortaya çıkan kurumlardan hareketle toplumsal ve ekonomik değişim hakkında çıkarımlarda bulunur.

10. II. Mahmut Dönemi'nde yapılan ıslahat hareketleri sonucunda;

- Yeniçeri ocağı kaldırılmış, yerine Asakir-i Mansure-i Muhammediye adıyla yeni bir ordu kurulmuştur.
- Takvim-i Vekayi adıyla ilk resmi gazete çıkarılmıştır.
- Divan-ı Hümayun kaldırılmış, yerine nazırlıklar kurulmuştur.
- Yurt dışına ilk defa öğrenci gönderilmiştir.

**Bu bilgilere göre, II. Mahmut Dönemi'nde yapılan yeniliklerin hangi alanlarda değişime neden olduğunu açıklayınız.**

.....

.....

.....

(Her soru 10 puandır. Başarılar dileriz.  
Sosyal Bilgiler Zümresi)

# 7 SINIF

## SOSYAL BİLGİLER

# HDS

Haftalık Değerlendirme sınavı

Adı ve Soyadı :

Sınıfı :

Okul Numarası :

### 19. Sınav

4. ÜNİTE : BİLİM, TEKNOLOJİ VE TOPLUM  
KONU : Geçmişten Günümüze Bilginin Serüveni

Kazanım 7.4.1. : Bilginin korunması, yaygınlaştırılması ve aktarılmasında değişim ve sürekliliği inceler.

1.

“Sümerlerin inançlarına göre tanrılar; yazı, kütüphane ve arşivlerin korunması görevini rahiplere vermişti. Rahipler tapınağa giren ve tapınaktan çıkan mal envanterinin tutulması ile ilgili makbuz ve belgeleri kil tabletlere resmederdi. Örneğin kil tabletlere kazınmış işaretler; hayvan başları, insan şekilleri ve çeşitli eşyaları tasvir etmekteydi. Kil tabletlere; tapınakla ilgili işlerin düzenlenmesi, tarım alanlarının işletilmesini içeren ekonomik belgeler için önemli taşıyıcıları.”

Nuray Yıldız, Eskiçağda Yazı Malzemeleri ve Kitabın Oluşumu, s. 5

**Bu bilgilere göre aşağıdakilerden hangisi Sümerlerin yazıyı kullanmalarının amaçları arasında gösterilebilir?**

- A) Dinî kitapları çoğaltmak
- B) Edebi eserler oluşturmak
- C) Hukuki belgeler oluşturmak
- D) Tapınakların ekonomik kayıtlarını tutmak

2.

Mezopotamya'nın kuzeybatısında yaşayan Fenikeliler, MÖ 1.000'lerde, Sümerlerin yazı sistemi üzerine geliştirdiği sembollere dayanan Fenike alfabesini icat ederek günümüzde kullandığımız alfabenin temellerini attı. Yunanlar, Yunan alfabesini bu sistemden uyarladı. Yunanların geliştirdiği 26 harfli alfabe Romalılar, sonraki yüzyıllarda 21 harfli Latin alfabesine dönüştürdü. Böylece bilginin kalıcılığı için önemli bir adım daha atıldı.

**Bu bilgilere göre aşağıdaki yargılardan hangisine ulaşılabilir?**

- A) Fenikeliler, Mezopotamya uygarlıklarının ilki ve öncüsüdür.
- B) Tarihte bilinen ilk alfabe Sümerler tarafından icat edilmiştir.
- C) Tarih boyunca en çok kullanılan yazı çeşidi Sümer yazısı olmuştur.
- D) Günümüzde kullanılan alfabe farklı uygarlıkların katkıları ile gelişmiştir.

6.

**el-Harezmi (780-850)**

el-Harezmi, coğrafya, astronomi ve matematik alanında çalışmalar yaparak kitaplar yazmıştır. Abbasiler Dönemi'nde Eski Mısır, Mezopotamya, Grek ve Eski Hint medeniyetlerine ait eserlerle zenginleştirilmiş Bağdat Saray Kütüphanesinin idaresinde görevlendirilmiştir. Matematiğin bir dalı olan cebir biliminde yaptığı çalışmalar nedeniyle "cebirin babası" olarak tanınmış, Hint rakamlarını inceleyerek "0" (sıfır) rakamını ilk defa kullanmıştır. Böylece günümüzde kullandığımız onlu sayı sistemi ortaya çıkmıştır. Enlem ve boylam daireleriyle ilgili ölçümler yapan el-Harezmi, Güneş, Ay ve gezegenlerin hareketlerini gözlemlemiştir.

**Bu bilgilere göre el-Harezmi ile ilgili aşağıdakilerden hangisine ulaşılabılır?**

- A) Çalışmalarını kalıcı hale getirmiştir.
- B) Tercüme çalışmalarında bulunmuştur.
- C) Abbasi devlet yönetiminde görev almıştır.
- D) İlk kez İstanbul'un coğrafi koordinatlarını hesaplamıştır.

7. Aşağıdaki tabloda Türk – İslam bilim insanlarının kalem aldığı eserler ve bu eserlerin anlattıkları ile ilgili bilgiler verilmiştir.

Eser	Eserin Özelliği
Kitâbü Mizânî'l-hikme	Bu eserde cisimlerin yeryüzüne doğru çekildikleri (yer çekimi) anlatılmıştır.
el-Kanûn fi't-tıb	Bu eserde insanın anatomik yapısı hakkında bilgi verilmiş ve her bir organın yapısı ayrıntılı olarak incelenmiştir.
el-Mûsîka'l-kebîr	Bu eserde musiki teorileri anlatılmıştır.

**Bu bilgilere göre Türk – İslam bilginlerinin aşağıdaki alanlardan hangisine katkı sağladıkları söylemez?**

- A) Sosyal bilimler
- B) Tıp
- C) Fizik
- D) Müzik

8.



**Kâtip Çelebi**

- 1608'de İstanbul'da doğdu.
- Batı'daki bilimsel gelişmeleri takip edip pek çok tercüme yaptı.
- 1648'de Cihannüma adıyla Osmanlı Devleti'nin üç kıtadaki konumu, şehir ve kasabaları hakkında bilgiler içeren eserini yazdı.
- 1656'da tamamladığı Deniz Seferleri Hakkında Büyük Hediye adlı eseri İngiltere ve Fransa tarafından tercüme edildi.

**Görsele bakılarak Kâtip Çelebi ile ilgili aşağıdaki çıkarımlardan hangisine ulaşılamaz?**

- A) Çeviri çalışmaları yapmıştır.
- B) 16. yüzyılda yaşamış bilim insanıdır.
- C) Yazdığı eserlerle batı dünyasının dikkatini çekmiştir.
- D) Bilgilerini yazdığı coğrafya kitabı ile kalıcı hale getirmiştir.

9.

## SKOLASTİK DÜŞÜNCE

Özgür düşünceyi yasaklayarak bilimsel gelişmelerin önünü kapatan skolastik düşünce, kilisenin dediği her şeyi doğru olarak kabul eder. Bu düşünce sistemine göre deney ve gözlem yapmaya gerek yoktur.

Bu bilgiye göre skolastik düşünce ile ilgili aşağıdaki yargılardan hangisine ulaşamaz?

- A) Fikir serbestliği yoktur.  
 B) Kilise otoritesi güçlüdür.  
 C) Amacı yeni bilgiler ortaya çıkarmaktır.  
 D) Bilginin doğruluğunu kanıtlamak mümkün değildir.

10.

<b>Tanım:</b>	Deneye, gözleme, araştırma ve eleştiriye kapalı, herhangi bir dini inanç veya felsefeye dayalı düşünce sistemine dogmatik düşünce denir.
<b>Durum:</b>	Orta Çağ boyunca Avrupa'ya dogmatik düşünce hâkim olmuştur.

Tanım ve durum birlikte değerlendirildiğinde Orta Çağ Avrupası ile ilgili,

- I. Bilimsel gelişmelere kapalıdır.  
 II. Dini öğretilerin etkisi altındadır.  
 III. Özgür düşünce ortamına sahiptir.

yargılarından hangilerine ulaşılabilir?

- A) I ve II  
 B) I ve III  
 C) II ve III  
 D) I, II ve III

Cevaplarınızı optiğe işaretleyiniz.

Ad Soyad :

1	A	B	C	D
2	A	B	C	D
3	A	B	C	D
4	A	B	C	D
5	A	B	C	D
6	A	B	C	D
7	A	B	C	D
8	A	B	C	D
9	A	B	C	D
10	A	B	C	D

Optik No :

9 1 5

FERNUS

MOD PRO

3.

## Sanayi İnkılabı Öncesi

- Atölye tipi üretim vardır.
- Çalışma ve yaşam alanları birbirlerinden ayrılmamakla birlikte, çalışma zamanları kesin sınırlarla belirlenmemiştir.
- Belirli bir iş alanında uzmanlaşmaya ihtiyaç duyulmamıştır.
- Çalışanlar usta, kalfa ve çırak şeklinde sınıflanmıştır.
- El emeğine dayanan ve iş bölümü gerektiren bir üretim söz konusudur.

## Sanayi İnkılabı Sonrası

- Atölye tipi üretim yoktur.
- İnsan gücüne dayalı üretim tarzından makine gücünün hâkim olduğu üretim tarzına geçilmiştir.
- Belli bir alanda uzmanlaşmış olmak aranan bir niteliğe dönüşmüştür.
- Eğitimli ve hünerli iş gücü değer kazanmıştır.
- Yeni teknolojik aletler ve buluşlar ile üretim hızı artmıştır.

Tablodaki bilgilere göre,

- Sanayi İnkılabı ile üretim şekli değişmiştir.
- Sanayi İnkılabı ile birlikte nitelikli insan gücüne ihtiyaç artmıştır.
- Sanayi İnkılabı öncesindeki üretimde kas gücü önemli bir yere sahiptir.

yargılarından hangilerine ulaşılabilir?

- A) I ve II                      B) I ve III                      C) II ve III                      D) I, II ve III

4. Buhar makinelerinin yaygınlaşması, kömür madenine duyulan ihtiyacı arttırdı. Çünkü bu makineler kömürle çalışıyordu. Sanayinin en önemli ham maddesi demir madeni idi. Makinelerin yapımı için demir madeni kullanılıyordu. Kömür, demir sanayisi için de önemli bir enerji kaynağıydı.

**Bu bilgilere göre, üretim teknolojisindeki gelişmelerle ilgili aşağıdakilerden hangisi söylenebilir?**

- A) Yer altı kaynaklarına olan ilgiyi artırmıştır.  
 B) Sosyal hayatta değişikliklere neden olmuştur.  
 C) Ulaşım araçlarının çeşitlenmesini sağlamıştır.  
 D) Ülkeler arasında ve pazar rekabetini hızlandırmıştır.

5. Eskiden tarım yapılırken ilkel ziraat araçlarının kullanımı için en çok insan ve hayvan gücüne ihtiyaç duyuluyordu. Günümüzde ise teknolojisi yüksek tarım aletleri yaygın bir şekilde kullanılmaktadır.

**Bu bilgiye göre, aşağıdakilerden hangisi üretim teknolojisindeki gelişmelerin günümüze yansımaları arasında gösterilemez?**

- A) Üretimin artması  
 B) İş gücüne duyulan ihtiyacın azalması  
 C) İş birliğine duyulan ihtiyacın artması  
 D) Kırsal kesimlerde işsizliğin ortaya çıkması

# 7 SINIF

## SOSYAL BİLGİLER

# HDS

Haftalık Değerlendirme sınavı

Yazılıya Hazırlık Sınavı

2. Dönem / 1. Yazılı

Adı ve Soyadı :

Sınıfı :

Okul Numarası :

**KAZANIM:** 7.3.1: Geçmişten günümüze, yerleşmeyi etkileyen faktörler hakkında çıkarımlarda bulunur.

1. Yolların kavşak noktalarında bulunan yerlerin yerleşim için tercih edilmesinde etkili olan beşerî faktörün adını yazarak, bu faktörün sağladığı avantajları açıklayınız.

.....

.....

.....

**KAZANIM:** 7.3.1: Geçmişten günümüze, yerleşmeyi etkileyen faktörler hakkında çıkarımlarda bulunur.

2.



Yukarıdaki görsellerde yerleşmeyi etkileyen faktörlerden hangileri yer almaktadır? Yazınız.

.....

.....

.....

**KAZANIM:** 7.4.2: Türk-İslam medeniyetinde yetişen bilginlerin bilimsel gelişme sürecine katkılarını tartışır.

3. • Tıp, felsefe, matematik, astronomi, kimya gibi farklı bilim dallarında iki yüzden fazla eser verdi.
- Avrupa'da "Avicenna" adıyla tanındı ve "El-Kanun fi't-Tıb" (Tıbbın Kanunu) isimli eseri 17. yüzyıla kadar tıp eğitiminde kullanıldı.
- Mikroskop keşfedilmeden önce mikropların hastalıklara neden olduğunu buldu.

**Hakkında bilgi verilen Türk-İslam bilim insanının ismini yazınız.**

**KAZANIM:** 7.3.2: Türkiye'de nüfusun dağılışını etkileyen faktörlerden hareketle Türkiye'nin demografik özelliklerini yorumlar.

4. **Nüfus sayımı ile nüfusun tespit edilen üç özelliğini yazınız.**

1. ....
2. ....
3. ....

**KAZANIM:** 7.5.1: Üretimde ve yönetimde toprağın önemini geçmişten ve günümüzden örneklerle açıklar.

5. Osmanlı Devleti'nde uzun yıllar uygulanan tımar sistemine göre toprak, mazeretsiz olarak arka arkaya üç yıl boş bırakılırsa tımar devlet tarafından geri alınır.

**Tımar sistemindeki bu uygulamanın nedenini kısaca açıklayınız.**



# 7 SINIF

## SOSYAL BİLGİLER

# HDS

Haftalık Değerlendirme sınavı

Adı ve Soyadı :

Sınıfı :

Okul Numarası :

## 28. Sınav

**6. ÜNİTE** : ETKİN VATANDAŞLIK  
**KONU** : Demokrasinin Serüveni

**Kazanım 7.6.1.** : Demokrasinin ortaya çıkışını, gelişim evrelerini ve günümüzde ifade ettiği anlamları açıklar.

1. Atatürk, Vatandaş İçin Medeni Bilgiler adlı kitabında demokrasiyi şu şekilde açıklamaktadır:

“Demokrasi temeline dayalı hükûmetlerde egemenlik; halka, halkın çoğunluğuna aittir. Demokrasi ilkesi egemenliğin millette olduğunu, başka yerde olmayacağını gerekli bulur. Bu bakımdan demokrasi ilkesi, siyasi kuvvetin, egemenliğin kaynağına ve yasallığına değinmektedir.”

**Atatürk bu açıklaması ile demokrasinin aşağıdaki ilkelerinden hangisinin önemini vurgulamıştır?**

- A) Eşitlik
- B) Çoğulculuk
- C) Millî egemenlik
- D) Hukukun üstünlüğü

2. MS 1215'te İngiltere'de kral ile soylular arasında imzalanan Magna Carta Libertatum (Magna Karta Libertatum) ile kralın yetkileri ilk defa sınırlandırılmıştır.

**Buna göre Magna Carta ile,**

- I. Halk yönetime hâkim olmuştur.
- II. Demokrasi yolunda adım atılmıştır.
- III. Monarşi yönetiminin gücü kısıtlanmıştır.

**yargılarından hangilerine ulaşılabilir?**

- A) I ve II
- B) I ve III
- C) II ve III
- D) I, II ve III

6. Aşağıda Millî Mücadele Dönemi'nde alınan bazı kararlar verilmiştir.

Amasya Genelgesi
"Vatanın bütünlüğünü, milletin bağımsızlığını yine milletin azim ve kararı kurtaracaktır."

Erzurum Kongresi
"Millî kuvvetleri etkin, millî iradeyi hâkim kılmak esastır."

TBMM
"Egemenlik kayıtsız şartsız milletindir."

Alınan bu kararlar aşağıdakilerden hangisine verilen önemi gösterir?

- A) Millî kültüre  
B) Millî egemenliğe  
C) Millî bağımsızlığa  
D) Ülke bütünlüğüne

7.

I.

Halkın, seçme ve seçilme gibi karar alma süreçlerinde yer alması, alınan kararları denetlemesi ve gerektiğinde alınan kararları değiştirmek için yeniden oylamaya katılmasıdır.

II.

Bir konuda karar alınırken çoğunluğun aldığı kararların kabul edilmesi ve azınlıkta kalanların haklarına ve fikirlerine saygı duyulup önem verilmesidir.

III.

Demokratik yönetimlerde egemenlik millete aittir. Millet sahip olduğu bu hakkı, seçtiği milletvekilleri aracılığıyla kullanır.

Yukarıdaki ifadelerle demokrasinin temel ilkeleri aşağıdakilerin hangisinde doğru olarak eşleştirilmiştir?

	Millî Egemenlik	Katılım	Çoğulculuk
A)	I	II	III
B)	II	III	I
C)	III	I	II
D)	I	III	II

8.

İttihat ve Terakki Partisinin baskıları sonucu II. Abdülhamit, 1908 yılında Meşrutiyet'i ilan ederek meclisi tekrar açmıştır. II. Meşrutiyet'in ilanına karşı çıkanlar, İstanbul'da 13 Nisan 1909 tarihinde bir isyan başlatmıştır. Tarihe "31 Mart Olayı" olarak geçen bu isyanı, Selânik'ten gelen ve kurmay başkanlığını Mustafa Kemal'in yaptığı Hareket Ordusu bastırmıştır. Bu olaydan sonra II. Abdülhamit, tahttan indirilerek yerine V. Mehmet Reşat getirilmiştir.

Bu bilgilere göre aşağıdaki yargılardan hangisine ulaşılabılır?

- A) Meşrutiyet karşıtları amaçlarına ulaşmışlardır.  
B) Osmanlı Devleti'nde demokrasi karşıtı olaylar yaşanmıştır.  
C) 31 Mart Olayı ile Osmanlı Devleti'nin siyasi varlığı sona ermiştir.  
D) 31 Mart Olayı, Osmanlı Devleti'nde hanedan değişikliğine neden olmuştur.

9. Aşağıda Mustafa Kemal Atatürk'ün değişik yer ve zamanlarda söylediği sözleri yer almaktadır.

"Vatanın kurtuluşu, milletin oy ve idaresi kendi alın yazısı üzerinde kayıtsız şartsız hâkim olduğu zaman başlamış ve ancak milletin vicdanından doğan ordularla olumlu ve kesin neticelere ermiştir."

"Türkiye halkı, asırlardan beri hür ve bağımsız yaşamış ve bağımsızlığı bir yaşama gereği saymış bir milletin kahraman evlatlarıdır. Bu millet bağımsızlıktan uzak yaşamamıştır, yaşayamaz ve yaşamayacaktır."

"Millî egemenlik esasına dayanan ve bilhassa cumhuriyet idaresine sahip bulunan memleketlerde siyasi partilerin varlığı tabiidir. Türkiye Cumhuriyeti'nde de birbirini denetleyen partilerin doğacağına şüphe yoktur."

Ayşe, bu sözlerin demokrasinin hangi özelliğini yansıttığını aşağıdaki tabloda işaretlemek istemektedir.

Millî irade	Çoğulculuk	Eşitlik	Millî bağımsızlık
1	2	3	4

Buna göre Ayşe'nin tabloda numaralandırılarak verilen özelliklerden hangilerini işaretlemesi gerekir?

- A) 1 ve 2                      B) 3 ve 4                      C) 1, 2 ve 4                      D) 2, 3 ve 4

10. Sosyal devletin amacı, toplumda farklı refah düzeyine sahip vatandaşlar arasındaki bu farklılıkları gidermek ve gerçekleştirilen sosyal devlet politikalarıyla kötü ekonomik ve sosyal koşullar altında bulunan bireyleri korumaktır. Bu kapsamda sosyal devlet; eğitim, sağlık, iskân ve konut hizmetleri, toplum kalkınması, sosyal güvenlik, emeğin korunması ve boş zamanların değerlendirilmesi gibi sosyal fayda sağlayan hizmetleri yerine getirmektedir.

Buna göre aşağıdaki uygulamalardan hangisinin sosyal devlet anlayışı ile çeliştiği söylenebilir?

- A) İhtiyaç sahiplerine yardım edilmesi  
B) Herkesten aynı oranda vergi alınması  
C) Vatandaşların yaşam standardının yükseltilmesi  
D) Eğitim ve sağlık hizmetlerinin ücretsiz olarak sunulması

Cevaplarınızı optiğe işaretleyiniz.

Ad Soyad :

1	A	B	C	D
2	A	B	C	D
3	A	B	C	D
4	A	B	C	D
5	A	B	C	D
6	A	B	C	D
7	A	B	C	D
8	A	B	C	D
9	A	B	C	D
10	A	B	C	D

Optik No :

9 2 2

FERNUS

MOD PRO

# 7 SINIF

## SOSYAL BİLGİLER

# HDS

Haftalık Değerlendirme sınavı

Adı ve Soyadı :

Sınıfı :

Okul Numarası :

### 31. Sınav





7. ÜNİTE : KÜRESEL BAĞLANTILAR  
KONU : Yurtta Barış, Dünyada Barış / Biz de Varız

Kazanım 7.7.1. : Türkiye'nin üyesi olduğu uluslararası kuruluşlara örnekler verir.

Kazanım 7.7.2. : Türkiye'nin ilişkide olduğu ekonomik bölge ve kuruluşları tanıır.

1. Dünyada kalıcı bir barışın sağlanmasında öncü olan ülkemiz, ortak değerleri geliştirmek için uluslararası roller üstlenmiştir.

Aşağıdakilerden hangisi Türkiye'nin rol üstlendiği uluslararası teşkilatlardan biri değildir?

- A)  Birleşmiş Milletler
- B)  Dünya Sağlık Örgütü
- C)  İslam İş Birliği Teşkilatı
- D)  Avrupa Birliği

2.



İkinci Selim Dönemi'nde inşa edilen Selimiye Cami, Mimar Sinan tarafından yapılmıştır. Bu eser, 2011 yılında Birleşmiş Milletler Teşkilatı tarafından "Dünya Mirası Listesi" ne eklendi.

Buna göre, ülkemizde Birleşmiş Milletler Teşkilatının aşağıdaki alt teşkilatlarından hangisinin faaliyet yürüttüğü söylenebilir?

- A) UNESCO (Birleşmiş Milletler Eğitim, Bilim ve Kültür Örgütü)
- B) WHO (Dünya Sağlık Örgütü)
- C) FAO (Gıda ve Tarım Örgütü)
- D) UNICEF (Birleşmiş Milletler Çocuklara Yardım Fonu)

6.



Ayten Öğretmen

Sevgili çocuklar! Çevreyi koruma bilincine sahip bireyler olursak küresel sorunlardan ve olumsuzluklardan dünyamızı korumuş oluruz. Peki, çevreyi koruma bilincine sahip kişiler nasıl davranmalıdır?

Ayten Öğretmen, öğrencilerinden çevreyi koruma bilincine uygun davranışları örneklendirmelerini istemiştir.

**Buna göre aşağıdaki öğrencilerden hangisinin doğru örneklendirme yaptığı söylenemez?**

A)



Çiftçilerimiz ürün yetiştirirken ilaçlama için kimyasal kullanmamalıdır.

B)



Atıklarımızı geri dönüşüme kazandırmalıyız.

C)



Sivil toplum örgütlerini kullanarak insanların bu konuda bilinçlenmeleri için çalışmalıyız.

D)



Ev ısıtmalarında eskiden kullanıldığı gibi kömür sobalarının yaygınlaştırılmasını sağlamalıyız.

7.

- ▶ Ağaçlandırma çalışmaları yapılmalıdır.
- ▶ İnsanlar bilinçlendirilmelidir.
- ▶ Küresel iş birliğinden uzak durulmalıdır.
- ▶ Geri dönüşüm ürünleri tercih edilmemelidir.
- ▶ Toplu taşıma kullanımı artırılmalıdır.
- ▶ Yenilenebilir enerji kaynakları tercih edilmelidir.

**Yukarıda verilenlerden kaç tanesi küresel iklim değişikliğinin zararlarını azaltmak amacıyla alınacak önlemler arasında yer alır?**

- A) 1      B) 2      C) 3      D) 4

8.

Aşağıdaki cümlelerde doğru olanlara "✓", yanlış olanlara "X" işareti konmuştur.

		D	Y
I.	Atmosferde salınan gazların sera etkisi yapması sonucu iklim değişiklikleri yaşanmaktadır.	✓	
II.	Fosil yakıt kullanımı küresel ısınmayı tetiklemektedir.		X
III.	İklim değişiklikleri, göçler ve açlık ulusal sorunlarımızdan bazılarıdır.	✓	
IV.	Küresel sorunlara karşı dünya ülkeleri iş birliği içinde olmalıdır.	✓	

**Buna göre kaç numaralı cümlelerde hata yapıldığı söylenebilir?**

- A) I ve II      B) I ve III  
C) II ve III      D) III ve IV

**7** SINIF

**SOSYAL BİLGİLER**

**HDS**

Haftalık Değerlendirme sınavı

Yazılıya Hazırlık Sınavı

2. Dönem / 2. Yazılı

Adı ve Soyadı :

Sınıfı :

Okul Numarası :

**KAZANIM:** 7.5.4: Tarih boyunca Türklere meslek edindirme ve meslek etiği kazandırmada rol oynayan kurumları tanıtır.

1. Türk-İslam devletlerinde nitelikli insan yetiştirmek ve meslek sahibi insanlarda bulunması gereken özellikleri kazandırmak için açılan kurum ve teşkilatlara üç örnek veriniz.

1. ....
2. ....
3. ....
4. ....

**KAZANIM:** 7.7.1: Türkiye'nin üyesi olduğu uluslararası kuruluşlara örnekler verir.

2.



**Kuruluş Tarihi:** 1945

**Merkezi:** New York

**Amacı:** Uluslararası barışı korumak

Hakkında bilgi verilen uluslararası kuruluşun adını yazınız.

- .....
- .....
- .....

**KAZANIM:** 7.6.2: Atatürk'ün Türk demokrasisinin gelişimine katkılarını açıklar.

9. Atatürk Dönemi'nde Türkiye'de kurulan siyasi partilerin isimlerini yazınız.

.....

.....

.....

**KAZANIM:** 7.6.3: Türkiye Cumhuriyeti Devleti'nin temel niteliklerini toplumsal hayattaki uygulamalarla ilişkilendirir.

10. Vatandaşların belirli bir yaşam seviyesinin altına düşmeden yaşayabilmesi ve sosyal ekonomik haklarla desteklenmesi temeli üzerine kurulmuştur. Bunun için de devlet; ihtiyacı olan ve çalışamayacak durumdaki vatandaşların ihtiyaçlarını karşılar, çalışan kesimin haklarını yasalar aracılığı ile korur. Sosyal güvenlik, sağlık ve eğitim gibi hizmetler, devlet güvencesi ile yapılır ve bu hizmetlerden herkes yararlanabilir.

**Metinde hangi devlet anlayışı anlatılmaktadır? Yazınız.**

.....

.....

.....

(Her soru 10 puandır. Başarılar dileriz.  
Sosyal Bilgiler Zümresi)