



MEB
Örnek Sorularına
Benzer

SOSYAL BİLGİLER

BİREY VE TOPLUM

ÜDS



Adı ve Soyadı :

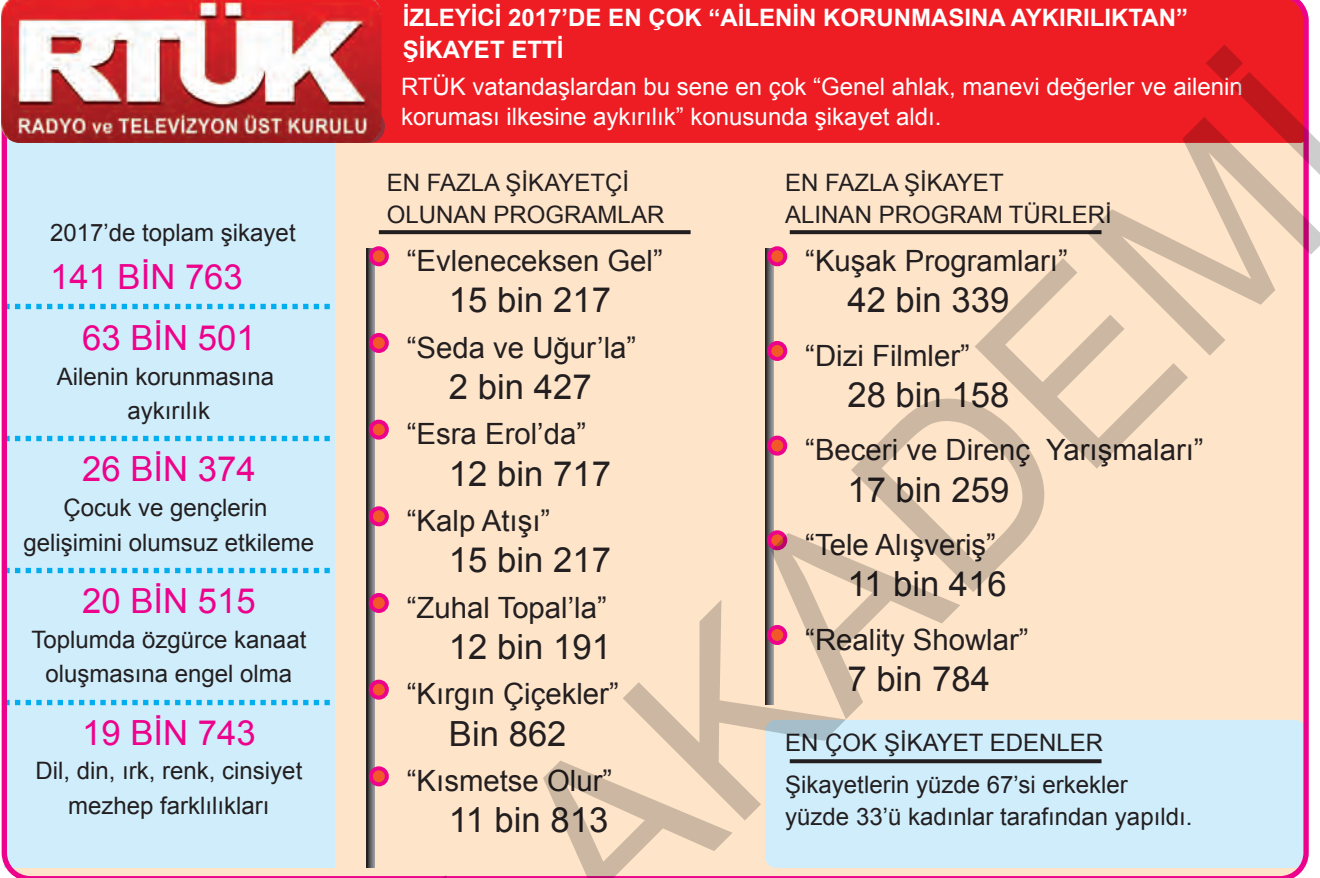
Sınıfı / Şubesi:

Öğrenci Numarası :

Optik
Cevap
Anahtarı



5.



Görselden hareketle aşağıdaki yargılardan hangisine ulaşamaz?

- A) Bazı yayınların toplum tarafından tepkiyle karşılandığı
B) Toplumsal duyarlılıkta erkeklerin daha aktif olduğu
C) Aile yapısını tehdit eden yayınların yapılmasından rahatsızlık duyulduğu
D) RTÜK'ün yapılan şikayetlere duyarsız kaldığı

6.



Gelin tanış olalım
İşi kolay kılalım
Sevelim sevillelim
Dünya kimseye kalmaz

Halk ozanı Yunus Emre'nin bu dizeleriyle etkili iletişimin hangi öğelerini ön plana çıkardığı söylenebilir?

- A) Sevgi ve anlayış B) Empati kurma C) Jest ve mimik D) Beden dili

4. Osmanlı Devleti'nde devlet işleri Divan-ı Hümayun adı verilen bir kurulda görüşülüp karara bağlanırdı. Divana devlet yönetiminden sorumlu bir çok devlet adamı katılır, kendi alanlarında sorulan sorulara cevap verir ve sorunlara çözüm üretirlerdi. Osmanlı Devleti'nde Kazaskerler, Divan-ı Hümayun'daki büyük davalara bakardı. Ayrıca medreselerde ders veren müderrislerin ve kazalardaki davalara bakan kadıların atamasını yapardı. Divan-ı Hümayun'da son söz padişaha aitti.

Parçadan hareketle aşağıdakilerden hangisine ulaşamaz?

- A) Divan-ı Hümayun bir danışma meclisi özelliği taşımaktadır.
 B) Divanda eğitim ve hukuk işleri de görüşülürdü.
 C) Divan aynı zamanda yüksek mahkeme özelliği taşımaktadır.
 D) Osmanlı halkı Divan-ı Hümayun sayesinde yönetime ortak olmuştur.

5.



Yukarıdaki haritada Osmanlı Devleti'nin Kuruluş ve Yükseliş Dönemi'nde sahip olduğu topraklar gösterilmiştir.


Verilen haritadan hareketle, Osmanlı Devleti ile ilgili;

- I. Toprakları üç kıtaya yayılmıştır.
 II. Akdeniz ve Karadeniz kıyılarındaki topraklara sahip olmuştur.
 III. Avrupa Hristiyan birliği parçalanmıştır.

yorumlarından hangileri yapılabilir?

- A) Yalnız I
 B) Yalnız II
 C) I ve II
 D) I, II ve III

5.



Türkiye'de Yapılan Konut Satış Tablosu, 2019

Görselden hareketle,

- I. 2019'da toplam konut satışının bir önceki yıldan daha fazla olduğu,
- II. Yabancılar yapılan konut satışında Irak vatandaşlarının ilk sırada olduğu,
- III. Konut alımında Türk vatandaşlığına geçme amacının etkili olduğu

çıkarmalarından hangilerine ulaşılabılır?

- A) Yalnız I B) Yalnız II C) I ve II D) I, II ve III

6. Yerleşme ve seyahat özgürlüğünü kısıtlayan sebeplere ;

- I. Terör ve savaş gibi olağanüstü durumların yaşanması,
- II. Halk sağlığını tehdit eden salgın hastalıkların baş göstermesi,
- III. Tarihi ve doğal sit alanlarının korunmak istenmesi

durumlarından hangileri örnek olarak verilebilir?


- A) Yalnız I B) Yalnız II C) II ve III D) I, II ve III

4.

İBN-İ HALDUN

Sosyolojinin ve iktisadın öncülerinden kabul edilen 14. yüzyıl düşünürü İbn-i Haldun vefatının üzerinden 613 yıl geçse de eserleri hala derslerde okutuluyor.

1332
Tunus'ta dünyaya geldi. Asıl adı Ebu Zeyd Abdurrahman bin Muhammed bin Haldun El Harami'dir.
15 sene kadar Kur'an-ı Kerim'i ezberlemeye, ilim tahsil etmeye çalıştı.



1349
3 kıtayı etkisi altına alan Büyük Veba Salgını'nda ailesini kaybetti.

1351 - 1375
Siyasi ve idari işlerle uğraştı. Tunus, Cezayir, Fas ve Endülüs arasında dolaştı.

1406
Kahire'de hayatını kaybetti.

1383 - 1406
14 senesini Mısır'da kadılık yaparak geçirdi. Bu sırada hacca da gitti.

1377
En ünlü eseri Mukaddime'yi kaleme aldı.

1375 - 1383
Yedi cilt olarak yayımlanan El - İber adlı kitabını bu dönemde yazdı.

Görselden hareketle İbn-i Haldun ile ilgili aşağıdakilerden hangisi söylenemez?

- A) Sosyoloji bilimin öncülerinden kabul edilmektedir.
- B) Adli ve idari alanlarda görevler üstlenmiştir.
- C) Eserleri tüm dünya dillerine tercüme edilmiştir.
- D) Mukaddime adlı eseriyle ünlenmiştir.

5.



Ünlü Avrupalı bilim insanı Nicolaus Copernicus (Nikolas Kopernik), "Gök Cisimlerinin Devinimi Üzerine" adlı astronomi kitabında Güneş'in merkezde yer aldığını, Dünya dâhil, gezegenlerin onun çevresindeki bir yörünge üzerinde daireler çizerek döndüğünü anlattı. Kilise ise Dünya'nın sabit olduğunu söylüyordu. O zamanlarda kilisenin otoritesi çok daha fazlaydı Kiliseye tam ters olan bu görüşü savunmak, beraberinde birçok cezayı getirebilirdi. Bu yüzden kitabını uzun bir süre yayımlayamadı.

Verilen bilgilerden hareketle, Nikolas Kopernik'in yaşadığı dönem ile ilgili;

- I. Skolastik düşünce sisteminin güçlü olduğu,
- II. Bilimsel çalışmaların yapılmadığı,
- III. Özgür düşünce ortamının olmadığı,

yargılarından hangilerine ulaşılabilir?

- A) Yalnız II
- B) I ve III
- C) II ve III
- D) I, II ve III

1.




Koyun verdi kuzu verdi süt verdi
Yemek verdi ekme verdi et verdi
Kazma ile dökmeyince kıt verdi
Benim sâdık yârim kara topraktır.

Aşık Veysel'in bu dizeleriyle aşağıdakilerden hangisinin önemini vurguladığı söylenebilir?

- A) Toprağın
B) Yaşamın güzelliğinin
C) Doğa sevgisinin
D) Vatan sevgisinin

2.



Selçuklularda ve Osmanlılarda toprakların büyük kısmı devlete aitti ve tarım yapılan topraklar ikta denilen bölümlere ayrılırdı. İktalar hizmet veya maaş karşılığı belirli süreler için askerlere, komutanlara ve devlet adamlarına verilirdi. İkta sahipleri ise toprakları işleme karşılığında belli sayıda askerin ihtiyacını karşılar ve savaş zamanlarında askerlerle birlikte orduya katılırdı. Savaş olmadığı zamanlarda da üretimlerini yaparlardı. Bunun yanında bazı vergileri toplayan ikta sahipleri bu oldukları yerin de güvenliğini sağlardı. Böylece devlet hem ikta sahiplerine maaş vermek zorunda kalmaz hem de ordunun ihtiyacı olan askeri

yetiştirmiş olurdu. Türk - İslam devletlerinin birçoğunda toprak yönetimi bu şekildeydi. Selçuklular gibi bu sistemi geliştiren devletlerden biri de Osmanlı Devleti'yd.

Parçadan hareketle, ikta topraklarıyla ilgili;

- I. İkta sahiplerinin mülkü olduğu,
II. Üretimde sürekliliğin sağlanmasına katkı sağladığı,
III. Devletin asker ihtiyacını karşıladığı

yargılarından hangilerine ulaşılabilir?

- A) Yalnız I
B) I ve II
C) II ve III
D) I, II ve III

1.



Demokrasi denildiğinde şüphesiz ilk akla gelen ülke Yunanistan'dır. Antik Yunan'da ortaya çıkan ve uygarlığa dair pek çok düşüncenin ilk örnekleri ile aynı dönemde bu topraklarda yeşeren demokrasi, demos ve kritos kelimelerinin birleşmesinden oluşur. Demos, "kentte yaşayan halk" anlamına gelmekte iken, kritos "yöneten iktidar" anlamına gelmektedir. Yani uygulamanın kendisi Yunanistan'da ortaya çıktığı gibi kelimenin kökeni de yine Yunan kültürünün eseridir, antik Yunan kadar da eskidir.

Demokrasi kavramını ortaya çıkaran "demos" ve "kritos" kelimelerinin anlamlarına bakarak, demokrasi ile ilgili yönetilen ülkelerde temel dayanağın aşağıdakilerden hangisi olduğu söylenebilir?

- A) Ulusal egemenlik
C) Din egemenliği

- B) Kişi egemenliği
D) Grup, sınıf egemenliği

2.



Türk Devletlerinde Hakan tek başına bir elçiyi huzuruna kabul etmez, sağda hakan solda hatun oturduğu bir zaman elçi huzura alınır. Şölenlerde, kurultaylarda, ibadet ve ayinlerde, harp ve sulh meclislerinde, hatun da mutlaka hakanla beraber bulunurdu. Devlet teşkilatında hatun, kağandan sonra gelen en önemli güçlerden biriydi ve devlet meselelerinde görüşlerini açıkça söylemekten çekinmezdi. Eski Türklerde sadece kağan değil halktan olan kişilerde evde karar aldıklarında eşine ve ailesine sorar onların da fikrini alırdı. Türklerde istişare hiçbir toplumda olmadığı kadar hep varlığını korumuştur.

Verilen bilgilere göre, Türklerle ilgili;

- I. Danışmaya önem vermişlerdir.
II. Devlet yönetiminde kadınlara söz hakkı tanımışlardır.
III. Ataerkil bir aile yapısına sahiplerdir.

yargılarından hangilerine ulaşılabilir ?

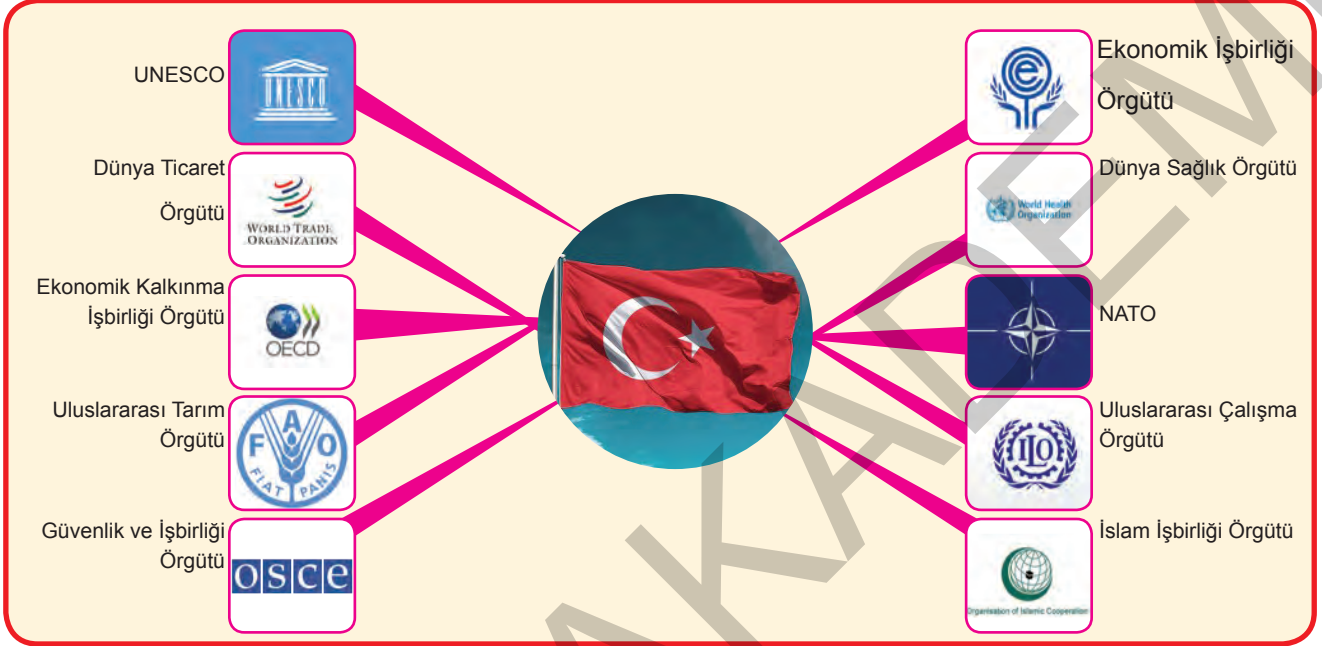
- A) I ve II

- B) I ve III

- C) II ve III

- D) I, II ve III

1. Aşağıdaki görselde Türkiye'nin üyesi olduğu uluslararası kuruluşlar gösterilmiştir.



Verilen görsel incelendiğinde; Türkiye ile ilgili;

- I. Ekonomide uluslararası işbirliğine önem verdiği,
- II. Dünya devletleri ile işbirliği içinde olduğu,
- III. Savunma örgütlerine katılmadığı

Yorumlarından hangilerine yapılabilir?

- A) Yalnız I B) I ve II C) I ve III D) II ve III

2. Aşağıdaki kuruluşlardan hangisi II. Dünya Savaşı'ndan sonra Rusya'nın tehditlerine karşı ABD öncülüğünde kurulmuştur?

A)  Birleşmiş Milletler Eğitim, Bilim ve Kültür Örgütü

B)  WHO Dünya Sağlık Örgütü

C)  NATO Kuzey Atlantik Pakti

D)  Uluslararası Çalışma Örgütü



MEB
Örnek Sorularına
Benzer

SOSYAL BİLGİLER

GENEL DENEME SINAVI

GDS



Adı ve Soyadı :

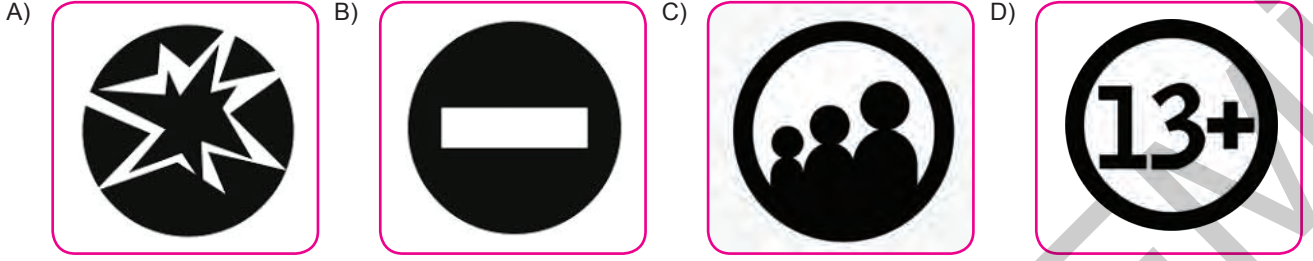
Sınıfı / Şubesi:

Öğrenci Numarası :

Optik
Cevap
Anahtarı



3. 12 yaşındaki bir çocuğun sosyal ve psikolojik yönden sağlıklı bir birey olarak yetişmesi için aşağıdaki akıllı işaretlerin kullanıldığı televizyon programlarından hangisini izlemesinde bir sakınca yoktur?



- 4.

TÜRKİYE’NİN E-DEVLET SINAVI

2009 yılında hayata geçirilen e-devlet sistemi her geçen gün artan kullanıcı sayısı ile Türkiye’nin bilişim sektörüne olan yaklaşımını gösteriyor. Peki toplam kaç kişi kullanıyor, hangi cihazlardan bağlanıyor?

19 MİLYON T.C. vatandaşı e-devlet hizmetinden yararlanıyor.

CİNSİYETE GÖRE



% 54,15



% 45,85

Cinsiyete göre kullanım oranlarının birbirlerine yakın seviyelerde olduğu gözlemleniyor.



E-devlet kullanıcıları büyük oranda Türkiye’den giriş yaparak hizmet alıyor. Kullanıcıların giriş yaparak hizmet aldıkları diğer ülkeler ise sırasıyla ABD, Almanya ve İngiltere.

İSTANBUL BİRİNCİ SIRADA

% 31,74 kullanım oranıyla listenin en üst sırasında İstanbul yer alıyor. Türkiye’nin diğer büyük şehirlerinin oranları ise şu şekilde:

ANKARA % 14,23 | İZMİR % 6,92 | ANTALYA % 3,64 | ADANA % 3,52

Görselden hareketle, Türkiye’de e-Devlet kullanımı ile ilgili;

- I. İstanbul’da yaşayanların daha aktif olduğu,
- II. Nüfusun büyük çoğunluğunun bu hizmetten yararlandığı,
- III. Yurt dışından erişime açık olduğu

yorumlarından hangileri yapılabilir?

- A) I ve II B) I ve III C) II ve III D) I, II ve III

3.

Neden Sosyal Medya? İşte bu yüzden!

Uygun Maliyet **Bedava araçlar!**

Markanızı sosyal medyada görünür kılmak için kullanacağınız bir çok araç bedava!



Etkili **Verimliliği beraberinde getirir!**

Ürününüz ile ilgilenen kişilere etkin şekilde ulaşabilir, onlarla kişisel seviyede iletişim kurma imkanını yakalayabilirsiniz.

Hız **Bilgi anında yayılır!**

Az ya da hiçbir zaman harcamayarak doğru mesajı doğru kişiye hızlıca iletebilmenizi sağlar.



Canlı **Hayat burada**

Dünyanın merkezinin döndüğü yerde fikir ve mesajlarınızı yönetmek sizin elinizde.

Güven **Müşteri memnuniyeti**

Müşteriler kendileri ile birebir iletişime giren markalara daha sıcak yaklaşmaktadır.

Ağızdan ağıza **Pazarlamanın kolay yolu!**

Sosyal medya reklam ve pazarlama için döktüğünüz onca para yerine markanız için çok daha etkili olan, müşterilerinizin kişisel deneyimlerini paylaşarak size pazarlama imkanı sunar.

Hızlı geri bildirim **Etkili iletişim!**

Sosyal medya sürecinde müşterilerinizden olumlu veya olumsuz fakat gerçek zamanlı geri bildirimler alabileceksiniz. Ayrıca sosyal medya market araştırması için de harika bir araçtır.

SEO **Daha görünür**

Sosyal medya paylaşımları arama motoru sonuçlarınızın sayısını artırır ve daha görünür olmanızı sağlar.

Dinamik **Aynı zamanda esnek!**

İçeriğinizin ve markanızın hızla değişebilmesine, müşterilerinizin arzularına göre şekillenmesine olanak sağlar.

Topluluklar **Hızlı kamuoyu oluşumu!**

Daha güçlü sese sahip olan olağanüstü gruplar sosyal medya sayesinde hızla yayılıyor. Eğer doğru yere bakarsanız müşterileriniz hakkında daha fazla bilgi edinebilirsiniz.

Görselde verilen bilgilere göre, sosyal medyanın sağladığı kolaylıklar hakkında;

- I. Hızlı geri bildirim alma,
- II. Sanal ortamda birebir iletişim ortamı sunma,
- III. Tüketiciler hakkında bilgi edinme

çıkarımlarından hangilerine ulaşılabilir?

- A) Yalnız I B) Yalnız II C) I ve II D) I, II ve III

4. Aşağıdakilerden hangisi Türkiye'nin üyesi olduğu kuruluşlardan biri değildir?

A)



UNESCO

B)



Dünya Sağlık Örgütü

C)



Avrupa Birliği

D)



NATO